

KOZMİK ODA KPSS SERİSİ

TARİH

SORU BANKASI

Melike Sezgin

150
Test

2300
Soru

304
Sayfa

PDF
Çözüm





KPSS TARİH SORU BANKASI

Yayın Koordinatörü
Selim IŞIK

Yazar
Melike SEZGİN


ISBN
978-605-73967-1-6


Baskı


© COPYRIGHT AKADEMİ DENİZİ YAYINCILIK

Bu kitabın her türlü yayım hakkı Akademi Denizi Yayıncılık'a aittir. Bu kitabın baskısından 5846 ve 2936 sayılı Fikir ve Sanat Eserleri Yasası hükümleri gereğince kaynak gösterilerek bile olsa alıntı yapılamaz, herhangi bir şekilde çoğaltılamaz, genel ağ ve diğer elektronik ortamlarda yayımlanamaz.

AKADEMİ DENİZİ YAYINCILIK

 Saray Mah. Fatih Sultan Mehmet Blv. No: 316
Kahramankazan / ANKARA

 T.C. Kültür ve Turizm Bakanlığı Sertifika No
52497

 0552 518 06 06

 akademideniziyayincilik@hotmail.com

 www.akademidenizi.com.tr

Değerli Okuyucu,

ÖSYM tarafından düzenlenen Kamu Personel Seçme Sınavı'na (KPSS) hazırlanan adayların yaşamakta olduğu sorunlardan birisi de nitelikli soru çözememektir. Bu nedenle Akademi Denizi Yayıncılık olarak, KPSS adaylarının başucu kitabı olacağına inandığımız Kozmik Oda Serisi'ni hazırladık.

- ÖSYM genel yetenek ve genel kültür alanlarında bir yıl içerisinde 30'u aşkın sınav düzenlenmektedir. Bu sınavlar içerik, kapsam geçerliliği ve soru tarzlarıyla birbirlerine benzemektedir.
- Test tekniği uzmanlarımızca yapılan tüm sınavların soruları analiz edilerek kapsamlı bir soru yapısı ve soru içeriği çalışması yapılmıştır.
- ÖSYM ve MEB tarafından yapılan tüm sınavlarda ortak bir soru havuzu oluşturularak birbirine yakın ya da benzer soruların değişik sınavlarda kullanıldığı görülmüştür.
- ÖSYM ve MEB tarzındaki soruları önceden çözümlenerek hazırbulunuşluk düzeyinizi geliştireceksiniz. Bununla birlikte çıkmış soru tarzı örnekleri üzerinden konu bilgilerinizi ve test tekniğinizi geliştireceksiniz.
- Kozmik Oda Serisi ile ÖSYM ve MEB'in soru yapılarına uygun bir hazırlık yapacaksınız.
- Kozmik Oda Serisi, 2021'de ÖSYM ve MEB tarafından yapılan sınavların sorularının benzerleri ile zenginleştirildi.
- 2021 KPSS ile şunu bir kez daha gördük: ÖSYM sorularında ALES-DGS ve TYT tarzı soruları tümüyle benimsemiş durumda. 2022 Kozmik Oda Serisi hazırlanırken bu gelişmeyi ölçüt olarak aldık.
- ÖSYM, YKS'nin TYT oturumuyla yeni bir çığır açarak, şekle dayalı ve mantıksal akıl yürütme ekseninde sorulara yönelmiştir. Bu sorularda işlem yeteneği kadar yorum gücü de önemli hale gelmiştir. Biz de yayın kurulu olarak bu duruma kayıtsız kalmayarak, kitabımızı bu doğrultuda güncelledik.
- Tek bir pdf dosyası hazırlayarak bu dosyayı www.akademidenizi.com.tr adresinde sizlere sunduk. Kitabımızın her sayfasında bulunan karekodları okutarak bu dosyayı cep telefonu, tablet ya da bilgisayarınıza indirebilirsiniz.

AKADEMİ DENİZİ YAYINCILIK

İÇİNDEKİLER

| | |
|--|-----|
| ■ İlk ve Orta Çağlarda Türk Dünyası | 5 |
| ■ Türklerin İslamiyeti Kabulü ve İlk Türk İslam Devletleri | 21 |
| ■ Türkiye Tarihi | 37 |
| ■ Osmanlı Devleti Kuruluş ve Yükselme Dönemi | 45 |
| ■ Osmanlı Kültür ve Uygarlığı (Devlet ve Memleket Yönetimi) | 55 |
| ■ Osmanlı Kültür ve Uygarlığı (Ordu ve Donanma) | 59 |
| ■ Osmanlı Kültür ve Uygarlığı (Toprak Yönetimi) | 61 |
| ■ Osmanlı Kültür ve Uygarlığı (Sosyal ve Ekonomik Hayat) | 63 |
| ■ Osmanlı Kültür ve Uygarlığı (Hukuk) | 67 |
| ■ Osmanlı Kültür ve Uygarlığı (Eğitim ve Öğretim) | 69 |
| ■ Osmanlı Kültür ve Uygarlığı (Dil ve Edebiyatı) | 71 |
| ■ Osmanlı Kültür ve Uygarlığı (Bilim Ve Sanat) | 73 |
| ■ Osmanlı Devleti Duraklama Ve Gerileme Dönemi | 77 |
| ■ Osmanlı Devleti Dağılma Ve Yıkılış Dönemi | 89 |
| ■ Xx. Yüzyıl Başlarında Osmanlı Devleti | 105 |
| ■ Kurtuluş Savaşı'na Hazırlık Dönemi | 127 |
| ■ Kurtuluş Savaşı | 159 |
| ■ Türk İnkılabı | 197 |
| ■ Atatürk İlkeleri | 229 |
| ■ Atatürk Dönemi Türk Dış Politikası ve İç Politik Gelişmeler | 245 |
| ■ Çağdaş Türk ve Dünya Tarihi (İki Küresel Savaş Arasında Dünya) | 255 |
| ■ Çağdaş Türk ve Dünya Tarihi (İkinci Dünya Savaşı) | 261 |
| ■ Çağdaş Türk ve Dünya Tarihi (Soğuk Savaş Dönemi) | 267 |
| ■ Çağdaş Türk ve Dünya Tarihi (Yumuşama Dönemi Ve Sonrası) | 271 |
| ■ Çağdaş Türk ve Dünya Tarihi (Küreselleşen Dünya) | 277 |
| ■ Tarama Testleri | 283 |

PDF çözümler için QR kodu okutunuz.
ya da
www.akademidenizi.com.tr
adresini ziyaret ediniz.





İLK VE ORTA ÇAĞLARDA TÜRK DÜNYASI

1. Avrupa Hun Devleti, aşağıdaki devletlerden hangisiyle Margos ve Anadolios Antlaşmalarını imzalamıştır?

- A) Çin
- B) Sasani
- C) Avar
- D) Asya Hun
- E) Doğu Roma

2. Aşağıdakilerden hangisi, bir Türk topluluğu değildir?

- A) Kimekler
- B) Sibirler
- C) Hazarlar
- D) Macarlar
- E) Vandallar

3. Orta Asya Türklerinin;

- I. sözlü edebiyatı geliştirmeleri,
 - II. tanrısal kaynaklı yönetim anlayışını benimsemeleri,
 - III. demir işlemeciliğinde oldukça ilerlemeleri
- özelliklerinden hangileri, göçebe yaşam sürmelerinin sonuçlarındandır?

- A) Yalnız I
- B) Yalnız III
- C) I ve II
- D) I ve III
- E) I, II ve III

4. Türk topluluklarının en küçük birimi, aşağıdakilerden hangisidir?

- A) İl
- B) Boy
- C) Bodun
- D) Oguş
- E) Urug

5. I. Attila - Bleda

II. Tuğrul - Çağrı

III. Bumin - İstemi

Yukarıdaki Türk beylerinden hangilerinin kardeş olduğu söylenebilir?

- A) Yalnız I
- B) Yalnız II
- C) Yalnız III
- D) II ve III
- E) I, II ve III

6. Eski Türklerde "Hükümet" karşılığında kullanılan terim, aşağıdakilerden hangisidir?

- A) Tudun
- B) Aygıcı
- C) Ayukı
- D) Toygun
- E) Buyruk

7. Orta Asya Türk devletlerinden olan Hazarlar, aşağıdaki özelliklerinden hangisiyle diğer Türk devletlerinden ayrılmaktadır?

- A) Museviliği benimseyen ilk Türk devleti olması
- B) İlk kez yerleşik hayata geçmesi
- C) Müslümanlığı kabul eden ilk Türk devleti olması
- D) İlk kez madenî parayı kullanması
- E) Orta Asya'daki veraset geleneğine uymaması

8. Mani dininin Uygurlar arasında yayılmasında etkili olan Uygur kağanı, aşağıdakilerden hangisidir?

- A) Kutluk Bilge Kül Kağan
- B) Böğü Kağan
- C) Moyen-Çor Kağan
- D) Mukan Kağan
- E) Kapgan Kağan



9. Orta Asya'daki Avar hâkimiyetine son veren devlet, aşağıdakilerden hangisidir?

- A) Asya Hun Devleti
- B) I. Göktürk Devleti
- C) Uygur Devleti
- D) Kutluk Devleti
- E) Akhunlar

10. Eski Türklerde şehzade karşılığında kullanılan terim, aşağıdakilerden hangisidir?

- A) Tigın
- B) Apa
- C) Kut
- D) Umay
- E) Kün

11. Orta Asya'da yaşanan boylar arası mücadeleler Türk göçlerine sebep olmuştur.

Buna göre;

- I. Orta Asya Türklerinin boylar hâlinde yaşadığı
- II. Türk topluluklarının bağımsızlıklarına düşkün olduğu
- III. Göçlere Türk topluluklarının hepsinin katıldığı

Yorumlarından hangilerine ulaşamaz?

- A) Yalnız I
- B) Yalnız II
- C) Yalnız III
- D) I ve II
- E) II ve III

12. Firdevsi'nin Şehname adlı eserinde Türk-İran mücadelesi anlatılmıştır.

Buna göre, Şehname adlı destan ile içeriği aynı olan eser, aşağıdakilerden hangisidir?

- A) Şu Destanı
- B) Alp Er Tunga Destanı
- C) Dede Korkut Hikâyeleri
- D) Türeyiş Destanı
- E) Göç Destanı

13. Vasiyetname, satış protokolü, iş sözleşmesi gibi vesikalar ilk kez aşağıdaki Türk devletlerinden hangisiyle birlikte düzenlenmeye başlamıştır?

- A) Türgişler
- B) Göktürkler
- C) Uygurlar
- D) Hazarlar
- E) Kırgızlar

14. Aşağıdaki topluluk-destan eşleştirmelerinden hangisi yanlıştır?

- A) Hunlar – Oğuz Kağan
- B) Göktürkler – Bozkurt
- C) İskitler – Alp Er Tunga
- D) Uygurlar – Şu
- E) Kırgızlar – Manas

15. Aşağıdakilerden hangisi İslamiyet'ten önceki Türk devletlerinin kısa sürede yıkılmalarında etkili olmamıştır?

- A) Çin entrikaları
- B) İkili teşkilat anlayışı
- C) Kut anlayışı
- D) Boylar federasyonu uygulaması
- E) Göktanrı inancını benimsemeleri

16. Aşağıdaki Türk devletlerinden hangisi, İslamiyet öncesinde Afganistan ve çevresinde kurulmuştur?

- A) Karluklar
- B) Akhunlar
- C) Kumanlar
- D) Türgişler
- E) Gazneliler



İLK VE ORTA ÇAĞLARDA TÜRK DÜNYASI

1. Aşağıdaki bilgilerden hangisi Uygurlara ait değildir?

- A) Dönemlerinde Çin Seddi'nin yapılması
- B) Tapınak yapımına önem verilmesi
- C) Karabalgasun yazıtlarının dikilmesi
- D) Maniheizm dininin kabul edilmesi
- E) Yerleşik hayata geçilmesi

2. I. Türklerin buldukları bölgelerdeki siyasi güçlerini kaybetmeleri
- II. Buldukları bölgelerdeki yerel kültürlerle yakın ilişkiler geliştirmeleri
- III. Buldukları coğrafyalardaki Türk nüfusunun azalması

Yukarıdakilerden hangileri, Türk kavimlerinin kimliğini yitirmesinde etkili olmuştur?

- A) Yalnız I
- B) Yalnız II
- C) I ve II
- D) II ve III
- E) I, II ve III

3. 2005 yılında yapılan kazılarda Göktürlere ait bir para bulunmuştur. Paranın ön yüzünde kağan ve hatun birlikte gösterilmiştir.

Yalnız bu bilgiyle Göktürklerle ilgili olarak aşağıdakilerden hangisine ulaşılabilir?

- A) Çin, Bizans ve Sasanilerle ticari ilişkilerin gelişmesine
- B) Kadınların devlet yönetiminde söz sahibi olmasına
- C) Ülkenin ikili teşkilatla yönetildiğine
- D) Devletin boyların birleşmesiyle oluştuğuna
- E) Devleti yönetme yetkisinin Tanrı tarafında verildiğine

4. İslamiyet öncesi Türk toplumlarında kullanılan aşağıdaki kavramlardan hangisi, günümüzdeki başbakanlık göreviyle paralellik gösterir?

- A) Tutuk
- B) Aygucı
- C) Şaman
- D) Ağılığ
- E) Bitikçi

5. İslamiyet öncesi Türk devletlerinde hükümdarlara devleti yönetme yetkisinin Gök Tanrı tarafından verildiğine inanılır ve bu yetkiye Kut anlayışı adı verildi.

Kut anlayışı;

- I. hükümdarın mutlak otoritesinin güçlenmesi,
- II. devletin dinî kurallara göre yönetilmesi,
- III. veraset sisteminin ortaya çıkması

gelişmelerinden hangileri üzerinde etkili olmuştur?

- A) Yalnız I
- B) I ve III
- C) Yalnız III
- D) I ve II
- E) II ve III

6. Aşağıdakilerden hangisi Orta Asya'daki Türk kültür merkezlerinden biri değildir?

- A) Anav
- B) Karasuk
- C) Tagar
- D) Kültepe
- E) Afanasyevo

7. İslamiyet öncesi dönemde Türklerde devlet işlerinin görüşüldüğü en büyük yönetim organı olan kurultaya aşağıdakilerden hangisi katılmazdı?

- A) Hatun
- B) Aygucı
- C) Yabgu
- D) Kam
- E) Hakan

8. I. Tezhip
- II. Minyatür
- III. Hat
- IV. Fresk

Yukarıdaki sanat dallarından hangilerinin ilk örnekleri İslamiyet öncesi dönemde görülür?

- A) I, II ve IV
- B) I, II ve III
- C) II ve IV
- D) I ve IV
- E) II, III ve IV



9. İslamiyet öncesi Türk devletleri ekonomilerini canlandırmak amacıyla;

- I. Kürk,
- II. Baharat,
- III. İpek

ticaret yollarından hangilerine hâkim olmak için mücadele etmişlerdir?

- A) Yalnız I B) Yalnız II C) Yalnız III
D) I ve III E) I, II ve III

10. Aşağıdaki destanlardan hangisi Kırgızlara aittir?

- A) Alp Er Tunga B) Bozkurt C) Manas
D) Ergenekon E) Oğuz Kağan

11. Orhun alfabesiyle yazılmış Göktürk Kitabeleri'nde;

- I. devletin ve halkın karşılıklı olarak görevlerinin belirtilmesi,
- II. hakanın her işi halkının refahı için yapmasının vurgulanması,
- III. devlet adamlarının milletine hesap vermesinden söz edilmesi

durumlarından hangilerinin adil devlet anlayışıyla paralellik gösterdiği savunulabilir?

- A) Yalnız I B) Yalnız II C) Yalnız III
D) I ve II E) I, II ve III

12. I. Oğuz Kağan Destanı

- II. Bozkurt Destanı
- III. Türeyiş Destanı
- IV. Göç Destanı
- V. Ergenekon Destanı

Yukarıdaki destanlardan hangileri Uygurlar Dönemi'ne aittir?

- A) I ve II B) II ve III C) I ve IV
D) I ve V E) III ve IV

13. Türk tarihinde yer alan;

- I. Hun,
- II. Göktürk,
- III. Uygur

devletlerinden hangileri kendi adlarıyla bir alfabe oluşturmuştur?

- A) Yalnız I B) Yalnız II C) Yalnız III
D) II ve III E) I, II ve III

14. İslamiyet öncesi Türk devletlerinde hükümdara yönetme yetkisinin Tanrı tarafından verildiğine inanılmıştır.

Aşağıdakilerden hangisi bu inancı yansıtmaktadır?

- A) Kağan B) Kut C) Kün
D) Yuğ E) Tarkan

15. Türklerin yerleşik hayata geçmesiyle;

- I. hayvancılık,
- II. ticaret,
- III. tarım

alanlarından hangilerinin ekonomik etkinlikleri arasına girdiği savunulabilir?

- A) Yalnız I B) Yalnız II C) Yalnız III
D) II ve III E) I, II ve III

16. Türk tarihiyle ilgili aşağıda verilen bilgilerden hangisi doğrudur?

- A) Uygurların büyük kısmı günümüzde Türkistan'ın Sincan özerk bölgesinde yaşamaktadır.
- B) Orta Asya'da kurulan ilk Türk devleti Göktürklerdir.
- C) Avrupa Hunlarının kurucusu Mete Han'dır.
- D) Karluklar Avrupa'da devlet kurmuştur.
- E) Alp Arslan Malazgirt Savaşı'nı Haçlılara karşı kazanmıştır.



İLK VE ORTA ÇAĞLARDA TÜRK DÜNYASI

1. VI. yüzyılda Orta Asya'dan Balkanlara geçerek Orta Avrupa'da Bayan Han önderliğinde bir devlet kuran ve 626'da Sasanilerle anlaşarak İstanbul'u kuşatan Türk kavmi aşağıdakilerden hangisidir?

A) Kıpçaklar B) Bulgarlar C) Oğuzlar
D) Avarlar E) Hunlar

2. Uygurlar alfabelerini oluştururken,

I. Arap,

II. Latin,

III. Soğd

alfabelerinin hangilerinden etkilenmiştir?

A) Yalnız I B) Yalnız II C) Yalnız III
D) I ve II E) I, II ve III

3. Aşağıdakilerden hangisi Karluklar ile ilgili yanlış bir bilgidir?

A) Ural Dağları çevresinde yaşadılar.
B) Cengiz Han'a itaat eden Müslüman Türk topluluklarındandırlar.
C) Talas Savaşı'nda Çinlilere karşı Müslümanların yanında yer aldılar.
D) II. Göktürk Devleti'nin yıkılmasında etkili oldular.
E) Türgişlerin siyasi varlıklarına son verdiler.

4. Aşağıdaki Türk topluluklarından hangisi, Avrupa topraklarına göç etmemiştir?

A) Kırgızlar B) Sabirler C) Oğuzlar
D) Peçenekler E) Kıpçaklar

5. Aşağıdakilerden hangisi, İslamiyet öncesi Türklerde dinsel yaşam ile ilgili söylem ve uygulamalardan biri değildir?

A) Kurgan B) Toy C) Balbal
D) Yuğ E) Tamu

6. Göktürkler;

I. Çin,

II. Bizans,

III. Abbasi

devletlerinden hangileriyle ticari ilişkilerde bulunmuşlardır?

A) Yalnız I B) Yalnız II C) Yalnız III
D) I, II ve III E) I ve II

7. Türklerin;

I. geniş coğrafi bölgelere yayılmaları,

II. göçebe hayat sürdürmeleri,

III. maden işlemede yetkinlik kazanmaları

gibi özelliklerinden hangilerinin Türk tarihinin incelenmesini zorlaştırdığı savunulabilir?

A) Yalnız I B) Yalnız II C) Yalnız III
D) I ve II E) II ve III

8. I. Madencilik

II. Dokumacılık

III. Mimarlık

Yukarıdakilerden hangileriyle ilgili buluntular, Türklerin İslamiyet'i kabul etmelerinden önce yerleşik hayata geçmiş olduklarının kanıtı olabilir?

A) Yalnız I B) Yalnız II C) Yalnız III
D) I ve II E) I, II ve III



9. Türk tarihinde;

- I. düzenli ordunun kurulması,
- II. devlet teşkilatının oluşturulması,
- III. hareketli harf sistemine dayanan matbaanın kullanılması

gelişmelerinden hangileri Hunlar Dönemi'ne aittir?

- A) Yalnız I B) Yalnız II C) Yalnız III
D) I ve II E) II ve III

10. I. Orhun Kitabeleri

- II. Manas Destanı
- III. Oğuzname

Yukarıdakilerden hangileri Göktürkler Dönemi'ne aittir?

- A) Yalnız I B) Yalnız II C) Yalnız III
D) I ve II E) II ve III

11. Orhun Yazıtları'nın;

- I. Türk milleti adının geçmesi,
- II. devlet ve halkın görevlerinin belirtilmesi,
- III. hakanın yaptığı her işi halkın mutluluğu için yaptığını belirtmesi

özelliklerinden hangileri, Türklerde sosyal devlet anlayışının olduğunun bir göstergesi olarak kabul edilebilir?

- A) Yalnız I B) Yalnız II C) Yalnız III
D) I ve III E) II ve III

12. İslamiyet'ten önceki Türk devletlerinde;

- I. fresk,
- II. minyatür,
- III. heykel

sanatlarından hangileriyle ilgili yapıtlar bulunmuştur?

- A) Yalnız I B) Yalnız II C) Yalnız III
D) II ve III E) I, II ve III

13. Türk kültürünün çıkış bölgesi olan Tanrı ve Altay Dağları arasındaki Orta Asya'nın bozkırlarında, iklimin değişken ve sert olması, uzun mesafelere ulaşmada hızlı hareket edilmesini gerektirmiştir.

Buna göre Türklerle ilgili olarak,

- I. Yerleşik hayata geç geçmişlerdir.
- II. Yaşamlarında ata önemli bir yer vermişlerdir.
- III. Doğayla mücadele etmek zorunda kalmışlardır.

yardımlarından hangilerine ulaşılabilir?

- A) Yalnız I B) Yalnız II C) Yalnız III
D) I ve II E) II ve III

14. Uygurlar ekonomik alanda tarıma büyük önem vermişlerdir.

Aşağıdakilerden hangisinin bu duruma ortam hazırladığı savunulabilir?

- A) Devleti yönetme biçimleri
- B) Yerleşik hayata geçmiş olmaları
- C) Çinlilerle mücadele etmeleri
- D) El sanatlarıyla uğraşmaları
- E) Orta Asya'da kurulmuş olmaları

15. "Gök Tanrı, Türk milleti yok olmasın diye babam İltiş Kağan ile annem İl Bilge Hatun'u tahta çıkarmış."

Yukarıda verilen ifadenin aşağıdaki Türk hanelardan hangisi tarafından söylendiği savunulabilir?

- A) Türgiş B) Kırgız C) Kutluk
D) Uygur E) Avar

16. İslamiyet'ten önce Türklerde görülen;

- I. yün dokumacılığının yapılması,
- II. ticarete Çin'den alınan ipeğin koyun ve siğirle takas edilmesi,
- III. orduda ve ulaşımda atlardan yararlanılması

gibi uygulamalardan hangileri hayvancılığın toplumsal hayatta önemli bir yeri olduğunu gösterir?

- A) Yalnız II B) Yalnız III C) Yalnız I
D) I ve III E) I, II ve III



İLK VE ORTA ÇAĞLARDA TÜRK DÜNYASI

1. Türk hükümdar Bumin Kağan için aşağıdaki ifadelerden hangisi yanlıştır?

- A) Orhun Yazıtları'nın hazırlanmasını sağlamıştır.
- B) I. Göktürk Devleti'nin kurucusudur.
- C) Avarları etkisiz hale getirmiştir.
- D) Töles ayaklanmasını bastırmıştır.
- E) Çin ile siyasi ve ekonomik ilişkiler kurmuştur.

2. I. Türk topluluklarının farklı boylardan oluşması
II. Türk topluluklarının genelde yerleşik düzene geç geçmeleri
III. Türk topluluklarının dini inançları

Orta Asya'daki Türk devletlerinin başlangıçta, ekonomilerinin temelini hayvancılığın oluşturmasında, yukarıdakilerden hangilerinin etkili olduğu savunulabilir?

- A) Yalnız I
- B) Yalnız II
- C) I ve II
- D) I ve III
- E) II ve III

3. Aşağıdakilerden hangisinin açıklaması karşısında yanlış olarak verilmiştir?

- A) Şaman: Gizli güçleri olduğuna inanılan din adamı
- B) Esik Kurganı: Altın Adam zırhının bulunduğu Kazakistan'daki mezar
- C) İpek Yolu: Çin'den başlayıp Orta Asya'yı geçerek Akdeniz ve Karadeniz'de sona eren ticaret yolu
- D) İl: Belli toprağı ve hukuki düzeni olan siyasi topluluk
- E) Ekberiyet: Güçlü olanın tahta geçmesi usulü

4. Orhun Yazıtları, aşağıdakilerden hangisinin sözlerini içerir?

- A) Bumin Kağan
- B) Attila
- C) Mukan Kağan
- D) Mete
- E) Bilge Kağan

5. İslamiyet öncesi Türk devletlerinin yönetim anlayışıyla ilgili olarak aşağıdakilerden hangisi söylenemez?

- A) Ülke, ikili teşkilatla yönetilirdi.
- B) Ülke yönetimine ilişkin kararlar kurultayda alınırdı.
- C) Hükümdarlık hakkı hanedanın kadın ya da erkek üyelerine aitti.
- D) Kurultaya din adamları katılmazdı.
- E) Hükümdarın ülkeyi yönetme hakkına kut adı verilirdi.

6. Aşağıdakilerden hangisi, İslamiyet öncesi Türklerin gök bilimi alanında bilgi birikimlerinin olduğuna kanıttır?

- A) Orhun Kitabeleri'nin yazılması
- B) Tötö Kanalı'nın açılması
- C) Balbalların dikilmesi
- D) On iki hayvanlı takvimin oluşturulması
- E) Balık adı verilen şehirlerin kurulması

7. Aşağıdakilerden hangisi Göktürkler, Uygurlar ve Türgişlerde yazışmalardan sorumlu olup kağanlara dış politikada yardımcı olan görevlidir?

- A) Aygucı
- B) Tudun
- C) Bitikçi
- D) Şan-yü
- E) Yarlığ

8. I. Kiril
II. Uygur
III. Orhun

Yukarıdaki alfabelerden hangileri Türklere özgüdür?

- A) Yalnız I
- B) Yalnız II
- C) Yalnız III
- D) I ve II
- E) II ve III



9. Orhun Abideleri'nden bahseden ve XIII. yüzyılda yaşamış ünlü tarihçi aşağıdakilerden hangisidir?

- A) İbn-i Bibi
B) Reşidüddin
C) Beyhaki
D) Cüveyni
E) Utbi

10. Ticaret yollarından biri olan İpek Yolu'nun tarih boyunca farklı güzergâhlar izlemesinde, aşağıdakilerden hangisinin etkili olduğu savunulabilir?

- A) Egemen güçlerin değişmesinin
B) Kabileler arasında kültür farklılıkları olmasının
C) İpeğin ticari bir değişim aracı olarak kullanılmasının
D) Ticari malların Avrupa'ya götürülmesinin
E) Kervan ticareti yapılmasının

11. Abbasî Halifesi El-Muktedir'in İtil Bulgar hükümdarı İlteber Almış'ın talebi üzerine 920-921 yıllarında İslamiyet'i öğretmek amacıyla yolladığı heyet içinde yer alarak Türk ülkelerinde gördüklerini, duyduklarını seyahatnamesinde anlatan kişi aşağıdakilerden hangisidir?

- A) İbn Battuta
B) İbn Fadlan
C) Cüveyni
D) İdrisî
E) Enverî

12. Aşağıdakilerden hangisi, Göktürklerde yaygın olan Gök Tanrı inancıyla ilgili esaslardan biri değildir?

- A) İyilerin uçmağa (cennete), kötülerin tamuya (cenneme) gideceğine inanılması
B) Yuğ adı verilen cenaze törenleri düzenlenmesi
C) Din adamlarına yabgu adı verilmesi
D) Hakanın, yetkilerini Tanrı'dan aldığına inanılması
E) Ölen kişinin, eşyalarıyla gömülmesi

13. I. Göktürkler

II. Hunlar

III. Uygurlar

Yukarıdaki ilk Türk devletlerinin hangilerinde şehirlerin kurulmasıyla, günümüze kadar gelen evler, tapınaklar, saraylar inşa edilmiştir?

- A) Yalnız I
B) Yalnız II
C) Yalnız III
D) I ve II
E) II ve III

14. I. Turan taktiği

II. Hayvan figürleri

III. İkili teşkilat

Türk devletleriyle ilgili yukarıdaki kavramların sanatta betimleme, savaş yöntemi ve devlet yönetimi alanlarına göre doğru sıralanış biçimi aşağıdakilerden hangisidir?

- A) I, II, III
B) I, III, II
C) II, I, III
D) II, III, I
E) III, I, II

15. Aşağıdakilerden hangisi, İslamiyet öncesi göçebe yaşam sürdüren Türk topluluklarından günümüze ulaşmış arkeolojik buluntulardan biri olamaz?

- A) Kap kacak
B) Kolye, bilezik gibi süs eşyaları
C) At koşum takımları
D) Saray kalıntıları
E) Kılıç kabzaları

16. I. Kitabe

II. Minyatür

III. Balbal

Göktürklerden günümüze, yukarıdaki eserlerden hangilerinin kaldığı söylenebilir?

- A) Yalnız I
B) Yalnız II
C) Yalnız III
D) II ve III
E) I ve III



İLK VE ORTA ÇAĞLARDA TÜRK DÜNYASI

1. Orta Asya'da yapılan kazılarda hayvan koşumlarına, zırhlara, demirden silahlara, küçük süs eşyalarına rastlanmıştır. Bulunan sulama kanallarının yakınına inşa edilen tahıl ambarlarında tahıl öğütme araçları ve yanmış buğday taneleri bulunmuştur. Kurganlardan çıkan ev eşyaları arasında ise halı – kilim parçalarına rastlanmıştır. Bu parçaların, tarihteki ilk örnekleri olduğu düşünülmektedir.

Bu parçadaki bilgilerden yola çıkarak aşağıdakilerden hangisine ulaşamaz?

- A) Tahıl ihracatına önem verdikleri
B) Savaşçı özellikler gösterdikleri
C) Ölümden sonra hayatın devam ettiği inancına sahip oldukları
D) Tarımsal üretim yaptıkları
E) Dokumacılıkla uğraştıkları

2. İslam öncesi Türk tarihi ile ilgili bir araştırma için başvurulması gereken öncelikli kaynak, aşağıdakilerden hangisidir?

- A) Çin
B) Bizans
C) İran
D) Arap
E) Rus

3. Uygurlar hangi dinin etkisiyle hükümdarlarına "ay" unvanı vermişlerdir?

- A) Göktanrı
B) Budizm
C) Maniheizm
D) Şamanizm
E) Şintoizm

4. Kavimler Göçü'ne sebep olan Türk topluluğu, aşağıdakilerden hangisidir?

- A) Sibirler
B) Hunlar
C) İskitler
D) Macarlar
E) Avarlar

5. Moğolların;

- I. en önemli devlet organlarının kurultay olması,
II. ülke topraklarının hanedan üyeleri arasında paylaşılması,
III. ordularının onlu sisteme göre oluşturulması

gibi özelliklerinden hangileri Türklerden etkilendiklerini gösterir?

- A) Yalnız I
B) Yalnız II
C) Yalnız III
D) I ve II
E) I, II ve III

6. Uygurların Maniheizm dinini benimsemelerinin ve yerleşik hayata geçmelerinin;

- I. askerlik,
II. ekonomi,
III. mimarlık

alanlarından hangilerinde bir değişikliğe neden olduğu savunulabilir?

- A) Yalnız I
B) Yalnız II
C) Yalnız III
D) I ve II
E) I, II ve III

7. Uygurlar, 745 yılında Karluk ve Basmlerle birleşip Göktürk Devleti'ni yıkarak yerine Orhun Nehri kıyılarında başkent Ötüken olmak üzere yeni bir devlet kurmuşlardır. Dokuz aile birliğinden oluşan Uygurlar, Karluk ve Basml topluluklarını da itaatleri altına alarak bu sayıyı on bire çıkarmışlardır.

Yalnız bu bilgiyle aşağıdaki yargılardan hangisine ulaşılabilir?

- A) Göçebe yaşam sürdürülmüştür.
B) Uygurlar, farklı toplulukları bir araya getirmişlerdir.
C) Çin'in baskısıyla batıya göçler olmuştur.
D) Karluklar, Uygurlardan önce devlet kurmuştur.
E) Karluklar, Orta Asya'nın Türk egemenliğinde kalmasında etkili olmuştur.

8. Törenin değişmez prensiplerinden "Könilik" aşağıdakilerden hangisini ifade etmektedir?

- A) İyilik
B) Eşitlik
C) İnsanlık
D) Adalet
E) Faydalılık



9. Türk topluluklarından biri olan Peçeneklerle ilgili olarak aşağıda verilen bilgilerden hangisi doğrudur?

- A) Bizans ordusundan Selçuklu ordusuna geçerek Malazgirt Savaşı'nın kazanılmasında etkili olmuşlardır.
 B) Eyyubi ve Memlûk ordusunda görev almışlardır.
 C) Issık Gölü civarında Asya Hun Devleti'ne bağlı olarak yaşamışlardır.
 D) En uzun destan olarak bilinen Manas Destanı, halk edebiyatlarının göstergesidir.
 E) Emevi ordularına karşı mücadele ederek Orta Asya'nın Arapların eline geçmesine engel olmuşlardır.

10. Çinliler, aşağıdaki Türk devletlerinden hangisinin akınlarını durdurmak için Çin Seddi'ni inşa etmiştir?

- A) Göktürk B) Akhun C) Uygur
 D) Türgiş E) Asya Hun

11. 744-840 yılları arasında hüküm süren, başkentleri Ötüken olan, hükümdarları arasında Kutluk Bilge Kül Kağan, Moyen-Çur, Böğü Kağan bulunan ve kültürel faaliyetler açısından zengin Türk devleti aşağıdakilerden hangisidir?

- A) Hun B) Göktürk C) Uygur
 D) Batı Hun E) Avar

12. Aşağıdakilerden hangisi tarih boyunca Türk adına verilen anlamlardan biri değildir?

- A) Güç, kuvvet
 B) Olgunluk
 C) Miğfer
 D) Gürz
 E) Törelî, nizam sahibi

13. Aşağıdakilerden hangisi İslamiyet öncesi Türk devletlerinde toplumu oluşturan unsurlar arasında gösterilemez?

- A) Toy B) Boy C) Urug
 D) Oguş E) Budun

14. İslamiyet'ten önce Türklerde görülen;

- I. ölen kişi için yas tutulması,
 II. ölen kişinin atıyla gömülmesi,
 III. ölen kişi için merasim yapılması

gibi uygulamalardan hangilerinin "ölümden sonra hayat" inancına işaret ettiği savunulabilir?

- A) Yalnız I B) Yalnız II C) Yalnız III
 D) I ve II E) I, II ve III

15. Göktürk Devleti'nde "bodun" kavramının karşılığı aşağıdakilerden hangisidir?

- A) Millet B) Sülale C) Bakan
 D) Meclis E) Töre

16. Devlet yapısında ve askerî alanda yaptığı düzenlemeleri ile sonraki Türk devletlerine örnek olan ve Oğuz Destanı'ndaki Oğuz Han'la özdeşleştirilen Hun hükümdarı aşağıdakilerden hangisidir?

- A) Teoman B) Mete
 C) Attila D) Bumin Kağan
 E) Kül Tigin



İLK VE ORTA ÇAĞLARDA TÜRK DÜNYASI

1. Bögü Kağan'ın Maniheizm'i kabul etmesindeki esas neden aşağıdakilerden hangisidir?

- A) Devletin fertlerini bir din etrafında toplamak istemesi
- B) T'ang hanedanlığı ile yapılan ticari antlaşmanın maddelerinden biri olması
- C) Karluk isyanında Çin'in desteğini almak istemesi
- D) Soğdu tüccarları, ülkesinden uzaklaştırmak istemesi
- E) Halkının yerleşik hayatı öğrenmesini istemesi

2. Ak Hun Devleti'nin 557 yılında yıkılması sonucunda topraklarının büyük bir kısmı ile İpek Yolu'nun kontrolü aşağıdaki hangi devlete geçmiştir?

- A) Asya Hun
- B) Göktürkler
- C) Uygurlar
- D) Avarlar
- E) Türgişler

3. İslamiyet'ten önce Türk devletlerinde halkın;

- I. savaşçılık niteliklerinin gelişmiş olması,
- II. kullandığı otlaklar ve yaylaklar için devlete vergi ödemesi,
- III. genelde soy ve dil birliğine sahip boylar halinde yaşaması

gibi özelliklerinden hangileri toprağın devlete ait olduğunu gösterir?

- A) Yalnız I
- B) Yalnız II
- C) Yalnız III
- D) I ve II
- E) I, II ve III

4. Aşağıdakilerden hangisi, adı bilinen ilk Türk şairidir?

- A) Tomris
- B) Aprın Çor Tigin
- C) Moyen Çor
- D) Baga Tarkan
- E) Yollug Tigin

5. Uygur ressamlarına ne ad verilmiştir?

- A) Kithara
- B) Çevgan
- C) Bedizci
- D) Köpürge
- E) Kudüm

6. Hun Kağanı Hohan-yeh ve kardeşi Çi-çi arasında hangi konuda yaşanan tartışma, Hun Devleti'nin MÖ 58'de ikiye ayrılmasına sebep olmuştur?

- A) Çin egemenliğine girme
- B) Orduda paralı asker kullanımı
- C) Çin prensesleri ile evlilik
- D) Budizm dininin kabul edilmesi
- E) Hükümdarlığın saltanat şekline alması

7. Aşağıdakilerden hangisi Göktürk Devleti'ni kuran kabilenin adıdır?

- A) Töles
- B) Avar
- C) Aşina
- D) Bayındır
- E) Yimek

8. I. Yabgu

II. Şad

III. Dönüşümlü liderlik

Göktürkler, kağanlık derecesine yükselmeden önce yukarıdaki sistemlerden hangileriyle idare edilmiştir?

- A) Yalnız I
- B) Yalnız II
- C) Yalnız III
- D) I ve II
- E) I, II ve III



9. İslamiyet öncesi Türk tarihi ile ilgili aşağıdaki eşleştirmelerden hangisi yanlıştır?

- A) Uçmağ → Cennet
- B) Toygun → Vali
- C) Umay → Tanrıça
- D) Ir → Beste
- E) Küg → Melodi

10. Aşağıda verilen Orta Asya Türk devletleri içinde en geniş sınırlara ulaşan devlet hangisidir?

- A) Göktürkler
- B) Uygurlar
- C) Kırgızlar
- D) Tabgaçlar
- E) Türgişler

11. Aşağıdakilerden hangisi ilk Türk devletlerindeki hükümdarlık alametlerinden değildir?

- A) Kotuz
- B) Örgin
- C) Tuğ
- D) Otağ
- E) Üge

12. İstanbul'u ikinci defa kuşatan Türk devleti, aşağıdakilerden hangisidir?

- A) İtil Bulgarları
- B) Tuna Bulgarları
- C) Avarlar
- D) Macarlar
- E) Hunlar

13. Aşağıdaki Orta Asya kültür çevrelerinden hangisi günümüze daha yakındır?

- A) Afanasyevo
- B) Kelteminar
- C) Anav
- D) Karasuk
- E) Andronova

14. Aşağıdakilerden hangisi Orta Asya kültür çevreleri arasında yer almaz?

- A) Tagar
- B) Taştık
- C) Çatalhöyük
- D) Kelteminar
- E) Karasuk

15. Pai-teng Savaşı, Türklerin hilal taktiğini kullandığı ilk savaş olarak bilinmektedir.

MÖ 203 yılında Çin ordusunu Pai-teng Kalesinde kuşatma altına alan Türk devleti aşağıdakilerden hangisidir?

- A) Türgişler
- B) Kutluk Devleti
- C) Tabgaç Devleti
- D) Uygur Devleti
- E) Asya Hun Devleti

16. Orhun Kitabeleri ile ilgili aşağıda verilen ifadelerden hangisi yanlıştır?

- A) Kavimler Göçü'nün nedenlerinden bahsedilmiştir.
- B) Gök Tanrı inanç sistemine ait bilgiler verir.
- C) Danimarkalı bilim adamı Thomsen tarafından çözülmüştür.
- D) Türklere ait unvanlar hakkında bilgi verir.
- E) Farklı kişiler adına dikilen yazıtlardan oluşur.