



AKADEMİ
DENİZİ

KAMU PERSONEL SEÇME SINAVI
ORTAÖĞRETİM (LİSE) - ÖN LİSANS

GENEL YETENEK TESTİ
GENEL KÜLTÜR TESTİ

TG • 3

Bu testlerin her hakkı saklıdır. Hangi amaçla olursa olsun, testlerin tamamının veya bir kısmının yayınevimizin yazılı izni olmadan kopya edilmesi, fotoğrafının çekilmesi, herhangi bir yolla çoğaltılması, yayımlanması ya da kullanılması yasaktır. Bu yasağa uymayanlar gerekli cezai sorumluluğu ve testlerin hazırlanmasındaki mali külfeti peşinen kabullenmiş sayılır.

AKADEMİ DENİZİ YAYINCILIK

GENEL YETENEK TESTİ

1. Bir sözün benzetme amacı olmaksızın başka bir sözün yerine kullanılmasına ad aktarması (mecazî mürsel) denir. C seçeneğindeki “ünlü raketler” ifadesiyle ad aktarması yapılmıştır.

(Cevap C)

2. Öfke duyduğumuz, düşman olarak gördüğümüz kişilere karşı empati kuramamızın nedeni III. cümlede “peşin hükümler vermiş olmamız” sözüyle açıklanmaktadır. Böylece parçaya göre, ön yargılı olduğumuz için öfke duyduğumuz kişilere karşı empati kurmakta zorlandığımızı söyleyebiliriz.

(Cevap B)

3. Bu tarz sorularda boşluklara gelebilecek ifadelerin cümlenin genel anlam ve mantığına tam uyması, verilen mesajı doğru yansıtması çok önemlidir. Buna göre ilk boşluğa “olumsuz” olduğu için A ve C ifadeleri gelemmez. II. boşluğa ise “dayanması” ifadesinden dolayı “uzun süre” ifadesi, son boşluğa ise “sağlar” ifadesinin gelmesi cümleyi tamamlayacaktır.

(Cevap B)

4. Verilen dördlükte türemiş sözcükler şunlardır: atılmış, adım, karşılıksız, sorulardı, dökülen. “samanyolu” birleşik yapıdır. Diğer sözcükler ise sadece çekim eki almıştır.

(Cevap D)

5. E seçeneğindeki cümle “Beni başarılı olacağıma Özne
inandıran kişi / annemdi.” özne ve yüklemden
Yüklem
oluşmaktadır.

(Cevap E)

6. B → “Sohbet kültürünün önemli bir yansıması olan
Âhilik, ÖZNE
yüzlerce yıl boyunca esnaf, zanaatçı, çiftçi vb. bütün
çalışma kollarını içine alan bir ocaktır.”

YÜKLEM

C → “ocaktır”

D → “yansıması (isim-fiil), olan (sıfat-fiil)”

E → “kolların – ı” belirtme durumu eki

Verilen cümle yapısına göre bağımlı sıralı değil, tek bir yüklemi olduğu ve içinde fiilimsi bulunduğu için girişlik birleşik bir cümledir.

(Cevap A)

7. hastalık > hastalığı: Ünsüz yumuşaması
şehirinde > şehirde: Ünlü düşmesi
keşif edilen > keşfedilen: Ünlü düşmesi
Ünsüz yumuşaması
açmıştır > açmıştır: Ünsüz benzeşmesi
"şiddetli" sözcüğünde herhangi bir ses olayı yoktur.

(Cevap B)

8. Yer-yön bildiren (doğu, batı, kuzey, güney...) sözcükler, özel isimden önce kullanıldıklarında büyük harfle başlar. Bunun dışındaki kullanımlarda küçük harfle yazılmaları gerekir. Buna göre IV numaralı sözcük (kuzey), küçük harfle yazılmalıydı.

(Cevap D)

9. A, B, C ve E seçeneklerinde kesme işareti yerinde kullanılmıştır. D seçeneğinde "kurum, kurul, kuruluş adlarına gelen ekler ayrılmaz" kuralına uyulmamıştır.

Sağlık Bakanlığı'nı "Yanlış"

Sağlık Bakanlığını "Doğru"

(Cevap D)

10. "Şunu bilmeliyiz ki bu yeni durum; bireyleri, devletleri ve uluslararası siyaseti etkileyecektir." cümlesinde belirteç yoktur. Diğer cümlelerdeki belirteçler şunlardır:

- I. Tarihin hiçbir döneminde
- II. bile
- III. bile
- IV. biraz daha

(Cevap E)

11. Parçada geçen "...evrensel bir çerçeveye yerleşmiştir öykü" ifadesinden I'de verilen özelliğe, yine "...öykü çok sesli bir orkestraya dönüşmüştür artık. Gerçekliğin algısı altüst olmuştur." yargılarıyla II'de verilen özelliğe değinildiği görülmektedir. Parçada 90 kuşağı öykücülerinin "bireysel konular işlediğine dair" bir bilgi yoktur.

(Cevap C)

12. Paragrafın anlamlı bir bütünlük kazanması için V. cümle ilk cümle olmalı, I. cümle ise paragrafın son cümlesi olmalıdır. I cümle hem anlam hem de şekil yönünden bir paragrafın giriş cümlesi olmaya uygun değildir.

(Cevap B)

13. Parçadaki bütün cümlelerde yaşlılıktan bahsedilmektedir. Ama dikkat edersek üçüncü cümle haricindeki bütün ifadeler yaşlılığın olumsuz yönüne, üçüncü cümle ise yaşlılığın olumlu yönüne temas etmektedir. Aynı konu da olsa farklı yön, akışı bozar.

(Cevap C)

14. Verilen parçada en bariz şekilde “sözle resim çizme” olarak tanımlayabileceğimiz betimlemeye yer verilmiştir. Diğer ifadelerin ise parçada şu karşılıkları vardır:

Tartışmaya → Lütfen dağarcığınızdan atın bu sözü!
Merhametten maraz doğmaz.

Karşılaştırmaya → Merhamet, elbette zulümden üstündür ve herkes için elzemdir.

Açıklamaya → Adil insan olmadan adaletin uygulanamayacağını düşünenler doğru düşünüyordu. Lakin merhametli olmadan nasıl adil olunacaktı?

Tanık göstermeye → “Adalet nedir? Bir şeyi lâıyk olduğu yere koymak. Zulüm nedir? Lâıyk olmadığı yere koymak...” diyen Mevlâna haklıydı.

(Cevap E)

15. Parçadan çıkarılabilecek “yargı” sorularında genelde en son yani sonuç cümlesi çok önemlidir. Parçada “hayalin gençler ve çocuklar için önemli olduğunu düş yoluyla gerçekleri daha iyi öğrenebilecekleri” belirtilmiştir. Özellikle son cümlede yer alan ifadeyle, hayalden yoksun bir beynin herhangi bir işlevinin olmayacağı vurgulanmıştır. O zaman D seçeneğindeki yargı parçada doğrudan son cümle ile çıkarılabilecek bir yargıdır.

(Cevap D)

16. Parçanın teması “dil”dir. Parçanın düşünce akışı incelendiğinde “dildeki bozulmanın” zincirleme olarak nelere yol açabileceği görülmektedir. Bu yüzden parçanın D seçeneğindeki yargıyla sonuçlandırılması gerekir.

(Cevap D)

17. Biçem sahibi yazarlar parçaya göre A, C, D ve E seçeneklerinde verilen özellikleri taşırlar. B seçeneğinde yer alan ifade parçaya göre biçem sahibi yazarlar için söylenemez. Çünkü parçada başarılı yazarlardan söz edilmemiştir.

(Cevap B)

18. Parçadaki ana düşünce, “Yazmak kadar yazmamak da kıymetlidir.” cümlesinde gizlidir. Bu anlamda yazmamak, sessizlik olarak nitelenmiş ve bu durum bir olumsuzluk olarak sunulmamıştır. Buna göre, “Bir sanatçı için yazmama eylemini olumsuzluk olarak değerlendirmek yanlıştır.” cümlesinde parçada vurgulanan düşünce ifade edilmiştir diyebiliriz.

(Cevap A)

19. A'daki yargıya ikinci cümleden, C'deki yargıya ilk cümleden, D'deki yargıya sondan bir önceki cümleden, E'deki yargıya son cümleden ulaşılır. B'deki yargıya parçada değinilmemiştir.

(Cevap B)

20. Bu parçada Sibiry'a'nın doğal koşullarından kaynaklanan yaşam biçimi hakkında bilgi verilmektedir. Buna göre A seçeneğine ulaşmak mümkündür.

(Cevap A)

21. Parçanın IV. cümlesine kadar Evenlerin yaşadığı bölgenin coğrafi koşullarından, yaşam biçiminden bahsedilirken; IV. cümleden itibaren Evenlerin geyikleri özelliklerine göre ayırdığından söz ediliyor. O hâlde bu parça iki paragrafa ayrılmak istenirse ikinci paragraf IV. cümleyle başlamalıdır.

(Cevap C)

22. Parçada Evenlerin yaşadığı bölgede ulaşımda geyiklerin önemli bir yeri olduğu anlatılıyor, taşımacılık dışında da geyiklerden yararlandığı belirtilmemiştir.

(Cevap E)

23. Evenlerin geyikleri özelliklerine göre sınıflandırdıkları bu parçanın VI. cümlesinde "bacak boyları uzun" geyiklerden söz edilmesi geyiklerin fiziksel özelliklerine değinildiğini göstermektedir.

(Cevap D)

24. Parçada tropikal yağmur ormanlarında diğer yağmur ormanlarından farklı olarak geniş yapraklı ve yaprak dökmeyen ağaç türlerinin olduğuna, sık ağaçların yer aldığına, aşırı nemden dolayı kimyasal ufalanmanın daha hızlı olduğuna, ormanlardaki hayvan çeşitliliğine değinilmiş; ancak ağaçların boyları hakkında bilgi verilmemiştir.

(Cevap D)

25. Parçaya göre, tropikal ormanlarda pek çok hayvan türünün ağaç üzerinde yaşamasının nedeni zemine yakın yerlerde besin maddesinin az bulunmasıdır.

(Cevap C)

26. Parçada kimyasal ufalanma hızının fazla olmasının nedeninin nem olduğuna, toprağa yakın kesimlerin aydınlık olmamasından bazı hayvanların gözlerinin büyük olduğuna (bedensel farklılık), tropikal yağmur ormanlarının karaların yaklaşık % 6'sını kapladığına, Ekvator çevresinde bulunduğu değinilmiştir. Ancak parçada iklim üzerindeki etkilerinden söz edilmemiştir.

(Cevap E)

27. Son alan:
Ali ⇒ Cuma, Salı, Cumartesi, Çarşamba, Pazar
Pazar = en son 7 ekme

(Cevap C)

28.

Cemal

Çrş	Pzr	Prşb	Pzts	Cuma
4	7	4	4	4

23 tane

(Cevap E)

30. Duran: Perşembe, pazartesi, cuma, salı, cumartesi

(Cevap A)

$$31. \frac{9x - 2y}{10} = y$$

$$9x - 2y = 10y$$

$$9x = 12y$$

$$3x = 4y$$

$$\downarrow \quad \downarrow$$

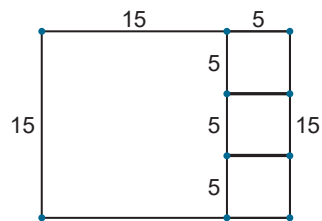
$$4 + 3 = 7 \text{ bulunur.}$$

(Cevap B)

29. Berkan: Cumartesi - Çarşamba - Pazar - Perşembe

(Cevap D)

32.



Soruda karelerin eşit olma şartı olmadığından şöyle ayrılır. 4 tane kare oluşur ve 10 tane köşe oluşur.

(Cevap C)

33. EKOK (A,B) bulunurken verilen sayılardan tabanları aynı olanların üssü büyük olanı ve ortak olmayanları alıp çarpılır.

$$\text{EKOK (A,B)} = 2^5 \cdot 3^4 \cdot 7^2 \cdot 5$$

(Cevap C)

34. I. $a^2 + c^3 \Rightarrow C$ ile ilgili bir bilgi olmadığı için bilinmez.

II. $3b + 2c^2 \Rightarrow b$ çift, $2c^2$ kesinlikle çift

III. $a + b \Rightarrow a$ tek, b çift kesinlikle tek

IV. $4a^3 + b \Rightarrow 4a^3$ çift, b kesinlikle çift

\Rightarrow II - IV birbirini iter.

(Cevap D)

35.

$$\begin{aligned} &= \frac{3}{5} \left[\left(\frac{5}{1} - \frac{2}{3} \right) : \left(\frac{3}{5} - \frac{2}{1} \right) \right] \\ &= \frac{3}{5} \left[\left(\frac{15-2}{3} \right) : \left(\frac{15-2}{5} \right) \right] \\ &= \frac{3}{5} \left[\left(\frac{13}{3} \right) : \left(\frac{13}{5} \right) \right] \\ &= \frac{3}{5} \left[\left(\frac{13}{3} \cdot \frac{5}{13} \right) \right] = \left(\frac{3}{3} \right) \cdot \left(\frac{5}{5} \right) = 1 \text{ bulunur.} \end{aligned}$$

(Cevap B)

$$\begin{aligned} 36. \quad \frac{4x}{4} &< \frac{27}{4} \\ x &< \frac{27}{4} \end{aligned}$$

En büyük değeri 6 bulunur.

(Cevap E)

$$\begin{aligned} 37. \quad &= |x+3| + |x| \\ &= x+3+x \\ &= 2x+3 \text{ bulunur.} \end{aligned}$$

(Cevap D)

$$\begin{aligned} 38. \quad (m^2 \cdot n^3)^5 &= m^{10} \cdot n^{15} \\ (m^3 \cdot n^2)^4 &= m^{12} \cdot n^8 \\ \Rightarrow \frac{(m^2 \cdot n^3)^5}{(m^3 \cdot n^2)^4} &= \frac{m^{10} \cdot n^{15}}{m^{12} \cdot n^8} \\ &= m^{(10-12)} \cdot n^{(15-8)} \\ &= m^{-2} \cdot n^7 = \frac{n^7}{m^2} \text{ bulunur.} \end{aligned}$$

(Cevap C)

$$\left. \begin{array}{l} t = 4 \text{ için } 16 = \frac{2 \cdot h}{10} \Rightarrow h = 80\text{m} \\ t = 5 \text{ için } 25 = \frac{2 \cdot h}{10} \Rightarrow h = 125\text{m} \end{array} \right\} \begin{array}{l} 80 < x < 125 \text{ olmalı} \\ \downarrow \\ 60\sqrt{2} \cong 84\text{m} \end{array}$$

(Cevap D)

40. $a^2 - 10a = 11$ eşitliğinin her iki tarafını $\frac{1}{a}$ ile çarparsak (veya a ya bölersek);

$$\frac{a^2}{a} - \frac{10a}{a} = \frac{11}{a} \Rightarrow a - 10 = \frac{11}{a} \Rightarrow a - \frac{11}{a} = 10 \text{ bulunur.}$$

(Cevap C)

41. $\frac{5}{21} + \frac{9}{19} + \frac{4}{25} = K$ olsun.

$$\frac{13}{21} - \frac{5}{19} + \frac{2}{25} = A \text{ ise } A \text{ y} - 2 \text{ ile çarpıp taraf tarafa toplayalım.}$$

$$\begin{array}{r} -\frac{26}{21} + \frac{10}{19} - \frac{4}{25} = -2A \\ + \frac{5}{21} + \frac{9}{19} + \frac{4}{25} = K \\ \hline -\frac{21}{21} + \frac{19}{19} + \frac{0}{25} = K - 2A \Rightarrow K = 2A \text{ bulunur.} \end{array}$$

(Cevap A)

42. Şişenin içerisindeki sıvı miktarı $6b - 4a$ yarısı dolu iken;

(şişenin ağırlığı) + (sıvının ağırlığı)

$$= 4a + \frac{6b - 4a}{2} = 4a + 3b - 2a = 3b + 2a \text{ bulunur.}$$

(Cevap D)

43. $b - b \cdot \frac{3}{8} = a + \frac{3b}{8}$

$$\frac{5b}{8} = a + \frac{3b}{8} \Rightarrow \frac{2b}{8} = a$$

$$b = 4a \Rightarrow \frac{b}{a} = \frac{4a}{a} = 4 \text{ olur.}$$

(Cevap B)

44. Mihriban'ın yaşı; x
Dilara'nın yaşı; y olsun.

$$\begin{aligned} x + 7 + y + 7 &= 5. (x - 3 + y - 3) \\ \Rightarrow x + y + 14 &= 5(x + y - 6) \\ \Rightarrow x + y + 14 &= 5(x + y) - 30 \\ \Rightarrow 5(x + y) - (x + y) &= 30 + 14 \\ \Rightarrow 4(x + y) &= 44 \Rightarrow x + y = 11 \\ x > y \text{ iken } y \text{ nin en büyük değeri } &= 5 \text{ bulunur.} \end{aligned}$$

(Cevap B)

45. İşin tamamı $\frac{1}{1}$ olur.

$$1 - \frac{1}{3} \cdot \frac{1}{24} = 1 - \frac{1}{3} = \frac{2}{3} \text{ ü kalır.}$$

(Cevap B)

46. $x = V \cdot t \Rightarrow |AB| = 90 \cdot 4 = 360 \text{ km}$
 $x = V \cdot t \Rightarrow 360 = 90 \cdot 2 + V \cdot 1 \Rightarrow 360 = 180 + V$
 $\Rightarrow V = 360 - 180 \Rightarrow V = 180$
 O hâlde hızını $180 - 90 = 90 \text{ km}$ artırmalıdır.

(Cevap D)

47. $\frac{60}{100} \cdot 120 + 24 \cdot \frac{0}{100} + 6 \cdot \frac{100}{100} = 15 \cdot \frac{x}{100}$
 $7200 + 600 = 150x$
 $\frac{7800}{150} = \frac{150 \cdot x}{150}$
 $x = 52$

Karişımın alkol oranı % 52 olur.

(Cevap C)

48. $\frac{3 \text{ kg süt}}{60 \text{ kg süt}} \times \frac{4 \text{ kg yoğurt}}{x \text{ kg yoğurt}}$
 D.O. $\Rightarrow 3 \cdot x = 60 \cdot 4$
 $x = 80 \text{ kg yoğurt}$

$\frac{1 \text{ kg yoğurt}}{80 \text{ kg yoğurt}} \times \frac{2 \text{ kg ayran}}{y \text{ kg ayran}}$
 D.O. $\Rightarrow 1 \cdot y = 80 \cdot 2$
 $y = 160 \text{ kg ayran elde edilir.}$

(Cevap C)

49. $\frac{2 \text{ kg ayran}}{80 \text{ kg yoğurt}} \times \frac{1 \text{ kg yoğurt}}{x \text{ kg yoğurt}}$
 D.O. $\Rightarrow 2 \cdot x = 80 \cdot 1 \Rightarrow x = 40 \text{ kg yoğurt}$

$\frac{4 \text{ kg yoğurt}}{8 \text{ kg yoğurt}} \times \frac{3 \text{ kg süt}}{y \text{ kg süt}}$
 D.O. $\Rightarrow 4 \cdot y = 8 \cdot 3 \Rightarrow y = 6 \text{ kg süttten elde edilir.}$

(Cevap D)

50. $s(A \setminus B) = 8$
 $s(B \setminus A) = 10$
 $s(A \cup B) = 30$
 $s(A \cup B) = s(A \setminus B) + s(B \setminus A) + s(A \cap B)$
 $\Rightarrow 30 = 8 + 10 + s(A \cap B)$
 $\Rightarrow s(A \cap B) = 12$ bulunur.

(Cevap C)

51. $f(x) = x^2 + 3x + 2$ de x yerine $x - 1$ yazalım.
 $f(x - 1) = (x - 1)^2 + 3(x - 1) + 2$
 $f(x - 1) = x^2 - 2x + 1 + 3x - 3 + 2$
 $f(x - 1) = x^2 + x$ bulunur.

(Cevap D)

52. Geriye 4 kişi kalıyor, bunlardan 2 kişi seçilecek.

$$\binom{4}{2} = \frac{4 \cdot 3}{2} = 6 \text{ farklı grup oluşur.}$$

(Cevap B)

53. 6 yeşil, 10 kırmızı elma içinden aynı anda 2 elma alınırsa,

$$\frac{\text{İki elmanın farklı renklerde olma olasılığı}}{\text{İstenilen durum sayısı}} = \frac{\text{Tüm durumların sayısı}}{\text{İstenilen durum sayısı}}$$

$$= \frac{\binom{6}{1} \cdot \binom{10}{1}}{\binom{16}{2}}$$

$$= \frac{6 \cdot 10}{16 \cdot 15} = \frac{120}{240} = \frac{1}{2} \text{ bulunur.}$$

(Cevap A)

54. 7, 7, 14, 21, 35, 56, 91, 147

(Cevap D)

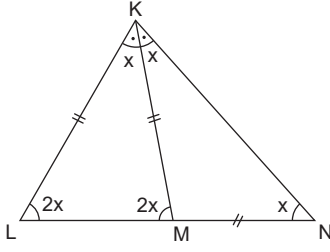
55. 4, 4, 8, 12, 20, 32, 52
 ilk 8 rakam: 4, 4, 8, 1, 2, 2, 0, 3
 şifre: 48120234 olabilir.

(Cevap A)

56. 6, 6, 12, 18, 30, 48

(Cevap C)

57.



$m(\widehat{KNM}) = x$ olsun. Bu durumda $m(\widehat{NKM}) = x$ olur. İki iç açının toplamı, bunlara komşu olmayan bir dış açıya eşit olduğundan;

$m(\widehat{KML}) = 2x$ olur.

$m(\widehat{KML}) = m(\widehat{KLM}) = 2x$ dir. (İkizkenar üçgenden)

$m(\widehat{LKM}) = m(\widehat{NKM})$ olduğundan;

$m(\widehat{LKM}) = x$ olur.

(\widehat{KLM}) üçgeninin iç açıları toplamından;

$$x + 2x + 2x = 180$$

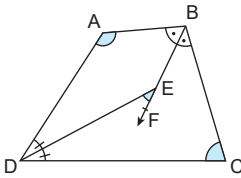
$$5x = 180$$

$$x = 36$$

$$m(\widehat{KLM}) = 2x = 72^\circ \text{ bulunur.}$$

(Cevap A)

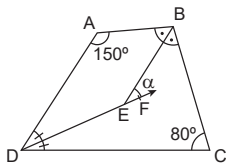
58.



[BF] ve [DE] açıortay ise,

$$m(\widehat{DEF}) = \frac{|m(\widehat{A}) - m(\widehat{B})|}{2}$$

dir.



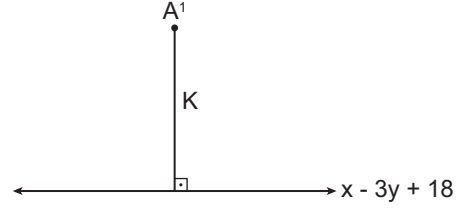
$$\alpha = \frac{|150^\circ - 80^\circ|}{2} = 35^\circ$$

bulunur.

(Cevap B)

59. A (3, 1) noktasının $y = x$ doğrusuna gör simetrisi A^1 (1, 3) noktasıdır.

A^1 noktasının $x - 3y + 18 = 0$ doğrusuna uzaklığı

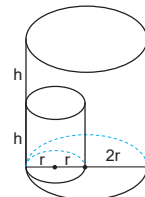


$$\begin{aligned} K &= \frac{|x - 3y + 18|}{\sqrt{1^2 + 3^2}} \\ &= \frac{|1 - 3 \cdot 3 + 18|}{\sqrt{10}} \\ &= \frac{10}{\sqrt{10}} \\ &= \frac{10\sqrt{10}}{10} \\ &= \sqrt{10} \text{ bulunur.} \end{aligned}$$

(Cevap E)

60.

$$\begin{aligned} KSH &= \pi r^2 \cdot h \\ BSH &= \pi \cdot (2r)^2 \cdot 2h \\ &= 8\pi r^2 h \\ &= 8 \cdot 14\pi \\ &= 112\pi \text{ bulunur.} \end{aligned}$$



(Cevap B)

GENEL KÜLTÜR TESTİ

1. İslamiyet öncesi Türk devletleri ülke yönetimini kolaylaştırmak için ülkeyi Doğu - Batı (sağ - sol) şeklinde bölerek yönetmişlerdir. Doğuyu Hakan'ın kendisi, batıyı ise genellikle Hakan'ın kardeşi yabgu unvanıyla yönetmiştir. Bu ikili teşkilat her ne kadar ülke topraklarının daha kolay yönetilmesini sağlasa da, merkezi otoritenin zayıflamasına ve devletlerin kısa sürede yıkılmasına sebep olmuştur.

Üniter yönetim, ikili teşkilat anlayışının tam tersidir. Yani tek bir merkezden yönetimi esas alır.

İkili teşkilat anlayışının göçebe yaşam üzerinde herhangi bir etkisi bulunmamaktadır.

(Cevap A)

2. İpek Yolu, Çin'den başlayıp Avrupa'ya kadar uzanan çok önemli bir ticaret yoluuydu. Bu yola hâkim olan devletler ticari gelirlerden büyük pay alarak zenginleşirdi. Zenginleştikçe güçlenen bu devletler, Orta Asya siyasi hayatında da etkin rol oynamaya başlardı. Bu sebeple Orta Asya Türkleri ile Çin arasındaki mücadelelerin temel sebebini de İpek Yolu'na hâkim olma düşüncesi oluşturmuştur.

(Cevap B)

3. Selçuklularla birlikte İslam dünyasına giren ve kendilerinden sonraki devletleri de etkileyen kurumlardan biri de atabeyliktir. Devlet hanedan üyelerinin ortak malı olduğundan şehzadeler daha küçük yaşlarda yönetim deneyimi kazanmaları için eyaletlere melik olarak gönderilmiş, kendilerini iyi bir devlet adamı ve asker olarak yetiştirmek üzere onlara bir atabey tayin edilmiştir.

(Cevap E)

4. Osmanlı Devleti'nde yaşayan gayrimüslim erkeklerden askerlik yapmadıkları için yılda bir kez alınan vergi cizye vergisidir. Haraç gayrimüslimlerden alınan ürün vergisi, bennak evlilik vergisi, avarız olağanüstü durumlarda alınan vergi, çiftbozan da toprağını boş bırakan ya da terk edenlerden alınan vergidir.

(Cevap A)

5. Osmanlı Devleti'nin Macarlar ve müttefikleriyle imzaladığı Edirne-Segedin Antlaşması'nın süresi on yıldır. Ancak Haçlılar, çocuk yaşta bir padişahın tahtta olmasını fırsat bilerek antlaşmayı bozup Osmanlı'yı Balkanlardan atmak için tekrar saldırıya geçtiler. Beliren Haçlı tehlikesi üzerine II. Murat tekrar tahta çıkarak Haçlılarla 1444 Varna Savaşı'nı yaptı ve Haçlıları büyük bozguna uğrattı. Ardından yapılan 1448 II. Kosova Savaşı ile de Osmanlılar Balkanlara kesin olarak yerleşti.

Edirne-Segedin Antlaşması (1444), Osmanlı Devleti'nin Batı'da ilk siyasi kaybı olarak kabul edilir.

(Cevap B)

6. Tarhuncu Ahmet Paşa, ilk defa denk bütçe hazırlamıştır. Devlet adamlarından gelir vergisi olarak devlet hazinesindeki açığı gidermeye çalışmıştır. Ayrıca saray masraflarının fazla olduğunu söyleyerek bunları azaltmaya çalışmıştır. Bu çalışmalar Tarhuncu'nun mali alandaki ıslahatlara öncelik verdiğini göstermektedir.

(Cevap D)

7. 1699'da imzalanan Karlofça Antlaşması'nın garantör devleti Avusturya idi. Karlofça Antlaşması ile Mora Venedik'e verilmişti. 1715'te ise Osmanlı, Mora'yı Venedik'ten alınca garantör devlet Avusturya Karlofça Antlaşması'nın bozulduğunu öne sürerek Venedik yanında savaşa girdi.

Osmanlıların Batı'da ilk kez büyük ölçüde toprak kaybettiği Karlofça Antlaşması, Osmanlı Devleti'nin imzaladığı ilk uluslararası antlaşma olup Avusturya'nın garantörlüğü altına alınmıştır.

(Cevap C)

8. Soru kökünde belirtilen bilim ve kültür adamları 1623-1640 yılları arasında hüküm süren IV. Murat döneminde yaşamıştır. Hezarfen Ahmet Çelebi kollarına taktığı kanatlarla Galata Kulesi'nden Üsküdar'a kadar devam eden bir uçuş denemesi yapmıştır. Lagari Hasan Çelebi barutla doldurduğu kendi icadı olan bir rokete binerek gökyüzüne yükselmiştir. Divan edebiyatının ünlü şairlerinden Neftî bu dönemde yazdığı hicivleriyle tanınmıştır. Bir gezgin olan Evliya Çelebi ise Asya, Avrupa ve Afrika kıtalarındaki çeşitli ülkeleri dolaşarak "Seyahatname" adlı ünlü eserini yazmıştır.

(Cevap C)

9. Fransa sanayileşmiş bir ülke olduğu için hammadde ve pazar arayışı içinde idi. Bu yüzden askerî ve siyasi olarak zayıflamış Osmanlı Devleti'nin topraklarını hedef olarak seçmiştir. 1830'da Cezayir'i, 1881'de Tunus'u işgal ederek sömürge sayısını artırmıştır. Kıbrıs ise 1878'de İngiltere'ye üs olarak verilmişti. Fakat Osmanlı Devleti I. Dünya Savaşı'na İngiltere karşısında girince İngiltere aday topraklarına kattığını açıkladı. 1923 Lozan Antlaşması ile de Kıbrıs, resmen İngiltere'ye geçmiştir.

(Cevap D)

10. Falih Rıfkı Atay, Osmanlı Devleti'nin son dönemlerine tanıklık etmiş, Millî Mücadele'ye büyük destek vermiş ve her zaman Mustafa Kemal'in yakınında bulunan bir gazeteci yazardır. Bu sebeple tanık olduğu durumları, anılarını sonraki yıllarda kaleme almıştır. I. Dünya Harbi'nde yedek subay olarak katıldığı Suriye-Filistin Cephesi'ndeki anılarını da 1932'de yayımladığı Zeytinadağı adlı eserinde konu edinmiştir.

(Cevap B)

11. Osmanlı Devleti'nde padişahın siyasal ve dinsel otoritenin sahibi olması, ayrıca ülke topraklarının da padişah ve devletin mülkiyetinde olması, egemenliğin Osmanlı soyuna ait olduğu düşüncesi ve kut inancının bir sonucudur.

(Cevap A)

12. Devlet, toprağı kullanma hakkını belli şartlarla köylülere bırakmış, toprağını boş bırakan veya terk edenlerden çiftbozan vergisi almış ve böylece tarımsal üretimin sürekliliğini sağlamayı başarmıştır. Dolayısıyla doğru sıralama "E" seçeneğinde yer almaktadır.

(Cevap E)

13. Cebeci; Klasik Dönem askerî düzeninde bir sınıftır. Ordu donatım sınıfıdır. Ordunun kesici ve hafif ateşli silahlarını ve barutunu hazırda saklar, bunların bakımını da yapardı. Bu silahları seferde birliklere dağıtır, daima hazır ve temiz bulundurur, ikmalini yapardı. Cebeci Ocağı, 1826'da Yeniçeri Ocağı ile birlikte ortadan kaldırılmıştır.

(Cevap C)

14. Kapıkulu Ordusu'nun asker ihtiyacını karşılamak amacıyla oluşturulan devşirme sistemi I. Murat zamanında uygulanmaya başlanmıştır. Dolayısıyla ondan sonra tahta çıkan II. Murat, I. Mehmet ve II. Mehmet (Fatih) dönemlerinde de bu sistem görülmektedir. Fakat Orhan Bey'in padişahlığı I. Murat'tan önce olduğu için, Orhan Bey zamanında bu sisteme rastlanmaz.

(Cevap B)

15. Peyam, İstanbul'da çıkarılan ve Milli Mücadele karşıtı yayımlar yapan bir gazetedir. Verilen diğer gazetelerden İkdam, Tanin ve Tasvir-i Efkâr İstanbul basınında, Babalık ise Konya'da Milli Mücadele'ye destek veren gazetelerdir.

Peyam-ı Sabah, Alemdar, Ümit, Aydede, İrşad, Selamet ve Ferda Milli Mücadele karşıtı yayın yapan gazetelerdir.

(Cevap A)

16. Saltanat Şurası'nın toplanması Milli Mücadele açısından olumsuz bir gelişmedir. İtilaf devletlerinin sunduğu barış taslağı, Mebusan Meclisi kapalı olduğundan toplanan Saltanat Şurası'nda görüşülmüştür. 22 Temmuz 1920'de toplanan Saltanat Şurası'nın anlaşma metnini onaylaması ise Sevr Barış Antlaşması'nın imzalanması yolunu açmıştır.

(Cevap A)

17. A, B, C ve E seçeneklerinde verilen gelişmeler, Mustafa Kemal'in Mebuslar Meclisi'nin İstanbul dışında toplanmasını istemesinin nedenleri arasında yer almaktadır. Bu isteğin, seçimlerin sağlıklı bir şekilde yapılmak istenmesiyle ilgisi bulunmamaktadır.

(Cevap D)

18. I. İnönü Savaşı'ndan sonra düzenlenen Londra Konferansı'na Dışişleri Bakanı Bekir Sami Bey gönderilmiştir. Bekir Sami Bey; İngiltere, Fransa ve İtalya ile gizli ikili antlaşmalar imzalamış; ancak bu antlaşmalar eşitlik ilkesine ve Misakımillî ruhuna aykırı olduğu için TBMM tarafından reddedilmiştir.

(Cevap E)

19. Halifeliğin kaldırılması laiklik yolunda atılan en önemli adımdır. Medeni Kanun, toplumsal alanda kadın-erkek eşitliğini sağladığı için halkçılık ilkesi ile ilgilidir. Türk Tarih Kurumu'nun kurulması milliyetçilik, I. Beş Yıllık Sanayi Planı'nın uygulanması da devletçilik ile ilgilidir. Ancak ölçü birimlerinin değiştirilmesi, cumhuriyetçilik değil inkılapçılık ilkesi ile bağlantılıdır.

(Cevap E)

20. Eğitim sistemi milli olacak şekilde ilk ve ortaöğretim programlarının düzenlenmesi, 2 Mart 1926 tarihinde kabul edilen Maarif Teşkilatı Hakkında Kanun ile mümkün olmuştur. Bu kanunla öğretim programları halkın ihtiyaçlarına cevap verecek şekilde getirilmiş ve okul açılması Milli Eğitim Bakanlığı'nın iznine bağlanmıştır. Ayrıca okullarda hangi derslerin ne şekilde okutulacağı da yine bu kanunla belirlenmiştir. Bugünkü eğitim sisteminin ana hatlarının şekillendiği bu kanunla ilköğretim ücretsiz ve mecburî olacak hale getirilmiş ve karma eğitim ilkesi kabul edilmiştir.

Maarif Teşkilatı Hakkında Kanun'un çıkarılması ile, Türkiye'de Millî Eğitimin esasları belirlenmiştir. Ayrıca çağ dışı derslerin programdan çıkarılması sağlanmıştır.

(Cevap D)

21. Atatürk bu sözü ile, Türk inkılabının bir halk hareketi olarak köklü ve kalıcı değişiklikler getirmesini vurgulamıştır.

(Cevap C)

22. A, B, C, D seçeneklerinde verilen kanunlar anayasa ile koruma altına alınan devrim kanunlarıdır. Türk Medeni Kanunu ile kabul edilen resmi nikah esası, Türk alfabesinin kabulü hakkında kanun, beynelmînel er-kamın kabulü (Uluslararası rakamların kabulü) hakkında kanun ve bazı kisvelerin giyilemeyeceğine dair kanun koruma altındaki diğer devrim kanunlarıdır. Toplam sekiz kanundan oluşan devrim kanunları hakkında anayasaya aykırılık iddiasıyla yargı mercilerine başvurulamaz.

(Cevap E)

23. İzmir İktisat Kongresi, Yeni Türk Devleti'nin ekonomi politikasını belirlemek amacıyla 17 Şubat - 4 Mart 1923 tarihleri arasında yapılmıştır. Devletçi ekonomi politikası ise özel teşebbüsün gereken sanayi işletmelerini kuramaması üzerine 1931 yılından itibaren benimsenmiştir.

(Cevap E)

24. II. Dünya Savaşı sonunda Hindistan, Mısır, Pakistan, Cezayir, Libya, Fas, Tunus gibi sömürgeler bağımsızlıklarını kazanmıştır. Irak ise 1932'de yani II. Dünya Savaşı'ndan daha önce bağımsızlığını kazanmıştır.

(Cevap B)

25. Soru kökünde Milli Korunma Kanunu'ndan bahsedilmektedir. Bu yasayla fiyatları saptamada, ürünlere el koymada ve zorunlu çalışma yükümlülüğü getirmede hükümete sınırsız yetkiler verilmiştir. Milli Korunma Kanunu devlet müdahalelerine meşruiyet kazandıran, üretim, tüketim ve dağıtım ilişkilerini devlet kontrolüne veren günümüzde kapsamı hala tartışılan bir kanundur.

II. Dünya Savaşı'nın vermiş olduğu ekonomik sıkıntıyı çözebilmek adına tam bir vergi olmasa da 1940 yılında Milli Korunma Kanunu, 1942 yılında Varlık Vergisi, 1944 yılında Toprak Mahsulleri Vergisi çıkarıldı.

(Cevap A)

26. Türkiye'nin dış siyasette son yarım asır içerisinde en çok uğraştığı sorun, Yunanistan ile yaşadığı Kıbrıs sorunu olmuştur. Rumların 1963, 1967 ve müteakiben 1974 yılında adayı silah zoru ile Yunanistan'a ihlak etmeye kalkması, çoluk çocuk, genç ihtiyar demeden Kıbrıs Türklerini katletmesi üzerine Türkiye, Kıbrıs Türk toplumunu korumak için 1974 Kıbrıs Barış Harekati'nı yapmış ve adada barışı yeniden tesis etmiştir.

(Cevap C)

27. 11 Eylül 2001 tarihinde ABD'ye yönelik terör saldırısının ardından ABD, terörizme destek verdiği gerekçesiyle Afganistan'a askeri müdahalede bulunmuştur.

(Cevap A)

28. Ankara, yerel saat ayar boylamı üzerinde olmadığı için Ankara'nın yerel saati ortak saat olarak kullanılmaz. Bu yüzden de hiçbir zaman Ankara'nın yerel saati ile ortak saati aynı olamaz.

(Cevap A)

29. Sorudaki şekle göre; Trabzon daha denizel, Gümüşhane daha karasaldır. Buna göre kentlerin iklim şartları (D - E), yetiştirilen tarım ürünleri (B) ve doğal bitki örtüleri (C) birbirlerinden farklıdır. Bakı etkisine göre, Gümüşhane'nin (güney yamaç) daha sıcak olması gerekir, ancak denizellik-karasallık şartlarına göre, Trabzon daha sıcak iken, Gümüşhane daha soğuktur.

(Cevap A)

30. Gümüşhane, Niğde, Aksaray, Karaman ve Iğdır'da ılıman karasal, Erzurum'da sert karasal, Gaziantep, Antalya'da Akdeniz, İstanbul'da geçiş iklimi özellikleri görülür.

(Cevap C)

31. Türkiye'de kuzey sektörlü rüzgârlar kış aylarında etkili olur. Türkiye'de kış mevsiminin etkili olduğu dönemde; kar yağışı görülür, ortalama sıcaklıklar düşer, ulaşımda aksamalar yaşanır ve don olayları görülür.

(Cevap E)

32. Paleozoik olarak adlandırılan ve günümüzden 545 milyon yıl önce yaşanmaya başlanan jeolojik zamanda Dünya, Pangea adı verilen büyük bir kara parçası ve bu kara parçasının etrafını saran Pantalassa (Pıntalasa) adı verilen büyük bir okyanustan oluşmaktaydı. Ülkemizde bu döneme ait arazilere Yıldız Dağları, Zonguldak çevresi, Menderes- Menteşe arası, Anamur ile Alanya arası, Bitlis ve Kırşehir çevresinde rastlamak mümkündür. Zonguldak çevresindeki taş kömürü yatakları Paleozoik'te Türkiye'nin bulunduğu yerde adalar hâlinde karaların bulunduğu nu ve buraların gür bir bitki örtüsüyle kaplı olduğunu kanıtlamaktadır.

(Cevap C)

33. Avrasya ile Arabistan ve Afrika levhaları arasında sıkışan Türkiye arazisinde önemli ölçüde enerji birikmektedir. Bu enerji, depremlerle açığa çıkmaktadır. Bu nedenle ülkemiz dünyada depremlerin sıklıkla görüldüğü arazilerden biridir. Ülkemizdeki deprem alanları, aynı zamanda faylara paralel olarak üç kuşak hâlinde uzanmaktadır. Bu fay hatları boyunca da sıcak su kaynakları oluşumlarına rastlanır. Ancak Türkiye'deki karstik arazilerin dağılışı kayaç türü ile ilgili olup fay hatlarının uzanışından etkilenmez.

(Cevap B)

34. Büyük Ağrı ve Küçük Ağrı Dağları, Tendürek, Süphan ve Nemrut dağları Doğu Anadolu'da başlıca volkanik dağlardır. İç Anadolu'da da volkanik araziler geniş yer kaplamaktadır. Kuzeydoğu ve güneybatı doğrultusunda uzanan Erciyes, Hasandağı, Melendiz, Karadağ ve Karacadağ İç Anadolu'daki başlıca volkanik dağlardır.

(Cevap E)

35. Türkiye'deki birinci derecede deprem alanları fay hatlarının çevresini oluşturmaktadır. Depremin en yıkıcı etkisi bu hat boyunca görülmektedir. Birinci derecede deprem bölgesinden uzaklaştıkça depremin etkisi azalmaktadır. Beşinci derecede deprem bölgesi ise deprem bakımından en az tehlikeli yerleri oluşturmaktadır. Tuz Gölü'nün güneyi ile Anamur Burnu arasındaki bölge beşinci derecede deprem alanıdır.

(Cevap D)

36. I. nolu yerde (Muğla) turizm faaliyetlerine bağlı olarak yaz mevsimi ile kış mevsimi arasındaki nüfus farkı en fazla olur.

(Cevap A)

37. Türkiye'de nüfusun dağılışı düzenli değildir. Buna göre, Kocaeli Yarımadası ve Doğu Karadeniz kıyıları yoğun nüfuslu iken Gelibolu Yarımadası ve Taşeli Yarımadası seyrek nüfuslanmıştır.

(Cevap B)

38. Türkiye'de özellikle büyük şehirlerin olduğu yerlerde artan nüfusun konut ihtiyacına bağlı olarak verimli tarım alanları yerleşmeye açılmıştır. Sanayi kuruluşları da genişleyerek tarım alanlarını işgal etmiştir. Bu duruma özellikle Çukurova, Sakarya, Bursa ve Menemen (İzmir) ovalarında rastlanır. Oysaki Mersin ilimize bağlı olan Silifke Ovası'nda nüfus yoğunluğu ve sanayi faaliyetleri fazla olmadığından bu duruma rastlanmaz.

(Cevap E)

39. Kozabirlik verilerine göre Türkiye'de yaş kozanın üretim alanları incelendiğinde, yaş koza üretiminin toplamda 63 ile bağlı 662 köyde, 1.965 üretici tarafından yapıldığı görülmektedir. 2020 yılı yaş koza üretimi 2016 yılına kıyasla 13'lük azalma göstererek 90 ton olarak gerçekleşmiştir. Söz konusu üretimin %61,1'i Diyarbakır'da gerçekleşmiştir. Diyarbakır'da yaş koza üretimi 55 ton olmuştur.

(Cevap E)

40. Bor, kurşun ve demirden enerji elde edilmez. Linyit ve petrolden termik enerji elde edilir.

(Cevap D)

41. Soruda verilen grafikte yalnızca ithalat giderleri ve ihracat gelirleri dolar bazında gösterilmiştir. Yani bu rakamların düşük ya da yüksek olması üzerinde etkili olan faktörlere değinilmemiştir. Buna göre ihracat gelirlerinin az olmasının nedeni olarak nüfusun fazla olmasına bu grafikten ulaşılamaz.

(Cevap A)

42. Türkiye'de uluslararası ticaretin yaklaşık %65'i en ucuz taşıma türü olan deniz yolu ile gerçekleştirilmektedir. Üç tarafı denizlerle çevrili olan Türkiye, üç kıtanın ana geçiş yolları üzerindeki konumu nedeniyle transit taşımacılık açısından büyük bir öneme sahiptir. Denizciliğin geliştirilmesi ve bu coğrafi avantajın en etkin şekilde kullanılması ülkemizin gelişmesine katkı sağlayacaktır. Bu nedenle uluslararası okyanuslara bağlantısı olan, ticari işlevi yüksek Haydarpaşa, İskenderun, Bandırma, Derince, Samsun, İzmir ve Mersin limanları oldukça önemlidir. Türk Deniz Ticaret Filosu'nu oluşturan gemilerin çoğunluğu, kuru yük gemileri oluştururken deniz yollarında taşınan önemli yükler; maden cevherleri, tahıl ürünleri, orman ve sanayi ürünleri gibi dökme kuru yüklerdir. Konteyner taşımacılığında önde gelen limanlarımız arasında başı %37'lik payla İstanbul Ambarlı çekerken İzmir, Mersin ve İstanbul Haydarpaşa limanları da konteyner taşımacılığında önemlidir.

(Cevap E)

43. Aslında, Türkiye geliştikçe ihracatında yer alan malların niteliğinin değiştiği; tarım sektörünün Türkiye'nin toplam ihracat gelirleri içindeki payının azaldığı doğru bir bilgidir. Ancak bu durum grafikten anlaşılacağı üzere sürekli olmamıştır. Örneğin; 96 ve 98 yılları arasında artış vardır.

(Cevap C)

44. Ülkemizin yer şekillerine ait özellikleri de turizm bakımından çekicilikler oluşturmaktadır. Volkanik arazide oluşan peribacaları (Ürgüp, Göreme), karstik şekillerden Pamukkale travertenleri, çeşitli mağaralar (Karaın, Dim, İnsuyu, Damlatış mağarası vb.), obruklar (cennet-cehennem obruğu) önemli turizm merkezleridir.

(Cevap A)

45. Akdeniz Bölgesi'nde dağlar denize paralel uzanır. Bu duruma bağlı olarak bölgede: Kıyı ile iç kesimler arası farklı iklim özellikleri görülür. Farklı iklim bölgelerinde bitki örtüsü, akarsu rejimi, giyim, mesken tipleri, buharlaşma, yetiştirilen tarım ürünleri vb. farklılık gösterir. Akdeniz Bölgesi'nin kıyı kesimlerinde Akdeniz ikliminin görülmesine bağlı olarak kızılçam ormanları ve tahrip edildikleri yerde maki, iç kesimlerde ise karasal iklime bağlı olarak bozkır bitki örtüsü görülür.

(Cevap E)

46. 2004 yılında kabul edilen 5253 sayılı Dernekler Kanunu'na göre, bir derneğin mahkeme kararıyla kapatılması hâlinde mal varlığı, derneğin amacına en yakın ve derneğin kapatıldığı tarihte en fazla üyesi olan derneğe intikal eder.

(Cevap D)

47. Tüzel kişilerin başlangıç anını belirleyen ve hangi anda kişilik kazandıklarını tespit eden üç tür sistem vardır. Bunlar; serbest kuruluş sistemi, izin sistemi ve tescil sistemidir.

Serbest Kuruluş Sistemine göre tüzel kişiliğin başlangıç anı kurucuların kuruluş bildirisini ilgili makama açıkladıkları andır.

Dolayısıyla derneklerin kuruluşu bakımından benimsenen sistem serbest kuruluş sistemidir.

(Cevap D)

48. Tek taraflı hukuki işlemler, yalnız bir tarafın irade beyanı ile hukuki sonuç doğuran işlemlerdir. A, B, C, E seçenekleri bu duruma örnektir. Sözleşme ise iki taraflı hukuki bir işlemdir.

(Cevap D)

49. Yasama dokunulmazlığı, 1982 Anayasası'nın 83. maddesinde düzenlenmiştir. Ancak bu maddede "E" seçeneğinde belirtildiği gibi bir hüküm yer almamaktadır. Nitekim Anayasa'nın diğer maddelerinde de bu türden bir hüküm yoktur.

Yasama dokunulmazlığına milletvekilleri gibi Cumhurbaşkanı yardımcıları ve bakanlar da sahiptir. Bunların dokunulmazlıklarını TBMM isterse kaldırabilir.

(Cevap E)

50. A, B, C ve D şıklarındaki durumlardan Cumhurbaşkanlığı ve genel seçimler birlikte yapılır. Cumhurbaşkanlığı makamının herhangi bir nedenle boşalması halinde, kırkbeş gün içinde Cumhurbaşkanı seçimi yapılır. Genel seçime bir yıl veya daha az kalmışsa Türkiye Büyük Millet Meclisi seçimi de Cumhurbaşkanı seçimi ile birlikte yenilenir. Genel seçime bir yıldan fazla kalmışsa seçilen Cumhurbaşkanı Türkiye Büyük Millet Meclisi seçim tarihine kadar görevine devam eder. Kalan süreyi tamamlayan Cumhurbaşkanı açısından bu süre dönemden sayılmaz. Türkiye Büyük Millet Meclisi genel seçimlerinin yapılacağı tarihte her iki seçim birlikte yapılır.

Yenisi seçilene kadar Cumhurbaşkanı yardımcısı Cumhurbaşkanlığına vekâlet eder ve Cumhurbaşkanı seçilene kadar Cumhurbaşkanlığına vekâlet eder ve Cumhurbaşkanı seçilene kadar Cumhurbaşkanlığına vekâlet eder ve Cumhurbaşkanı seçilene kadar Cumhurbaşkanlığına vekâlet eder.

(Cevap E)

51. Birlikte ya da ayrı ayrı hesaplandığında son genel seçimlerde en az %5 oy alan partiler Cumhurbaşkanlığı için aday gösterebilir.

(Cevap B)

52. Somut norm denetimi, Anayasaya aykırılığın diğer mahkemelerde ileri sürülmesini ifade etmektedir. Davaya bakan bir mahkeme, söz konusu bir hükmün Anayasaya aykırılığına resen kanaat getirir veya taraflardan birinin ileri sürdüğü anayasaya aykırılık iddiasının ciddi olduğu kanısına varırsa, hükmü Anayasa Mahkemesine gönderebilmektedir.

(Cevap C)

53. Kamulaştırma özel mülkiyette bulunan taşınmazlara devlet ya da kamu tüzel kişilerince el konulmasıdır. Kamulaştırmanın konusu taşınmazlardır. Kamulaştırma ancak kamu yararını gerçekleştirmek için yapılabilir. Kamulaştırmada taşınmazın bedelinin peşin ödenmesi gerekir. Belli amaçlarla yapılan kamulaştırmalarda taksitle ödenmesi de mümkün kılınmıştır. Kamulaştırmada kamu yararı verme yetkisi köy lehine kamulaştırmada köy ihtiyar meclisi, belediye lehine kamulaştırmada belediye encümeni, il özel idaresi lehine kamulaştırma bedelinin il daimi encümeni, birden fazla ili içine alan kamulaştırmalarda Cumhurbaşkanlığı'na aittir.

(Cevap A)

54. A, C, D ve E seçeneklerinde belirtilenler valilerin görev ve yetkilerindedir. Valilerin ilçe adlarını değiştirme yetkisi yoktur.

(Cevap B)

55. İnebolu sahillerinden başlayıp Ankara'ya giden bu yol Kurtuluş Savaşı'nda kullanılmıştır. Bu yolda cephaneler taşındığı için de "İstiklal Yolu" denilmiştir.

(Cevap C)

56. Bugüne kadar 120 yazar Nobel Edebiyat Ödülü almıştır. En fazla ödül Fransız yazarlara verilmiştir.

Nobel Ödülü, 1901 yılından beri 100 yılı aşkın bir süredir bilimin ve insanlığın önde gelen isimlerine veriliyor. Nobel Ödülleri daha çok batılı ülkelere giderken Türkiye sadece bir kez, 2006'da edebiyat alanında Orhan Pamuk ile bu ödülü kazandı. Türkiye doğumlu Aziz Sancar ise, 2015 yılında Nobel Kimya Ödülü'nü ABD'deki çalışmaları için aldı. Nobel'i sırasıyla en çok kazanan ülkeler ABD, İngiltere, Almanya, Fransa ve İsveç oldu.

(Cevap C)

57. Soru öncülünde bestelenen bazı şiiirleri verilen kişi Sabahattin Ali'dir. Sabahattin Ali, 1907-1948 yılları arasında yaşayan usta öykücü, şair, öğretmen, yazar ve gazetecidir.

Sabahattin Ali'nin kitaplarından bazıları şunlardır; Mahkemelerde, Markopaşa Yazıları ve Ötekiler, Kürk Mantolu Madonna, İçimizdeki Şeytan, Kuyucaklı Yusuf.

(Cevap E)

58. Tarık Buğra'nın eserleri şunlardır:

Hikaye;

- Oğlumuz, Yarın Diye Bir Şey Yoktur, İki Uyku Arasında, Hikayeler

Tiyatro;

- Ayakta Durmak İstiyorum, Akümülatörlü Radyo, Yüzlerce Çiçek Birden Açtı

Gezi Yazıları;

- Gagaringrad (Moskova Notları)

Fıkra ve Deneme;

- Gençlik Türküsü, Düşman Kazanmak Sanatı, Politika Dışı, Bu Çağın Adı

Roman;

- Siyah Kehribar, Küçük Ağa, Küçük Ağa Ankara'da, İbiş'in Rüyası, Firavun İmam, Gençliğim Eyvah, Dönemeçte, Yalnızlar, Yağmur Beklerken, Osmançık, Dünyanın En Pis Sokağı

Senaryo ve oyunu;

- Sıfırdan Doruğa-Patron

(Cevap A)

59. Gülün Adı romanı ile tanınan ünlü İtalyan yazar Umberto Eco'dur. Eco, bu romanı 1980'de yazdı. Romanın en az 43 farklı dile tercüme edildiği bilinmektedir. Eco, kaleme aldığı eserler ile edebiyat ve felsefeye büyük katkılar sağlamıştır. Eco, 2016 yılında vefat etmiştir.

(Cevap C)

60. Soru öncülündeki eserler Stefan Zweig'e aittir. Zweig, 1881'de Viyana'da doğmuştur. Savaş karşıtı kişiliğiyle tanınmıştır. Avrupa'nın içinde düştüğü duruma dayanamayıp 1942'de karısıyla birlikte intihar etmiştir. Çok sayıda denemesi, öyküsü ve romanı yanında büyük bir ustalıkla aldığı yaşam öyküleriyle de ünlüdür.

(Cevap A)

AKADEMİ DENİZİ LİSE - ÖN LİSANS KURUMSAL - TÜRKİYE GENELİ • 3 • GENEL YETENEK TESTİ

1	C	2	B	3	B	4	D	5	E	6	A	7	B	8	D	9	D	10	E	11	C	12	B	13	C	14	E	15	D
16	D	17	B	18	A	19	B	20	A	21	C	22	E	23	D	24	D	25	C	26	E	27	C	28	E	29	D	30	A
31	B	32	C	33	C	34	D	35	B	36	E	37	D	38	C	39	D	40	C	41	A	42	D	43	B	44	B	45	B
46	D	47	C	48	C	49	D	50	C	51	D	52	B	53	A	54	D	55	A	56	C	57	A	58	B	59	E	60	B

AKADEMİ DENİZİ LİSE - ÖN LİSANS KURUMSAL - TÜRKİYE GENELİ • 3 • GENEL KÜLTÜR TESTİ

1	A	2	B	3	E	4	A	5	B	6	D	7	C	8	C	9	D	10	B	11	A	12	E	13	C	14	B	15	A
16	A	17	D	18	E	19	E	20	D	21	C	22	E	23	E	24	B	25	A	26	C	27	A	28	A	29	A	30	C
31	E	32	C	33	B	34	E	35	D	36	A	37	B	38	E	39	E	40	D	41	A	42	E	43	C	44	A	45	E
46	D	47	D	48	D	49	E	50	E	51	B	52	C	53	A	54	B	55	C	56	C	57	E	58	A	59	C	60	A