

2022  
KPSS

# KOZMİK ODA

Lise ve Ön Lisans Düzeyinde

## TÜM DERSLER SOPRU BANKASI

GENEL YETENEK - GENEL KÜLTÜR



TAMAMI DİJİTAL  
ÇÖZÜMLÜ



AKADEMİ  
DENİZİ



PODCAST  
KONU ANLATIM  
DESTEĞİ



**KPSS - LİSE ÖN LİSANS  
GENEL YETENEK - GENEL KÜLTÜR  
TÜM DERSLER  
SORU BANKASI**

**Yayın Koordinatörü**  
Selim IŞIK

**Yazarlar**  
Komisyon


**ISBN**  
978-605-73968-2-2


**Baskı**

© COPYRIGHT AKADEMİ DENİZİ YAYINCILIK

Bu kitabın her türlü yayım hakkı Akademi Denizi Yayıncılık'a aittir. Bu kitabın baskısından 5846 ve 2936 sayılı Fikir ve Sanat Eserleri Yasası hükümleri gereğince kaynak gösterilerek bile olsa alıntı yapılamaz, herhangi bir şekilde çoğaltılamaz, genel ağ ve diğer elektronik ortamlarda yayımlanamaz.

**AKADEMİ DENİZİ YAYINCILIK**

 Saray Mah. Fatih Sultan Mehmet Blv. No: 316  
Kahramankazan / ANKARA

 T.C. Kültür ve Turizm Bakanlığı Sertifika No  
52497

 0552 518 06 06

 akademideniziyayincilik@hotmail.com

 www.akademidenizi.com.tr



**TÜRKÇE**



**TARİH**



**COĞRAFYA**



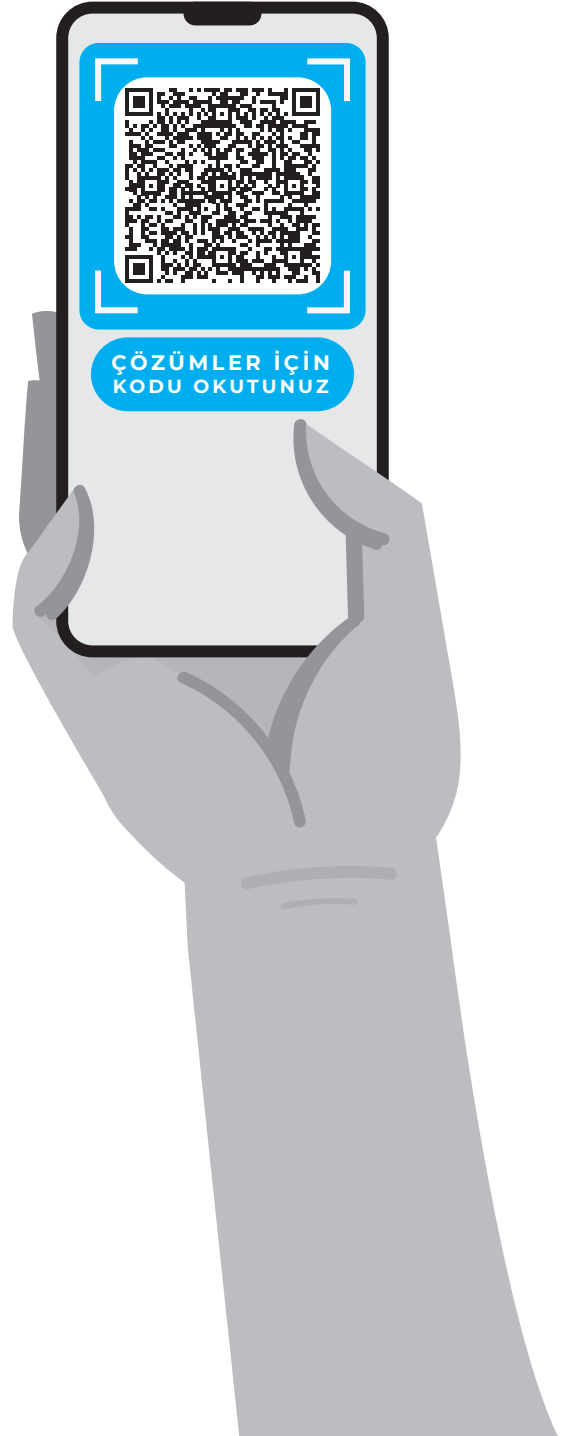
**ANAYASA**



## İÇİNDEKİLER

■ TÜRKÇE	5
■ MATEMATİK	125
■ TARİH	227
■ COĞRAFYA	337
■ TEMEL YURTTAŞLIK BİLGİSİ (ANAYASA)	437
■ GÜNCEL BİLGİLER	473

**PDF çözümler için QR kodu okutunuz.**  
ya da  
**[www.akademidenizi.com.tr](http://www.akademidenizi.com.tr)**  
adresini ziyaret ediniz.



1. Okumak için kitap seçerken sizinkine hiç benzemeyen bir hayatın alt yazısından hikâyesini bulmak mıdır isteğiniz? Ya da sizinkine benzer bir hayatın sıyrıntılarından hiç de bilmediğiniz yanları bulmak mı?

**Bu parçada geçen "alt yazısı" sözüyle anlatılmak istenen aşağıdakilerden hangisidir?**

- A) Yönlendirme özelliği olan  
B) Açıkça söylenmeyen ancak sezilebilen  
C) Herkesin ilgisini çekecek nitelikte olan  
D) Belli bir düşünceyi benimsetmeye çalışan  
E) Anlatılmak istenene, karşıt bir düşünceden yola çıkarak varan

2. Aşağıdaki cümlelerden hangisi ayraç içinde verilen anlamı içermektedir?

- A) Osmanlı Dönemi'nde gündelik hayatta, koku veren maddelerin kullanımı önem taşırdı. (neden)  
B) İçine gül suyu konan gülabdanlar hemen hemen her evde bulunurdu. (zorunluluk)  
C) Gülabdan, üst kısmında ince bir ağzı olan ve gül suyu serpmeye kullanılan özel bir kaptı. (işlev)  
D) Gül suyu; hem kolonya yerine kullanılır hem de su muhallebisi, güllaç, aşure gibi tatlıların üzerine dökülürdü. (kaliteli)  
E) Topkapı Sarayı'nda biri kuşluk vakti, diğeri akşam olmak üzere günde iki kez tütsü yakılır, gül suyu ve kahve ikram edilirdi. (çıkarım)

3. Aşağıdakilerden hangisi, "Kuru pantolon ile balık tutulmaz." sözüyle anlatılmak istenene benzer bir anlam taşımaktadır?

- A) Ateş olmayan yerden duman çıkmaz.  
B) Taşıma su ile değirmen dönmez.  
C) Dereyi geçerken at değiştirilmez.  
D) Emek olmadan yemek olmaz.  
E) Kuru laf karın doyurmaz.

4. "Depresyon, sinir sisteminin gribidir ve tedavisi şarttır." diyen bir doktor böyle bir benzetme yaparak, depresyonla ilgili aşağıdakilerden hangisini anlatmak istemiş olabilir?

- A) Yaygın olarak görülebileceğini  
B) Tedavisinin güç olduğunu  
C) İlaçla tedavi edilebileceğini  
D) Ciddi bir hastalık olduğunu  
E) Sinir sistemi hastalığı olduğunu

5. Dilin çeperlerinde gezinen üslubuyla, bir grup Çinlinin arasındaki İskandinav gibi dikkat çeken öyküler bunlar. Öte yandan okuru heyecanlandıran ancak izlenmesi güç bir anlatımı var. Bilinç akışına yakın, dikkatin kolayca dağılmasına izin verecek bir teknikle kaleme alınmış. Dikkatinizi toplamaya çalıştıkça hikâye bambaşka yerlere savruluyor.

**Bu parçadaki altı çizili sözle, anlatılan öykülerin hangi özelliği belirtilmiştir?**

- A) Sıra dışılığı  
B) Etkileyiciliği  
C) Kalıcı olması  
D) Anlaşılmazlığı  
E) Bütünlükten yoksunluğu

6. Biz de Tanzimat Dönemi'ndeki yenilik hareketleri, eskiye ait her şeyi inkâr ve reddetmekle işe başladığı içindir ki bu dönemde, birikimlerin gücünü kullanmadan sıfır noktadan sıçramanın zorluğu yaşandı.

**Bu parçada geçen "sıfır noktasından sıçrama" sözüyle anlatılmak istenen aşağıdakilerden hangisidir?**

- A) Sıkıntıya düşme  
B) Kolayına kaçma  
C) Değersiz olma  
D) İşe baştan başlama  
E) Gelinek noktasının gerisine düşme

7. Denilmiştir ya, her büyük ozan bir sözcük simyacısıdır, günlük dilin söz değerlerinden şiir yüklü bulutlar oluşturur; sözcüklerin göklerinde dolaştırır bunları. İşte Edip Cansever de böyle ozanlardandır.

**Bu parçada geçen “şiir yüklü bulutlar oluşturma” sözüyle sözcüklere yönelik olarak anlatılmak istenen aşağıdakilerden hangisidir?**

- A) Okuyanda derin izler bırakma  
B) Yeni anlamlar kazanma  
C) Farklı bir yolla türetilme  
D) Yerli yerinde kullanılma  
E) Düş dünyasını geliştirme

8. Gecenin geç saatlerinde, her şeyin sustuğu,

I  
havanın durulduğu anlarda, bir köşeye çekilip şiir okurum. İçime dolan dizelerle birlikte atan kalbimi

II  
duyarım; bu, beni alır başka yerlere götürür. Sanki odamın kapalı penceresi ansızın açılır,

III  
uyuklayan perdeler uçuşmaya başlar. Odaya  
IV

ilkbahar meltemiyle birlikte taze bir ışık dolar.  
V

**Bu parçadaki altı çizili sözlerden hangisinde öz-nellik yoktur?**

- A) I. B) II. C) III. D) IV. E) V.

9. **Aşağıdaki cümlelerin hangisinde sanatlı bir söyleyiş yerine düz bir anlatım yeğlenmiştir?**

- A) Gece vakti açılan ağıl kapısından çıkan kuzuların meleme sesleri ta terastan duyuluyordu.  
B) Gecenin sessizliği, yorgun bir traktörün gürültüsüyle bozulmuştu.  
C) Simsiyah zeytinler, sızıp giden yağlarıyla altın suyu olup akıyordu.  
D) İşte ömrü boyunca ettiklerinin hasadını yapma günü gelmişti.  
E) Küçük havuzun fıskiyesi tarihin derinliklerinden haberler getiriyordu.

10. (I) Doğu Afrika kıyısı açıklarındaki Madagaskar Adası, yaklaşık 150 milyon yıl önce ana karadan ayrıldı. (II) Bu yüzden adada benzersiz bitki ve hayvan toplulukları gelişti. (III) Birçok tür sadece bu adada yetişiyor, yani endemik. (IV) Yakın zamana kadar, adada 244 kurbağa türü olduğu bilinirken şimdi bilinen tür sayısı 460'lara ulaştı. (V) Araştırmacılar, buradaki tür zenginliğine, standart tür tespiti yöntemleri yanında gen analizi yöntemini de kullanarak ulaştılar. (VI) Araştırmacılar, türleri adlandırıp bunların ayrıntılı tarifini yaptıktan sonra bu türleri, tür tanımlamada temel alınan bir örnek olan holotip ilan ediyorlar.

**Bu parçadaki numaralanmış cümlelerin hangilerinde terim ve açıklaması birlikte verilmiştir?**

- A) I. ve II. B) II. ve III. C) III. ve V.  
D) III. ve VI. E) V. ve VI.

11. Her edebî dönem, kendisinden sonraki dönem için bir basamak oluşturur. Divan şiirinin en büyükleri arasında yer alan Fuzuli, Baki gibi şairler, isimlerini çok da anmadığımız Hoca Dehhani, Ahmedi gibi şairlerin gölgesinde yazmasalardı günümüze kalabilirler miydi?

**Bu parçada geçen “gölgesinde yazmak” sözüyle anlatılmak istenen aşağıdakilerden hangisidir?**

- A) Birikimlerinden yararlanmak  
B) Unutulmalarını engellemek  
C) Değerli olduklarını kabullenmiş görünmek  
D) Bugünkü kuşaklara örnek göstermek  
E) Dünya görüşlerini yansıtmak

12. “Akıllı uslu” insanların oturmuş dünyalarında, gerçeğin tek bir tanımı üzerinde anlaşma sağlanamaması belki de, “hakikat”ın yalnızca aklın karşı kıyısına geçmiş insanların kavrayacağı türden bir gerçeklik olmasından kaynaklanıyordu, kim bilir?

**Bu cümlede geçen “aklın karşı kıyısına geçmiş insan” sözüyle anlatılmak istenen aşağıdakilerden hangisidir?**

- A) Elindeki imkânları gereği gibi kullanmayı bilen  
B) İstekli olmanın, başarının anahtarı olduğuna inanan  
C) Başkalarıyla ortak noktalarda buluşmayı amaçlayan  
D) Gerektiği zaman duygularına hâkim olabilen  
E) Düşüncenin sınırlarını zorlayan

1.  $x + 1$  tek sayı ise aşağıdakilerden hangisi daima çift sayıdır?

A)  $x^2 + 3$       B)  $5x^3$       C)  $x^3 + 5$   
D)  $x + 7$       E)  $x^2 + 2x + 1$

2.  $a$  ve  $b$  birer rakam olmak üzere,  
 $a \cdot b = 30$   
olduğuna göre,  $a$ 'nın alabileceği kaç farklı değer vardır?

A) 9      B) 8      C) 7      D) 5      E) 2

3.  $\begin{array}{r} \dots \text{ (I. çarpan)} \\ \times 213 \text{ (II. çarpan)} \\ \hline \dots \\ \dots \\ + 2002 \\ \hline \dots \end{array}$

Yukarıdaki çarpma işleminde her bir nokta bir rakam belirtmektedir.

Buna göre,  $a + b + c + d$  toplamı kaçtır?

A) 5      B) 6      C) 7      D) 8      E) 9

4. Ardışık 5 tek sayının toplamı  $t$  olduğuna göre, bu sayıların en büyüğünün  $t$  cinsinden değeri nedir?

A)  $\frac{t}{5}$       B)  $\frac{t+5}{5}$       C)  $\frac{t+10}{5}$   
D)  $\frac{t+20}{5}$       E)  $\frac{t+25}{5}$

5.  $a$ ,  $b$  ve  $c$  ardışık üç tam sayı ve  $a < b < c$  dir.

$$2a - 3b + 4c = 74$$

olduğuna göre,  $a + b + c$  toplamı kaçtır?

A) 72      B) 73      C) 75      D) 80      E) 84

6. Bir öğrenci üç basamaklı  $ab2$  sayısını 6 ile çarpıp sonucu 3012 buluyor. Fakat işlemi kontrol ederken  $ab2$  sayısının yüzler basamağındaki 1 rakamını 5 olarak gördüğünü anlıyor.

Öğrenci rakamı doğru görseydi sonucu kaç bulacaktı?

A) 512      B) 548      C) 600      D) 610      E) 612

7.  $x$ ,  $y$  ve  $z$  ardışık çift doğal sayılar ve  $x < y < z$  dir.

$$\frac{5(y-z) + 3(x-z)}{2(z-y)}$$

işleminin sonucu kaçtır?

A)  $-\frac{11}{2}$       B) -1      C) 2      D) 4      E) 5

8. Ardışık iki pozitif tek sayıdan küçük olanın 2 katı ile büyük olanın 5 katının toplamı 227 dir.

Buna göre, büyük sayı kaçtır?

- A) 29 B) 31 C) 33 D) 35 E) 37

9. n bir doğal sayı olmak üzere 1 den n ye kadar olan sayıların toplamı x, 8 den n ye kadar olan sayıların toplamı ise y ile gösteriliyor.

$x + y = 278$  olduğuna göre, x kaçtır?

- A) 122 B) 145 C) 153 D) 173 E) 200

10. 
$$\begin{array}{r} \text{ABD} \quad \text{AC} \\ \underline{\text{BBC}} \quad \underline{\text{BD}} \\ 294 \quad ? \end{array}$$

Solda verilen çıkarma işlemine göre, sağdaki çıkarma işleminin sonucu kaçtır?

- A) 44 B) 36 C) 34 D) 26 E) 24

11. a, b, c birer pozitif doğal sayı olmak üzere,  $a + b + c = 9$

olduğuna göre, a . b . c çarpımı aşağıdakilerden hangisi olabilir?

- A) 17 B) 23 C) 24 D) 29 E) 31

12. x ve y iki doğal sayı olmak üzere,

$$x \cdot y = 27$$

olduğuna göre, x + y toplamının en büyük değeri kaçtır?

- A) 16 B) 18 C) 23 D) 28 E) 32

13. a, b, c pozitif tam sayılar.

$$3a = 2b \text{ ve } 4a = 5c$$

olduğuna göre, a + b + c toplamının en küçük değeri kaçtır?

- A) 99 B) 66 C) 39 D) 36 E) 33

14. a ve b birer negatif tam sayılardır.

$$a = 3b$$

olduğuna göre, a en çok kaç olabilir?

- A) -3 B) -2 C) -1 D) 0 E) 1



1. İranlı Şair Firdevsi'nin Gazneli Mahmut'a sunduğu "Şehname" adlı eseri, hangi Türk boyunu konu edinmektedir?

- A) Kimekler B) Sibirler C) Peçenekler  
D) İskitler E) Avarlar

2. I. Göktürk yazıtları  
II. Dîvânu Lugâti't Türk  
III. Çin yıllıkları

Türk yasaları ile ilgili ilk kayıtlar hangi kaynaklardan elde edilmiştir?

- A) Yalnız I B) Yalnız II C) Yalnız III  
D) I ve III E) I, II ve III

3. Şine-usu yazıtı hangi Türk devletinden kalmadır?

- A) Göktürkler B) Avarlar C) Uygurlar  
D) Kırgızlar E) Oğuzlar

4. Hristiyanlığı kabul eden ilk Türk topluluğu aşağıdakilerden hangisidir?

- A) Uygurlar B) Peçenekler C) Macarlar  
D) Bulgarlar E) Avarlar

5. Aşağıdaki yöneticilerden hangisi döneminde Türk veraset anlayışında ilk değişim gerçekleşmiştir?

- A) Teoman B) Metehan C) Kültigin  
D) Atilla E) Mukan

6. I. Türgiş  
II. Kuman  
III. Peçenek

Yukarıdaki Türk devletlerinden hangileri, Rusların Karadeniz'e inmesine engel olmuştur?

- A) Yalnız I B) Yalnız II C) Yalnız III  
D) I ve II E) II ve III

7. ---, Hazar Devleti'nin başkentidir.

Öncüde verilen boşluğa aşağıdakilerden hangisi getirilmelidir?

- A) Kaşgar B) Sarkel C) Ötüken  
D) Karabalasagun E) Belencer

8. Moğolların Türkleşmesinde önemli rol oynayan Türk topluluğu, aşağıdakilerden hangisidir?

- A) Kırgızlar B) Uygurlar C) Hunlar  
D) Avarlar E) Türgişler

9. Türk Devlet veya topluluklarının yıkılmasında genellikle bir başka Türk Devlet veya topluluğu etkili olmuştur.

- I. Türgişler
- II. Asya Hunları
- III. Peçenekler

**Yukarıda verilen Türk devlet ve topluluklarından hangileri, bu genellemeye uymaz?**

- A) Yalnız I      B) Yalnız II      C) Yalnız III  
D) I ve III      E) I, II ve III

10. I. Hazarlar  
II. Başkurtlar  
III. Avarlar

**Yukarıdakilerden hangilerinin, Gök-Tanrı dini dışındaki inançları kabul ettiği söylenebilir?**

- A) Yalnız I      B) Yalnız II      C) I ve II  
D) II ve III      E) I, II ve III

11. "Moyen-Çor" yazıtı hangi Türk Devleti'nden kalmamış bir eserdir?

- A) Hunlar      B) Göktürkler      C) Uygurlar  
D) Karluk      E) Hazarlar

12. Sasanilere karşı Bizans İmparatorluğu ile anlaşan kişi aşağıdakilerden hangisidir?

- A) İstemi Yabgu      B) Ki-ok      C) Teoman  
D) Bumin Kağan      E) Mukan Kağan

13. "Türkiye" tabiri, Anadolu'dan önce;

- I. Suriye,
- II. Mısır,
- III. Orta Asya

**bölgelerinden hangileri için kullanılmıştır?**

- A) Yalnız I      B) Yalnız II      C) Yalnız III  
D) I ve III      E) I, II ve III

14. Uygurlar, hangi hükümdar döneminde hem Orta Asya'da hem de Çin'de etkin olmuşlardır?

- A) Sulu Kağan  
B) Moyen-Çor  
C) Böğü Kağan  
D) Baga Tarkan  
E) Mukan Kağan

15. I. Uygur  
II. Karluk  
III. Kırgız

**Yukarıdakilerden hangileri Kutluk (II. Göktürk) Devleti'nin yıkılmasında etkili olmuştur?**

- A) Yalnız I      B) Yalnız II      C) Yalnız III  
D) I ve II      E) I, II ve III

16. Rus edebiyatının tanınmış eserlerinden olan "İgor Destanı"na konu olan Türk devleti aşağıdakilerden hangisidir?

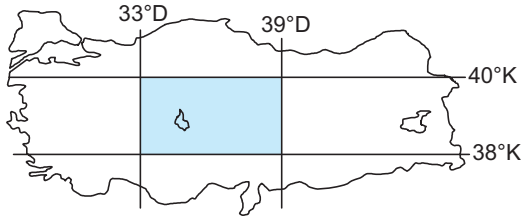
- A) Türgişler      B) Kıpçaklar      C) Avarlar  
D) Hazarlar      E) Peçenekler

1. Dünya günlük hareketini doğudan batıya doğru yapmış olsaydı Türkiye'de;
- İzmir'de yerel saatin lğdır'dan daha geri olması,
  - Ankara'nın doğal bitki örtüsünün bozkır olması,
  - Ağrı'da Güneş'in Edirne'den önce doğması,
  - İstanbul'da nüfus yoğunluğunun Kars'tan fazla olması

durumlarından hangilerinde bir değişiklik gözle-  
nirdi?

- A) Yalnız II                      B) I ve III                      C) II ve III  
D) III ve IV                      E) I ve IV

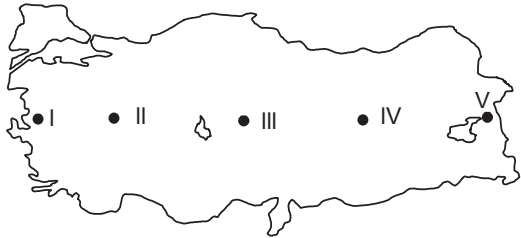
2.



Yukarıdaki Türkiye haritasında gösterilen taralı alanın matematik konumu tanımlanırken aşağıdaki paralel ve meridyen değerlerinden hangisi kullanılmaz?

- A) 33° D                      B) 39° D                      C) 38° K  
D) 39° K                      E) 40° K

3.



Dünya'nın kendi eksenini etrafındaki dönüş yönü dikkate alınırsa yukarıdaki Türkiye haritası üzerinde işaretlenen noktalardan hangisi Güneş'in karşısından en son geçer?

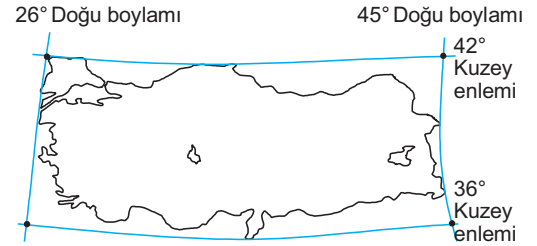
- A) I                      B) II                      C) III                      D) IV                      E) V

4. Türkiye, Kuzey Yarım Küre'de yer alır.

Aşağıda verilenlerden hangisi bu durumun sonucu değildir?

- A) Hatay'da iki meridyen arası mesafenin Konya'da-  
kinden fazla olması  
B) Güneyden kuzeye doğru gidildikçe gece-gündüz  
süre farkının uzaması  
C) Paralellerin uzunluğunun İzmir'den Muğla'ya gi-  
dildikçe azalması  
D) En yüksek sıcaklık ortalamaların temmuz ayın-  
da görülmesi  
E) Antalya'da deniz turizmi süresinin Amasra'dan  
uzun olması

5. Aşağıda Türkiye haritası üzerinde, Türkiye'nin coğ-  
rafi koordinatları gösterilmiştir.



Türkiye'nin yine 36° - 42° kuzey paralelleri ara-  
sında olup ancak meridyen değerlerinin 26° - 45°  
batı meridyenleri şeklinde değiştiği kabul edilir-  
se; aşağıdaki özelliklerinden hangisinin kesinlik-  
le değişeceği söylenebilir?

- A) Ekvator'a olan uzaklığı  
B) Çizgisel ve açısal hızı  
C) Ekinokslardaki gündüz uzunluğu  
D) Bulunduğu saat dilimleri  
E) Kuzeyi ve güneyi arasındaki kuş uçuğu uzaklığı

6. Türkiye'de Güneş'in doğuş anı ile batış anı ara-  
sında geçen sürenin en uzun olduğu bir günde  
takvimler hangi tarihi gösterir?

- A) 21 Aralık                      B) 21 Haziran                      C) 21 Mart  
D) 31 Ağustos                      E) 30 Ocak

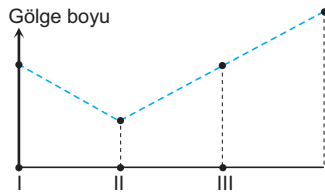
7. Aşağıdaki tabloda bazı bölgelerimizin enlem – boylam değerleri gösterilmiştir.

Bölgeler	Enlem Dereceleri	Boylam Dereceleri
Doğu Anadolu	36°55' - 41°30'K	36°30' - 44°50'D
Karadeniz	39°40' - 42°10'K	30°10' - 42°50'D
Akdeniz	36°20' - 38°40'K	28°10' - 37°40'D
Güneydoğu Anadolu	36°40' - 38°30'K	37°10' - 42°40'D

**Bu bilgiler incelendiğinde, aşağıdaki sonuçlardan hangisine ulaşamaz?**

- A) En fazla enlem farkı Doğu Anadolu'dadır.  
 B) Yerel saat farkı en fazla olan bölge Karadeniz'dir.  
 C) Akdeniz ve Güneydoğu Anadolu'ya Güneş ışınları daha dik gelir.  
 D) Karadeniz'deki cisimlerin gölge boyu Akdeniz'dekilerden uzundur.  
 E) Karadeniz'in gerçek alanı Doğu Anadolu'dan daha fazladır.

8. Aşağıdaki grafikte Türkiye'deki bir cismin yılın değişik tarihlerinde ölçülen gölge uzunluğu gösterilmiştir.



**Bu grafikte I, II ve III ile işaretlenen noktadaki gölge uzunluğu, sırasıyla hangi tarihlerde kaydedilmiştir?**

	I	II	III
A)	21 Mart	23 Eylül	21 Haziran
B)	21 Aralık	23 Eylül	21 Haziran
C)	21 Haziran	23 Eylül	21 Mart
D)	21 Haziran	21 Haziran	21 Aralık
E)	21 Mart	21 Haziran	23 Eylül

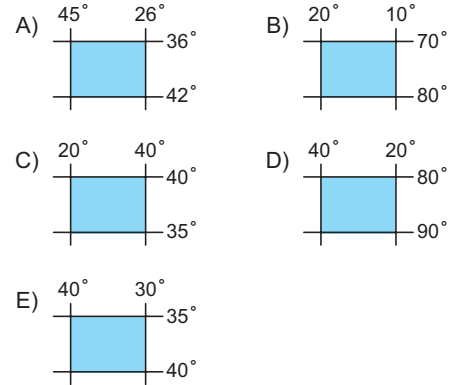
9. Ankara 33° doğu meridyeni ve 40° kuzey paraleli üzerinde yer almaktadır.

**Buna göre, aşağıdaki paralellerden hangisi üzerinde bulunan bir kentte ve verilen tarihte gündüz süresi Ankara'dan daha uzun olur?**

- A) 50° Kuzey Paraleli – 21 Mart  
 B) 50° Doğu Meridyeni – 21 Haziran  
 C) 50° Batı Meridyeni – 21 Haziran  
 D) 50° Kuzey Paraleli – 21 Haziran  
 E) 50° Kuzey Paraleli – 23 Eylül

10. Türkiye 36° - 42° Kuzey paralelleriyle, 26° - 45° Doğu meridyenleri arasında yer alır.

**Buna göre, aşağıda coğrafi koordinatları verilen alanlardan hangisinin Türkiye'ye daha yakın olduğu söylenebilir?**



11. I. Akdeniz'den Karadeniz'e doğru gidildikçe kıyıların tuzluluk oranı azalır.  
 II. Çanakkale'den Erzurum'a doğru gidildikçe tarım ürünleri daha geç olgunlaşır.  
 III. 21 Mart günü cisimlerin öğle vakti oluşan gölge boyları kuzeye doğru gidildikçe uzar.  
 IV. Temmuz ayında Mersin'den Mardin'e doğru gidildiğinde sıcaklık ortalaması artar.

**Yukarıdakilerden hangileri Türkiye'nin mutlak konumuyla ilgilidir?**

- A) I ve II  
 B) I ve III  
 C) II ve III  
 D) II ve III  
 E) III ve IV

1. Türk hukuk sisteminde "kişilik" ile ilgili olarak aşağıdakilerden hangisi doğru değildir?

- A) Gerçek kişilik, çocuğun sağ olarak tamamıyla doğduğu andan itibaren başlar.
- B) Gerçek kişiler açısından hak ehliyeti sahibi olabilmek için tam ve sağ doğmaktan başka bir şart yoktur.
- C) Gerçek kişilik ölüm, ölüm karinesi ve gaiplik ile son bulur.
- D) Ölüm tehlikesi içinde kaybolan bir kimsenin ölümü hakkında kuvvetli olasılık varsa hakları bu ölüme bağlı olanların başvurusu üzerine, mahkeme bu kişinin gaipliğine karar verebilir.
- E) Ergin (reşit) olmak, on sekiz yaşın doldurulması-ma müteakip evlenmeyle başlar.

2. I. Borçlar hukuku  
II. Ceza hukuku  
III. İdare hukuku

Yukarıdakilerden hangileri özel hukukun dalları arasında gösterilemez?

- A) Yalnız I                      B) Yalnız II                      C) Yalnız III  
D) I ve III                      E) II ve III

3. Bir toplumda belli bir zamanda yürürlükte bulunan yazılı ve yazısız kurallara ne ad verilir?

- A) objektif hukuk                      B) mevzu hukuk  
C) pozitif hukuk                      D) tarihî hukuk  
E) tabii hukuk

4. Emredici hukuk kurallarına aykırı olduğundan yapılan bir işlemin baştan itibaren geçersiz olması ne ad verilir?

- A) ceza  
B) yokluk  
C) iptal  
D) mutlak butlan  
E) nisbi butlan

5. Ceza kanunlarının geçmişe yürümemesi ilkesi, aşağıdakilerden hangisinin doğrudan oluşturur?

- A) Kusur ilkesinin  
B) Zaman bakımından uygulanmasının  
C) Geri verme ilkesinin  
D) Yaptırımların  
E) Kastın

6. Aşağıdakilerden hangisi, Türk hukukunda derneklerin kuruluşunda kabul edilen sistemdir?

- A) Tescil sistemi  
B) Yetkili makam kararı  
C) Bildirim sistemi  
D) İzin sistemi  
E) Görüş alma sistemi

7. Güvenlik tedbirlerinin zaman bakımından uygulanmasında geçerli olan ilke, ---- ilkesinin doğal bir sonucu olarak ---- ilkesidir.

Bu cümlede verilen boşluklara gelebilecek en uygun kelimeler sırasıyla aşağıdakilerden hangisidir?

- A) kanunilik - geçmişe yürümezlik  
B) geçmişe yürümezlik - derhâl uygulama  
C) kanunilik - derhâl uygulama  
D) derhâl uygulama - geçmişe yürürlük  
E) geçmişe yürümezlik - kanunilik

8. "Suçu ve suçluyu övme" Türk Ceza Kanunu'na göre ne tür bir suçtur?

- A) Kamunun güvenine karşı işlenen suç  
B) Genel ahlaka karşı işlenen suç  
C) Kamunun sağlığına karşı işlenen suç  
D) Kamu barışına karşı işlenen suç  
E) Adliye karşı işlenen suç

9. Aşağıdakilerden hangisi yenilik doğuran haklardan biri değildir?

- A) Seçimlik borçlarda seçim hakkı
- B) Takas
- C) Aynen ifa ile birlikte gecikme tazminatı talep etme hakkı
- D) Aynen ifadan vazgeçerek müspet zararın tazminini talep etme hakkı
- E) Mirasın reddi

10. Belirli bir eylem, davranış veya ilişki hakkındaki kanun hükmünün hemen hemen aynı olan veya ona çok benzeyen ancak kanunda düzenlenmemiş bulunan bir eylem, davranış ve ilişkiye de uygulanmasına ne ad verilir?

- A) Kanunun evleviyetle uygulanması
- B) Kanunun zıt kanıt yöntemiyle uygulanması
- C) Amaçsal yorum
- D) Sözel yorum
- E) Mantıksal yorum

11. I. Ergin olmak

II. Dava konusu ile meşru bir menfaat ilişkisi bulunmak

III. T.C. vatandaşı olmak

**Yukarıdakilerden hangileri iptal davası açma ehliyeti yönünden davacıda bulunması zorunlu niteliklerdir?**

- A) Yalnız I
- B) Yalnız II
- C) I ve II
- D) I ve III
- E) I, II ve III

12. Aşağıdaki durumlardan hangisinde, hak ehliyetinin sınırlanması söz konusu değildir?

- A) Kişinin ergin kılınması isteminde bulunabilmesi için 15 yaşını doldurmuş olması gerekir.
- B) Kişinin kefil olabilmesi için ergin olması, kısıtlı olmaması ve ayırt etme gücüne sahip olması gerekir.
- C) Evli olmayan bir kişinin evlat edinme hakkına sahip olabilmesi için otuz yaşını doldurmuş olması gerekir.
- D) Yasal bekleme süresi içinde kadının evlenememesi kuralı getirilmiştir.
- E) Dinini seçme hakkı, ergin olanlara tanınmış bir haktır.

13. Aşağıdaki karinelere hangisi, hukukumuzda kesin karine niteliğini taşımaktadır?

- A) Babalık karinesi
- B) Tapu sicilindeki kayıtların herkesçe bilindiği karinesi
- C) Taşınırlarda zilyetlikten kaynaklanan mülkiyet karinesi (zilyetlikte hak karinesi)
- D) Birlikte ölüm karinesi
- E) Gaiplik karinesi

14. Medeni hukukta çocuğun, anasının vücudundan ayrılarak bağımsız bir varlık hâline gelmesine ne ad verilir?

- A) Tam doğum
- B) Canlı doğum
- C) Sağ doğum
- D) Net doğum
- E) Maddi doğum

15. Sınırlı ehliyetliler ile ilgili aşağıdaki ifadelerden hangisi yanlıştır?

- A) Kendilerine yasal danışman atanmış olanlar da sınırlı ehliyetli sayılır.
- B) Sınırlı ehliyetliler, ergin ve ayırt etme gücüne sahip bulunan ve aynı zamanda da kısıtlı olmayan kişilerdir.
- C) Evli kişilerden sadece kadın, sınırlı ehliyetli kabul edilir.
- D) Sınırlı ehliyetliler, işlemiş oldukları bütün haksız fiillerin sonucundan bizzat sorumludur.
- E) Sınırlı ehliyetlilerde sınırlılık istisna olup özellikle hukuki işlem ehliyeti alanındadır.

16. Bir küçüğün ergin kılınması için aşağıdaki koşullardan hangisinin varlığı aranmaz?

- A) On beş yaşın doldurulması
- B) Küçüğün istemde bulunması
- C) Velayet kaldırılmış olsa bile ana ve babanın rızası
- D) Küçüğün menfaati
- E) Mahkeme kararı

1. 2022 NATO zirvesi aşağıdaki ülkelerden hangisinde yapılacaktır?

- A) Litvanya B) İspanya C) Belçika  
D) Türkiye E) Almanya

2. Üyelerinin güvenliğini sağlamak ve istikrarın gelişmesine katkıda bulunmak amacıyla, 1949 tarihinde kurulan uluslararası kuruluş aşağıdakilerden hangisidir?

- A) Kuzey Atlantik Örgütü (NATO)  
B) Dünya Ticaret Örgütü (DTÖ)  
C) Ekonomik İş Birliği ve Kalkınma Örgütü (OECD)  
D) Avrupa Birliği (AB)  
E) Uluslararası Para Fonu (IMF)

3. Türkiye aşağıdaki uluslararası örgütlerden hangisine üye değildir?

- A) İslam İşbirliği Teşkilatı  
B) Bağımsız Devletler Topluluğu  
C) Ekonomik İş Birliği Örgütü  
D) Kuzey Atlantik Antlaşması Örgütü  
E) Avrupa Güvenlik ve İş Birliği Teşkilatı

4. Aşağıdaki eserlerden hangisi 1998 Nobel Edebiyat Ödülü'nün sahibi Portekizli yazar Lose Saramago'ya ait değildir?

- A) *Kalecinin Penaltı Anındaki Endişesi*  
B) *Körlük*  
C) *Görmek*  
D) *Ölüm Bir Varmış Bir Yokmuş*  
E) *Mağara*

5. Türkiye'de yaratıcı fotoğrafçılığın uluslararası alanda ün kazanmış en önemli temsilcisi olan aşağıdaki sanatçılardan hangisi Ekim 2018'de hayatını kaybetmiştir?

- A) Şinasi Barutçu  
B) Sami Güner  
C) Ara Güler  
D) Onur Ercoşkun  
E) Kamil Fırat

6. Usta sanatçı Rasim Öztekin'in ortaoyununu temsil eden kavuğu devrettiği oyuncu aşağıdakilerden hangisidir?

- A) Şevket Çoruh  
B) Türker İnanoğlu  
C) Zafer Ergin  
D) İker İnanoğlu  
E) Ferhan Şensoy

7. Aşağıdakilerden hangisi Bankacılık Düzenleme ve Denetleme Kurumunun görevleri arasında yer almaz?

- A) Finansal piyasalarda güven ve istikrarı sağlamak  
B) Finansal sisteme rekabet gücü kazandırıcı ortamı hazırlamak  
C) Fiyat istikrarını sağlamak için uygulanacak para politikasını belirlemek  
D) Kredi sisteminin etkin bir şekilde çalışmasını temin etmek  
E) Tasarruf sahiplerinin hak ve menfaatlerini korumak

8. Dünya Sağlık Örgütü Yeni Corona Virüsü'nden ortaya çıkan hastalığa aşağıdakilerden hangisinin adını vermiştir?

- A) Corona-20 B) Covid-19  
C) Vuhan-20 D) Çin-19  
E) Pangolin-15

9. 10 Nisan 2019'da bilim insanları aşağıdaki gökci-  
simlerinden hangisinin fotoğrafını ilk kez görüntü-  
lemiştir?

- A) Uzay boşluğu
- B) En büyük yıldız
- C) En büyük gezegen
- D) Kara delik
- E) En uzak yıldız

10. UNESCO Dünya Miras Listesi'nde bulunan ve ta-  
rihin bilinen en eski tapınağı olarak kabul edilen  
eser aşağıdakilerden hangisidir?

- A) Stonehenge Tapınağı
- B) Perre Antik Kenti
- C) Göbeklitepe Tapınağı
- D) Mısır Piramitleri
- E) Süleyman Mabedi

11. Aşağıdaki devletlerin hangisinde devlet başkanı  
doğrudan halk tarafından seçilmektedir?

- A) İtalya
- B) İngiltere
- C) Yunanistan
- D) Almanya
- E) Amerika Birleşik Devletleri

12. Türkiye Cumhuriyeti Mahkemeleri'nin adli (resmi)  
bilirkişilik kurumu olarak yasa ile kurulan kuruluş  
aşağıdakilerden hangisidir?

- A) Ceza İnfaz Kurumu
- B) Türkiye İnsan Hakları ve Eşitlik Kurumu
- C) Türkiye Adalet Akademisi
- D) İşyurtları Kurumu
- E) Adli Tıp Kurumu

13. Tanımladığı hastalığa kendi ismi verilen Türk der-  
matoloji profesörü aşağıdakilerden hangisidir?

- A) Hulusi Behçet
- B) Gazi Yaşargil
- C) Ömer Özkan
- D) Yusuf Durlu
- E) Vural Fidan

14. Aşağıdaki ülkelerden hangisi, kişi başına düşen  
geliri çok yüksek olduğu hâlde "gelişmiş ülkeler"  
grubunda yer almaz?

- A) ABD
- B) Almanya
- C) İngiltere
- D) Suudi Arabistan
- E) Japonya

15. Aşağıdakilerden hangisi Kartal Tibet'in yönettiği  
yapımlardan biri değildir?

- A) *Tosun Paşa*
- B) *Umudumuz Şaban*
- C) *Şark Bülbülü*
- D) *Vurun Kahpeye*
- E) *Dünyayı Kurtaran Adamın Oğlu*

16. • 1974 Antalya Film Festivali'nde "En İyi Film" ödü-  
lünü almıştır.  
• Yönetmenliğini Lütfi Ömer Akad, yapımcılığını Hür-  
rem Erman üstlenmiştir.  
• Hülya Koçyiğit, Kamuran Usluer ve Hülya Sengül  
önemli oyuncularındandır.

Bu bilgiler aşağıdaki sinema filmlerinden hangisi-  
ne aittir?

- A) *Keşanlı Ali Destanı*
- B) *Düğün*
- C) *Çarklı Milyoner*
- D) *Tosun Paşa*
- E) *Sezercik Aslan Parçası*

www.akademidenizi.com.tr

AKADEMİ DENİZİ YAYINCILIK