

DÜNYADA BİR İLK

2023-2024
GÜNCEL TÜİK
VERİLERİ

CANLI
DERS
Destekli



TÜM ADAYLAR İÇİN

KPSS

COĞRAFYA

SORU BANKASI

Yasın Yağlı

KOZMİKODA
Serisi

AKADEMİ
DENİZİ

soru
pro

İÇİNDEKİLER

■ Türkiye'nin Coğrafi Konumu	5
■ Türkiye'nin Yeryüzü Şekilleri: İç Kuvvetler	29
■ Türkiye'nin Yeryüzü Şekilleri: Dış Kuvvetler	41
■ Türkiye'nin İklimi	75
■ Türkiye'nin Bitki Örtüsü	97
■ Türkiye'de Nüfus ve Göç	103
■ Türkiye'de Yerleşme	133
■ Türkiye'de Tarım	139
■ Türkiye'de Hayvancılık	171
■ Türkiye'de Ticaret	181
■ Türkiye'de Turizm	193
■ Türkiye'de Ulaşım	205
■ Türkiye'de Madenler ve Enerji Kaynakları	217
■ Türkiye'de Sanayi	233



TÜRKİYE'NİN COĞRAFI KONUMU

1. Aşağıdaki tabloda İstanbul ve Ankara illerinin koordinatları verilmiştir.

İller	Enlem	Boylam
Ankara	40° Kuzey	33° Doğu
İstanbul	41° Kuzey	29° Doğu

Bu illerin aşağıdakilerden hangisi bakımından kesinlikle ortak oldukları söylenebilir?

- A) 21 Mart'taki gündüz uzunluğu
B) 21 Aralık'taki gündüz uzunluğu
C) Güneş ışınlarının geliş açısı
D) Ekvatora olan uzaklıkları
E) Yerel saat

2. Son 30 yılda yakın çevremizde meydana gelen siyasi, sosyal ve ekonomik gelişmeler Türkiye'nin jeopolitik konumunda önemli değişikliklere yol açmıştır.

Bu duruma aşağıdaki gelişmelerinden hangisi örnek olarak gösterilemez?

- A) Sovyetler Birliği'nin dağılması
B) Hızlı küreselleşme süreci
C) Orta Asya ve Kafkas ülkelerinin bağımsızlığı
D) Balkanlar ve Orta Doğu'daki önemli olaylar
E) Rusya ve ABD arasında Soğuk Savaş Dönemi'nin başlaması

3.



Dünya'nın kendi eksenini etrafında dönüşü sırasında ortaya çıkan çizgisel hız, haritada verilen merkezlerin hangisinde en fazla olur?

- A) Bursa
B) Antalya
C) Zonguldak
D) Trabzon
E) Van

4. Türkiye'de güneyden kuzeye gidildikçe güneş ışınlarının geliş açısı düşer.

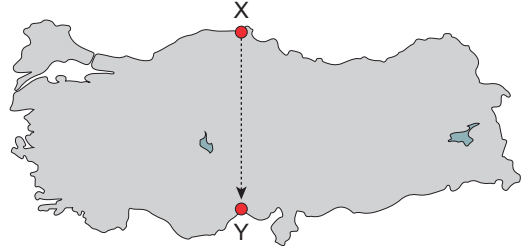
Buna göre;

- I. güneyden kuzeye gidildikçe sıcaklık ortalamaları düşer,
II. yer çekimi kuzeye gidildikçe artar,
III. Akdeniz'de tuzluluk oranı Karadeniz'den fazladır,
IV. yıllık ve günlük sıcaklık farkı iç kesimlerde gidildikçe artar

özelliklerden hangileri bu durumun bir sonucudur?

- A) I ve II
B) I ve III
C) II ve IV
D) I, III ve IV
E) I, II ve III

5.



Yukarıdaki Türkiye haritası üzerinde gösterilen hat üzerinde X noktasından Y noktasına doğru gidildikçe aşağıdaki durumlardan hangisi gözlemlenemez?

- A) Yer çekimi azalır.
B) Gölge boyları kısalır.
C) Güneş ışınlarının geliş açısı küçülür.
D) Gece-gündüz süreleri arasındaki fark azalır.
E) Dünya'nın çizgisel hızı artar.

6. Türkiye ile ilgili aşağıda verilenlerden hangisi özel (Görel) konum sonuçlarından biri değildir?

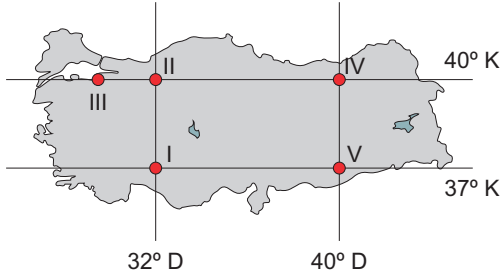
- A) Üç tarafın denizlerle çevrili olmasına bağlı olarak deniz turizminin gelişmesi
B) Çanakkale ve İstanbul Boğazlarına sahip olmasına bağlı olarak deniz yolu trafiğinin yoğun olması
C) Eğim ve yükseltinin fazla olmasına bağlı olarak hidroelektrik enerji potansiyelinin yüksek olması
D) Dağların uzanış doğrultusuna bağlı olarak güney yamaçlarının daha sıcak olması
E) Zengin yer altı kaynaklarına sahip olması



7. Türkiye'ye güneyden esen rüzgârlar sıcak karakterli, kuzeyden esen rüzgârlar ise soğuk karakterlidir. **Bu durum aşağıda verilenlerden hangisi ile ilgilidir?**

- A) Yükseltinin güneyden kuzeye gidildikçe artması
B) Engebenin fazla olması
C) Etrafının denizlerle çevrili olması
D) Mutlak konumu
E) Dağların uzanış doğrultusu

8. Türkiye $36^\circ - 42^\circ$ Kuzey paralelleri ile $26^\circ - 45^\circ$ Doğu meridyenleri arasında yer alır.



Buna göre, haritada verilen noktalar için aşağıdakilerden hangisi söylenemez?

- A) III. ve IV. noktalar güneş ışınlarını yıl boyunca aynı açı ile alır.
B) 25 Ocak'ta en uzun gece II. noktada yaşanır.
C) IV. noktada kuzeyden etkili olan rüzgârlar sıcaklığı düşürür.
D) 21 Aralıkta I. noktada gündüz süresi IV. noktadan uzundur.
E) I. ve II. noktalar aynı meridyen üzerinde yer aldığından Başlangıç Meridyenine aynı uzaklıktadır.

9. Türkiye orta enlemlerde ve ılıman iklim kuşağında yer alır.

Yalnızca bu bilgiye göre Türkiye için aşağıdakilerden hangisi söylenebilir?

- A) Yer şekilleri engebelerdir.
B) Mikroklima alanları fazladır.
C) Üç tarafı denizlerle çevrilidir.
D) Buzul yer şekilleri azdır.
E) Asya ve Avrupa'yı birbirine bağlar.

10. • Yol yapım maliyetleri fazladır.
• Kar yağışlı gün sayısı fazladır.
• İklim çeşitliliği fazladır.

Türkiye ile ilgili verilen bu özellikler aşağıdakilerden hangisinin sonucudur?

- A) Mutlak konum B) Enlem C) Görelî konum
D) Boylam E) Meridyen

11. Türkiye'nin jeopolitik konumunu etkileyen aşağıdaki sınır kapılarından hangisi farklı bir ülkedir?

- A) Yayladağı B) Akçakale C) Habur
D) Öncüpınar E) Cilvegözü

12. Türkiye'deki herhangi bir kent merkezinden geçen meridyen derecesi, o kentin hangi özelliği hakkında bilgi verir?

- A) Güneş ışığının geliş açısı
B) Ekvator'a olan uzaklığı
C) İklim ve doğal bitki örtüsü
D) Londra ile olan yerel saat farkı
E) Yer şekillerinin engebe ve yükseltisi

13. Türkiye Doğu Yarım Küre'de yer alır.

Aşağıda verilenlerden hangisi Türkiye'nin Doğu Yarım Küre'de yer aldığına kanıt olarak gösterilebilir?

- A) Güneyden kuzeye gidildikçe iki meridyen arası mesafenin azalması
B) Adana'dan geçen enlemin uzunluğunun Sinop'tan geçenden fazla olması
C) Aynı boylamlar üzerinde yer alan iki noktadan Ekvatora yakın olanın Başlangıç Meridyenine daha uzak olması
D) Aynı anda bir ortak saat kullanılması
E) İzmit'te yerel saatin Londra'dan ileri olması



TÜRKİYE'NİN COĞRAFİ KONUMU

1. Tablodaki verilere göre, Ankara ve İstanbul'un paralel ve meridyen dereceleri farklıdır. Buna göre, her iki kentte;

- yerel saat,
- çizgisel hız,
- ekvatora olan uzaklık,
- güneş ışınlarının geliş açısı
- 21 Aralık'taki gündüz süresi,

gibi özellikler farklı olacaktır. Ancak 21 Mart tarihinde Türkiye'nin her yerinde gece ve gündüz süresi eşit olur.

(Cevap A)

2. Son 30 yılda yakın çevremizde meydana gelen (Sovyetler Birliği'nin dağılması, Avrupa'da yeni siyasal oluşumlar, Balkanlar ve Orta Doğu'daki önemli gelişmeler, Orta Asya ve Kafkas ülkelerinin bağımsızlığı, hızlı küreselleşme süreci vb.) siyasi, sosyal ve ekonomik gelişmeler Türkiye'nin jeopolitik konumunda önemli değişikliklere yol açmıştır. Ancak Rusya ve ABD arasındaki Soğuk Savaş Dönemi'nin başlaması çevremizdeki son 30 yılda değil daha önce yaşanan II. Dünya Savaşı sonrasındaki yıllara dayanır.

(Cevap E)

3. Dünya'nın eksenini etrafındaki dönüşüne bağlı olarak iki türlü hız ortaya çıkar;

- Dünya'nın günlük hareketi esnasında birim zamanda aldığı yola çizgisel (dönüş) hız denir. Çizgisel hız Ekvator'dan kutuplara doğru azalır. Buna göre en fazla Antalya'dadır.
- Dünya'nın günlük hareketi esnasında birim zamanda oluşturduğu açıya da açısal hız denir. Dünya 24 saatte 360° döndüğünden üzerindeki tüm noktaların açısal hızları eşittir.

(Cevap B)

4. Güneş ışınlarının dik açılarla geldiği yerlerde sıcaklık ortalaması yüksek, dar açılarla geldiği yerlerde ise düşük olur. Sıcaklığın düşmesine bağlı olarak deniz suyu sıcaklığı ve tuz oranı düşer.

Yer çekimi dünyanın şekline bağlı olarak ekvator dan kutuplara gidildikçe artar. Türkiye'de sıcaklık farkı deniz kıyılarında yer alan kesimlerde nemin fazla olmasına bağlı olarak az, iç kesimlerde nemin azalmasına bağlı olarak fazladır.

(Cevap B)

5. Türkiye'nin kuzeyinden güneyine doğru gidildikçe; çizgisel hız artar, yer çekimi, gece-gündüz süresi arasındaki fark azalır ve gölge boyu kısalır. Ancak güneş ışınlarının geliş açısı kuzeyden güneye doğru gidildikçe artar.



NOT

Güneş ışınlarının geliş açısı küçüldükçe gölge boyları uzar. Güneş ışınlarının 90° açı ile geldiği yerde öğle vakti gölge oluşmaz. Gölge boyu en kısa olan cisim güneş ışınlarını en dik açı ile alandır.

(Cevap C)

6. **Özel Konum:** Dünya üzerindeki bir ülkenin yer şekillerine, okyanuslara, denizlere, boğazlara, madenlere ve diğer ülkelere göre konumuna denir. Türkiye'de dağların güney yamaçlarının kuzey yamaçlarına göre daha sıcak olması matematik (mutlak) konum ile ilgilidir.

(Cevap D)



7. Türkiye Kuzey Yarım Küre'de ve ılıman iklim kuşağında (Mutlak konum) yer alır. Bu duruma bağlı olarak bazı dönemlerde Ekvator'dan gelen sıcak hava ve kutuplardan gelen soğuk havanın etkisinde kalır. Yükselti, engebe, denizellik ve dağların uzanış doğrultusu bu durum üzerinde etkili değildir.

(Cevap D)

8. İki meridyen arası mesafe Ekvator'da 111 km'dir. Kutuplarda ise meridyenler birleşirler. Türkiye'de iki meridyen arası mesafe 85-86 km'dir. Türkiye Kuzey Yarım Küre'de yer aldığından aynı meridyen üzerinde yer alan noktalardan kutuplara daha yakın olanı Başlangıç Meridyenine de daha yakındır. II. nokta kutuplara I'den daha yakın olduğundan Başlangıç Meridyenine daha yakındır.

(Cevap E)

9. Ekvatora yakın kutuplara uzak yerlerde buzul yer şekilleri sadece yüksek dağların zirvelerine yakın yerlerde görülür. Türkiye ise orta kuşaktaki konumundan dolayı buzul yer şekilleri azdır.

(Cevap D)

10. Türkiye dağlık ve engebeli arazi özelliklerine sahiptir. Bu duruma bağlı olarak, yol yapım maliyetleri fazla, kar yağışı gün sayısı fazla, iklim çeşitliliği fazladır. Bu özellikler göreceli (özel) konumun sonuçlarıdır.

(Cevap C)

11. Habur sınır kapısı Irak ile geçişi sağlar. Yayladağı, Akçakale, Öncüpınar, Cilvegözü ise Suriye iledir.

(Cevap C)

12. Yer şekillerinin engebe ve yükseltisi ile iklim ve doğal bitki örtüsü özellikleri zaten özel konum sonuçlarıdır. Meridyen derecesi ile ilgili değildir. Bir yerin meridyen derecesi yalnızca o yerin başlangıç meridyeni (Londra) ile olan yerel saat farkını verir.

(Cevap D)

13. Türkiye'nin Kuzey Yarım Küre'de yer almasına bağlı olarak;

- İki meridyen arası mesafe kuzeye gidildikçe kısalır.
- Paralellerin boyları kuzeye gidildikçe kısalır.
- Aynı boylam üzerinde yer alan noktalardan Ekvator'a yakın olanı Başlangıç Meridyenine daha uzaktır.

İzmit Londra'ya göre daha doğudadır. Ülkemiz Doğu Yarım Küre'de yer aldığından Başlangıç Meridyeni (Londra)'nin doğusundadır. Bu yüzden saati daha ileridir.

(Cevap E)



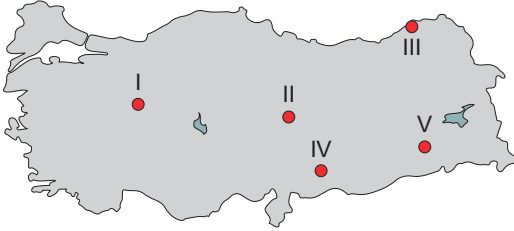
TÜRKİYE'NİN YERYÜZÜ ŞEKİLLERİ: DIŞ KUVVETLER

	Gece °C	Gündüz °C
I	15	18
II	10	17
III	3	11
IV	5	20
V	4	10

Yukarıdaki tabloda gece ve gündüz sıcaklık ortalamaları verilen beş yörenin hangisinde mekanik çözülmenin en fazla olması beklenir?

- A) I B) II C) III D) IV E) V

2.



Bulutlu gün sayısı, nem oranı ve yağış miktarları dikkate alınırsa yukarıdaki Türkiye haritasında numaralandırılan alanların hangisindeki kayaların ufalanmasında kimyasal çözülme daha fazla etkilidir?

- A) I B) II C) III D) IV E) V

11. Aşağıda bir bölümü gösterilen harita parçasında Yalova'dan Konak'a hareket eden yolcu teknesinin rotası gösterilmiştir.



..... Seyehat güzergâhı

Bu rotada yolcuların aşağıdaki veriler yerlerden hangisini görmesi beklenir?

?D

- A) Datça Yarımadası
B) Bafra Delta Ovası
C) İskenderun Körfezi
D) Kapıdağı Yarımadası
E) Ölüdeniz

4. Türkiye'de, günümüzde en az etkiye sahip olan dış kuvvet buzullardır.

Buna göre, Türkiye'de buzul aşındırma ve biriktirme şekillerine fazla rastlanmayışı Türkiye'nin hangi özelliğinin sonucudur?

- A) Matematik konumu
B) Doğal bitki örtüsü
C) Yüz ölçümü
D) Üç tarafının denizlerle çevrili olması
E) Yükseltinin doğuya doğru gidildikçe artması

5. Sirk gölleri, buzulların aşındırmasıyla oluşan çukurların zamanla suyla dolmasıyla oluşur.

Buna göre, Türkiye'nin aşağıdaki dağlarından hangisinin zirvelerinde bu tür göllere rastlanacağı söylenemez?

- A) Cilo Dağı B) Yıldız Dağları
C) Buzul Dağı D) Kaçkar Dağı
E) Ağrı Dağı

6. Türkiye'de bazı akarsuların akış hızları fazla, bazılarının ise azdır. Akış hızları fazla olan akarsular derine doğru, akış hızları az olan akarsular ise yana doğru aşındırma yapar.

Buna göre, Türkiye akarsularının;

- I. vadi tipleri,
II. debileri,
III. hidroelektrik enerji potansiyelleri,
IV. rejimleri

özelliklerinden hangileri farklılık gösterir?

- A) I ve II B) II ve IV C) I ve III
D) III ve III E) I, II, III ve IV

7. Aşağıda verilen dış kuvvetlerden hangisi Türkiye'nin yer şekillerinin oluşumunda daha az etkilidir?

- A) Akarsu B) Rüzgârlar C) Dalgalar
D) Yeraltı suyu E) Akıntılar



8. Beyşehir Gölü'nde tatlı su balıkçılığı yapılabilirken Burdur Gölü'nde bu faaliyete rastlanmaz. **Bu durum, söz konusu iki gölün aşağıdakilerden hangisi bakımından farklı oldukları anlamına gelir?**

A) Yüz ölçümleri
B) Derinlikleri
C) Ortalama atmosfer koşulları
D) Deniz seviyesinden yükselteleri
E) Gidegenlerinin bulunup bulunmaması

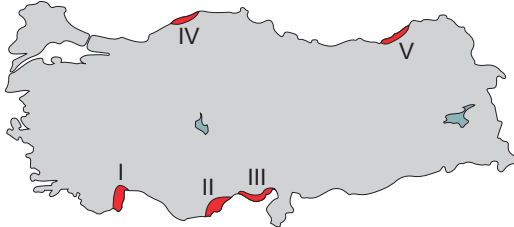
9. **Aşağıdakilerden hangisinde doğal veya tarihi turistik değer ile bulunduğu yerler doğru olarak eşleştirilmemiştir?**

A) Ayder Yaylası – Rize
B) İshakpaşa Sarayı – Ağrı
C) Efes Harabeleri – Muğla
D) Nemrut Harabeleri – Adıyaman
E) Manavgat Şelalesi – Antalya

10. **Aşağıda verilen göllerden hangisi dalgaların taşıdığı malzemeyi bir körfezin önünde biriktirmesiyle oluşmuştur?**

A) Abant
B) Hazar
C) Sapanca
D) Büyükçekmece
E) Ulubat

11. Aşağıdaki haritada Türkiye kıyılarına at beş farklı yer numaralandırılarak gösterilmiştir.



Bu yerlerden hangisinde kıta sahanlığı en geniştir?

A) I B) II C) III D) IV E) V

12. Türkiye'de geçmiş jeolojik dönemlerde yaşanan iklim değişimlerinden dolayı buzulların meydana getirdiği yeryüzü şekillerine 2000m'den daha yüksek alanlarda rastlanır.

Buna göre, aşağıdakilerden hangisi Türkiye'de buzullaşmanın görüldüğü alanlardan biri değildir?

A) Bingöl Dağları B) Aladağlar
C) Kaçkar Dağları D) Dedegöl Dağı
E) Kaz Dağları

13. Türkiye'deki tarım alanları etkisi çok şiddetli olan erozyon afetine maruz kalmaktadır.

Bu duruma Türkiye'de etkili olan dış kuvvetlerden hangisinin daha çok neden olduğu söylenebilir?

A) Yeraltı suları
B) Buzullar
C) Dalgalar – akıntılar
D) Akarsu – sel suları
E) Rüzgârlar

14. Akarsu aşındırmasını tamamladığında yatağının eğimi azalır. Bu akarsular yatağı için "denge profiline ulaşmıştır" denir. Türkiye'de denge profiline en yakın akarsular Marmara ve Ege kıyılarında yer alır.

Buna göre Marmara ve Ege'nin kıyı kesimlerindeki akarsular için aşağıdakilerden hangisi söylenebilir?

A) Akış hızları fazladır.
B) Yatak eğimleri fazladır.
C) Hidroelektrik enerji potansiyelleri azdır.
D) Derine aşındırma fazladır.
E) Tabanlı vadi oluşumu azdır.

15. Bazı göl çanaklarının oluşumunda karstik süreçler etkilidir.

Aşağıdakilerden hangisi bu süreçle oluşmuş göllerden değildir?

A) Suğla B) Sapanca C) Kestel
D) Avlan E) Hafik



TÜRKİYE'NİN YERYÜZÜ ŞEKİLLERİ: DIŞ KUVVETLER

1. Gece-gündüz sıcaklık değerlerine bakıldığında sıcaklık farkının en fazla olduğu yerlerde mekanik çözülme en fazladır. Sıcaklık farkının en fazla olduğu merkez IV'tür.

(Cevap D)

2. Türkiye'de kimyasal çözülmenin gerçekleşmesi için gerekli olan tüm şartlar (nem-yağış vb) Karadeniz Bölgesi'nde en fazla görülür.

(Cevap C)

11. Gösterilen doğrultuda Kapıdağı Yarımadası (Güney Marmara'da) bulunur. Ölüdeniz bu doğrultunun güneyinde Fethiye'de, Datça Yarımadası Muğla il sınırları içinde, İskenderun Körfezi Doğu Akdeniz'de Hatay ili sınırları içinde, Bafra delta ovası ise Orta Karadeniz'de bulunur.

(Cevap D)

4. Buzullar daha çok kutup kuşağında etkili olur. Türkiye, matematik konumu itibarıyla orta kuşak ülkesidir. Bu yüzden ülkemizde buzul aşındırma ve biriktirme şekillerine fazla rastlanmaz.



NOT

Türkiye'de kalıcı kar sınırının üzerinde olan Ağrı, Kaçkar, Erciyes gibi dağların zirvesinde sirk ve takke buzulları görmek mümkündür. Ancak bu dağların daha alçak kesimlerinde ve günümüzde buzulların olmadığı dağlarımızda da buzulların oluşturduğu aşınım ve birikim şekillerine rastlanabilir. Bu durum geçmiş dönemlerdeki iklim değişiklikleri ile ilgilidir.

(Cevap A)

5. Türkiye'de ancak yüksek dağların zirvelerinde buzullara, dolayısıyla sirk göllerine rastlanır. Yıldız Dağları, Marmara Bölgesi'nde yer alır ve ortalama yükseltisi de azdır. Bu yüzden Yıldız Dağları'nda sirk göllerine rastlanmaz.

(Cevap B)

6. Akış hızları fazla olan akarsular derine doğru aşındırma yaparak çentik vadileri, akış hızları az olan akarsular ise yana doğru aşındırma yaparak tabanlı vadileri oluşturur. Çentik vadiler dar ve derin olduğundan baraj yapımına elverişli, tabanlı vadiler ise geniş olduğundan baraj yapımına elverişsizdir. Bu şekilde Türkiye'de akış gösteren akarsular vadi tipi ve hidroelektrik enerji potansiyeli bakımından farklılık gösterir. Debi; akarsuyun herhangi bir kesitinden saniyede geçen su miktarıdır. Debinin fazla ya da az olduğu akış hızından anlaşılır. Çünkü akarsuyun taşıdığı su miktarı fazla ise akış hızı az olsa bile debi fazla olur. Ayrıca Türkiye'deki akarsuların genelde debileri düşüktür. Akarsu rejimi ise akımda görülen yıl içerisindeki değişikliklerdir. Türkiye'deki akarsular da genelde düzensiz rejime sahiptir.

(Cevap C)

7. Akıntılar okyanuslara kıyısı olan ülkelere etkili olurlar. Türkiye'nin okyanuslara kıyısı bulunmaz. Bu nedenle ülkemizde akıntılar yer şekillerinin oluşumunda etkili değildir.

(Cevap E)

8. Bir gölün sularının tatlı, tuzlu, sodalı veya acı olması üzerinde gideğenin olup olmaması etkilidir. Bir gölün gideğeni varsa suları tatlı olur. Bu tür göller balıkçılığa elverişlidir. Van Gölü, Tuz Gölü ve Burdur göllerinin ise gideğeni yoktur ve balıkçılığa elverişli değildir.

(Cevap E)



9. **Ayder Yaylası** Rize'dedir. Yaz aylarında sıcak kıyı kuşağının bunaltıcı havasından uzaklaşmak için ya da şenliklere yönelmek ve katılmak için yapılan faaliyetlere "yaylacılık" denir.

İshakpaşa Sarayı Ağrı'dadır ve dünyada kalorifer sisteminin uygulandığı ilk saraydır.

Efes Antik Kenti ve Harabeleri İzmir'dedir. Yani yanlış eşleştirilmiştir.

Nemrut Harabeleri Adıyaman'da yer alır. Dev heykellerin bulunduğu bu harabeler turistik değer açısından önemlidir.

Manavgat Şelalesi Antalya'dadır. Akarsuların belirli bir yüksekten düşmesiyle oluşan çağlayanlara "şelale" denir. Şelaleler etrafında turistik tesisler artıkça değer kazanır ve turist çeker.

(Cevap C)

10. • Abant → Heyelan set gölü
• Hazar → Tektonik göl
• Sapanca → Tektonik göl
• Ulubat → Tektonik göl
• Büyükçekmece → Kıyı Set göllerine örnektir.

(Cevap D)

11. Kıta sahanlığı dar olan kıyılar derin, geniş olan kıyılar ise sığdır. III numaralı yerde Türkiye'nin en geniş deltası olan "Çukurova" bulunur. Bu yerde kıta sahanlığı daha geniştir. Zaten delta oluşabilmesi için gerekli olan şartlardan biri de kıta sahanlığının geniş, yani kıyının sığ olmasıdır.

(Cevap C)

12. Mutlak konum özelliklerinden dolayı Türkiye'de buzulların etkili olduğu alanlar oldukça sınırlıdır. Bugünkü iklim şartlarına bağlı olarak kalıcı kar sınırı, ülkemizde 3000 metrenin üzerinde görülmektedir. Bu nedenle buzullara ve buzulların oluşturduğu şekillerse Ağrı, Erciyes, Kaçkar, Buzul ve Torosların yüksek kesimlerinde rastlanır. Kaz Dağları bu alanlar arasında yer almaz.

(Cevap E)

13. Türkiye'deki tarım alanlarının en önemli sorunlarından biri de çok şiddetli bir erozyona maruz kalmalarıdır. Erozyon toprağın verimli olan üst kısmının akarsular, sel suları, rüzgârlar vb. dış kuvvetler tarafından taşınmasıdır. Bu yüzden her yıl binlerce dönüm tarım arazisi çoraklaşmakta yani verimini kaybetmektedir. Türkiye'de en az etkiye sahip olan dış kuvvet buzullar en fazla etkiye sahip olan dış kuvvet ise akarsulardır. Buna göre Türkiye'deki erozyon olayları üzerinde en fazla etkiye sahip olan dış kuvvetin akarsu – sel suları olduğu söylenebilir.

(Cevap D)

14. Marmara ve Ege Bölgesi'nde ki akarsuların yatak eğimi azdır. Yatak eğimi az olan akarsularda hidroelektrik enerji potansiyeli azdır, yatak eğimi az olan akarsularda akış hızı, derine aşındırma, taşıma gücü ve taşınan malzeme azdır.

(Cevap C)

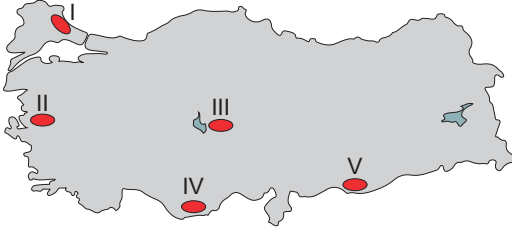
15. Kalkerli alanlardaki erime çukurlarının dolması sonucunda karstik göller oluşur. Suğla, Kestel, Avlan, Elmalı, Söğüt ve Obruk gölleri bu şekilde oluşmuştur. Sivas ili Hafik ilçesinde yer alan Hafik Gölü de karstik (jips) göl özelliğindedir. Ancak Sapanca Gölü olumsuz bir göldür.

(Cevap B)



TÜRKİYE'NİN BİTKİ ÖRTÜSÜ

1.



Yukarıdaki haritada numaralandırılarak koyu renkle gösterilen alanların iklim koşulları göz önüne alındığında, hangisinin doğal bitki örtüsü içinde ormanlar **daha geniş** yer tutar?

- A) I B) II C) III D) IV E) V

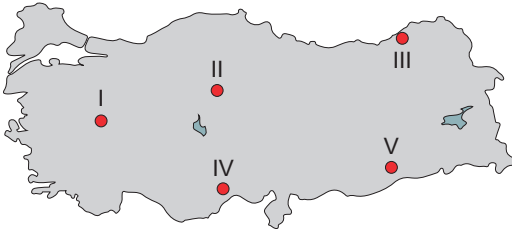
2.

- I. Bayburt
II. Zonguldak
III. Amasya
IV. Giresun

Doğal bitki örtüleri göz önüne alındığında, yukarıdaki illerin hangilerinde ormancılık etkinlikleri ve ormana dayalı endüstrinin diğerlerinden **daha fazla gelişmiş** olması beklenir?

- A) I ve II B) I ve III C) II ve III
D) II ve IV E) III ve IV

3.



Yukarıdaki haritada numaralandırılarak gösterilen alanların hangisinde, kurak dönem **olmamasından** dolayı otlak veriminin **daha yüksek** olması beklenir?

- A) I B) II C) III D) IV E) V

4.

Türkiye'de iklim çeşitliliği göz önüne alındığında, aşağıdaki ürünlerden hangisinin yetiştirme alanı diğerlerinden **daha geniştir**?

- A) Üzüm B) Limon C) Zeytin
D) İncir E) Fındık

5.

Kurak ve yarı kurak iklim bölgelerinde ilkbahar yağışları ile yeşeren, yaz kuraklığı ile de sararan kısa boylu ot topluluklarıdır. İç Anadolu, Doğu Anadolu, Güneydoğu Anadolu, Trakya (Ergene Havzası) ve iç Batı Anadolu'da yaygın olarak görülür. Geven, yavşan otu, çoban yastığı, gelincik, sığır kuyruğu, adaçayı, üzerlik, çayır üçgülü, kılıç otu ve çakır diken başlıca türleridir.

Bu parçada tanımlanan doğal bitki örtüsü türüne ne ad verilir?

- A) Garig otu B) Psödomaki C) Bozkır
D) Maki E) Frigana

6.



Yukarıdaki Türkiye haritasında belirtilen hat boyunca;

- I. bozkır,
II. çayır,
III. orman,
IV. maki

bitki türlerinden hangisi ile **karşılaşmaz**?

- A) Yalnız III B) Yalnız IV C) I ve II
D) II ve III E) III ve IV

7.

Bir dağ yamacında kıydan başlayarak yükseldikçe; kestane, gürgen, şimşir, kayın, sarıçam, göknar ve ladin gibi ağaçlar tespit edilmiştir.

Bu gözlemin aşağıdaki dağların hangisinde yapıldığı söylenebilir?

- A) Amanoslar B) Bozdağ C) Kazdağı
D) Kaçkar E) Bolkar

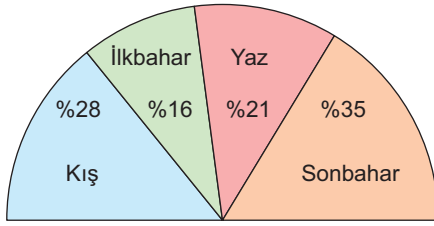


8. Avrupa Kıtası genelinde bulunan 10 bin bitki türüne karşılık, Türkiye sınırları içerisinde 12 bine yakın bitki türü bulunur.

Türkiye'nin bu denli zengin bitki türüne sahip olmasında aşağıdaki özelliklerinden hangisi etkili olmamıştır?

- A) İklim B) Yer şekilleri C) Yükselti
D) Coğrafi konum E) Yüz ölçümü

9. Aşağıdaki grafikte yağışın mevsimlere dağılışı oran olarak verilmiştir.



Buna göre, aşağıdakilerden hangisi yanlıştır?

- A) En fazla yağış sonbahar, en az yağış ilkbahardadır.
B) Kış ve yaz yağış oranı toplamı, sonbahar ve ilkbahar yağış oranı toplamından azdır.
C) Çay ve fındık tarımı için elverişlidir.
D) Ülkemizde Karadeniz Bölgesi ve Marmara Bölgesi'nin Karadeniz kıyı kuşağında görülür.
E) Doğal bitki örtüsü, mersin, defne, zakkum ve keçi boynuzundan oluşan ağaçlardır.

10. Kuzey Anadolu Dağları'nın kuzeye bakan yamaçlarında orman örtüsünün güney yamaçlara göre daha sık ve gür olmasında aşağıdakilerden hangisi etkili değildir?

- A) Sıcaklık koşulları B) Nem oranı
C) Yağış rejimi D) Bakı koşulları
E) Denizellik

11. Türkiye'de yarı kurak iklimin yaşandığı iç kesimlerde orman örtüsünün tahrip edilmesiyle ortaya çıkan ağaçlıklı bozkırlara ne ad verilir?

- A) Alpin çayır
B) Yalancı maki
C) Antropojen bozkır
D) Garig
E) İğne yapraklı orman

12. Türkiye'nin batısında yer alan aşağıdaki illerden hangisinin doğal bitki örtüsü diğerlerinden daha çok farklıdır?

- A) Çanakkale B) İzmir C) Edirne
D) Balıkesir E) Bursa

13. Türkiye'deki bitki toplulukları; orman, çalı (maki, garig, psödomaki) ve ot (bozkır ve dağ çayırları) formasyonu olmak üzere üç gruba ayrılır.

Buna göre

- I. Kıyı Ege – maki toplulukları,
II. Batı Karadeniz – orman,
III. Ankara çevresi – bozkır,
IV. Konya ovası - psödomaki

eşleştirmelerinden hangileri yanlıştır?

- A) Yalnız I B) Yalnız IV C) I ve II
D) II ve III E) III ve IV

14. • Kurak ve yarı kurak bölgelerde görülür.
• Üzerlik, geven, gelincik, çoban yastığı, çakır diken, kılıç otu gibi bitki türleri yaygındır.

Bazı özellikleri verilen bu bitki örtüsü aşağıdakilerden hangisidir?

- A) Çayır B) Bozkır C) Orman
D) Maki E) Garig



TÜRKİYE'NİN BİTKİ ÖRTÜSÜ

1. Ormanların dağılışını etkileyen temel faktörler; yağış ve nemdir. Türkiye'de yağış rejiminin düzenli, yıllık yağış miktarının fazla olduğu Karadeniz ikliminin görüldüğü yerlerde ormanlar geniş yer tutar. Haritada numaralandırılmış bölgeler incelendiğinde; II ve IV. merkezlerde Akdeniz iklimi görülmesine bağlı olarak makiler geniş yer tutarken III ve V. merkezlerde karasal iklime bağlı olarak bozkırlar geniş yer tutar. Haritada I. merkez Marmara Bölgesi'ndeki Yıldız Dağları Bölümü'dür. Karadeniz'e kıyısı olmasından dolayı burası orman varlığı yönünden daha zengindir.

(Cevap A)

2. Türkiye'de ormanların dağılışını etkileyen iki önemli faktör, yağış ve nemdir. Türkiye'de orman varlığı bakımından en zengin bölgemiz yıllık yağış miktarı ve atmosferindeki nemin fazlalığından dolayı Karadeniz Bölgesi'dir. Bu bakımdan Karadeniz'in kıyı kuşağında yer alan Zonguldak ve Giresun'da ormana dayalı endüstri gelişmiştir.

(Cevap D)

3. Türkiye'de iklimlerin özelliklerini hatırladığımızda Karadeniz iklimini tanımlarken her mevsim yağışlı olarak nitelendiririz. Dolayısıyla III numaralı yerde yıl içerisinde kurak dönemin olmayışından dolayı otlak verimi daha yüksektir.

(Cevap C)

4. Türkiye genelinde karasal iklim şartları etkilidir. Kış soğuklarına diğerlerine göre daha dayanıklı olan üzüm, Türkiye'nin tüm coğrafi bölgelerinde yetişebildiğinden yetiştirme alanı geniş olan bir üründür.

(Cevap A)

5. Garig veya diğer adı ile frigana makilerin tahrip edilmesiyle oluşan seyrek ve kısa boylu çalılardır. Psödomaki ise Karadeniz ormanlarının tahribi sonucunda ortaya çıkan çalılardır. Buna göre, açıklamada geçen doğal bitki örtüsü bozkır veya diğer adı ile step tir.

(Cevap C)

6. Makilere Türkiye'de Akdeniz ikliminin etkili olduğu; Akdeniz – Ege ve Güney Marmara kıyılarında rastlanır. İç bölgelerde kış sıcaklıklarının düşük olması makilerin yetişmesine izin vermez. Buna göre, haritada gösterilen ok yönünde gidilirse yalnızca maki türleri ile karşılaşılmaz.

(Cevap B)

7. Amanoslar (Güneydoğu Toroslar), Bolkar (Orta Toroslar) Kaz ve Bozdağlar'da (Kıyı Ege) kıyıdağ itibaren başlayan kestane, gürgen, kayın gibi geniş yapraklı ağaçlardan oluşan ormanlara rastlanmaz. Bu ormanlar, Doğu Karadeniz dağ sıralarından olan Kaçkarlara aittir. Ayrıca yükseldikçe sıcaklığın azalmasına bağlı olarak Kaçkarlarda sarıçam, göknar ve ladin gibi iğne yapraklı ağaçlar bulunur.

(Cevap D)



8. Türkiye ormanların kapladığı alan bakımından olmasa bile bitki türlerinin sayısı bakımından Dünya'nın en zengin ülkelerinden biridir. Bunun en tipik örneği Avrupa kıtası genelinden daha fazla bitki türüne sahip olmasıdır. Bu açıklamaya göre, Türkiye kendisinden daha geniş yüz ölçümüne sahip olan Asya kıtasından daha zengin bitki türüne sahiptir. Yalnızca bu açıklama dikkate alınır, yüz ölçümü Türkiye'nin bitki çeşitliliğinde etkili olmamıştır.

(Cevap E)

9. Verilen grafik Karadeniz iklimine aittir. Çünkü en fazla yağış sonbahardadır. Ayrıca yağışın yıl içinde mevsimlere göre dağılışı daha düzenlidir. Bundan dolayı doğal bitki örtüsü iğne ve geniş yapraklı ormanlardır. Mersin, defne, zakkum, kocayemiş Akdeniz ikliminin bitki örtüsü olan makilerdir.

(Cevap E)

10. Karadeniz dağlarının kuzeye bakan yamaçlarında, yağış rejimi daha düzenli, iklim ılıman, denizellik etkisi belirgin ve nem oranı yüksektir. Bu şartlara bağlı olarak da orman örtüsü daha sık ve gürdür. Ancak bu şartları ortaya çıkartan faktörler bakı etkisi değildir. Bakı etkisi "güneşe dönük olma" anlamına gelir. Türkiye'deki dağların da güneye bakan yamaçları güneşe dönük olduklarından bakı etkisindedir.

(Cevap D)

11. Türkiye'de yarı kurak iklim koşullarının yaşandığı Orta Anadolu'nun kuzeyi, Doğu Anadolu'nun geneli ve Trakya'nın iç kesimlerinde yer yer görülen ve doğal olarak yetişen ağaç toplulukları, bu bölgelerde doğal bitki örtüsünün yalnızca bozkır olmadığını gösterir. Yozgat Çamlığı bunun en tipik örneklerinden biridir. Bu alanlarda, tahrip edilen orman örtüsünün kendini yenilememesi nedeniyle ortaya çıkan ağaçlıklı bozkırlara "antropojen bozkır" denir.

(Cevap C)

12. Çanakkale, Yalova, Balıkesir ve Bursa illeri Güney Marmara Bölümünde yer alır. Bu illerde Akdeniz ikliminin karakteristik özellikleri ortaktır. Bu yüzden doğal bitki örtüleri de benzer olacaktır. Kıyı Ege'de yer alan İzmir'de de Akdeniz iklimi etkilidir. Oysa ki Erzene Bölümü'nde yer alan Edirne'de iklim daha karasal olacağından doğal bitki örtüsü de diğerlerinden farklı olarak bozkır olacaktır.

(Cevap C)

13. Psödomakiler (Yalancı makiler), Karadeniz kıyılarında görülen çalılardır. Bu çalılar ormanların yok edilmesiyle ortaya çıkar. Konya'nın doğal bitki örtüsü psödomaki değil, bozkırdır.

(Cevap B)

14. Ülkemizde ılıman karasal iklimin görüldüğü yerlerde, ilkbahar aylarında yeşerip yaz aylarında kuruyan bitki örtüsü bozkırdır. Bozkır bitki örtüsünün yaygın türleri; Üzerlik, geven, çoban yastığı, peygamber çiçeği, yavşan otu, çakır diken, sığır kuyruğu, kılıç otu, gelinciktir.

(Cevap B)



TÜRKİYE'DE NÜFUS ve GÖÇ

1. Türkiye'de genel olarak, İzmit, Bursa, Ankara ve Adana gibi şehirlerde erkek nüfus fazlayken Ardahan, Rize, Bayburt ve Tunceli gibi şehirlerde kadın nüfus fazladır.

Bu durum, söz konusu kentlerin aşağıdaki özelliklerinden hangisiyle açıklanabilir?

- A) Göç hareketleri
B) Uygulanan nüfus politikaları
C) Doğum oranlarının cinsiyete göre farklılaşması
D) Ortalama yaşam süresinin cinsiyete göre farklılaşması
E) Cinsiyete göre turizm faaliyetlerine katılım oranları
2. Türkiye'de kırdan kentlere doğru hızlı bir iç göç olayı yüzünden ortaya çıkan en önemli sorunlardan biri de çarpık kentleşmedir.



Göç alıp verme şartlarına dikkat edilirse yukarıdaki haritada numaralandırılan yörelerden hangilerinde bu tür sorunların daha az yaşandığı söylenebilir?

- A) Yalnız III
B) I ve II
C) II ve IV
D) III ve IV
E) IV ve V
3. Bir ilin aldığı göç miktarı, verdiği göç miktarından fazlaysa net göç hızı pozitif; verdiği göç miktarı aldığı göç miktarından fazlaysa net göç hızı negatiftir.

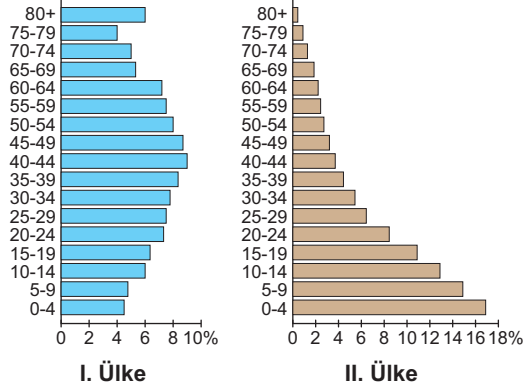
Buna göre,

- I. Ankara,
II. İzmit,
III. Kars,
IV. Diyarbakır,
V. Erzurum

illerinden hangilerinin net göç hızı pozitifdir?

- A) Yalnız II
B) I ve II
C) III ve IV
D) I ve III
E) IV ve V

4. Aşağıdaki grafiklerde iki ülke nüfusunun yaş gruplarına göre dağılışı gösterilmiştir.



Bu ülkelerle ilgili olarak aşağıdaki yorumlardan hangisi yapılamaz?

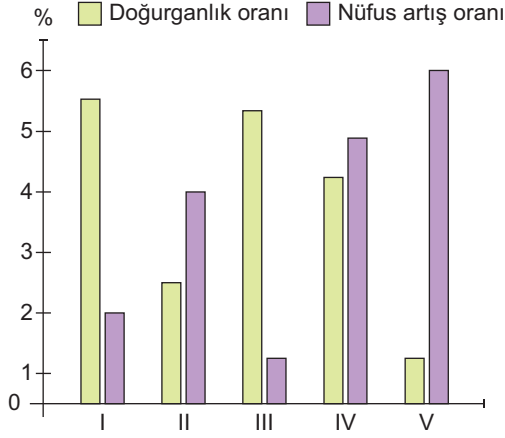
- A) I. ülkede ortalama insan ömrü daha uzundur.
B) II. ülkede doğum oranı daha fazladır.
C) II. ülkedeki toplam nüfus içinde kentte yaşayanların oranı daha azdır.
D) I. ülkedeki çalışan nüfus içinde tarım sektörünün payı daha fazladır.
E) II. ülkede çalışan nüfusun yaş ortalaması daha düşüktür.
5. Türkiye'nin 2010 ile 2023 yıllarındaki yaş gruplarına göre nüfus miktarını gösteren grafikler dikkate alındığında, aşağıdakilerden hangisine ulaşılamaz?
- A) Genç nüfus oranındaki değişime
B) Tarımsal nüfus yoğunluğundaki değişime
C) Nüfus artış hızına
D) Toplam nüfus miktarına
E) Ortalama yaşam süresindeki değişime

6. Türkiye'de nüfus ve yerleşmenin dağılımını etkileyen faktörler, doğal ve beşeri olmak üzere değerlendirildiğinde aşağıdakilerden hangisi diğerlerinden ayrılır?

- A) Topoğrafya
B) Hidroğrafya
C) Siyasi kararlar
D) Sıcaklık ve yağış
E) Toprak yapısı



7. Aşağıdaki grafikte beş bölgenin doğurganlık oranları ile nüfus artış oranları verilmiştir.



Buna göre, dışarıdan en fazla göç alan bölge aşağıdakilerden hangisidir?

- A) I B) II C) III D) IV E) V

8. Aşağıda verilen illerden hangilerinde yıl içerisinde mevsimlik nüfus değişiklikleri diğerlerinden daha çok görülür?

- A) Mersin – Kahramanmaraş
B) Antalya – Adana
C) Isparta – Adana
D) Hatay – Mersin
E) Antalya – Kahramanmaraş

9. Ülke sınırları içinde meydana gelen göçlere "iç göç" denir. Ülkemizde iç göçlerin büyük bir kısmı kırsal kesimden kentlere doğru olmaktadır.

Buna göre aşağıdakilerden hangisi Türkiye'de kırsal kesimden kentlere olan iç göçü önlemek için yapılması gerekenlerden biri değildir?

- A) Besi ve ahır hayvancılığının geliştirilmesi
B) Ulaşım, eğitim, sağlık hizmetlerinin yaygınlaştırılması
C) Kırsal kesimde hızlı nüfus artışı sebebiyle toprakların bölünmesi
D) Kırsal kesimde modern tarım yöntemlerinin yaygınlaştırılması
E) Tarıma dayalı sanayi kollarının kırsal kesime kaydırılması

10. Nüfus Artış Hızı: Doğum oranı ile ölüm oranı arasındaki farktır.

Bir ülkede nüfus artışının yüksek olmasından kaynaklanan olumlu ve olumsuz sonuçlar bulunmaktadır.

Buna göre,

- a. kişi başına düşen milli gelir azalır,
b. piyasa genişler,
c. ihracat azalır, ithalat artar,
d. iş gücü ucuzlar

durumlarından hangileri nüfus artışının olumlu ve olumsuz sonuçlarındandır?

	Olumlu	Olumsuz
A)	a – b	c – d
B)	a	b – c – d
C)	b – d	a – c
D)	a – d	b – c
E)	a – b – c	d

11. Türkiye'den geçmişten günümüze gelişen bir iç turizm faaliyeti görülür.

Bu durumun oluşmasında;

- I. halkın gelir seviyesinin yükselmesi,
II. şehirlerde yaşayan nüfusun artması,
III. ulaşım hizmetlerinin ülke genelinde gelişmesi,
IV. nüfus artış hızının yükselmesi

gibi faktörlerden hangileri etkili olmamıştır?

- A) Yalnız IV B) I ve III C) II ve III
D) II ve IV E) III ve IV

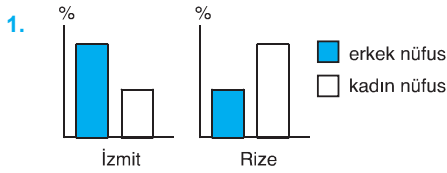
12. Türkiye'de 1965 yılından itibaren nüfus artış hızını düşürücü politikalar uygulanmasına rağmen toplam nüfus içinde en büyük pay genç nüfusa aittir.

Bu durumun yararları arasında aşağıdakilerden hangisi yer almaz?

- A) Ticaretin canlanması
B) İş gücü ihtiyacının karşılanması
C) Üretimin artması
D) Mal ve hizmetlere olan talebin artması
E) Demografik yatırımlara olan ihtiyacın artması



TÜRKİYE'NİN NÜFUSU



Yukarıdaki grafiklerde İzmit ve Rize kentlerinde, toplam nüfus içindeki erkek ve kadınların oranı gösterilmiştir. Söz konusu kentlerin göç durumlarına bakıldığında, İzmit göç alırken Rize'nin göç verdiği görülür. Türkiye'de iş bulmak – çalışmak amaçlı yapılan göç hareketlerine katılan erkek nüfustur. Bu yüzden cinsiyet oranının kentlere göre farklılık göstermesi göç hareketleriyle ilgilidir.

(Cevap A)

2. Türkiye'de yapılan iç göçler, iş imkânlarının daha fazla olduğu, gelişmiş kent merkezlerine doğrudur. Buna göre haritada gösterilen, İzmir (IV), İzmit (III) ve Adana – Çukurova (V) yöreleri göç alır. Bu da söz konusu yerlerde çarpık kenteleşmeyi artırır. Van (I) ve Rize yöreleri (II) dışarıya göç verir. Bu nedenle Van ve Rize'de çarpık kenteleşme azdır.

(Cevap B)

3. Belirli bir ilin aldığı göç ile verdiği göç arasındaki fark "net göç" olarak ifade edilir. Göç olayına katılan her bin kişi için net göç miktarına ise "net göç hızı" denir. Türkiye'nin batısındaki iller, diğer bölgelerden fazla miktarda göç aldığı için bu illerde net göç hızı pozitifdir. Buna göre Ankara ve İzmit'in net göç hızı pozitif değerlerdedir.

(Cevap B)

4. Sorudaki grafiklerde iki farklı ülkenin toplam nüfusunun yaş gruplarına göre dağılımı gösterilmiştir. Gelişmiş ülkelerde ortalama insan ömrü daha uzundur. Buna bağlı olarak yaşlı nüfus oranı daha fazladır. Ayrıca bu tür ülkelerde doğum oranı da az olduğundan çocuk ve genç nüfus oranı da az olur.

Geri kalmış ülkelerde ise tam tersi bir durum söz konusudur. Yani çocuk nüfus oranı fazla, yaşlı nüfus oranı azdır.

Bu bilgilere göre I. ülkenin gelişmiş, II. ülkenin de geri kalmış ülke olduğu söylenebilir. Buna göre de I. ülkede tarımda çalışanların çoğunlukta olduğu söylenemez.

(Cevap D)

5. Nüfusun yaş gruplarını gösteren grafiğe bakarak bir ülkenin;

- Gelişmişlik düzeyi
- Nüfus artış hızı
- Doğum oranı
- Ortalama ömür
- Toplam nüfus miktarı

gibi bilgiler elde edilir.

Yaş gruplarına bakarak tarımsal nüfus yoğunluğunun değişimi hakkında bilgi elde edilemez. Bunun için tarım alanlarının yüz ölçümü bilgisine de ihtiyaç vardır.

(Cevap B)

6. Topoğrafya (yeryüzü şekilleri), hidroğrafya (su kaynakları), iklim (sıcaklık ve yağış koşulları) ve toprak yapısı Türkiye'de nüfusun dağılışını etkileyen doğal faktörlerdir. Ancak Türkiye nüfus ve yerleşmesinin dağılışını sadece doğal faktörler etkilemez. Siyasi kararlar da bir beşeri faktör olarak bu durum üzerinde etkilidir. Örneğin; Ankara'nın günümüzde en kalabalık ikinci kent olmasında, başkent ilan edilmesinin rolü çok büyüktür.

(Cevap C)



7. V. ülkenin doğum oranı az olmasına rağmen, nüfus artış oranı çok fazladır. Bu durum, bölgenin diğer bölgelere göre dışarıdan daha çok göç aldığını gösterir.

(Cevap E)

8. Ülkemizde mevsimlik göçler genellikle tarım, turizm ve hayvancılığa bağlı olarak gerçekleşir. Antalya'da yıl içinde turizme, Adana'da ise tarıma bağlı olarak nüfus değişikliği fazla olmaktadır.

(Cevap B)

9. A, B, D ve E şıklarında verilen bilgiler iç göçü önlemek için yapılması gerekenlerdir. Kırsal kesimde hızlı nüfus artışı sebebiyle toprakların bölünmesi iç göçü azaltmaz, artırır.

(Cevap C)

10. Nüfus Artışının Olumlu Sonuçları;

- İş gücü ucuzlar.
- Piyasa genişler.
- Mal ve hizmetlere talep artar.
- Ülke nüfusu genç ve dinamik bir yapı kazanır.
- İşçi ücretleri düşer.

Nüfus Artışının Olumsuz Sonuçları

- İşsizlik artar.
- Kişi başına düşen millî gelir azalır.
- Çarpık kentleşme artar.
- Çevre kirliliği artar.
- İhracat azalır, ithalat artar.
- Kalkınma hızı yavaşlar.

(Cevap C)

11. Türkiye'de iç turizm faaliyetlerinin, bu turizme katılanların ve gelirlerinin; Cumhuriyet'ten günümüze dek arttığı görülmüştür. Bu durum üzerinde nüfus artış hızının yükselmesi etkili değildir. Bu durum gelişmeyi engeller. Ayrıca Türkiye'de nüfus artış hızı yıllara göre azalmaktadır.

(Cevap A)

12. Genç nüfusun fazla olmasının yararları arasında demografik yatırımlar; yani okul, yol, hastane vb. hizmetleri karşılamak ve istihdam alanları oluşturmak gibi nüfusa yönelik yatırımlara ihtiyacın artması, devlet ekonomisini zora sokan bir durumdur.

(Cevap E)

CANLI DERS NEDİR?



Coğrafya dersi için **Canlı Ders** uygulaması, kitapta yer alan konuların canlı olarak anlatımına ulaşmanızı sağlar. Kitabın kapağında bulunan şifreyle sisteme giriş yapıp, **soru.pro** adresi üzerinden Uzman Öğretmen / Yazar kadromuzla, tamamen ücretsiz **Coğrafya Canlı Ders** imkânından faydalanabilirsiniz.

Coğrafya Canlı Ders için kitabınızın kapağında bulunan şifreyi kazıyarak **www.soru.pro** adresinden kayıt yapınız.



soru.pro üzerinden **KPSS Coğrafya Soru Bankası** video derslerine ulaşmak için yandaki **QR Kodu** okutup, sisteme **giriş** yapabilirsiniz.



Saray Mah. Fatih Sultan Mehmet Bul.
No: 316 • Kahramankazan / Ankara
0552 518 06 06 • akademidenizi.com.tr



WHATSAPP DESTEK HATTI
0552 518 06 06

