

İÇİNDEKİLER

■ TÜRKÇE

5

■ MATEMATİK

69

■ TARİH

141

■ COĞRAFYA

185

■ ANAYASA

231

■ GÜNCEL BİLGİLER

255

■ CEVAP ANAHTARI

265



SÖZCÜKTE VE SÖZ ÖBEKLERİNDE ANLAM

1. “Ben şiirlerimde doğayı değil, onların insan ruhunda bıraktığı izlenimleri duyurmaya çalışırım.” **diyen bir şair için aşağıdakilerden hangisi söylenemez?**

- A) Okuyucusunu kendine göre bir anlam çıkarmada özgür bıraktığı
- B) Anlamı kapalı, belirsiz tuttuğu
- C) Doğrudan doğruya anlatılması mümkün olmayan duyguları, renkli şiirsel bir dille, sembollerle yansıttığı
- D) Sezdirmeye, hissettirmeye önem verdiği
- E) Gözleme önem verdiği, gerçekçi bir yol izlediği

2. Birçok yazar, yazma eyleminin amacını belirlemeden yazdığını söyler. Başkalarını bilmem ama ben niçin yazdığımı çok iyi biliyorum. Yazdıklarım sesimizi aynı şarkıda birleştiriyorsa amacına çoktan ulaşmıştır.

Bu parçadaki altı çizili sözle anlatılmak istenen aşağıdakilerden hangisidir?

- A) Geçmişe özlem duyma noktasında birleşmek
- B) Müziği önemsemek
- C) Duygularını müzik yoluyla yansıtmak
- D) Hissedilen duygular bakımından ortak olmak
- E) Aynı zaman diliminde yaşamış olmak

3. Şairlik ne ilham ile ne de aşk ile ne bilgi ile. İyi ve yeni şiir demek el değmemiş hayaller sunmaktır.

Bu parçadaki altı çizili sözle anlatılmak istenen aşağıdakilerden hangisidir?

- A) Bilinmeyen, söylenmemiş hisler
- B) Aşksız, ilhamsız söyleyişler
- C) Kendiliğinden ortaya çıkan duygular
- D) Geleneğe uygun düşmeyen mecazlar
- E) Yeni ve ölümsüz düşünceler

4. Romanın ana (temel) ekseninde yaşlılık, bağımlılık I gibi konular ele alınıyor (işleniyor). Polisiyeden II

bilime kadar (değin) geniş bir yelpazeden seslenen III yani her tele dokunan, yazarın incelikli zekâsıyla IV

(bakış açısıyla) işlenmiş. Dünyanın geleceğine dair V

(konusunda) az da olsa kafa yoran herkese iyi gelecek bir roman bu.

Bu parçadaki numaralanmış sözlerden hangisinin araç içinde verilen açıklaması yanlıştır?

- A) I. B) II. C) III. D) IV. E) V.

5. Kış aylarında havalar soğuk diye (olduğu için) evde I

oturmak, dışarı çıkmamak kilo alma riskini II

(tehlikesini) artırıyor. Hâlbuki (oysa) kışın da her III

zamanki gibi aktif olmak gerekiyor. Egzersizi mutlaka IV

(kesinlikle) açık havada ya da spor salonlarında yapmak zorunda değilsiniz (yapmamalısınız).

V

Örneğin, apartmanınızda asansör yerine merdiven; evde yürüyüş bandı kullanabilir, karın hareketleri yapabilirsiniz.

Bu parçadaki numaralanmış sözlerden hangisi, araç içinde verilen anlamda kullanılmamıştır?

- A) I. B) II. C) III. D) IV. E) V.

6. Şair için önemli olan gaye kelimelerin gizli odalarının kapılarını okuyucuya açmaktır.

Bu cümledeki altı çizili sözün cümleye kattığı anlam aşağıdakilerden hangisidir?

- A) Kelimeleri farklı anlamlarıyla kullanmak
- B) Kelimelerin bilinmeyen anlamlarını okuyucuya iletmek
- C) Okuyucuya tatmadığı anlamsal zevkler tattırmak
- D) Kelime oyunları ile okuyucunun ilgisini çekmek
- E) Kelimelere yeni anlamlar kazandırmak



7. Bazı Anadolu kasabalarının kokusu vardır. Kimisi orman içine kurulmuştur, çam, reçine kokar. Kimisi deniz, yosun kokar. Kimisinin de dokusu tarihin imbiğinden süzülüp gelir. Ahşap evlere, camilere bu doku, bu koku siner.

Bu parçadaki altı çizili sözle anlatılmak istenen aşağıdakilerden hangisidir?

- A) Eskiye özgü nitelikleri barındırmak
B) Geçmişin geleceğe örnek olmasını sağlamak
C) Eski yapıların günümüzdekilerden daha değerli olduğunu vurgulamak
D) Geçmişle bugünü karşılaştırma olanağı yaratmak
E) Kasabanın kimi özelliklerini yansıtmak

8. **Aşağıdaki cümlelerin hangisinde “atmak” sözcüğü, doğrudan gözlenemeyen bir eylemi belirtmektedir?**

- A) Günlüğüne tarih attıktan sonra yazmaya başladı.
B) Çöpleri bir sinirle yerden alıp çöp kutusuna attı.
C) Tekneden atılan halatı çevik bir hareketle yakaladı.
D) Babasından haber alınca kötü düşünceleri kafasından attı.
E) Oda çok sıcak olunca üzerindeki battaniyeyi attı.

9. Deneyimleri sözcüklere dökmek, o deneyimlerden bir şeyler alıp götürür. Sözcükler, deneyimimizi bulandırır, farklılaştırır, sınıflandırır ve en sonunda onu yeni baştan düzenler. Bu, durgun suya bir taş atıp oluşan halkalar yüzünden suyu eskisi kadar açık seçik görememeye benzer.

Bu parçada, aşağıdakilerin hangisinde verilenler arasında benzerlik kurulmuştur?

- A) Uygun sözcükler seçmek – Suyu bulandırmak
B) Deneyimler edinmek – Yaşamı değerlendirmek
C) Yaşanılanlar hakkında konuşmak – Suyu açık seçik görmek
D) Başkalarıyla iletişim kurmak – Olguları sınıflandırmak
E) Deneyimleri sözcüklere dökmek – Suyu taş atmak

10. **Aşağıdakilerin hangisinde bir deyim açıklamasıyla birlikte verilmemiştir?**

- A) Çocuğun hâline çok üzüldüm, içim parçalandı.
B) Bu delikanlıyı gözüm tuttu, onu çok beğendim.
C) O, hesabını bilir, gereksiz yere para harcamaz.
D) Bu işi yapmakta epey zorlandım, çok güçlük çektim.
E) Onlar da yanımıza geldi, ortalık yine karıştı.

11. 19. yüzyılda Avrupa’da şiir yaşamı oldukça hareketliydi. Bu dönemde insanlar ışığı kendi içine, yüzüne tutmak istemekte, kendine olan güvensizliğin kaçınılmaz kıldığı bir taşkınlık yaşamaktaydı.

Bu parçada altı çizili sözle, Avrupalılarla ilgili olarak vurgulanmak istenen aşağıdakilerden hangisidir?

- A) Birtakım değerleri anımsatmak
B) Geleneksel şiiri reddetmek
C) Geldikleri noktayı sorgulamak
D) Şiiri özgünleştirmeye çalışmak
E) Benliğini öne çıkarmak

12. Tarihte birçok önemli olaya tanıklık eden, imparatorluklara sahne olan İstanbul’un bugün göremediğimiz kayıp yapıları, yazarın titiz ve ayrıntılı çalışmasıyla günümüze taşıyor, yeniden yükseliyor.

Bu parçada geçen “yeniden yükselmek” sözüyle anlatılmak istenen aşağıdakilerden hangisidir?

- A) Tarihe merak uyandırılmak istenmesi
B) Harap durumdaki binaların restorasyonunun yapılması
C) Artık var olmayan yapıların, okuyuculara tanıtılması ve hatırlatılması
D) İstanbul’un çok bilinmeyen yönlerinin anlatılması
E) Görkemiyle dikkat çeken mimari yapıların ele alınması



SÖZCÜKTE VE SÖZ ÖBEKLERİNDE ANLAM

1. Parçada yazar "... doğayı değil, onların insan ruhunda bıraktığı izlenimleri" duyurmaya çalıştığını söylemektedir. Öyleyse bu yazar gözleme dayalı gerçekçi bir yol değil, sezgi ve hissettirmeye yönelik coşku- lu bir tarz benimsemiştir. E seçeneği kesinlikle söy- lenemez.

(Cevap E)

2. "sesimizi aynı şarkıda birleştiriyorsa" sözünde geçen "birleştirmek" eylemi "bir araya getirmek", "ortak ol- mak" anlamlarını akla getirmektedir. "ses" ifadesi as- lında hissiyat anlamında kullanılmıştır. Bu anlamlar da D seçeneğinde verilmiştir.

(Cevap D)

3. Parçadaki altı çizili söz yeni, daha önce dillendirilme- miş olanı anlatmaktadır. Bu anlam örüntüsünü de A seçeneğindeki ifade tamamlamaktadır.

(Cevap A)

4. Bu tip sorularda parantez içinde verilen ifadeyi, altı çizili ifadenin yerine kullandığımızda açıklama doğ- ruysa cümlemin anlamında bir değişme olmaz. Bura- da göz önünde bulundurulması gereken en önemli noktalardan biri de cümlemin mantıksal yapısıdır. O hâlde parantez içinde verilen ifadeleri altı çizili ifade- ler yerine kullandığımızda; I, II, III ve V numaralı ifa- delerde tam bir örtüşme görebiliriz. IV. ifade de ise "zekâ ve bakış açısı" ifadelerinin birbirlerinin yerine kullanılmayacağı açıktır. Zekâ birçok zihinsel yete- neğin değişik durum ve koşullarda kullanılmasıdır. Bakış açısı ise bir olayı, konuyu, düşünceyi belirli bir yönde incelemektir. O hâlde bu iki kavram birbirleri- nin yerine kullanılamaz.

(Cevap D)

5. Bu tip sorularda parantez içinde verilen ifadeyi altı çizili ifade yerine kullanmak gerekir. Eğer parantez içinde verilen ifade altı çizili ifadeyle tam anlamıyla anlam ve mantık bakımından uyuyorsa bu ifade- ler birbirlerinin yerine kullanılabilir. I, II, III ve IV. söz- ler birbirlerinin yerine kullanılabilir. V. söz ve ayrıç içindeki ifade aynı anlamı taşımadığı için anlamca örtüşmemektedir, çünkü "yapmak zorunda değilsiniz" demek yapın veya yapmayın size kalmıştır. Pa- rantez içinde verilen "yapmamalısınız" gereklilik bil- dirmektedir. Ayrıca "mutlaka" ve "yapmamalısınız" ifadesi de cümlemin yapısına uymamaktadır.

(Cevap E)

6. Altı çizili sözün içinde geçen "gizli" sözcüğü "bilinme- yen" ifadesini akla getirmektedir. O hâlde, cümlede- ki altı çizili sözün kattığı anlam "Kelimelerin bilinme- yen anlamlarını okuyucuya iletmek" olabilir.

(Cevap B)



7. Parçadaki "tarihin imbiğinden süzülüp gelir" sözüyle, kasabanın tarihî unsurları bünyesinde bulundurması; yani eskiye özgün nitelikleri barındırması anlatılmak istenmiştir. "Tarih" ten kasıt eski olandır.

(Cevap A)

8. D seçeneğinde "kafasından attı" sözü "unuttu, düşünmeyi bıraktı vs." anlamlarını karşıladığı için gözlenmesi mümkün olmayan bir eylemdir.

**NOT**

Bu soru tipinde verilen eylemleri soyutluk–somutluk açısından inceleyebiliriz.

(Cevap D)

9. Parçada, suya atılan taşın, suyu eskisi kadar açık göstermemesi gibi, deneyimlerin de sözcüklerle anlatılması durumunda farklılaşacağı, olduğu gibi anlatılamayacağı vurgulanmıştır. Dolayısıyla, deneyimlerin sözcüklere dökülmesi suya taş atılmasına benzetilmiştir.

(Cevap E)

10. Bir deyimın açıklamasıyla verilmesi, deyimle birlikte deyimın ne anlama geldiği, ne demek olduğunu söylemesidir. Seçeneklerdeki deyimler ve açıklamaları şöyledir:

A seçeneğinde "içi parçalanmak", çok üzölmek

B seçeneğinde "gözü tutmak", çok beğenmek

C seçeneğinde "hesabını bilmek", gereksiz yere para harcamamak

D seçeneğinde "güçlük çekmek", zorlanmak anlamındadır.

E seçeneğinde verilen "ortalığın karışması" deyimının açıklanması cümlede verilmemiştir.

(Cevap E)

11. Bir şeye ışık tutulduğu zaman o şey görünür hâle gelir. Parçadaki bağlamda Avrupalıların ışığı kendi içine, yüzüne tutması da benliğini öne çıkarmak anlamındadır. Diğer seçenekler bir anlamı vermemektedir.

(Cevap E)

12. Parçanın genelinde İstanbul'un kayıp yapılarından bahsedilmektedir. Bu yapıların yeniden yükselmesi demek; önceden var olan ama şu anda bulunmayan bu yapıların tekrar ortaya çıkması demektir. Bu ifadeyi en iyi karşılayan seçenek "C" seçeneğidir. Artık var olmayan yapıların, okuyuculara tanıtılması ve hatırlatılması, o yapıların yeniden yükseldiğini gösterir.

(Cevap C)



SAYILAR

1. İki basamaklı ab sayısı ile ba sayısının toplamı 121'dir.
Buna göre, ab sayısı en çok kaç olabilir?

A) 29 B) 90 C) 91 D) 92 E) 93

2. a ve b birer rakam olmak üzere,

$$\frac{7a+b}{b} = 10$$

olduğuna göre, a · b çarpımı en çok kaçtır?

A) 36 B) 45 C) 54 D) 63 E) 72

3. x, y ve z negatif tam sayılar olmak üzere,

$$x \cdot y = 13$$

$$y \cdot z = 12$$

olduğuna göre, aşağıdaki sıralamalardan hangisi doğrudur?

A) $x > z > y$ B) $x > y > z$ C) $y > x > z$

D) $y > z > x$ E) $z > y > x$

4. abc üç basamaklı sayıdır.

$$\begin{array}{r} abc \\ \times 24 \\ \hline \cdot \cdot \cdot \\ + \cdot \cdot \cdot \\ \hline 5208 \end{array}$$

Yandaki çarpma işlemi yanlışlıkla ikinci satır sola kaydırılacağına sağa kaydırılarak işlem yapılmıştır.

Buna göre, a + b + c toplamı kaçtır?

A) 4 B) 6 C) 7 D) 12 E) 14

5. 3 tanesi 40 tan büyük 5 farklı doğal sayının toplamı 153 tür.

Buna göre, bu sayıların en büyüğü en fazla kaçtır?

A) 42 B) 47 C) 58 D) 69 E) 72

6. a ve b doğal sayılar olmak üzere,

$$a \cdot b = 37$$

olduğuna göre, a + b toplamı kaçtır?

A) 27 B) 28 C) 33 D) 36 E) 38

7. a ve b birer pozitif tamsayı olmak üzere,

$$a \cdot b \cdot c = 35$$

olduğuna göre, a + b toplamı en az kaçtır?

A) 2 B) 6 C) 8 D) 10 E) 12



8. a ve b birer pozitif tam sayı için

$$a = \frac{5 \cdot b}{6}$$

olduğuna göre, a aşağıdakilerden hangisi ola-
maz?

- A) 30 B) 36 C) 410 D) 500 E) 610

9. Aşağıdaki toplama ve çarpma tablolarında m, n ve k harfleri pozitif birer sayının yerine kullanılmıştır.

| | | |
|---|---|----|
| + | m | n |
| | | |
| n | k | |
| k | | 7m |

| | | |
|---|-----|---|
| x | m | n |
| m | | |
| n | 15m | |
| k | | |

Buna göre, m kaçtır?

- A) 6 B) 5 C) 4 D) 3 E) 2

10. Aşağıdakilerden hangisi tek sayıdır?

- A) $5^5 + 9^9$ B) $2^{20} + 4^4$ C) $10^{10} + 8^8$
D) $7^7 + 11^{11}$ E) $9^9 + 10^{10}$

11. A, B², A + B ardışık çift sayılar olmak üzere

$$A < B^2 < A + B$$

olduğuna göre, A – B farkı kaçtır?

- A) 2 B) 4 C) 6 D) 8 E) 10

12. A, B ve C birer rakam olmak üzere,

$$2 < A < B < C$$

$$B^2 = A \cdot C$$

koşulları sağlanıyor.

Buna göre, A + B + C toplamı kaçtır?

- A) 13 B) 14 C) 16 D) 19 E) 20

13. N doğal sayılar kümesi olmak üzere,

$$A = \{3n - 2 : 1 \leq n \leq 8, n \in \mathbb{N}\}$$

kümesinin elemanları toplamı kaçtır?

- A) 80 B) 84 C) 92 D) 96 E) 102

14. x ve y birer doğal sayı olmak üzere,

$$y \cdot (x + 1)$$

ifadesinin bir çift sayı olduğu biliniyor.

Buna göre,

I. x çift sayı ise y çift sayıdır.

II. y çift sayı ise x tek sayıdır.

III. y tek sayı ise x tek sayıdır.

ifadelerinden hangileri her zaman doğrudur?

- A) Yalnız I B) Yalnız II C) I ve III
D) II ve III E) I, II ve III



SAYILAR

1. $ab + ba = 121 \Rightarrow (10a + b) + (10b + a) = 121$

$$11a + 11b = 121 \Rightarrow 11(a + b) = 121$$

$$\Rightarrow a + b = 11$$

$$\begin{array}{cc} \downarrow & \downarrow \\ 9 & 2 \end{array}$$

a ve b rakam olduğundan $a = 9$, $b = 2$ seçersek,
 $ab = 92$ en büyük değerini alır.

(Cevap D)

2. $\frac{7a+b}{b} = 10 \Rightarrow 7a + b = 10b$

$$\Rightarrow 7a = 9b$$

$$\begin{array}{cc} \downarrow & \downarrow \\ 9 & 7 \end{array}$$

a ve b birer rakam olduğundan $a = 9$ ve $b = 7$ seçebiliriz.

O hâlde $a \cdot b = 9 \cdot 7 = 63$ bulunur.

(Cevap D)

3. 12 ve 13 aralarında asal sayılardır. x, y ve z de negatif sayılar olduğundan;

$y = -1$ için $x = -13$ ve $z = -12$ olur.

Buradan, $-1 > -12 > -13 \Rightarrow y > z > x$ bulunur.

(Cevap D)

4. $\begin{array}{r} abc \\ \times 24 \\ \hline . . . \\ + . . . \\ \hline 5208 \end{array}$ İşlemin ikinci satırının sola kayması gerekirken sağa kayması abc sayısının 24 yerine 42 ile çarpımının sonucunu verir.

$$5208 = abc \cdot 42$$

$$abc = \frac{5208}{42} = 124$$

$abc = 124$ ise $a + b + c = 1 + 2 + 4 = 7$ dir.

(Cevap C)

5. 3 tanesi 40 tan büyük 5 doğal sayı için 4 tanesini öğildiğince küçük alalım.

$$0 + 1 + 41 + 42 + x = 153$$

$$84 + x = 153$$

$$x = 153 - 84$$

$x = 69$ bulunur.

(Cevap D)

6. a ve b doğal sayı

$$37 \text{ asal sayı olduğundan } \begin{array}{cc} a \cdot b = 37 \\ \downarrow \downarrow \\ 1 \quad 37 \end{array}$$

$a + b = 1 + 37 = 38$ bulunur.

(Cevap E)

7. $a \cdot b \cdot c = 35$

$$\begin{array}{ccc} \downarrow & \downarrow & \downarrow \\ 1 & 1 & 35 \end{array}$$

$$a + b = 1 + 1$$

$$= 2 \text{ bulunur.}$$

(Cevap A)



8. $a, b, \in \mathbb{Z}^+$

$$a = \frac{5b}{6} \text{ İfadesinde } b = 6k \text{ alınırsa } (k \in \mathbb{Z}^+)$$

$$a = \frac{5b}{6} = \frac{5 \cdot \cancel{6}^1 k}{\cancel{6}_1} \Rightarrow a = 5k \text{ olur ki } a \text{ sayısı } 5 \text{ in katı ol-}$$

malıdır.

Buna göre a sayısı 36 olamaz.

Çünkü 36, 5'in tam katı değildir.

(Cevap B)

9. Çarpma tablosunda

$$n \cdot m = 15m \Rightarrow n = 15 \text{ bulunur.}$$

Toplama tablosunda

$$\begin{array}{r} n + m = k \\ + \quad k + n = 7m \\ \hline \end{array}$$

$$2n + m + k = k + 7m, (n = 15 \text{ idi})$$

$$2 \cdot 15 = 6m$$

$$m = 5 \text{ olur.}$$

(Cevap B)

10. $T + Ç = T$ sayı olduğundan

$$9^9 + 10^{10} = T + Ç = T \text{ bulunur.}$$

(Cevap E)

11. $A, B^2, A + B$ ardışık çift sayılar olduğundan, $A + B$ ile A arasındaki fark 4 tür. Yani $B = 4$ tür.

$$A < B^2 < A + B$$

↓

$$14 < 4^2 < 14 + 4$$

$$\text{O halde } A = 14 \quad B = 4 \text{ ise}$$

$$A - B = 10 \text{ olur.}$$

(Cevap E)

12.

$$2 < A < B < C$$

$$\begin{array}{ccc} \downarrow & \downarrow & \downarrow \\ 4 & 6 & 9 \end{array}$$

$$B^2 = A \cdot C$$

$$\begin{array}{ccc} \downarrow & \downarrow & \downarrow \\ 6^2 & 4 \cdot 9 & \end{array}$$

$$\text{O hâlde; } A + B + C = 4 + 6 + 9 = 19$$

(Cevap D)

13. $1 \leq n \leq 8$

$$A = 3n - 2$$

↓

$$n = 1, \quad A = 1$$

$$n = 2, \quad A = 4$$

$$n = 3, \quad A = 7$$

$$n = 4, \quad A = 10$$

$$n = 5, \quad A = 13$$

$$n = 6, \quad A = 16$$

$$n = 7, \quad A = 19$$

$$n = 8, \quad \begin{array}{r} + \quad A = 22 \\ \hline 92 \end{array}$$

(Cevap C)

14. $y \cdot (x + 1) = \text{Çift}$ ise çarpanların biri ya da ikisi de çift sayı olmalıdır.

I. x çift sayı ise $(x + 1)$ kesin tek sayıdır.

O hâlde sonucun çift sayı olabilmesi için y kesin çift sayı olmalıdır. (Doğru)

II. y çift sayı ise x kesinlikle tek sayıdır diyemeyiz. (Yanlış)

III. y tek sayı ise $(x + 1)$ kesin çift sayı olmalıdır. O zaman x in kesin tek sayı olması gerekir. (Doğru)

(Cevap C)



İSLAMİYET ÖNCESİ TÜRK DEVLETLERİ

1. Uygurlar Dönemi'nde ticari ilişkilerin gelişmesiyle kişiler arasındaki anlaşmalar yazılı hale getirilmiştir.

Bu durum, aşağıdaki alanlardan hangisiyle ilgili belgelerin oluşturulduğunu gösterir?

- A) Hukuk B) Siyaset C) Sanat
D) Edebiyat E) Askerlik

2. İslamiyet'ten önceki Türkler kendilerinden farklı inanışlara sahip insanlarla bir arada yaşamışlardır.

Bu durum Türklerde aşağıdakilerden hangisine bir kanıttır?

- A) Kararların alındığı bir meclislerinin olduğuna
B) Ülkeyi iki bölüm halinde yönettiklerine
C) Hoşgörülü olduklarına
D) Yerleşik hayata geçtiklerine
E) Birçok devlet kurduklarına

3. I. Su-lu Kağan
II. Baga Tarkan
III. Moyen-Çor

Yukarıdakilerden hangileri Türgiş hükümdarları arasında yer alır?

- A) Yalnız I B) Yalnız II C) Yalnız III
D) I ve II E) I, II ve III

4. **Moyen Çor Kağan ile ilgili aşağıdaki ifadelerden hangisi yanlıştır?**

- A) Adına dikilen yazıtlardan biri olan Altın-Köl yazıtında kazandığı savaşlardan bahsedilmektedir.
B) Tang hanedanlığı döneminde Çin'de çıkan isyanın bastırılması için Çin'e yardım etmiştir.
C) 758 yılında Çin İmparatorunun kızı ile evlenmiştir.
D) Çinli ve Soğdulara Selenga üzerinde Ordu Balık adında bir şehir kurdurtmuştur.
E) Hun ve Gök-Türk dönemlerinde olduğu gibi öncelikle Orta Asya'daki boyları kendine bağlamaya çalışmıştır.

5. **Aşağıdakilerden hangisi Türklerin eski ve köklü bir kültüre sahip olduklarının göstergesi sayılabilir?**

- A) Yerleşik hayata geçmeleri
B) İlk devletlerini Orta Asya'da kurmaları
C) Çeşitli dini inanışları benimsemeleri ve bunları yaşantılarına yansıtmaları
D) Boylar halinde birlikte yaşamaları
E) İslam dinini kabul etmelerine rağmen öz kimliklerini korumaları

6. **Aşağıdaki alfabelerden hangisi Türklere özgüdür?**

- A) Sogd B) Kiril C) Orhun
D) Latin E) Sanskrit

7. **İslamiyet'ten önce Türklerin,**

- I. tarımda sulama kanalları yapma,
II. halı-kilim dokumacılığı yapma,
III. silah, at koşum takımları, süs eşyası imal etme **uğraşlarından hangileri yerleşik hayata geçtiklerinin kesin bir kanıttır?**

- A) Yalnız I B) Yalnız II C) Yalnız III
D) I ve II E) II ve III

8. İlk Türk devletlerinde yabgu iç işlerinde serbest, dış işlerinde doğudaki hakana bağlıydı.

Bu durumun aşağıdakilerden hangisine kanıt olduğu savunulabilir?

- A) Hakanın iç işlerine, dış işlerinden daha az önem verdiğine
B) Komşu devletlerin güçlü olduğuna
C) Ülkenin federal bir yapıya sahip olduğuna
D) Hakandan sonra tahta çıkma hakkının yabguya ait olduğuna
E) Türklerin Gök-Tanrı inancının dışındaki inançlara da açık olduğuna



9. Asya Hunlarına ait at üzerinde çalınan telli müzik aleti aşağıdakilerden hangisidir?

- A) Bezeklik B) Ching-lu C) Karguy
D) Yarlığ E) Pi-pa

10. Göktürk Devleti'nde, Bilge Kağan'ın Budist tapınağı yaptırma isteğine Vezir Tonyukuk, Budizm'i benimsemenin Türklerin mücadelecı ruhunu kaybetmelerine neden olacağı düşüncesiyle karşı çıkmıştır.

Yalnız bu bilgiyle,

- I. toplumun dinî arayış içerisinde olduğu,
II. kağanın kararlarının sorgulanabildiği,
III. din değiştirmenin yaşam biçimini etkilediği

durumlarından hangilerine ulaşılabilir?

- A) Yalnız I B) Yalnız II C) I ve II
D) II ve III E) I, II ve III

11. Aşağıdakilerden hangisi İslamiyet'ten önce, Türklerde ölen kişinin eşyalarıyla birlikte gömüldüğü mezara verilen addır?

- A) Yuğ B) Şad C) Kurgan
D) Toy E) Tigin

12. • Ordularında "Amazon" adı verilen kadın askerler bulundurmışlardır.
• "Bozkırın kuyumcuları" olarak bilinirler.
• Pantolon ve kemer gibi malzemeleri dünyaya tanıtmışlardır.

Yukarıda özellikleri verilen Türk topluluğu aşağıdakilerden hangisidir?

- A) Uzlar B) İskitler C) Kıpçaklar
D) Avarlar E) Başkurtlar

13. Aşağıdakilerden hangisi, Hunların neden olduğu Kavimler Göçü'nün sonuçlarından biri değildir?

- A) Avrupa'nın etnik yapısının değişmesi
B) Avrupa'da bir Hun Devleti kurulması
C) Roma İmparatorluğu'nun bütünlüğünü ve üstünlüğünü yitirmesi
D) Avrupa'da skolastik düşüncenin egemen olması
E) Göktürk Devleti'nin yıkılması

14. Mukan Kağan zamanında Gök-Türk Devleti'nin Batı tarafındaki fetihler aşağıdakilerden hangisinin kumandasında yapıyordu?

- A) Tong Yabgu
B) Bilge Kağan
C) İstemi Yabgu
D) Kapgan Kağan
E) Tonyukuk

15. Eski Türk devletlerinde hükümdara, yönetme yetkisinin Tanrı tarafından verildiğine inanılmıştır.

Aşağıdakilerden hangisi, İslamiyet'ten önce kurulan Türk devletlerinde bu yetkiye verilen addır?

- A) Şad B) Kut C) Tekin
D) Toy E) Balbal

16. Orta Asya'da kurulan ilk Türk devletleriyle ilgili olarak,

- I. Ülke; töre adı verilen, yazılı olmayan hukuk kurallarına göre yönetilmiştir.
II. Toprak, yurt olarak adlandırılmıştır.
III. Hükümdara devlet yönetimiyle ilgili konularda yardımcı olmak üzere danışma meclisleri kurulmuştur.

yargılarından hangileri doğrudur?

- A) Yalnız I B) Yalnız III C) I ve II
D) II ve III E) I, II ve III



İSLAMİYET ÖNCESİ TÜRK DEVLETLERİ

1. Uygurlar, yerleşik hayata geçen ilk Türk devletidir. Bu durum Uygurların tarım ve ticaret alanında gelişmelerini sağlamıştır. Ticaret hayatı geliştikçe, insanlar arasındaki ticari ilişkileri düzenleme gerekliliği doğmuş bu da hukuk sisteminin gelişmesine ortam hazırlamıştır.

(Cevap A)

2. İslamiyet'ten önceki Türklerin farklı inançlardaki insanlarla bir arada yaşamaları ancak hoşgörüyle açıklanabilir. Türkler özellikle Kafkasya ve Uzakdoğu'daki egemenlikleri döneminde Budizm, Manihaizm, Musevilik gibi dinlerle karşılaşmışlardır. Din ve vicdan hürriyetinin daima mevcut olduğu Türkler, bu inançlara saygı göstermekle kalmamış bizzat resmi din olarak da benimsemişlerdir.

(Cevap C)

3. Türgişlerin bilinen ilk hükümdarı Baga Tarkan'dır. Baga Tarkan ilk kez kendi adına para bastıran Türk hükümdarıdır. Sulu kağan da Türgiş hükümdarıdır. Bu dönemin öne çıkan en önemli özelliği, Müslümanlara karşı direncin bu dönemde artmış olmasından kaynaklanmaktadır. Moyen-Çur ise bir Uygur hükümdarıdır.



PUAN KÜPÜ

751 yılında gerçekleşen ve Türk-İslam tarihi için bir dönüm noktası niteliğinde olan Talas Savaşı Moyen-Çur döneminde gerçekleşmiştir.

(Cevap D)

4. Moyen Çor Kağan, Uygur Kağanı'dır. B, C, D ve E seçeneklerinde yer alan gelişmeler Moyen Çor tarafından gerçekleştirilmiştir. Moyen Çor adına dikilen yazıt Altın-Köl değil, Şine-Usu yazıtıdır. Altın-Köl yazıtı, Kırgızlara aittir. Bu yazıt Yenisey Nehri havzasında bulunduğu için Yenisey Yazıtları olarak anılır. Bu yazıtlar Orhon Yazıtlarından daha eskidir.

(Cevap A)

5. Köklü bir kültüre sahip olmak, değişen koşullara karşı, eski geleneklerini devam ettirmekle mümkündür. Türkler VIII. yüzyılda İslamiyet'i kabul etmeye başlamışlardır. Buna rağmen, "Kut" anlayışı, toplumdaki ataerkil yapı, adetler, savaşçılık, örgütlenme gibi özellikleri devam etmiştir.

(Cevap E)

6. **Sogd Alfabeti:** Arami kökenli bir alfabedir. Uygur alfabesinin kökenidir.

Kiril Alfabeti: Yunan alfabesinden geliştirilmiş Rus alfabesidir.

Orhun Alfabeti: Türklerin kullandığı ilk alfabe olan Orhun Alfabeti dördü sesli olmak üzere 38 harften meydana gelmektedir.

Latin Alfabeti: Avrupa kökenli bir alfabedir. 1928 yılında TBMM tarafından kabul edilmiştir.

Sanskrit Alfabeti: Hint-Avrupa dil grubuna ait bir alfabedir. İlk kez Hindistan bölgesinde kullanılmıştır.

(Cevap C)

7. Yerleşik hayata geçmenin temel koşulu, toprağa bağlı olmaktır. Tarımda sulama kanalları yapma böylesi bir bağlılığı ifade eder. Halı, kilim dokumacılığı yapma, silah, at koşum takımları, süs eşyası imal etme toprağa bağlı olmayı gerektirmez. Göçebe toplumlarda da görülebilecek uygulamalardır.

(Cevap A)

8. İlk Türk devletlerinde ailelerin birleşmesiyle, urug adı verilen sülaleler, sülalelerin birleşmesiyle boylar oluşmaktaydı. Başlarında "boybey" adı verilen ve toplumun ileri gelenleri arasından seçilmiş bir yöneticinin bulunduğu boyların her birinin, belli bir toprağı ve askeri gücü vardı. İç işlerinde serbestçe kararlar alan bu boylar, dış işlerinde hakanın kararlarını uygulamak zorundaydı. Bu şekildeki devlet örgütlenmelerine federal devlet denmektedir.

(Cevap C)



9. Bezeklik, Uygur mabetlerinin en seçkin örneklerine verilen isimdir. Bu mabetler duvarları yoğun bir şekilde fresko tekniğiyle yapılmış ve dini anlamı olan resimlerle bezendiği için Bezeklik adını almıştır. Ching-lu, Hun dilinde kılıç anlamına gelmektedir. Karguy, eski Türk topluluklarında askeri amaçlı gözetleme kulelerine verilen isimdir. Yarlığ ise Kağan'ın emri demektir. Çin kaynaklarında Hunlara ait müzikle ilgili bilgilerden de söz edilmektedir. Dokuz delikten oluşan Pi-li adlı sazın cenaze törenlerinde kullanıldığı anlatılır. Hu-chia ise yukarısı dar, aşağısı kısa ve geniş bir alet olup melankolik havalar çalınırdı. Pi-pa ise at üzerinde çalınan telli bir müzik aletiydi.

**NOT**

Çin kaynaklarında farklı isimlerle geçen Hun adının en çok bilinen Hsiung-nu şekli ilk kez MÖ 318'de kullanılmıştır.

(Cevap E)

10. I. öncülde verilen toplumun dini arayış içerisinde olduğu yorumuna ulaşılamaz çünkü paragrafta yalnızca Hakan'ın bu yönde talebi vardır. II. öncülde Kağan'ın kararlarına Vezir Tonyukuk karşı geldiğine göre Kağan kararları sorgulanabilir, III. öncüldeki yargı ise paragrafın son cümlesinde "Türklerin mücadelecilik ruhunu kaybetmeleri" şeklinde doğrudan vurgulanmıştır.

(Cevap D)

11. İslamiyet'ten önce Türklerde ölen kişilerin eşyaları ile birlikte gömüldükleri mezarlara "Kurgan" denirdi. Yuğ, ölen kişinin arkasından düzenlenen cenaze merasimidir. Şad, hükümdarların büyük oğullarına verilen isimdir. Toy hem önemli devlet meselelerinin görüldüğü kurullara hem de önemli günlerde düzenlenen ziyafetlere, şölenlere verilen isimdir. Tigin ise hükümdarın erkek çocuklarına verilen isimdir.

(Cevap C)

12. Özellikleri verilen Türk topluluğu MÖ 8000-300 yılları arasında varlık göstermiş olan İskitlerdir. Pers kaynaklarında ilk atlı göçebe Türk topluluğu olarak bilinen İskitler, Sakalar ismiyle de anılmaktadır.

(Cevap B)

13. Kavimler Göçü (375) sonunda Avrupa'nın etnik yapısı değişmiş, Roma İmparatorluğu zayıflayarak parçalanmış (395), Avrupa'da dine dayalı olan skolastik düşünce egemen olmuş ve Avrupa Hun Devleti kurulmuştur. Ancak Göktürk Devleti Kavimler Göçü'nden çok sonra 552 yılında Orta Asya'da kurulmuş ve 630 yılında yıkılmıştır. Bu nedenle Avrupa'yı etkileyen Kavimler Göçü ile ilgisi yoktur.

**PUAN KÜPÜ**

Yaklaşık 350 yıllarında Orta Asya'dan çıkan Hunların 375 yılında Gotların yaşadığı bölgeye girmesiyle kavimler göçü başlamıştır.

(Cevap E)

14. Bumin Kağan, I. Göktürk Devleti'ni kurunca doğu kanadını kendisi, batı kanadını ise kardeşi İstemi Yabgu yönetmiştir. Bumin Kağan 553 yılında ölünce yerine oğlu Mukan Kağan geçmiş bu tarihten itibaren Mukan ülkeyi amcası İstemi ile beraber yönetmeye başlamıştır. Mukan Kağan, bütün Gök-Türk Devleti'nin hükümdarı olmakla beraber, daha çok devletin doğu kısmıyla ilgileniyor, batı kısmını ise devletin kuruluşundan beri Tanrı Dağları'nın kuzeyindeki Aktağ'da oturan İstemi Yabgu idare ediyordu.

**NOT**

Mukan Kağan, Kırgızları Göktürk hakimiyetine bağlayan hükümdardır. Ayrıca kızı da Çin İmparatoru ile evlenerek ülkenin kraliçesi olmuştur.

(Cevap C)

15. Kut anlayışı İslam Öncesi Türk Devletlerinden başlayarak Osmanlıya kadar devam eden bir egemenlik anlayışıdır. Bu anlayışta, devleti yönetme yetkisinin yöneten aileye Tanrı tarafından verildiğine inanılırdı.

(Cevap B)

16. İslamiyet öncesi Orta Asya'da kurulan ilk Türk devletleri ülkeyi töre adı verilen yazılı olmayan hukuk kurallarına göre yönetmişlerdir. Devlet yönetiminde hükümdara yardımcı olmak üzere kurultay (Toy, Kengeş) adı verilen danışma meclisleri kurmuşlardır. Ayrıca toprağa yurt adını vermişlerdir.

(Cevap E)



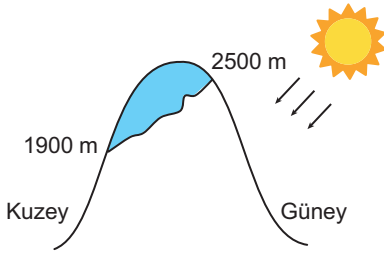
TÜRKİYE'NİN COĞRAFİ KONUMU

1. Türkiye Kuzey Yarım Küre'nin Orta Kuşağında yer alır.

Buna göre, Türkiye'de güneş ışınlarının tutulma oranının artmaya başladığı bir dönemde aşağıdaki durumlarından hangisinin azalmaya başladığı söylenir?

- A) Gündüz süresi
B) Gölge boyu
C) Gece süresi
D) Güneş ışınlarının atmosferde aldığı yol
E) Güneş ışınlarının enerji kaybı

2. Aşağıdaki şekilde Türkiye'de yer alan bir dağın kuzey ve güney yamaçlarında oluşan kar sınırı gösterilmiştir.



Bu şekle göre, aşağıdakilerden hangisini söylemek yanlış olur?

- A) Dağın güney yamaçları yerleşmeye daha uygundur.
B) Kuzey yamaçta kar sınırının yükseltisi daha fazladır.
C) Güney yamaçta ekilen tarım ürünleri daha erken olgunlaşır.
D) Kuzey yamaçta yıllık sıcaklık ortalamaları daha düşük olur.
E) Güney yamaçta güneşlenme süresi daha fazladır.

3. Avrupa'ya taşınacak petrol ve doğal gaz boru hatlarının ülkemizden geçmesi, ülkemiz ile ilgili;

- I. matematik konumu,
II. jeopolitik konumu,
III. jeolojik yapı

özelliklerden hangilerinin öneminin artmasında etkilidir?

- A) Yalnız I B) Yalnız II C) Yalnız III
D) I ve II E) I ve III

4. Türkiye'de yaşanan aşağıdaki durumların hangisinin ortaya çıkmasında enlemin etkili olduğu savunulabilir?

- A) Kıyıların iç kesimlere göre daha fazla yağış alması
B) İçdir'in yerel saatinin İzmit'ten ileri olması
C) Akdeniz Bölgesi'nde karstik arazinin daha geniş alan kaplaması
D) Antalya'da kışların İstanbul'dan ılık geçmesi
E) Ege Bölgesi'nde fay hatlarının yoğunluğuna bağlı olarak deprem olasılığının yüksek olması

5. Aşağıda verilen Türkiye'ye ait konum özelliklerinden hangisi, Türkiye'nin;

- güneş ışınlarını alışı açısı,
- gece-gündüz sürelerinin değişimi,
- yaşadığı mevsim şartları

özelliklerini etkilemez?

- A) Türkiye, Kuzey Yarım Küre'de yer alır.
B) Türkiye, dönenceler dışında yer alır.
C) Türkiye, Doğu Yarım Küre'de yer alır.
D) Türkiye, Orta Kuşak'ta yer alır.
E) Türkiye, Kutup Dairelerinin dışında yer alır.

6. Türkiye, Kuzey Yarım Küre'de yer alır.

Aşağıdaki özelliklerden hangisine sahip olması, Türkiye'nin bu durumunu kanıtlamakta kullanılmaz?

- A) Kuzeyinden esen rüzgârların sıcaklığı düşürmesi
B) Dağların güneye bakan yamaçlarının daha sıcak olması
C) Güneş ışınlarının dik açıyla düşmemesi
D) Cisimlerin öğle vakti gölgelerinin kuzeyi göstermesi
E) Güney kıyılarındaki denizlerin tuzluluk oranının daha fazla olması



7. Ankara'da,
- yıllık sıcaklık farklarının oluşması,
 - gece-gündüz süresinin değişmesi,
 - güneşin doğuş-batış saatlerinin değişmesi,
 - güneş'in ufuk düzlemi üzerindeki yüksekliğinin yıl boyunca değişmesi

gibi özellikler, aşağıdakilerden hangisinin sonucu olarak ortaya çıkmıştır?

- A) Dünya'nın günlük hareketinin
B) Dünya'nın küresel şeklinin
C) Eksen eğikliği ve yıllık hareketin
D) Dünya'nın yörüngesinin elips şeklinde olmasının
E) Dünya'nın batıdan doğuya doğru dönmesinin

8. Eskişehir'de bir gözlemci elinde 1 metre uzunluğundaki cismi yatay bir düzleme dik olarak yerleştirip, yıl boyunca her gün tam öğle vakti gölge boyunu tespit eder.

Bu gözlemcinin Eskişehir'de cismin gölge boyunun tam sıfır metre olduğunu gözlemlemesi olanaklı mıdır? Neden?

- A) Olanaksızdır. Çünkü Eskişehir dönenceler dışında yer alır.
B) Olanaklıdır. Çünkü Eskişehir'e öğle vakti güneş ışınları dik gelebilir.
C) Olanaksızdır. Çünkü Eskişehir Kuzey Yarım Küre'de yer alır.
D) Olanaksızdır. Çünkü Eskişehir'de karasal iklim şartları yaşanır.
E) Olanaklıdır. Çünkü Eskişehir Kutup Dairelerinin dışında yer alır.

9. Aşağıda Türkiye'yi çevreleyen denizlerin tuzluluk oranları verilmiştir.
- Akdeniz ‰ 38
 - Ege Denizi ‰ 36
 - Marmara Denizi ‰ 24
 - Karadeniz ‰ 18

Buna göre, aşağıdakilerden hangisi tuzluluk oranının bu şekilde değişmesini daha iyi açıklar?

- A) Sıcaklık B) Derinlik C) Yıllık yağış miktarı
D) Yüz ölçüm E) Yer şekilleri

10. Dünya kendi eksenini etrafında batıdan doğuya doğru döner.

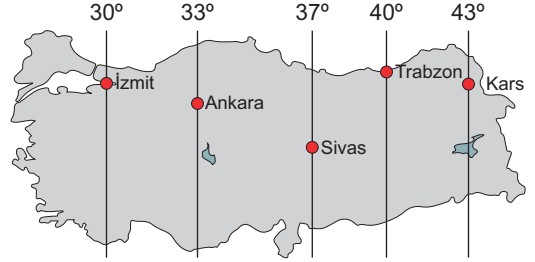
Buna göre;

- I. Gece-gündüzün birbirini izlemesi,
II. Doğunun yerel saatinin daha ileri olması,
III. Batıda Güneşin daha geç doğması,
IV. Kıyılarda meltem rüzgârlarının oluşması

sonuçlarından hangileri; Dünya'nın dönüş yönünün batıdan doğuya doğru değil de doğudan batıya doğru olması hâlinde değişikliğe uğrayacaktır?

- A) Yalnız I B) Yalnız IV C) I ve III
D) II ve III E) I ve IV

11. Aşağıdaki Türkiye haritasında beş ayrı kentimizin boylamları gösterilmiştir.



Yalnızca bu haritadaki bilgilerden yararlanarak;

- I. Yerel saati daha ileri olan kent hangisidir?
II. Güneşin en son batacağı kent hangisidir?
III. İzmit – Sivas arasındaki yerel saat farkı ne kadardır?
IV. Trabzon – Kars arasındaki kuş uçuşu uzaklık ne kadardır?

gibi sorulardan hangilerine cevap verilemez?

- A) Yalnız I B) Yalnız II C) Yalnız IV
D) II ve III E) II ve IV

12. Aynı coğrafi bölgede bulunmasına karşın, Trabzon'da yerel saatin Kastamonu'dan ileri olmasına, Trabzon'un aşağıdaki özelliklerinden hangisi etkilidir?

- A) Kıyıda yer alması
B) Daha doğuda olması
C) Ortalama yükseltisinin daha az olması
D) Yüz ölçümünün daha küçük olması
E) Güneyinde sıradağların olması



TÜRKİYE'NİN COĞRAFİ KONUMU

1. Türkiye'de Güneş ışınlarının daha fazla tutulmaya başladığı dönemde Türkiye kış mevsimine giriyor demektir. Buna göre kış mevsiminde Türkiye'de gündüz süreleri azalır. Aynı zamanda bu dönemde Türkiye'ye ulaşan güneş ışınları daha uzun yol takip eder. Bu yüzden enerji kayıpları artar. Kışa doğru yaklaştıkça her geçen gün eğik gelen güneş ışınları cisimlerin gölge boylarının da uzamasına neden olacaktır.

(Cevap A)

2. Şekilde gösterilen dağın güney yamacı güneşe dönüktür. Buna "bakı etkisi" denir. Bu yüzden Türkiye'deki dağların güney yamacı daha sıcak olur. Ancak kuzey yamaçta kar sınırının yükseltisi daha fazladır demek yanlış olur. Çünkü kuzey yamaç daha soğuktur ve kar sınırı daha aşağılardan başlar. Zaten bu durum şekil üzerinde de açıkça görülmektedir. Bakı etkisine bağlı olarak Türkiye'de;

- Dağların güney yamaçları kuzey yamaçlarından daha sıcaktır.
- Dağların güney yamaçlarından orman üst sınırı daha yüksektir.
- Dağların güney yamaçlarında kalıcı kar sınırı daha yüksektir.
- Dağların güney yamacında tarım ürünleri daha erken olgunlaşır.
- Güney yamaçlarda yerleşme daha fazladır.



PUAN KÜPÜ

Türkiye'de yaşayan insanların ev satın alırken veya kiralarken güney cephe olan evleri tercih etmesi; bakı faktörünün günlük hayata olan etkisine bir örnektir.

(Cevap B)

3. Jeopolitik konum: Dünya üzerindeki herhangi bir yerin askerî, siyasi, kültürel ve ekonomik açıdan önemini ifade eder. Boru hatlarının ülkemiz toprakları üzerinden geçmesi, ekonomik, askerî ve siyasi açıdan topraklarımızın Dünya üzerindeki önemini artırmıştır.

(Cevap B)

4. Antalya'da kışların İstanbul'dan ılık geçmesinin nedeni enlemidir. Çünkü Antalya Ekvator'a daha yakındır ve enlem etkisine bağlı olarak güneş ışınlarını daha dik açıyla alır. Diğer seçeneklerde verilen durumların ortaya çıkmasında ise enlem etkili olduğu savunulamaz.

(Cevap D)

5. Türkiye'nin Doğu Yarım Küre'de yani başlangıç meridyeninin doğusunda yer alması sadece Türkiye'nin yerel saatinin Avrupa ve Amerika'daki ülkelerden daha ileri olması sonucunu ortaya çıkarır. Türkiye'nin bu özelliği soruda verilen güneş ışığı, gece-gündüz süresi vb. özellikleri etkilemez.

(Cevap C)

6. Türkiye Kuzey Yarım Küre'de yer aldığından kuzeyden esen rüzgârlar kutuplardan eseceğinden sıcaklığı düşürür.

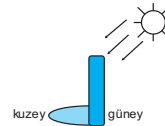
Türkiye'deki dağların yıl boyunca güneye bakan yamaçları Güneş'ten daha çok enerji alacağından daha sıcaktır.



NOT

Deniz suyu sıcaklığı ve tuzluluk oranı en az Türkiye'nin kuzeyinde, en fazla ise güneyindedir. Örneğin; Bodrum'da deniz suyu sıcaklığı 23°C iken Amasra'da (Bartın) 17°C'dir.

Türkiye'ye güneş ışığı yıl boyunca güneyden geleceği için cisimlerin gölgesi de kuzeyi gösterecektir.



Türkiye'nin güneyindeki kıyıları Ekvator'a daha yakındır. Bu yüzden sıcaklık ve buharlaşma daha fazladır. Bu durum da tuzluluk oranının fazla olmasına yol açar. Ancak Türkiye dönenceler dışında yer aldığından güneş ışınları dik açıyla düşmez.

(Cevap C)



7. Dünya'nın yıllık hareketi ve eksen eğikliğine bağlı olarak Ankara'da:

- Yıllık sıcaklık farkları oluşur.
- Gece-gündüz süresi değişir.
- Güneşin doğuş ve batış saatleri değişir.
- Mevsimler oluşur.
- Gölge boyları değişir.

(Cevap C)

8. Eskişehir dönenceler dışında yer alır. Bu yüzden asla güneş ışınlarını dik açıyla alamaz ve asla Ankara'daki cisimlerin gölge boyu sıfır olmaz.

**PUAN KÜPÜ**

Türkiye'deki bir cismin gölgesi; yaz mevsiminde daha kısadır; yıllık hareket öğlen vakti daha kısadır; günlük hareket kuzeydekilere oranla yıl boyunca daha kısadır; enlem

(Cevap A)

9. Türkiye'de enlem etkisine bağlı olarak kuzeye doğru gidildikçe sıcaklıklar azalır. Buna bağlı olarak da güneyden kuzeye; yani Akdeniz'den Karadeniz'e doğru deniz sularındaki buharlaşma ve dolayısıyla denizlerin tuzluk oranı azalır.

(Cevap A)

10. Eğer Dünya'nın dönüş yönü değişirse Güneş batıdan doğacak ve batının yerel saati daha ileri olacaktır. Çünkü bu iki durum özellikle günlük hareketin dönüş yönü ile ilgilidir. Ancak Dünya'nın dönüş yönü değişse bile; yine gece-gündüz ar dalanacak ve meltem rüzgârları yine oluşacaktır. Bu iki durum günlük hareket ile ilgilidir.

(Cevap D)

11. Haritada İzmit, Ankara, Sivas, Trabzon ve Kars kentlerimizin boylam değerleri gösterilmiştir. Bu kentlerimiz ile ilgili boylam değerlerinden yararlanarak;

Yerel saatin daha ileri olduğu kentin Kars olduğu,

Güneş'in en son İzmit'te batacağı,

İzmit ile Sivas arasında

$$((37^\circ - 30^\circ) = 7^\circ \times 4 \Rightarrow 28')$$

28' yerel saat farkı olduğu yanıtlarına ulaşılabilir. Ancak boylamlar arası mesafe bilinmediğinden Trabzon – Kars kentleri arası kuş uçuşu uzaklığın ne kadar olduğu sorusuna yanıt bulunamaz.

**NOT**

Ardışık iki meridyen yayı arası zaman farkı her yerde 4 dakikadır. Ancak ardışık iki meridyen yayı arasındaki mesafe kutuplara doğru kısalmır.

(Cevap C)

12. Farklı meridyen yayları üzerinde yer alan noktalarda yerel saat farklı, aynı meridyen yayı üzerinde yer alan noktalarda ise yerel saat aynıdır. Doğudaki yerlerde yerel saat daha ileridir. Trabzon ve Kastamonu farklı meridyen yayları üzerinde bulunur. Trabzon'un Kastamonu'ya göre daha doğuda yer alması bu merkezin yerel saatinin ileri olmasını sağlamıştır.

(Cevap B)



HUKUKA GİRİŞ (TEMEL KAVRAMLAR)

1. Aşağıdakilerden hangisi fiil ehliyetine tam sahip olmayı etkilemez?

- A) Akıl zayıflığı B) Sarhoşluk C) Yaş
D) Akıl hastalığı E) Cimrilik

2. Toplumdaki düzenin sağlanması ve korunması için kişilere hak ve ödevler yükleyen kurallara ne ad verilir?

- A) Ahlak kuralları
B) Hukuk kuralları
C) Görgü kuralları
D) Din kuralları
E) Sosyal düzen kuralları

3. Aşağıdakilerden hangisi hukuk kurallarının özelliklerinden biri değildir?

- A) Değişkendir.
B) Süreklidir.
C) Özeldir.
D) Soyuttur.
E) Yaptırım maddidir.

4. Aşağıdakilerden hangisi özel hukuk alanına girmez?

- A) Medeni hukuk
B) İdare hukuku
C) Borçlar hukuku
D) Ticaret hukuku
E) Devletler özel hukuku

5. I. Örf ve âdet

II. Cumhurbaşkanlığı Kararnamesi

III. Doktrin

Yukarıdakilerden hangileri hukukun asıl kaynakları arasında yer alır?

- A) Yalnız I B) Yalnız II C) Yalnız III
D) I ve II E) II ve III

6. Ayırt etme gücüne sahip 16 yaşında bir kişi için aşağıdakilerden hangisi söylenebilir?

- A) Tam ehliyetlidir.
B) Tam ehliyetsizdir.
C) Sınırlı ehliyetlidir.
D) Sınırlı ehliyetsizdir.
E) Hak ehliyetine sahip değildir.

7. Dernek kurma hürriyeti ile ilgili aşağıdaki ifadelerden hangisi yanlıştır?

- A) Dernek kurma hürriyeti, kamu düzeni gerekçe gösterilerek kısıtlanabilir.
B) Kimse dernekte kalmaya zorlanamaz.
C) Dileyen izin almadan dernekten çıkma hakkına sahiptir.
D) Herkes dernek kurma hakkına sahiptir.
E) Dernek kurabilmek için önceden izin alınması zorunludur.

8. Kişiyi kanunlara zorlamak üzere suç karşılığında uygulanan yaptırımlara ne ad verilir?

- A) Ceza
B) Müeyyide
C) Hükümsüzlük
D) Butlan
E) Tazminat



9. Aşağıdakilerden hangisi uygulanmakta olan hukuku değil, amaçlanan hukuku ifade eder?

- A) Doğal hukuk
- B) Objektif hukuk
- C) Müspet hukuk
- D) Şekli hukuk
- E) Mevzu hukuk

10. Kişilerin diğer kişilerle olan ilişkilerinde nasıl davranması gerektiğini düzenleyen kurallara ne ad verilir?

- A) Hukuk kuralları
- B) Görgü kuralları
- C) Objektif ahlak kuralları
- D) Subjektif ahlak kuralları
- E) Din kuralları

11. Borçlarını ödemeyen bir borçlunun, borcunu devlet gücü ile zorla yerine getirmeye mecbur edilmesine ---- denir.

Bu cümlede verilen boşluğa aşağıdakilerden hangisi gelmelidir?

- A) cebri icra
- B) tazminat
- C) ceza
- D) iptal
- E) hükümsüzlük

12. Hem yasada hem de yazısız hukukta mevcut bir durumu çözecek kuralın bulunmaması durumu na ne ad verilir?

- A) Kanun boşluğu
- B) Hukuk dışı alan
- C) Açık boşluk
- D) Örtülü boşluk
- E) Hukuk boşluğu

13. Vergi, resim, harç ve benzeri mali yükümlülüklerin ancak kanunla konulup kanunla değiştirilebileceğini ifade eden ilke aşağıdakilerden hangisidir?

- A) Kanunilik esası
- B) Vergide adalet ilkesi
- C) Vergide genellik ilkesi
- D) Ölçülülük esası
- E) Devredilmezlik esası

14. Bir sosyal düzen kuralına uyulmadığında gösterilen tepkiye ne ad verilir?

- A) ceza
- B) müeyyide
- C) butlan
- D) tazminat
- E) cebri icra

15. Suç oluşturan fiil ve davranışların nelerden ibaret bulunduğunu, bu fiil ve davranışlarda bulunanlara ne gibi müeyyideler uygulanacağını gösteren hukuk kurallarından oluşmuş kamu hukuku dalı aşağıdakilerden hangisidir?

- A) Anayasa hukuku
- B) Ceza hukuku
- C) İdare hukuku
- D) Medeni hukuk
- E) Vergi hukuku

16. Hak ehliyeti kazanılmasının temel şartı aşağıdakilerden hangisidir?

- A) Ayırt etme gücüne sahip olmak
- B) Ergin olmak
- C) Kısıtlı olmamak
- D) Sağ ve tam doğmak
- E) Sınırlı olmamak



HUKUKA GİRİŞ (TEMEL KAVRAMLAR)

1. Fiil ehliyetinin şartları, ergin (reşit) olmak, ayırt etme gücüne sahip olmak ve kısıtlı olmamaktır (akıl hastalığı, akıl zayıflığı, kötü yaşama tarzı, kötü yönetim, uyuşturucu madde bağımlılığı ve savurganlık).

(Cevap E)

2. Toplumdaki düzenin sağlanması ve korunması için kişilere hak ve ödevler yükleyen kurallara sosyal düzen kuralları denir. Sosyal düzen kuralları 5'e ayrılır:

- I. Din kuralları
- II. Hukuk kuralları
- III. Görgü kuralları
- IV. Örf ve âdet kuralları
- V. Ahlak kuralları

(Cevap E)

3. Hukuk kuralları kişilerin toplumla ve devletle olan ilişkilerini düzenleyen kamu gücü ile desteklenmiş madde yaptırımı olan kurallardır.

Hukuk kurallarının;

- **değişken olması**, günün koşullarına göre değişmesini
- **sürekli olması**, yürürlükte kaldığı sürece uygulanmasını
- **soyut olması**, genel hükümler bildirmesini ifade eder.

Hukuk kuralları özel değil geneldir; yani herkese uygulanır.

(Cevap C)

4. Kamu hukuku; kişilerin, kamu kurumları ve devletle olan ilişkisi aynı zamanda kamu kurumları ile devletlerin birbirleriyle olan ilişkilerini düzenler. Taraflardan biri devlettir ve üstün durumdadır. Özel hukuk ise kişilerin birbirleriyle olan ilişkilerini düzenler. Taraflar arasında eşitlik söz konusudur. İdare hukukunda taraflardan biri devlet olduğu için, kamu hukuku alanına girer.

(Cevap B)

5. Doktrin hukukun yardımcı kaynaklarından. Hukukun asıl kaynakları ise;

A) Yazılı Kaynaklar (Mevzu Hukuk)

- Anayasa
- Kanun
- Cumhurbaşkanlığı Kararnamesi
- Uluslararası Antlaşma
- Yönetmelik

B) Yazısız Kaynak

- Örf ve adet hukuku

(Cevap D)

6. **Tam Ehliyetliler:** Ayırt etme gücüne sahip, ergin ve kısıtlı olmayan kimselerdir.

Tam Ehliyetsizler: Ayırt etme gücü bulunmayan kişilerdir. Bunların ne fiil ehliyeti ne de haksız fiil ehliyeti vardır. **Örnek:** Akıl hastaları, akıl zayıflığı, madde bağımlılığı olanlar

Sınırlı Ehliyetliler: Ayırt etme gücüne sahip, ergin ve hakkında kısıtlılık kararı alınması için yeterli neden bulunmayan kimselerdir. Kanun koyucu bazı sebeplerden dolayı bu kişileri koruma altına almıştır. Bu kişilere bazı işlemleri yaparken onaylarının alınması veya mallarının idaresi için yasal danışman atanması uygun görülmüştür.

Sınırlı Ehliyetsizler: Ayırt etme gücü olup ergin olmayan veya haklarında kısıtlılık kararı bulunan kişilere sınırlı ehliyetsizler denir. **Örnek:** 16 yaşında ayırt etme gücü yerinde olan bir çocuk.

(Cevap D)

7. 1982 Anayasası'nın 33. maddesi dernek kurma hürriyetini düzenlemektedir. Buna göre;

- Herkes önceden izin almaksızın dernek kurma, bunlara üye olma ya da üyelikten çıkma hürriyetine sahiptir.
- Hiç kimse bir derneğe üye olmaya ve dernekte üye kalmaya zorlanamaz.
- Dernek kurma hürriyeti ancak millî güvenlik, kamu düzeni, suç işlenmesinin önlenmesi, genel sağlık ve genel ahlak ile başkalarının hürriyetinin korunması sebepleriyle kanunla sınırlanabilir.

(Cevap E)



8. Kişiyi kanunlara zorlamak üzere suç karşılığında uygulanan yaptırımlara **ceza** denir.

Müeyyide: Yaptırım demektir.

Hükümsüzlük: Yapılan bir işlemin hukukun gerektirdiği temel şartlara uymaması sonucu geçersiz sayılmasıdır.

Butlan: Bir hükümsüzlük çeşididir.

Tazminat: Bir hukuk kuralına aykırı davranılması sonucu bundan zarar gören kişinin zararının maddi veya manevi olarak karşılanmasıdır.

(Cevap A)

9. Doğal (ideal, tabii) hukuk olan değil, olması gereken hukuku ifade eder. İnsanın akılla ulaşabileceği yazılı olmayan hukuk kurallarıdır. Tabii hukuk teorisi, adalet kavramını hukukun temeli sayar.

(Cevap A)

10. Ahlak, objektif (nesnel) ve subjektif (öznel) ahlak kuralları olarak ikiye ayrılır.

Objektif ahlak kuralları; insanın diğer bireylere karşı olan ödevlerini bildirir.

Subjektif ahlak kuralları; insanın kendi nefesine karşı olan ödevleri ile meşgul olur.

(Cevap C)

11. **Cebri icra;** bir borç ilişkisinde, borcunu rızasıyla yerine getirmeyen borçlunun, devlet gücü aracılığıyla, bu borcunu zorla yerine getirilmesini sağlayan bir müeyyide çeşididir. Borç doğuran ilişkilerde, yükümlülüklerini yerine getirmeyen kimselere karşı devletin yetkili kıldığı makam ve kişiler tarafından uygulanan ve borcun yerine getirilmesini sağlayan tedbirlerin bütünüdür.

(Cevap A)

12. Somut bir olayla ilgili yazılı ve yazısız hukukta hiçbir hükmün bulunmaması durumunda ortaya çıkan boşluğa "hukuk boşluğu" denir.



NOT

Bazı konular hukuk dışı olduğu için bu konularda hukuki bir düzenlemenin yapılması beklenemez. Bu sebeple, bu alanlara ilişkin düzenlemenin bulunmasını kanunda boşluk anlamına gelmez.

(Cevap E)

13. Vergi kamu giderlerini karşılamak üzere devletin, tek taraflı olarak ve vergileme yetkisine dayanarak kişilerin gelir ve mallarından aldığı ekonomik değerlerdir. Soru öncülünde de belirtildiği gibi vergiler ancak "kanun" ile konulur, değiştirilir veya kaldırılabilir. Buna "kanunilik esası" denir.

(Cevap A)

14. Sosyal düzen kurallarının ihlali durumunda verilen tepkiye müeyyide yani yaptırım denir. Yaptırımlar maddi olabildiği gibi manevide olabilir.

(Cevap B)

15. Tanımı verilen kamu hukuku dalı "Ceza Hukuku"dur. Suç ve ceza kavramlarını inceleyen ceza hukuku, genel ve özel hukuku olmak üzere ikiye ayrılmaktadır.

(Cevap B)

16. Hak ehliyeti, kişinin hak sahibi olma ve yükümlülük altına girme ehliyetine denir. Hak ehliyeti pasif bir ehliyettir. Kişinin hak ehliyetine sahip olması için hukukun kişi olması yani sağ ve tam doğmuş olması yeterlidir. Bu açıdan yeni doğmuş bir bebek bile hak ehliyetine sahiptir. Hak ehliyeti embriyonun ana rahmine düşmesiyle başlar.

(Cevap D)



Türkiye ve Dünya ile İlgili Genel, Kültürel ve Güncel Sosyoekonomik Konular

1. 2023 NATO Liderler Zirvesi aşağıdaki ülkelerden hangisinde düzenlenmiştir?

- A) Litvanya B) İspanya C) Belçika
D) Türkiye E) Almanya

2. Üyelerinin güvenliğini sağlamak ve istikrarın gelişmesine katkıda bulunmak amacıyla, 1949 tarihinde kurulan uluslararası kuruluş aşağıdakilerden hangisidir?

- A) Kuzey Atlantik Örgütü (NATO)
B) Dünya Ticaret Örgütü (DTÖ)
C) Ekonomik İş Birliği ve Kalkınma Örgütü (OECD)
D) Avrupa Birliği (AB)
E) Uluslararası Para Fonu (IMF)

3. Türkiye aşağıdaki uluslararası örgütlerden hangisine üye değildir?

- A) İslam İşbirliği Teşkilatı
B) Bağımsız Devletler Topluluğu
C) Ekonomik İş Birliği Örgütü
D) Kuzey Atlantik Antlaşması Örgütü
E) Avrupa Güvenlik ve İş Birliği Teşkilatı

4. Aşağıdaki eserlerden hangisi 1998 Nobel Edebiyat Ödülü'nün sahibi Portekizli yazar Lose Saramago'ya ait değildir?

- A) *Kalecinin Penaltı Anındaki Endişesi*
B) *Körlük*
C) *Görmek*
D) *Ölüm Bir Varmış Bir Yokmuş*
E) *Mağara*

5. Türkiye'de yaratıcı fotoğrafçılığın uluslararası alanda ün kazanmış en önemli temsilcisi olan aşağıdaki sanatçılardan hangisi Ekim 2018'de hayatını kaybetmiştir?

- A) Şinasi Barutçu
B) Sami Güner
C) Ara Güler
D) Onur Ercoşkun
E) Kamil Fırat

6. Usta sanatçı Rasim Öztekin'in ortaoyununu temsil eden kavuğu devrettiği oyuncu aşağıdakilerden hangisidir?

- A) Şevket Çoruh
B) Türker İnanoğlu
C) Zafer Ergin
D) İlker İnanoğlu
E) Ferhan Şensoy

7. Aşağıdaki il gruplarından hangisinde yaşayanlar komşu şehirlerden birine geçerse UNESCO Dünya Mirası Listesi'ne sahip bir kültürel mirası ziyaret edebilirler?

- A) Artvin B) Siirt C) Düzce
D) Mersin E) Elazığ

8. Aşağıdaki şiiir-şair eşleştirmelerinden hangisi yanlıştır?

- A) *Memleketimden İnsan Manzaraları* - N. Hikmet Ran
B) *Sessiz Gemi* - Necip Fazık Kısakürek
C) *Aşk İki Kişiliktir* - Atalol Behramoğlu
D) *Yedi Güzel Adam* - Cahit Zarifoğlu
E) *Deli Kızın Türküsü* - Gülten Akın



9. 10 Nisan 2019'da bilim insanları aşağıdaki gökci-simlerinden hangisinin fotoğrafını ilk kez görüntü-lemiştir?

- A) Uzay boşluğu
- B) En büyük yıldız
- C) En büyük gezegen
- D) Kara delik
- E) En uzak yıldız

10. UNESCO Dünya Miras Listesi'nde bulunan ve ta-rihin bilinen en eski tapınağı olarak kabul edilen eser aşağıdakilerden hangisidir?

- A) Stonehenge Tapınağı
- B) Perre Antik Kenti
- C) Göbeklitepe Tapınağı
- D) Mısır Piramitleri
- E) Süleyman Mabedi

11. Aşağıdaki devletlerin hangisinde devlet başkanı doğrudan halk tarafından seçilmektedir?

- A) İtalya
- B) İngiltere
- C) Yunanistan
- D) Almanya
- E) Türkiye

12. Türkiye Cumhuriyeti Mahkemeleri'nin adli (resmi) bilirkişilik kurumu olarak yasa ile kurulan kuruluş aşağıdakilerden hangisidir?

- A) Ceza İnfaz Kurumu
- B) Türkiye İnsan Hakları ve Eşitlik Kurumu
- C) Türkiye Adalet Akademisi
- D) İşyurtları Kurumu
- E) Adli Tıp Kurumu

13. Tanımladığı hastalığa kendi ismi verilen Türk der-matoloji profesörü aşağıdakilerden hangisidir?

- A) Hulusi Behçet
- B) Gazi Yaşargil
- C) Ömer Özkan
- D) Yusuf Durlu
- E) Vural Fidan

14. Aşağıdaki ülkelerden hangisi, kişi başına düşen geliri çok yüksek olduğu hâlde "gelişmiş ülkeler" grubunda yer almaz?

- A) ABD
- B) Almanya
- C) İngiltere
- D) Suudi Arabistan
- E) Japonya

15. Aşağıdakilerden hangisi Kartal Tibet'in yönettiği yapımlardan biri değildir?

- A) *Tosun Paşa*
- B) *Umudumuz Şaban*
- C) *Şark Bülbülü*
- D) *Vurun Kahpeye*
- E) *Dünyayı Kurtaran Adamın Oğlu*

16. • 1974 Antalya Film Festivali'nde "En İyi Film" ödü-lünü almıştır.
• Yönetmenliğini Lütfi Ömer Akad, yapımcılığını Hür-rem Erman üstlenmiştir.
• Hülya Koçyiğit, Kamuran Usluer ve Hülya Sengül önemli oyuncularındandır.

Bu bilgiler aşağıdaki sinema filmlerinden hangisi-ne aittir?

- A) *Keşanlı Ali Destanı*
- B) *Düğün*
- C) *Çarklı Milyoner*
- D) *Tosun Paşa*
- E) *Sezercik Aslan Parçası*



Türkiye ve Dünya ile İlgili Genel, Kültürel ve Güncel Sosyoekonomik Konular

1. 2023 Nato Liderler Zirvesi Litvanya'nın başkenti Vilnius'ta yapılmıştır.

(Cevap A)

2. NATO; II. Dünya Savaşı'nın yıkıcı etkileri ve Sovyet Rusya'nın yayılmacı politikasına karşı, üyelerinin güvenliğini sağlamak ve istikrarın gelişmesine katkıda bulunmak amacıyla 1949'da kurulmuş askerî, siyasi nitelikli uluslararası bir örgüttür. ABD başkanlığında 12 ülkenin katılımıyla Washington'da kurulmuştur. Türkiye, Kore Savaşı'nda kazandığı başarılar sayesinde 1952 yılında NATO'ya üye olmuştur. Üyelik sürecinde NATO'nun operasyonlarına askerî destek veren Türkiye'nin bazı bölgelerinde NATO'ya ait üsler bulunmaktadır.

(Cevap A)

3. Türkiye A, C, D ve E'deki kuruluşlara üyedir. Fakat ülkemiz Bağımsız Devletler Topluluğun üyesi değildir.



PUAN KÜPÜ

Bağımsız Devletler Topluluğu (BDT): Sovyetler Birliği'nin dağılmasından sonra 12 devletten kurulan birliktir. Türkmenistan (2005), Gürcistan (2008) ve Ukrayna'nın (2014) ayrılmasıyla BDT'nin 9 üyesi kaldı.

(Cevap B)

4. B, C, D ve E'de verilen eserler Jose Saramago'ya aittir. Fakat *Kalecinin Penaltı Anındaki Endişesi* adlı roman 2019 Nobel Edebiyat Ödülü'nün sahibi Peter Handke'ye aittir.

(Cevap A)

5. Ara Güler yaratıcı fotoğrafçılıkta uluslararası üne sahip bir sanatçıdır. Sanatçımız 90 yaşında 17 Ekim 2018'de hayatını kaybetmiştir.

(Cevap C)

6. Usta sanatçı Rasim Öztekin 2020 yılında ortaoyunu temsil eden kavuğu "Baba Sahne"yi kuran Şevket Çoruh'da devretmiştir.

(Cevap A)

7. Artvin, Siirt, Düzce ve Elazığ'ın sınır komşularından herhangi birinde UNESCO Dünya Mirası Listesi'ne kayıtlı bir kültürel miras yoktur. Fakat Mersin'in sınır komşusu Konya'da Çatalhöyük Neolitik Kenti bulunmaktadır. Bu kültürel miras UNESCO Dünya Mirası Listesi'ne kayıtlıdır.

(Cevap D)

8. A, C, D ve E seçeneklerinde şiir-şair eşleştirmeleri doğrudur. Fakat Sessiz Gemi şiiri Yahya Kemal Beyatlı'ya aittir.

(Cevap B)



9. 10 Nisan 2019'da Event Horizon Teleskobu'nu kullanan bilim adamları M87 Galaksisinin merkezindeki kara deliğin fotoğrafını çekerek tarihte bir ilki gerçekleştirdi.

(Cevap D)

10. Stonehenge Tapınağı İngiltere'de yer alır. Bu tapınak MÖ 7000 yılında yapılmıştır. Perre Antik Kenti Adıyaman'da yer alır. MÖ 1. yüzyılda Kommagene Kralığı döneminde inşa edilmiştir. Mısır Piramitleri MÖ 7500 yılında inşa edilmiştir. Göbeklitepe Tapınağı MÖ 10.000 yılında inşa edilmiştir. İnsanlık tarihinin bilinen ilk ve en eski tapınağıdır.

(Cevap C)

11. Türkiye'de, devlet başkanının halk tarafından seçildiği "**Cumhurbaşkanlığı Hükümet Sistemi**" uygulanmaktadır. İngiltere'de meşruti monarşi vardır. İtalya, Yunanistan ve Almanya'da Cumhurbaşkanlarını Meclis seçer.



NOT

Türkiye dışında ABD Arjantin, Brezilya, İran, Güney Kore, Çin, Afganistan, Şili, Türkiye, Kıbrıs Cumhuriyeti, Kazakistan, Türkmenistan, Nijerya, Peru ve Endonezya başkanlık sistemi ile yönetilen belli başlı ülkelerdir.

(Cevap E)

12. Adli Tıp Kurumu Türkiye Cumhuriyeti Mahkemeleri'nin adli (resmi) bilirkişilik kurumu olarak yasa ile kurulan ve Adalet Bakanlığı'na bağlı olan bir kuruluştur.

(Cevap E)

13. Behçet hastalığı, dermatoloji profesörü Dr. Hulusi Behçet tarafından tanımlanmıştır.



PUAN KÜPÜ

"Vural Sendromu" Doç. Dr. Vural Fidan tarafından tanımlanmıştır.



NOT

Prof. Dr. Gazi Yaşargil, modern beyin ve sinir cerrahisinin kurucusu olarak kabul edilir.

(Cevap A)

14. Gelişmişlik, çok yönlü bir büyümeyi ifade eder. Suudi Arabistan'da petrol geliri sayesinde kişi başına düşen millî gelir çok yüksektir; ancak sosyal, teknik, siyasi, kültürel açıdan değerlendirildiğinde gelişmiş ülkeler grubuna girmemektedir.

(Cevap D)

15. "Vurun Kahpeye" filminin yönetmeni Lütfi Ömer Akad'dır.

(Cevap D)

16. Soru öncülünde hakkında bilgi verilen sinema filmi "Düğün"dür.

(Cevap B)