



AKADEMİ
DENİZİ

KAMU PERSONEL SEÇME SINAVI
LİSANS

GENEL YETENEK TESTİ
GENEL KÜLTÜR TESTİ

VİP•2

Bu testlerin her hakkı saklıdır. Hangi amaçla olursa olsun, testlerin tamamının veya bir kısmının yayınevimizin yazılı izni olmadan kopya edilmesi, fotoğrafının çekilmesi, herhangi bir yolla çoğaltılması, yayımlanması ya da kullanılması yasaktır. Bu yasağa uymayanlar gerekli cezai sorumluluğu ve testlerin hazırlanmasındaki mali külfeti peşinen kabullenmiş sayılır.

AKADEMİ DENİZİ YAYINCILIK

GENEL YETENEK TESTİ

1. Parçada geçen “yegâne” sözünün anlamı “ölümsüz” değil, “biricik, tek” tir. Diğer sözcüklerin anlamlarında bir yanlışlık yoktur.

(Cevap E)

2. “C” seçeneğinde “Buz örtüsünün 1,5 km derinliğe gizlemiş olduğu biliniyor.” cümlesinde bir kesinlik söz konusudur. Parçanın diğer cümlelerinde kesinlik anlamı verece ifadeler kullanılmamıştır.

(Cevap C)

3. Verilen cümlede birleşik yapıli sıfat yoktur. Diğer terimleri şöyle gösterebiliriz:

Özel ad: Çin, Asya

Belgisiz sıfat: bir, tüm

İsim tamlaması: halk sağlığı, ülkelerin ana gündemi

Tür adı: gün, virüs, ülke

(Cevap C)

4. “süreklili” sür – fiil kökü,
“taşıyor” taşı – fiil kökü,
“okumaya” oku – fiil kökü,
“bulamıyordu” bul – fiil köküdür.
“yanında” yan isim köküdür.

(Cevap B)

5. Öncüldeki dörtlükte zincirleme isim tamlaması yoktur. Diğer ifadelerin karşılıklarını şöyle gösterebiliriz: Hâl eki almış birden fazla sözcük: yokluğun- da, ateşler-i
Kalıcı isim olmuş ad-eylem: ekmek
Edat ve bağlaç: “hasretimle” sözcüğündeki “ile” edattır. “yaktım da” ifadesindeki “da” bağlaçtır
Tamlayanı düşmüş isim tamlaması: (senin) yokluğunda

(Cevap C)

www.akademidenizi.com.tr

AKADEMİ DENİZİ YAYINLARI

Genel Yetenek Testi

6. Yüklemin türüne göre cümleler isim cümlesi ve fiil cümlesi diye ikiye ayrılır. Yüklemi isim olan cümleler isim cümlesi, yüklemi fiil olan cümleler fiil cümlesidir. Buna göre:

“vardı” → isim

“öğrendim” → fiil

“verdim” → fiil


“sundular” → fiil

“büyüleyiciydi” → isim

(Cevap E)

7. II numaralı sözcükte görülen ses olayları şunlardır:

etki(gi)liyor → et ki li yor



görüldüğü: Ünsüz yumuşaması

hâletmeye: Ünsüz türemesi

(Cevap B)

8. Belgisiz sıfat ve zamirler iki sözcükten oluşuyorsa bitişik yazılmalıdır. Buna göre IV. sözcük olan “bir kaç saniye” belgisiz bir sıfat olduğu için “birkaç” sözcüğünün bitişik yazılması gerekirdi. Diğer sözcüklerin yazımı doğrudur.

(Cevap D)

9. Parçada, yaşanan zamandaki mimari yapılardan bir yakınma söz konusudur. Buna göre gelecek ifadenin modern zaman mimarisinin olumsuz, eksik yanlarını vurgulaması gerekir. Bu anlam ise II numaralı cümlede vardır.

(Cevap B)

10. 1. boşlukta açıklama yapılacağı için iki nokta, 2. boşlukta eş görevli kelime ve kelime gruplarını ayırmak için virgöl, 3. boşlukta cümle tamamlandığı için nokta kullanılmalıdır.

(Cevap C)

11. “O yıllar, taşranın insanı on yedi yaşından alıp bin yaşına getirdiği yıllardı.” cümlesinde geçen “alıp” sözcüğü zarf-fiildir, “getirdiği” sözcüğü ise sıfat-fiildir. Buna göre bu cümlede iki fiilimsi olduğunu söyleyebiliriz. Diğer cümlelerde geçen fiilimsiler şunlardır:

B → ararken (zarf-fiil)

C → almamızı (isim-fiil)

D → eremediğimiz, duyulan (sıfat-fiil)

E → gitmeler (isim-fiil)

(Cevap A)

12. Öncüldeki IV numaralı cümlede "...bu aygıt..." denilmektedir ama bu cümleden önce bir aygıttan söz edilmemiştir. Dolayısıyla buradaki "bu aygıt" göndermesi I.cümledeki "bir aygıt" ifadesine daha uygundur. Bunun için de II numaralı cümleyle IV numaralı cümlelerin yer değiştirmesi gerekir.

(Cevap C)

13. **Tanım**, "Bu nedir, bu kimdir?" sorularına verilen cevaptır. Buna göre parçada tanımlama yoktur. Diğer ifadelerin ise parçadaki karşılıkları şunlardır:

Karşılaştırma: "Erzurumlular ise çayı "kıtlama" içer."

Betimleme: "...dikdörtgen şeklinde, uzun ancak özel makaslarla kesilebilen sert şekerlerle..."

İlişki kurma: Şekerin pahalı olduğu, hatta bazen hiç bulunmadığı yıllardan kalan bir alışkanlık olan kıtlama, sınırlı imkânlarımızı sınırsız bir sürece yayma gayretine benziyor.

Örneklendirme: Kimi bol şekerli çay içer kimi az şekerli kimi de çayı şekersiz tercih eder. Erzurumlular ise çayı "kıtlama" içer.

(Cevap A)

14. Parçanın genelinde, başarıya ulaşma konusunda etkili olan unsurlar üzerinde durulmuştur. Özellikle, "Belki çok klasik bir bakış diyeceksiniz ama gerçekten de her şey önce hayal etmekle, bu hayalin bir gün gerçek olacağına inanmakla başlıyor." cümlesine de dayanarak bu parçanın, "Bir işi başarmada size göre en önemli motivasyon nedir?" sorusunun cevabı olduğunu söyleyebiliriz.

(Cevap E)

15. Parçanın genelinde değişik yönleriyle "Kraliçe" filminden söz edilmiştir. "Film eleştirisi yapmak dışardan kolay gibi görünse de aslında oldukça derin bir sinema bilgisi gerektirir." cümlesinde genel bir ifadeyle film eleştirisi hakkında bir durum ifade edilmektedir. Ayrıca V. cümlelerin anlam bakımından III. cümlelerin devamı olması IV. cümlelerin bu parçanın anlam akışını bozduğunu göstermektedir.

(Cevap D)

16. Parçada Peter Wohlleben'in işi gereği yaptığı bir çalışmadan dolayı ağaçlarda daha önce bilinmeyen bir özelliğin ortaya çıkarılmasından söz edilmiştir. Parçada geçen, "İşin dolayısıyla yaptığı orman gezileri, bir müddet sonra ağaçlara karşı büyük bir ilgi ve merakla dönüştü." ifadelerine de dayanarak bu parçadan, "Yapılan iş, zamanla insanı farklı bir mecrada yol almaya sevk edebilir." sonucuna varmak mümkündür.

(Cevap D)

17. Bir paragrafta bir tek konu olmalı ve bütün cümleler de o konuyla ilgili olmalıdır. Öncüldeki paragrafın V. cümlesine kadar insan ve makine ilişkisi üzerinde durulmuştur. V. cümleden itibaren ise konu değişmiş ve teknolojinin bir yapay zekâya dönüşmek suretiyle insan emeğini ve bizzat insanın kendisini devre dışı bırakıp bırakmayacağı üzerinde durulmuştur. Buna göre bu parça iki paragrafa ayrılmak istense ikinci paragrafın V. cümleyle başlaması uygun olacaktır.

(Cevap D)

18. Parçada, takvimlerin başlangıç tarihlerinin aynı olmadığı söylenerek farklı milletlerin farklı takvimlerin başlangıç olaylarıyla ilgili örnekler verilmiştir. Farklı takvimlerdeki tarihlerin çevrilmesinin kolay olmadığına da değinilmiştir. Tüm takvimlerin başlangıç tarihlerinin dini bir olaya dayandığına ise parçada yer verilmemiştir. Zaten parçada geçen, "Romalılar, roma şehrinin kurulduğu MÖ 753 yılını..." ifadesine de bakacak olursak tüm başlangıçların dini bir olaya dayanmadığını söyleyebiliriz.

(Cevap B)

19. Parçada sözü edilen araştırmada göre Avrupa ve Asya kültürleri arasında, hislerin vücudumuzda izlediği yollar bakımından belirgin farklılıklar gösterdiği ve hislerin topoğrafik haritasının oluşturularak duygusal bozuklukların tedavisinde kullanılabilecek yöntemler konusunda faydalı olabileceği ortaya konulmuştur. Buna göre, "Avrupa ve Asya'da kullanılan hislerin farklı topoğrafik haritaları sayesinde duygusal bozuklukların teşhisi eskisine göre hızlanmıştır." denilebilir.

(Cevap C)

20. Dünya çapında en fazla Hikikomori hastasının Tokyo'da görüldüğüne parçada yer verilmemiştir. Tokyo'daki yükseklik ve tekinsizlikte olumsuz etkilendiklerine, genellikle evlerinden dışarı çıkmadıklarına, metropol tipi kişilik geliştirmek suretiyle tedavi olabileceklerine ve özel oluşturulmuş yerlerde yaşadıklarına parçada değinilmiştir.

(Cevap A)

21. Parçada, Hikikomori hastalarının hastalarının yüksek yapılı binalardan dolayı rahatsızlık duyduğu ve kendileri için hazırlanan yapılarda yaşamalarının tedavilerinde etkili olduğu söylenmiştir. Bu ifadelere dayanarak, "İnsanların yaşadıkları mekânla ruh hâlleri ve sağlıkları arasında bir ilişki vardır." yargısına ulaşmak mümkündür.

(Cevap C)

22. Kahvaltının en önemli öğün olduğu, çocuğun başarısını etkilediği bilgisine yer verilmiştir. Ancak parçada “Şişmanlığın kısmen kahvaltıda çok yemeye bağlı olduğuna” dair bir veri söz konusu değildir.

(Cevap B)

23. II. cümlede belirtilen yanlış alışkanlıklardan niçin kaçınılması gerektiğine I. cümledeki “Okul çağında kazanılan beslenme alışkanlıkları, ileri yaşlarda, sağlıklı beslenmenin temelini oluşturur ve süreklilik gösterir.” cümlesiyle açıklık getirilmiştir.

(Cevap A)

24. “Bu çalışma, kuşlara bir tür kimlik vererek onları birey olarak izlemeyi hedeflemektedir.” cümlesinde bir çalışmanın amacı belirtilmiştir. Diğer cümlelerde bir amaç anlamından söz edilemez.

(Cevap D)

25. Kuşların ortalama kaç yıl yaşadıklarına parçada yer verilmemiştir. Diğer ifadelerin parçadaki dayanakları şunlardır:

- A) Bu çalışma, kuşlara bir tür kimlik vererek onları birey olarak izlemeyi hedeflemektedir.
B) ... bölgedeki kuş varlığı konusunda bilimsel çalışmalar yürütüyor
D) ... dünyanın en işlek göç yolları üzerinde bulunuyor.
E) ...bölgedeki sulak alanlarda birçok kuş türü yaşıyor...

(Cevap C)

26. Parçada geçen: “Halkalama çalışmalarıyla kuşların sayısındaki artış ve azalmalar da anlaşılabilir oluyor; böylece küresel ısınma, çevre kirliliği, doğal yaşam alanlarındaki değişimler gibi önemli sorunlar da izlenebiliyor.” cümlesine dayanarak halkalama çalışmasıyla kuş nüfusundaki hareketliliğin gözlenmesi ve kuşların yaşam alanlarındaki değişmelerin izlenmesinin mümkün olduğunu söyleyebiliriz. Fakat bölgenin geçim kaynakları ile ilgili bir edinmek mümkün değildir.

(Cevap B)

Genel Yetenek Testi

27 – 30. Soruların çözümünde aşağıdaki bilgiler kullanılacaktır.

		2	2	1
		Benzin	Dizel	LPG
3	A	Mete	Tuana	Eren
2	B	Pınar	Halil	

27. Halil kesinlikle B otomobilini satın alır. Tuana kesinlikle otomobilini satın alır. Pınar ise A otomobilini satın alabilir.

(Cevap E)

28. Tabloya göre Halil, Tuana ve Eren'in satın aldığı model kesin olarak bilinir.

(Cevap C)

29. Tabloya göre Eren kesinlikle A model otomobil satın almıştır.

(Cevap C)

30. Tabloya göre Mete'nin aldığı model ile Eren'in seçtiği motor türü bilinirse tüm kişilerin seçtikleri model ve motor türü bilinir.

(Cevap A)

$$31. \frac{5 \cdot 13}{2 \cdot 4} = \frac{65}{8} = \frac{5}{8} \cdot \frac{13}{1} = \frac{5}{4}$$

(Cevap C)

$$32. \frac{2^6 \cdot 3^6 - (2^2 \cdot 3)^3}{(2^3 \cdot 3)^2} = \frac{2^6 \cdot 3^6 - 2^6 \cdot 3^3}{2^6 \cdot 3^2} = \frac{2^6 \cdot 3^3 (3^3 - 1)}{2^6 \cdot 3^2} = 3 \cdot 26 = 78$$

(Cevap D)

$$33. \frac{\frac{5\sqrt{5}}{5} + \frac{2\sqrt{5}}{5}}{3\sqrt{5} + 4\sqrt{5}} = \frac{\frac{7\sqrt{5}}{5}}{7\sqrt{5}} = \frac{1}{5}$$

(Cevap A)

$$34. \left(\frac{30}{12} + \frac{12}{30}\right) \cdot \frac{20}{29} = \left(\frac{5}{2} + \frac{2}{5}\right) \cdot \frac{20}{29}$$

$$= \frac{29}{10} \cdot \frac{20}{29} = 2$$

(Cevap B)

$$35. A = 3$$

$$B = 7$$

$$A \cdot B = 21$$

(Cevap E)

$$36. \frac{8a+15}{a} = \frac{8a}{a} + \frac{15}{a} = 8 + \frac{15}{a}$$

$$a \Rightarrow 1 + 3 + 5 + (-3) + (-5) + (-15) = -14$$

(Cevap A)

$$37. \begin{array}{r} 2a - b + 3c = 13 \\ a + 2b = 7 \\ + \quad -2c + a = 5 \\ \hline a + b + c = 13 + 7 - 10 = 10 \end{array}$$

(Cevap C)

$$38. m^n \cdot n^m = 48^4 = 6^4 \cdot 8^4 = 6^4 \cdot 2^{12} = 6^4 \cdot 4^6$$

$$m \cdot n = 6 \cdot 4 = 24$$

(Cevap D)

39. 21 : 4 ⇒ 5 tane 1. prizma oluşur ⇒ 20K, 10L kullanılır.

18 : 4 ⇒ 4 tane 2 prizma oluşur ⇒ 16M, 8L kullanılır.

$$\left. \begin{array}{l} 1 \text{ tane K} \rightarrow 3x^2 \\ 2 \text{ tane L} \rightarrow 2 \cdot 9x^2 \\ 2 \text{ tane M} \rightarrow 2 \cdot 6x^2 \end{array} \right\} 3x^2 + 18x^2 + 12x^2 = 33x^2$$

artar

(Cevap E)

Genel Yetenek Testi

40. $x \cdot (y + z) = \text{Tek} \Rightarrow x = \text{Tek}$

$$\begin{array}{c} y+z = \text{Tek} \\ \text{T} \quad \text{Ç} \\ \text{Ç} \quad \text{T} \end{array}$$

$y \cdot (x + z) = \text{Çift}$

$$\frac{x}{\text{Tek}} \quad \frac{y}{\text{Çift}} \quad \frac{z}{\text{Tek}}$$

I. $\text{Tek} \cdot \text{Tek} = \text{Tek}$

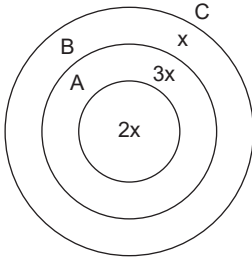
II. $\text{Tek} \cdot \text{Çift} = \text{Çift}$

III. $\text{Tek} \cdot \text{Tek} = \text{Tek}$

Yalnız II

(Cevap B)

41. $\frac{6 \cdot s(A)}{2x} = 4 \cdot \frac{s(B-A)}{3x} = 3 \cdot \frac{s(C-A)}{4x}$



$$\begin{aligned} 6x &= 24 \\ x &= 4 \\ s(B) &= 5 \cdot 4 = 20 \end{aligned}$$

(Cevap E)

42. $f(x) = ax + b$

$(f \circ f)(x) = f(f(x)) = f(ax + b)$

$f(ax + b) = a \cdot (ax + b) + b = 4x - 12$

$a^2x + ab + b = 4x - 12$

$a^2 = 4$

$f(x) = 2x - 4$

$a = 2 \rightarrow 2b + b = -12 \Rightarrow b = -4$

$f(3) = 2$

$a = -2 \rightarrow -2b + b = -12 \Rightarrow b = 12$

$f(x) = -2x + 12$

$f(3) = 6$

(Cevap D)

43. $ABC = 26 \cdot BC$

$100A + BC = 26 \cdot BC$

$100 \cdot A = 25 \cdot BC$

$4 \cdot A = BC$

$4 \cdot 9 = 36$

$A \cdot B \cdot C = 9 \cdot 3 \cdot 6 = 162$

(Cevap E)

44.

$$\begin{array}{c|c|c} 3 \text{ litre} & 4 \text{ litre} & 5 \text{ litre} \\ \hline x & y & z \end{array}$$

$3x = 2 \cdot 4 + 2 \cdot 5$

$4y = 3 \cdot 6 + 5 \cdot 6$

$3x = 18$

$4y = 48$

$x = 6$

$y = 12$

$5z = 3 \cdot 5 + 4 \cdot 5$

$5z = 35$

$z = 7$

$x + y + z = 6 + 12 + 7 = 25$

(Cevap D)

45. $\frac{a}{2} = \frac{b}{3} = \frac{c}{4}$

$2 \cdot x = 3 \cdot y = 4 \cdot z$

$x = 6p$

$a = 2k, b = 3k$

$y = 4p$

$c = 4k$

$z = 3p$

$a + b + c = x + y + z$

$9k = 13p$

En az $k = 13, p = 9$

$6 \cdot 9 - 2 \cdot 13 = 54 - 26 = 28$

(Cevap C)

Genel Yetenek Testi

46. Kare şeklinde duvar döşeniyorsa adet bir sayının karesi alınmalı.

$$A \rightarrow 121 = 12^2 \Rightarrow 0 \text{ artar.}$$

$$B \rightarrow 148 \Rightarrow 12^2 + 4 \Rightarrow 4 \text{ artar.}$$

$$C \rightarrow 300 \Rightarrow 17^2 + 11 \Rightarrow 11 \text{ artar.}$$

$$D \rightarrow 400 \Rightarrow 20^2 \Rightarrow 0 \text{ artar.}$$

(Cevap A)

$$47. x \cdot \frac{12}{100} + \frac{x \cdot 15}{100} = \frac{y \cdot 15}{100}$$

$$12x + 15x = 15y$$

$$27x = 15y$$

$$9x = 5y$$

$$x = 5k, \quad y = 9k$$

$$1. \text{ hafta: } 5k + 5k = 10k$$

$$2. \text{ hafta: } 9k$$

$$\frac{k}{10k} = \frac{1}{10} = \%10$$

(Cevap A)

48. 1981 yılı için

$$2022 - 1981 = 41 - (1 + 9 + 8 + 1) \text{ sağlanır.}$$

$$\Rightarrow 41 - 28 = 13 \text{ eksik söylemiştir.}$$

(Cevap C)

49. Koşu pisti x metre olsun.

1. atlet	2. atlet
$\frac{x-50}{50}$	$\frac{x-80}{45}$

$$\frac{x-50}{50} = \frac{x-80}{45} \Rightarrow 9x - 450 = 10x - 800$$

$$350 = x$$

(Cevap D)

50. Melike \rightarrow 2 Kırmızı, 2 Siyah, 1 Beyaz

$$\text{Lena} \rightarrow 3 \text{ Siyah, 2 Mavi}$$

Tüm durum – Aynı renk olması

$$1 - \frac{2}{5} \cdot \frac{3}{5} = 1 - \frac{6}{25} = \frac{19}{25}$$

(Cevap C)

$$51. \frac{A7}{(A+7)} \in \mathbb{Z}$$

(A + 7) Tek sayı olması gereklidir.

O halde A rakamı çift olup

A = 2 dir.

$$AB5 \Rightarrow \frac{2B5}{2+B+5} = \frac{2B5}{(B+7)} \in \mathbb{Z}$$

(B + 7) Tek sayı olması gerekir.

B rakamı çift olması gerektiğinden

B = 2, 8 olabilir.

$$2 + 8 = 10$$

(Cevap E)

Genel Yetenek Testi

52. $\frac{\text{Kalan}}{\text{Satılan}} = \frac{1}{4} = \frac{k}{4k}$
 $k + 4k = 100 + 150 + 200$
 $5k = 450$
 $k = 90$

360° 90 tane

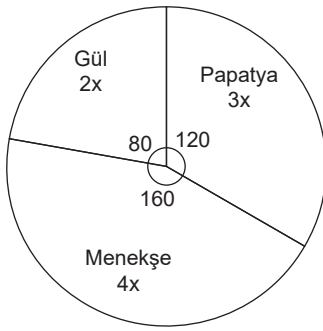
120° 30 tane

Kalan papatya sayısı: 30 tanedir.

Satılan papatya sayısı: $150 - 30 = 120$ tanedir.

(Cevap D)

53.



$$200 - 2x + 150 - 3x = 260$$

$$350 - 5x = 260$$

$$90 = 5x$$

$$18 = x$$

Kalan menekşe sayısı: $4 \cdot 18 = 72$ tanedir.

(Cevap C)

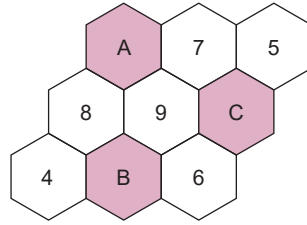
54. $20 - (2 + 8 + 7) = 3$
 $y = 3 + 7 + 6 = 16$
 $x = 6 + 4 + 7 + 8 = 25$
 $x + y = 16 + 25 = 41$

(Cevap A)

55. $a + b + 6 = 19 \Rightarrow a + b = 13$
 $a + c + 11 = 27 \Rightarrow a + c = 16$
 $b + c + 14 = 25 \Rightarrow + b + c = 11$
 $2a + 2b + 2c = 40$
 $a + b + c = 20$

(Cevap C)

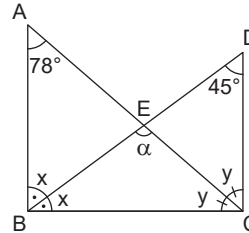
56.



$$\begin{array}{r} A = 8 + 9 + 7 = 24 \\ B = 4 + 8 + 9 + 6 = 27 \\ C = 9 + 6 + 7 + 5 = 27 \\ \hline 78 \end{array}$$

(Cevap D)

57.



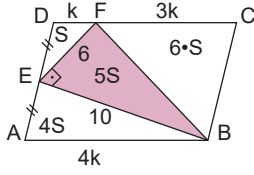
$$\begin{array}{r} 2x + y + 78 = 180 \Rightarrow 2x + y = 102 \\ x + 2y + 45 = 180 \Rightarrow + x + 2y = 135 \\ \hline 3x + 3y = 237 \\ x + y = 79 \end{array}$$

$$\begin{array}{r} x + y + \alpha = 180 \\ 79 + \alpha = 180 \\ \alpha = 101 \end{array}$$

(Cevap A)

Genel Yetenek Testi

58.



$$A(EFB) = \frac{6 \cdot 10}{2} = 30 \text{ birimkare}$$

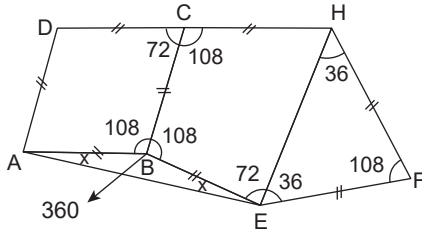
$$5 \cdot S = 30$$

$$S = 6$$

$$A(ABCD) = 16 \cdot S = 16 \cdot 6 = 96 \text{ birimkare}$$

(Cevap B)

59.



$$\begin{array}{r} 360 \\ - 216 \\ \hline 144 \end{array}$$

$$2x + 144 = 180$$

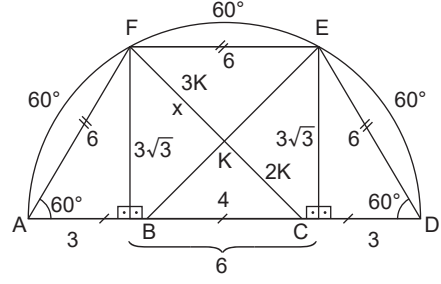
$$2x = 36$$

$$x = 18$$

$$m(\widehat{AEH}) = 18 + 72 = 90$$

(Cevap E)

60.



$$|AD| = 3 + 6 + 3 = 12 \text{ birim}$$

$$|AB| = |BC| = |CD| = 4 \text{ birim}$$

$$|FC|^2 = (3\sqrt{3})^2 + 5^2$$

$$|FC|^2 = 27 + 25 = 52$$

$$|FC| = 2\sqrt{13} \quad x = 3k = 3 \cdot \frac{2\sqrt{13}}{5}$$

$$5k = 2\sqrt{13} \quad x = \frac{6\sqrt{13}}{5}$$

$$k = \frac{2\sqrt{13}}{5}$$

(Cevap B)

www.akademidenizi.com.tr

AKADEMİ DENİZİ YAYINCILIK

1. Hazarlar - Kumanlar tarafından, Uygurlar - Kırgızlar ve Peçenekler – Kumanlar tarafından yıkılmışlardır. Dolayısıyla söz konusu genelleme bu toplulukların hepsi için de geçerlidir.

(Cevap E)

2. İslamiyet öncesi Türk devletlerinde hükümdarlık yetkisinin Tanrı tarafından verildiğine inanılırdı. Ancak Kut adı verilen bu anlayışa rağmen ülke yönetiminde dinin değil; Töre adı verilen yazısız hukuk kurallarının geçerli olması teokratik devlet yapısının oluşmasını engellemiştir.

(Cevap C)

3. Abbasilerde merkezi otoritenin zayıflaması ile birlikte, Tolunoğulları ve Akşitler, Abbasilerden ayrılarak Mısır'da kurulmuş Tavaif-i Müluk devletleridir.

Tolunoğulları, Mısır'da kurulan ilk Türk devleti olup Mısır'daki bin yıllık Türk hakimiyetinin öncüsü olmuştur.

(Cevap A)

4. Divan devlet işlerinin görüşülüp karara bağlandığı yönetim organı olup siyasi amaçlı bir kurumdur. Darüşşifa hastahane, kervansaray ticaret yolları üzerinde inşa edilen ve tüccarların konakladığı han, lonca esnaf ve zanaatkarların dayanışma örgütü, vakıf ise sosyal yardımlaşma ve hayır teşkilatıdır. Bunların siyasetle ilgisi olmayıp daha çok iktisadi ve sosyal hayatla bağlantılıdır.

(Cevap B)

5. Fetret Devri'ndeki mücadele sonunda tek başına tahta çıkan I. Mehmet, Osmanlı Devleti'ni mevcut karmaşadan kurtarmak için dengeli ve ustaca bir siyaset yürütmüştür. Ancak bu esnada birçok iç ve dış problemle karşılaşmıştır. Bunlardan en önemlileri Düzmece Mustafa ve Şeyh Bedreddin isyanlarıdır.

Timur'un ölümünden sonra yerine geçen Şahruh, Anadolu'daki siyasi dengeyi bozmak amacıyla tutsak tuttuğu şehzade Mustafa'yı 1415 yılında serbest bırakmıştır. Anadolu'ya gelen şehzade Mustafa, kardeşine karşı taht mücadelesine girmiş, ancak başarılı olamamıştır.

1416 yılında meydana gelen Osmanlı Devleti'ndeki ilk dinî ve toplumsal nitelikteki ayaklanma olan Şeyh Bedreddin İsyanı da yine bu dönemde gerçekleşmiştir. Simavna kadısı olan Şeyh Bedreddin, kazaskerlik görevinde bulunmuş, Fetret Devri'nde Musa Çelebi'ye destek vermiş bir tasavvuf şeyhidir. Ayaklanma, şeyhin yakalanarak idam edilmesiyle son bulmuştur.

I. Mehmet tahta çıktığı sırada Edirne'de kabul ettiği Mora Despotluğu elçisine, barış ve dostluk mesajı vererek çatışmadan uzak kalmaya yönelik arzusunu beyan etmiş ve bu yönde hareket etmiştir. II. Mehmet'in saltanatı (1413-1421) esnasında da Mora Despotluğu ile kayda değer bir sorun yaşanmamıştır.

(Cevap D)

6. II. Murat Devri'nin en güçlü devlet adamı, Çandarlı Halil Paşa'dır. Türk asıllı bir ulema ailesinden olan Çandarlı Halil Paşa, II. Murat'ın saltanatı sırasında Osmanlı siyasetini yürütmüştür.

II. Mehmet'in küçük yaşta tahta çıkmasından endişelenen paşa, II. Murat'ın tekrar tahta çıkması için çalışmalar yürütmüştür. Nitekim 1444-1446 yılları arasında süren bir mücadeleden sonra kendisini devlet idaresinden uzaklaştırmak isteyen rakiplerini alt etmiş ve II. Murat'ın tekrar tahta oturmasına vesile olmuştur. Buna karşın II. Mehmet tahta çıktığında onu görevinden almaya cesaret edememiş, ancak İstanbul'un fethinden hemen sonra azletmiştir.

(Cevap E)

7. XVII. yüzyılda yapılan ıslahatlar, bozulan merkezî otoriteyi yeniden sağlama ve maliyeyi düzenleme amacı taşır. Duraklama ıslahatlarında azınlıkları devlete bağlama amacı yoktur. 1789 Fransız İhtilali sonucunda milliyetçilik yaygınlaşmış ve bu durum çok uluslu bir devlet olan Osmanlı'yı da etkilemiştir. Osmanlı Devleti içerisinde 19. yüzyılda milliyetçi isyanlar çıkmış ve Osmanlı bunlara engel olmak, yani azınlıklara yeni haklar vererek devletin dağılmasını önlemek için ıslahatlar yapmıştır. Duraklama Dönemi'nde milliyetçi isyanlar olmadığı için bu dönem azınlıkları devlete bağlama amacı taşımaz.

Duraklama devri ıslahatlarının genel özelliği, devletin saygınlığı ve otoritesini Yükselme Devri'ndeki düzeyine ulaştırmaktır. Yapılan ıslahatlar, genellikle çıkan ayaklanmaları baskı ve şiddet uygulayarak bastırmaya yöneliktir.

(Cevap A)

8. Gerileme Dönemi'nde Osmanlı Devleti'nin Karlofça, İstanbul ve Pasarofça Antlaşmalarıyla yitirdiği toprakların bir kısmını geri almayı başarabilmesinde; ordunun subay ihtiyacını karşılayacak modern okulların açılması, batılı subay ve teknisyenlerin Osmanlı ordularında görev yapmaları ve dolayısıyla batı silah tekniği ve savaş bilgisinin Osmanlı ordularına katkısı, ayrıca Fransa'nın diplomatik yardım ve aracılığı etkili olmuştur. Bu durumun Osmanlı toplumunun dünya görüşünün değişmesi ile bir ilgisi yoktur.

(Cevap E)

9. A, B, C ve E seçeneklerindeki gelişmeler III. Mustafa Dönemi ıslahatları arasında yer alır. Osmanlı ordusunu bölük, tabur ve alay şeklinde düzenleyen Humbaracı Ahmet Paşa adıyla bilinen Comte de Bonneval'dir. Humbaracı Ahmet Paşa ise III. Mustafa değil, I. Mahmut Dönemi ıslahatçısıdır.

(Cevap D)

10. Tercüman-ı Ahval Gazetesi Şinasi ve Agâh Efendi tarafından 1860 yılında yayımlandı. Bu sırada Osmanlı padişahı Abdülmecit'tir. Dolayısıyla III. öncülde yer alan eşleştirme yanlıştır. Posta pulu uygulaması ise 1862'de başlamıştır. Bu uygulamanın başladığı tarihte tahtta Sultan Abdülaziz bulunmaktadır. Dolayısıyla II. öncülde yer alan eşleştirme de yanlıştır. II. Mahmut Dönemi'nde tımar sistemi kaldırılmıştır. Tımarlı sipahilerin yerine Redif Birlikleri kuruldu. Beylerbeylik makamı yerine de Müşirlik kurulmuştur. I. öncülde yer alan eşleştirme doğrudur.

(Cevap A)

11. Kadıların davaları incelemesi hukuki; evlilik sözleşmesini onaylaması beledi/hukuki; halkın istek ve şikâyetlerini divana iletmesi ise idari görevidir.

(Cevap B)

12. Müsadere, yani ölen kişinin mallarına devlet tarafından el konulması uygulamasına son verilmesi, kişilerin mal ve mülküne sahip olarak miras bırakabilmesi, 1858'de Arazi Kanunnamesi ile toprakta özel mülkiyetin geliştirilmesi uygulamaları birlikte düşünüldüğünde, bu çalışmaların toprak yönetimini düzenlemeye yönelik olduğu söylenebilir.

(Cevap A)

Genel Kültür Testi

13. XVII. yüzyıldan itibaren eyalet askerlerinin bozulmasında, tımarların rüşvet ve iltimasla dağıtılması ve devlete ait toprakların iltizama verilmesi etkili olmuştur. Eyalet askerlerinin devşirme sistemiyle bir ilgisi olmayıp devşirme yöntemiyle oluşan askerler kapıkulu askerleridir.

(Cevap B)

14. Çiftbozan, toprağını ekmeyip boş bırakan veya terk edenlerden alınan bir vergidir. Dolayısıyla bir ceza niteliğindedir. Haraç, gayrimüslim çiftçilerden alınan ürün vergisi olup avarız da olağanüstü durumlarda alınırdı.

Duraklama Dönemi'nden itibaren ekonominin bozulmasıyla birlikte avarız vergisinin sürekli hale getirilmesi, Celali İsyanlarının çıkmasında etkili olmuştur.

(Cevap C)

15. Almanya'nın Osmanlı'yı müttefik olarak seçmesinde Osmanlı'nın jeopolitik konumu, insan gücü, halifenin etkinliği gibi faktörler etkili olmuştur. O dönem Osmanlı'nın ekonomik ve silah gücü olduğunu söylemek pek mümkün olmadığından sadece II ve IV. öncüller doğru olup cevap E seçeneğidir.

(Cevap E)

16. İttifak devletleri Almanya, Avusturya-Macaristan, Osmanlı ve Bulgaristan devletlerinden oluşmaktadır. I. Dünya Savaşı'ndan en az zarar gören İttifak devleti ise Bulgaristan'dır. Nitekim Almanya, Avusturya-Macaristan ve Osmanlı devletleri parçalanmıştır.

(Cevap C)

17. Mudanya Ateşkes Antlaşması Kurtuluş Savaşı'nın siyasi zaferi olup bu antlaşma ile İstanbul, Boğazlar çevresi ve Doğu Trakya TBMM'ye bırakılmıştır.

Mudanya Ateşkes Antlaşması ile, İstanbul'un yönetimini TBMM Hükümeti'ne bırakan İtilaf devletleri, Osmanlı Devleti'nin hukuksal varlığının sona erdiğini kabul etmiştir.

(Cevap E)

18. Lozan Barış Konferansı sadece Kurtuluş Savaşı döneminin değil, daha çok Osmanlı'dan kalma birikmiş sorunların masaya yatırıldığı bir konferanstır. Türk Heyetinin Misakımillî'yi gerçekleştirme isteği ve birikmiş sorunları çözüme kavuşturma düşüncesi, konferansın uzamasında etkili olmuştur. Kabotaj konusu ise Lozan'dan 3 yıl sonra gündeme gelmiş bir konudur.

(Cevap D)

Genel Kültür Testi

19. Atatürk döneminde devletçi ekonomik politika uygulanmasının temel sebebi, her çareye başvurulmasına rağmen sanayi işletmesi kuracak sermaye sahibi özel girişimcilerin ortaya çıkmamasıdır.

(Cevap B)

20. Ticaret Kanunu'nun kabul edilmesi laiklik aşamalarından biri değildir. Teşkilat-ı Esasiye Kanunu'nun kabulü de laiklik aşaması değildir. Çünkü bu anayasa da din buyruklarının yerine getirilmesi TBMM'ye aittir ve bu laikliğe aykırıdır. Halifelik dini bir kurumdur. Dolayısıyla kaldırılması laiklik aşamaları arasında yer alır. Tevhid-i Tedrisat Kanunu ile medreseler kapatılmıştır. Ayrıca yabancı okulların sınıflarında ve ders kitaplarındaki dini işaret ve semboller kaldırılmıştır. Dolayısıyla bu gelişme de laiklik aşamasında yer alır. Verilen bilgiler doğrultusunda I. ve III. öncüller laiklik aşamalarından değildir.

(Cevap C)

21. A, B, C ve D seçenekleri, siyasi inkılaplardır. Fakat Medeni Kanun siyasi bir inkılap değildir. Bu kanun toplumsal ilişkileri düzenlemektedir. Kişiler arası ilişkileri düzenlediği için siyasi içerikli değildir.

1926'da Medeni Kanun'un kabul edilmesinden sonra tüm hukuk mevzuatı laik esaslara göre yeniden düzenlenmiş, kadın ile erkek arasında toplumsal ve ekonomik alanda eşitlik sağlanmıştır.

(Cevap E)

22. • Kılık-Kıyafet Kanunu: 1925
• Yeni Türk harflerinin kabulü: 1928
• Teşvik-i Sanayi Kanunu: 1927
• Soyadı Kanunu: 1934
• Yüksek Ziraat Enstitüsü'nün kurulması: 1933

(Cevap D)

23. • Uluslararası rakamların kabulü: 20 Mayıs 1928
• Millet Mekteplerinin açılması: 1 Ocak 1929
• Yeni Türk harflerinin kabulü: 1 Kasım 1928
• Deniz Ticaret Kanunu'nun kabulü: 13 Mayıs 1929
- Doğru sıralama; I-III-II-IV şeklindedir.

(Cevap E)

24. Milli Mücadele döneminde ülke içerisinde çıkan ayaklanmaların bastırılmasına öncelik verilerek birlik ve beraberlik sağlandıktan sonra dış güçlere karşı mücadeleye girişilmesi, cumhuriyet döneminde Şeyh Said İsyanı nedeniyle Musul'un kaybedilmesi, milli kuvvetlerin birleştirilmesiyle Kurtuluş Savaşı'nın kazanılması iç politika ile dış politika arasındaki ilişkiyi göstermektedir.

(Cevap C)

www.akademidenizi.com.tr

AKADEMİ DENİZİ YAYINLARI

25. Gürcistan, Kırgızistan, Özbekistan ve Ermenistan SSCB'nin dağılmasından sonra, ondan ayrılarak bağımsızlığını kazanan devletler arasında yer almaktadır. Ancak Hırvatistan bu devletlerden biri olmayıp Yugoslavya'nın parçalanmasıyla ortaya çıkan devletlerden biridir.

(Cevap D)

26. 1929 Dünya Ekonomik Krizi, temelde ABD borsasının çökmesiyle başlayan ve etkilerini 1930'lu yıllar boyunca devam ettiren ekonomik buhrandır. "Kara Perşembe" olarak anılan 24 Ekim 1929'da gerçekleşen ekonomik kriz Kuzey Amerika ve Avrupa'yı merkez almasına rağmen, tüm dünyaya yayılmış ve özellikle sanayileşmiş ülkelerde yıkıcı sonuçlar doğurmuştur. İzmir İktisat Kongresi ise bu olaydan çok önce 17 Şubat 1923'te Yeni Türk Devletinin ekonomik durumunu görüşmek üzere toplanmıştır.

1929 Ekonomik Bunalımı, diğer adıyla büyük depresyon, ekonomik sonuçları öncelikli olacak şekilde toplumsal ve siyasal sonuçları ile dünyanın karşılaştığı ilk büyük ekonomik krizdir. Kriz 24 Ekim 1929 tarihinde ABD'de başlamış ve kısa süre içerisinde gelişmiş, diğer ülkeleri de etkilemiştir. Kriz, II. Dünya Savaşı'na kadar sürmüştür. Tarihe "Kara Perşembe" olarak geçen kriz ile binlerce şirket ve banka iflas etmiş, borsa dibe vurmuştur.

(Cevap B)

27. Türkiye'nin bir barış örgütü olan Milletler Cemiyeti'ne üye olması, diğer taraftan doğu ve batısındaki komşu devletlerle sınır güvenliğini sağlamaya yönelik dostluk antlaşmaları olan Balkan Antantı ve Sadabat Paketi'ni imzalaması, "Yurtta barış, dünyada barış" ilkesi doğrultusunda yaşanan gelişmelerdir.

(Cevap D)

28. Kuzeyden güneye doğru gidildikçe;

- Buharlaştırmanın azalmasında
- Çizgisel hızın azalmasında
- Gece-gündüz arasındaki zaman farkının artmasında
- Güneş ışınlarının geliş açısının düşmesinde enlem etkilidir.

Ayrıca enlemin etkilemediği bazı durumlar vardır. Bu durumlar şunlardır:

- Yerel saat
- İç kuvvetlerin oluşumu (Volkanizma)
- Gelgit
- Yükselti ve yer şekilleri

(Cevap C)

29. Uluslararası sıcak çatışmalara neden olan doğal unsurlar şunlardır:

- Su kaynaklarının paylaşımı
- Toprak paylaşımı
- Enerji kaynaklarının paylaşımı
- Yer altı zenginliklerinin paylaşımı

Beşerî - Ekonomik Unsurlar:

- Ekonomik sorunlar
- Sınır sorunları
- Bağımsızlık istekleri
- Geçmişe dayanan sorunlar
- Siyasi ve ekonomik farklılıklar

(Cevap D)

Genel Kültür Testi

30. Ilıman iklimler 30° - 55° enlem arasında görülür. Türkiye, 36° - 42° kuzey enlemleri arasında yer aldığından ılıman kuşakta yer alır. Bu duruma bağlı olarak Türkiye'de dört mevsim belirgin olarak yaşanır. Ülkemizde kısa mesafelerde farklı iklim özelliklerinin görülmesinde özel konum etkilidir.

(Cevap E)

31. Akdeniz ikliminin doğal bitki örtüsü Kızılçam ormanlarıdır. Ancak pek çok yerde tahrip edilmiştir. Kızılçam ormanlarının tahrip edildiği yerlerde bodur ağaççıklardan oluşan maki (zeytin, zakkum, defne, keçi-boynuzu, kocayemiş vb.) bitki topluluğu, makilerin tahrip edildiği yerlerde ise çeşitli çalı türlerinden oluşan garig bitki topluluğu görülür.

(Cevap D)

32. Genç arazi yapısına sahip olan yerlerde;
- Fay hatları yaygındır.
 - Sık sık deprem olayları yaşanır.
 - Kaplıca ve ılıca gibi sıcak su kaynakları yaygındır.
 - Akarsular denge profiline ulaşmamıştır.
- Türkiye'de yer alan volkan konileri genç olduğu hâlde hiçbiri etkin değildir. Nemrut en son 15. yy.'da etkinlik göstermiştir. Türkiye'de buzulların etki alanının dar olması Türkiye'nin orta kuşakta yer alması ile ilgilidir.

(Cevap A)

33. Buzullara Türkiye'deki; Bolkar, Kaçkar, Bey ve Cilo gibi yüksek dağlarda rastlanır. Canik Dağları Orta Karadeniz Bölümü'nde bulunur. Ortalama yükseltleri ise fazla değildir. Bu nedenle buzullara rastlanmaz.

(Cevap C)

34. Türkiye'de en fazla can ve mal kaybına neden olan doğal afet depremdir.

(Cevap C)

35. Peneplen oluşumu için en uzun süre gereken yer şeklidir. Arazinin komple aşınıp düzleşmesidir. Türkiye'nin;
- Genç yapıları bir ülke olması
 - Yüksek dağ sıralarının olması
 - Tektonik yükselmelere uğraması, peneplen oluşumundan uzak olmasını sağlamıştır. Ancak karstik arazinin geniş yer kaplamasının bu durumla bir ilgisi yoktur.

(Cevap A)

Genel Kültür Testi

36. Soruda geçen kişi yaşlı insanlarla karşılaşmıştır. Buna göre, genç nüfus oranının azaldığı ve yaşlı nüfus oranının arttığı söylenebilir. Bu kişi ayrıca tarlaların ekilmediğini gözlemlemiştir. Buna göre tarımsal üretimin arttığı söylenemez. Ulaşım ve alt yapı sorunları daha çok göç alan kentlerin özelliğidir.

(Cevap C)

37. 1950'den sonra kentli nüfus oranının hızla artmasının nedeni sanayileşmenin hızla artmasına bağlı olarak kentlerde iş imkânlarının hızla artması, tarımda makineleşmeye bağlı olarak kırsal kesimde iş gücü fazlasının kentlere doğru göç etmesi etkili olmuştur. Sanayileşmenin arttığı refah seviyesi (eğitim, sağlık, beslenme) yükseldiğinden ve ev halkının tamamına yakını iş yaşamına atıldığından doğurganlık oranı ve buna bağlı nüfus artışı hızla düşer. 1950'den sonra tarımda makineleşmeye bağlı olarak tarım arazileri hızla artmıştır.

(Cevap A)

38. Sorudaki haritada Türkiye'de pamuk ekim alanlarının dağılışı gösterilmiştir. Bu dağılışa dayanarak pamuk tarımının yaz kuraklığı istediği söylenebilir. Çünkü haritada dağılışı gösterilen yerlerde yazları kurak geçer.

(Cevap B)

39. Türkiye'de arıcılık ve balıkçılık gibi tarıma alternatif ekonomik faaliyetlerin yapıldığı yerlerde; örneğin Doğu Karadeniz Bölümü, tarım alanları dar, yer şekilleri engebeli, sanayi gelişmemiştir. Ancak elverişsiz bir iklimin etkili olduğu söylenemez.

(Cevap C)

40. Marmara Denizi'ndeki kirliliğin nedenleri;
- Endüstrinin gelişmesinden dolayı fabrika atıkları,
 - Akarsuların taşıdığı tarımsal ilaç ve gübre atıkları,
 - Boğazlarda deniz araçlarının kazaları sonucunda meydana gelen sızıntılar,
 - Sahil kentlerinin atıklarıdır.

Petrol çıkarmak için kurulan platformlar en az etkilidir. Çünkü Marmara Bölgesi'nde petrol çıkarılmaz. Burada işlenen petrol ithal edilmektedir.

(Cevap B)

41. Sorudaki açıklamaya göre, Türkiye'nin ithalat giderlerinin ihracat gelirlerinden fazla olması dış ticaret açığının yaşanmasına neden olmaktadır. Bu durumu önlemek için ham maden ithalatı yerine, işlenmiş maden ithalatının artırılması bir çözüm olamaz. Çünkü işlenmiş maden daha pahalı olacağından ithalat giderlerini artıracaktır.

(Cevap E)

42. Deniz yolu taşımacılığı dünyada ve ülkemizde taşımacılıkta en ucuz ulaşım yoludur. Bu nedenle ülkeler arası ticarete deniz yolu taşımacılığı büyük bir paya sahiptir.

(Cevap C)

43. 2005 yılında teşvik yasasının kapsamının genişletilmesiyle yalnızca 49 il bu yasa kapsamına alınmıştır. Dolayısıyla son cümlede geçen "bütün illerin kalkınmada öncelikli yöreler olarak kabul edilmesi" yanlış bir açıklamadır.

(Cevap E)

44. I. açıklamadaki volkanik kayaçlar üzerinde oluşan aşınım şekilleri peribacalarıdır. II. açıklamadaki Bizans İmparatoru'nun yaptırdığı yer; Yere Batan Sarıncı'dır. III. açıklamadaki Ağrı-Doğu Beyazıt'ta bulunan saray İshak Paşa Sarayı'dır. IV. açıklamadaki 2150m yükseklikteki dağda bulunan heykeller; Nemruk Heykelleri'dir.

(Cevap A)

45. Güneydoğu Anadolu Bölgesi'nin Dicle Bölümü'nde; Diyarbakır, Batman, Mardin ve Siirt illeri yer alır. Batman'da petrol çıkarımı fazladır. Bu bölümün iklimi daha karasalıdır. Kışlar soğuk geçer. Halk hayvancılıkla uğraşır. Bu bölümde yer alan Dicle Irmağı açık havzalıdır. Ancak bu yerlerde Akdeniz iklimi etkili değildir. Dolayısıyla makiler geniş yer kaplar, demek yanlış olur.

(Cevap D)

46. Türk Medeni Kanunu aile hukukunda olağan evlenme yaşı 17 yaşın dolması, olağanüstü evlenme yaşı ise 16 yaşın dolması olarak düzenlenmiştir. Olağanüstü evlenmelere de hakim kararı gerekir.

(Cevap C)

47. Türk Borçlar Kanunu'na göre, haksız fiil ile tazminat, sebepsiz zenginleşme ve tek taraflı yada karşılıklı sözleşmeden doğan borçlar, borcun kaynağını oluşturur.

(Cevap E)

48. Kanunların yürürlükten kalkması üç yolla olmaktadır:

I. **Kendiliğinden yürürlükten kalkma:** Bazı kanunlar bizzat kendisi ne kadar süre ile yürürlükte kalacağını açıkça belirtmiştir. Kanunda belirtilen sürenin bitimi ile o kanun kendiliğinden yürürlükten kalkar.

II. **İlga (Başka bir kanunla yürürlükten kalkma):** Yürürlüğe giren yeni bir kanun, eski bir kanunu yürürlükten kaldırabilir. İlga etme yetkisi, ilga edilen kuralı koyan organa veya onun üstünde yer alan bir organa aittir.

III. **İptal (Anayasa Mahkemesi'nin kararıyla yürürlükten kalkma):** Anayasa Mahkemesi, bir kanunun Anayasa'ya aykırı olduğu kanısına varırsa o kanun hakkında "iptal" kararı verir.

(Cevap C)

49. 1961 Anayasası ile parlamenter sistem benimsenerek yumuşak bir kuvvetler ayrılığı benimsenmiştir. Anayasa Mahkemesi ilk olarak 1961 Anayasası ile kurulmuştur. 1961 Anayasası'nda TBMM ile Cumhuriyet Senatosu var olup çift meclisli bir yapı vardır. 1961 Anayasası ile çalışanların üç temel kolektif hakkını (sendikalaşma, toplu sözleşme ve grev) işçi-memur ayırt etmeden güvence altına almıştır. 1961 Anayasası hukuk devleti özelliği artırması yönüyle kişi hak ve özgürlüğünün sınırlamanın aksine daha da genişlettiği için A seçeneğinde verilen bilgi yanlış olup sorunun doğru cevabıdır.

(Cevap A)

50. 1982 seçimlerin yenileme kararının alınması ile başlayan seçime kadar geçen sürede TBMM'nin görev ve yetkilerinde bir eksilme olmaz. Bu durum yasanın sürekliliğinin bir gereğidir.

(Cevap B)

51. A, B, C ve D şıkları Cumhurbaşkanlığı adaylığı için gerekli şartlardandır. TBMM genel kurulu tarafından aday gösterilme şartı yoktur.

(Cevap E)

52. 1982 Anayasası'na göre Hakimler ve Savcılar Kurulu doğal başkanı Adalet Bakanı'dir. Hakimler ve Savcılar Kurulu sekreterini de HSK başkanının seçeceği hükmüne bağlanmıştır.

(Cevap B)

53. 657 Devlet Memurluğu kanununa göre uyarı, kınama, aylıktan kesme ve kademe ilerlemesinin durdurulması memura verilen disiplin cezalarındandır. Görevden uzaklaştırma ise bir disiplin cezası olmayıp güvenlik tedbiridir.

(Cevap E)

54. Sayıştay, Türkiye Büyük Millet Meclisi adına denetleme yapar. Sayıştay başkan ve üyelerini TBMM seçer

(Cevap C)

55. Fransa, İtalya, Japonya ve Yeni Zelanda insani gelişim indeksinde çok yüksek insani gelişmişlik düzeyini yakalamıştır. Fakat Meksika bir alt basamak olan yüksek insani gelişmişlik düzeyindedir.

(Cevap B)

56. Rio Karnavalı Brezilya'da yapılır.

(Cevap C)

57. "Bildiğim tek şey hiçbir şey bilmediğimdir" sözü ile ünlü düşünür Sokrates'tir. Sokrates ayrıca etğın öne mine ilk kez vurgu yapan düşünürdür.

(Cevap C)

58. Sabahattin Ali, eserlerinde tema olarak toplumsal eşitsizlikleri, ezilen insanların acılarını ve sömürülmelerini seçmiştir. Aydınların ve kentli kesimin Anadolu insanına karşı takındıkları küçümseyici tavrı eleştiren eserler ortaya koymuştur. 1937 yılında yayımlanan Kuyucaklı Yusuf adlı romanı gerçekçi Türk romanının en özgün örneklerinden biri olarak bilinir. Öykülerinde tanımlamakta zorlanılan duyguları ustalıklı ifade etmiştir. İnsanın zavallılığını, bunun yanı sıra gücünü de aynı güçlü üslupla zaman zaman masalsı bazen de destansı bir edayla yansıtmayı başarmıştır.

(Cevap E)

59. Kalıtımla ilgili ilk çalışmalar 18. yüzyılda başlamıştır. Alman botanikçi Költreuter, 1760 yılında bir bitki türünden aldığı polenleri, aynı türden diğer bir bitki çiçeğinin tepeciğine taşıyarak ilk melezleme çalışmalarını yapmıştır. Bu çalışma ile iki bitkiye ait özelliklere sahip bir nesil elde etmiş, fakat ana baba özelliklerinin oğul döllere hangi esaslara göre geçtiğini açıklayamamıştır. Kalıtımın esaslarını ilk ortaya koyan bilim insanı Gregor Mendel'dir. Groger Mendel 1822'de Avusturya'da dünyaya gelmiş, lise öğrenimini tamamladıktan sonra bir manastırda rahip olarak göreve başlamıştır. Daha sonra Viyana Üniversitesi'nde matematik ve biyoloji alanında eğitim görmüştür. Bu yıllarda manastırın bahçesinde bezelyeler üzerinde yapmış olduğu deneylerle kalıtım biliminin doğmasını sağlamıştır.

(Cevap A)

60. Bayraktar (SİHA), HÜRKUŞ ve ANKA havacılık ve uzay alanında yürütölen projelerdir. ALTAY kara araçları projelerinden biridir. MİLGEM ise deniz araçları alanındaki projelerden biridir.

(Cevap D)

AKADEMİ DENİZİ LİSANS KURUMSAL - VİP • 2 • GENEL YETENEK TESTİ

1	E	2	C	3	C	4	B	5	C	6	E	7	B	8	D	9	B	10	C	11	A	12	C	13	A	14	E	15	D
16	D	17	D	18	B	19	C	20	A	21	C	22	B	23	A	24	D	25	C	26	B	27	E	28	C	29	C	30	A
31	C	32	D	33	A	34	B	35	E	36	A	37	C	38	D	39	E	40	B	41	E	42	D	43	E	44	D	45	C
46	A	47	A	48	C	49	D	50	C	51	E	52	D	53	C	54	A	55	C	56	D	57	A	58	B	59	E	60	B

AKADEMİ DENİZİ LİSANS KURUMSAL - VİP • 2 • GENEL KÜLTÜR TESTİ

1	E	2	C	3	A	4	B	5	D	6	E	7	A	8	E	9	D	10	A	11	B	12	A	13	B	14	C	15	E
16	C	17	E	18	D	19	B	20	C	21	E	22	D	23	E	24	C	25	D	26	B	27	D	28	C	29	D	30	E
31	D	32	A	33	C	34	C	35	A	36	C	37	A	38	B	39	C	40	B	41	E	42	C	43	E	44	A	45	D
46	C	47	E	48	C	49	A	50	B	51	E	52	B	53	E	54	C	55	B	56	C	57	C	58	E	59	A	60	D