



AKADEMİ  
DENİZİ

KAMU PERSONEL SEÇME SINAVI  
LİSANS

GENEL YETENEK TESTİ  
GENEL KÜLTÜR TESTİ

**VİP•3**

Bu testlerin her hakkı saklıdır. Hangi amaçla olursa olsun, testlerin tamamının veya bir kısmının yayınevimizin yazılı izni olmadan kopya edilmesi, fotoğrafının çekilmesi, herhangi bir yolla çoğaltılması, yayımlanması ya da kullanılması yasaktır. Bu yasağa uymayanlar gerekli cezai sorumluluğu ve testlerin hazırlanmasındaki mali külfeti peşinen kabullenmiş sayılır.

AKADEMİ DENİZİ YAYINCILIK

1. Parçadaki anlam bağlamıyla birlikte düşündüğümüzde “biçim bozan aynalar” sözünün, “Olduğundan farklı göstermek” anlamında kullanıldığını söyleyebiliriz.

(Cevap D)

2. Parçada geçen, “mizahla atbaşı giden hüznün” ifadesinde, “Güldürü ve üzüntüyü aynı anda içerdigi” vurgusu hâkimdir.

(Cevap D)

3. V. cümlede pek çok gencin serbest nazma dönme-yip heceyle şiir yazdıkları belirtilmiştir. Buradan bu dönemde serbest ölçüyle şiir yazarların da olduğu anlamı çıkar.

(Cevap E)

4. Cümlede, içten içe kaynamasına rağmen sakin görünmeye çalışan bir kimsenin durumundan söz edilmektedir. C seçeneğinde de aslında kıskanç bir kişi olduğu hâlde gerektiğinde bu yönünü gizleyebilen bir kimseden bahsedilmektedir. İki durum arasında bu bağlamda bir yakınlık vardır.

(Cevap C)

5. “Bayramda çocuklara 5’şer lira harçlık vermişti.” cümlesinde “5’şer” sözü yanlış yazılmıştır. Doğrusu, 5’er şeklindedir.

(Cevap A)

6. Parçada I, II, III ve IV. cümlelerde virgül yerinde kullanılmıştır. Bu cümlelerde virgül eş görevli söz veya söz gruplarını ayırmada kullanılmıştır. V. cümlede virgül yanlış kullanılmıştır. Cümlede -se/-sa koşul kipinden sonra virgül kullanılmaz. Çünkü koşul anlamı sağlayan -se/-sa yargıları birbirine bağladığı için virgülle ayrılmaz.

(Cevap E)

7. “de - mek - tir”  
Yapım eki

“tasar(ı) - la - rız”  
Yapım eki

“say - diğ(k) - ımız”  
Yapım eki

“doğ - ur - ma - sın”  
Yapım eki

Bu sözcükler yapım eki aldığı için türemiş yapıdadır.

“ n(e) asıl → nasıl ” birleşik bir sözcüktür.

(Cevap B)

8. yalın-ız > yalnız “ünlü düşmesi”  
kayıt-ol > kaydol “ünlü düşmesi”  
red-et > reddet “ünsüz türemesi”  
güpegündüz “ünlü türemesi”

E seçeneğinde “ses düşmesi” ya da “ses türemesi” yoktur.

(Cevap E)

## Genel Yetenek Testi

9. "Birkaç saat yürüdüğüm için eve gelip hemen yat-  
tım."

Cümlesindeki altı çizili ek, eyleme gelmiş birinci tekil şahıs ekidir yani fiil çekim ekidir. Diğer seçeneklerdeki altı çizili sözcükler ise isme gelen iyelik ekle-  
ridir yani isim çekim ekidir.

(Cevap C)

10. "Kromofor adı verilen pigment molekülleri, fotosen-  
tez sırasında güneş enerjisini tepkime merkezlerine  
hızlı taşıdığından güneş enerjisinin hemen hepsi ara-  
da hiç ısı kaybı olmadan kimyasal enerjiye dönüşür."  
cümlesinde,

"Kromofor adı verilen pigment molekülleri" gerçek öz-  
nedir. "kimyasal enerjiye" dolaylı tümleçtir ve yüklem-  
den önce geldiği için vurgulanmıştır.

"dönüşür" yüklemi isim tamlaması değildir.

(Cevap E)

11. "tüketilmesi , zayıflamak" isim-fiil

"tutan, olduğu " sıfat-fiil

"olarak" zarf-fiildir.

(Cevap C)

12. Numaralanmış cümleler anlamlı sıralandığında doğ-  
ru sıralama: I, III, IV, V, II şeklinde olmalıdır.

Buna göre baştan üçüncü cümle IV. cümle olmalıdır.

(Cevap D)

13. B → "... narin ve bir o kadar duygulu..."

C, D → "Suya böyle âşık başka bir yoktur."

E → "... ipek gibi narin..."

Bu parçanın anlatımında betimleyici bir anlatım kul-  
lanılmıştır.

(Cevap A)

14. Paragraflar kendi içerisinde bir anlam bütünlüğü ta-  
şır. Paragrafın anlam bütünlüğünü bozan cümle ko-  
nu dışına çıkan cümledir. Bu parçada Ahmet Haşim'in  
düz yazılarındaki başarısından genel olarak bahse-  
dilirken son cümle olan V. cümlede düz yazı türün-  
deki "Bize Göre" adlı esere geçiş yapılmıştır. Son  
cümle anlatımın akışını bozmuştur.

(Cevap E)

15. Verilen paragrafı iki parçaya ayırmamız istenen so-  
ruları okurken konuya ve ana fikre dikkat etmeliyiz.  
İlk cümlenin konusundan veya ana fikrinden hangi  
cümleden itibaren uzaklaşıyorsa o cümle bizden is-  
tenen cevaptır. Bu parçanın ilk üç cümlesinde "çağ-  
daş demokrasi" den bahsedilirken IV. cümleden iti-  
baren Avrupa tarihinde "demokrasi" anlayışının baş-  
langıcına değinilmiştir.

(Cevap C)

16. Parçada fado ile ilgili olarak dünyada en sevilen tür  
olduğuna değinilmemiştir. Kimlerin katkılarıyla tanın-  
dığına, nasıl ortaya çıktığına icra edilme şekline ve  
ne anlama geldiğine ise yer verilmiştir.

(Cevap C)

17.

- B) Geçmişinde utanılacak işler yapmamış olmak (Halkın karşısına temiz bir sicille çıkamamışsanız ağızınızla kuş da tutsanız kazanma şansınız yoktur.)
- C) İyi bir hatip olmak (Meydanlarda konuşmanın kürsüde konuşmaya benzemediğini bilip bu konuda kendinizi eğitmelisiniz.)
- D) Gerçekçiliğe uygun davranmak ( Öncelikle ayakları yere basan projeleriniz olmalı, bu halk dağıdaki kekliğin bininin bir para olduğunu biliyor.)
- E) Samimi olmak (Davranışlarınız ve üslubunuz yapmacılıktan uzak olmalı.)

Bu parçada A seçeneğinde yer alan "Teknolojiden faydalanmak" önerisi yoktur.

(Cevap A)

18.

... Atalarımız, iyiliğin gizli ve karşılık beklemeden yapılmasını ve yapıldıktan sonra da unutulması gerektiğini şu sözlerle ne güzel anlatmışlar:

"İyilik yap, denize at; balık bilmezse Hâlık bilir."

Parçanın sonun düşüncenin akışına göre yalnız III. cümle ile tamamlanmalıdır.

(Cevap B)

19.

Bu parçada türkülerle ilgili söylenenler "özlülük" ilkesiyle ifade edilebilir. Özlülük "az sözle çok söz anlatma" dır. Parçada özlülük ilkesine "Eskilerin sehl-i mümteni dediği, gerçekte karmaşık ve uzun bir konunun kolayca söylenmiş izlenimi verecek şekilde anlatılması sanatı da türkülerimizin tanımlayıcı özelliklerindedir." cümlesinden ulaşabiliriz. Sehl-i mümteni ise "söylenmesi kolay görülen ama benzeri yapılmak istendiğinde güçlüğü ortaya çıkan sözdür." Bu tür sözler sade ve derin anlamlıdır.

(Cevap D)

20.

Parçanın genelinde estetikten söz edilerek estetiğin edebiyat alanına özgü olmadığı söylenmiş ve bu konuda en önemli hususun kullanma miktarı olduğu vurgulanmıştır. Buna göre bu parçanın, "Estetiğin kullanımında neye dikkat etmek gerekir?" sorusunun cevabı olduğunu söyleyebiliriz.

(Cevap C)

21.

Göynük'ün Bolu'nun en kalabalık ilçesi olduğuna dair parçada bilgi verilmemiştir.

A, E → "...akan incecik dere, kıyı ve yamaçlarında eski Türk evleri, tepede yenilenmiş saat kulesi, ağaçlar, çiçekler... Usta ressamın elinden çıkmış resim gibidir Göynük."

B→"İstanbul'la Ankara'nın tam ortasındadır."

C→"Friglerden Osmanlıya birçok uygarlık bu topraklardan geçmiş, hepsi de iz bırakmıştır."

(Cevap D)

## Genel Yetenek Testi

22. Parçada sözü edilen yazar Capote ile ilgili olarak gördüklerini nesnel ifadelerle aktardığına yer verilmiştir.

A,E → “Her kenti neredeyse sıradan kahramanların küçük hikâyeleri üzerinden anlatıyor ki aslında nefis birer hikâye demek de mümkün Capote’un yazdıklarına.”

B → “Truman Capote’un “Yerel Renkler” adlı kitabı, bir haliyle bir romancının elinden çıktığını belli ediyor.”

D → “... o insanlara ait öyle hareket ve sözler seçiyor ki, bir cümlede bütün kentin ruhunu kavratıyor size.”

(Cevap C)

23. Parçada, dergiye gelen yazılarla ilgili olarak, “Ahlâk adına yapılan ufak tefek düzeltiler bir yana bırakılırsa Servet-i Fünun dergisine gelen yazılar üzerinde Tevfik Fikret’in herhangi bir eleştirisi yoktu.” cümlesine dayanarak C seçeneği dışında yazılarla ilgili ciddi bir sorun olmadığı fakat dizgicilerin ısrarla yazım konusunda kendi bildikleri gibi yazmalarının sorun oluşturduğunu, “Müsvedde nasıl yazılmış olursa olsun onlar yine bildikleri yazım kurallarına uyarlardı. Fikret, yorulmak bilmez bir çabayla, dizgicilerin alışkanlıklarına da savaş açmıştı.” ifadelerinden anlıyoruz.

(Cevap C)

24. Parçada, Tevfik Fikret’in dergiye gelen yazılara hangi yönden müdahil olduğu anlatıldığından doğru cevap E seçeneğindedir.

(Cevap E)

25. Parçaya göre hareket ettiğimizde “Paganizmin yaygın olduğu devirlerde insanlar doğanın kutsal olduğuna, doğada gözlenen olayların da tanrıların yansıması ve işaretleri olduğuna inanırlarmış. Bu inanın sonucunda da bir hasat mevsimi verimli geçtiğinde, o mevsimin sonunda tanrılarına şükranlarını sunmak için kurban adanmış.” cümlelerini birleştirerek sorunun cevabını bulabiliriz.

(Cevap A)

26. Bilgi vermeyi amaçlayan metinler açıklayıcı metinlerdir. Yalın, anlaşılır, duru ifadeleri vardır. Verilen parçada paganizm hakkında bilgi verilmiştir ve bu bilgi en anlaşılır biçimde ifade edilmiştir.

(Cevap C)

Genel Yetenek Testi

31.  $\frac{2x+5}{3y-8} = \frac{36}{24} = \frac{3}{2}$  dir.  
 $\Rightarrow 2x+5=3 \quad 3y-8=2$   
 $\Rightarrow 2x=-2 \quad 3y=10$   
 $\Rightarrow x=-1 \quad y=\frac{10}{3}$   
 Buna göre,  $x+y=-1+\frac{10}{3} \Rightarrow x+y=\frac{7}{3}$  bulunur.

(Cevap A)

32.  $2^x + x^2 - 3 \rightarrow T$   
 $\downarrow \quad \downarrow \quad \downarrow$   
 $\Ç \quad \Ç \quad T$   
 A)  $x+6 \rightarrow \Ç$  B)  $6^x+x \rightarrow \Ç$  C)  $x^2+x+4 \rightarrow 4$   
 $\downarrow \quad \downarrow \quad \downarrow \quad \downarrow \quad \downarrow \quad \downarrow$   
 $\Ç \quad \Ç \quad \Ç \quad \Ç \quad \Ç \quad \Ç$   
 D)  $3x+4 \rightarrow \Ç$  E)  $5^x+x+2 \rightarrow T$   
 $\downarrow \quad \downarrow \quad \downarrow \quad \downarrow \quad \downarrow$   
 $\Ç \quad \Ç \quad T \quad \Ç \quad T$

(Cevap E)

33. ABC 45'e tam bölünüyorsa 5 ile 9 ile de tam bölünür. O hâlde C = 5'tir.  
 CB 4'e tam bölünüyorsa CB 52 ya da 56 dır.  
 ABC'de A25 ya da A65 olabilir.  
 ABC'nin 45 ile bölünmesi için CB=65 olmalıdır. Bu şartların sağlanması için ABC = 765 olmalıdır. O hâlde A = 7'dir.

(Cevap E)

34. Aralarında asal sayıların EBOB'u 1 EKOK'lar sayılarının çarpımı bu olur.  
 EBOB = 1 EKOK = 143  
 143 + 1 = 144

(Cevap A)

35.  $\frac{\left(\frac{1}{8}-\frac{1}{9}\right) + \left(\frac{1}{8}-\frac{1}{9}\right) + \dots + \left(\frac{1}{8}-\frac{1}{9}\right) + \frac{1}{8}}{62 \text{ tane}}$   
 $= 31 \cdot \left(\frac{1}{8}-\frac{1}{9}\right) + \frac{1}{8} = 31 \cdot \left(\frac{9-8}{72}\right) + \frac{1}{8}$   
 $= \frac{31}{72} + \frac{1}{8} = \frac{31+9}{72} = \frac{40}{72} = \frac{5}{9}$  olur.

(Cevap D)

36.  $x = 0,4 + 0,04 + 0,004 \dots = 0,4444 \dots = 0,\bar{4}$   
 $y = 0,\bar{3} = \frac{3}{9}$   
 $z = 0,\bar{5} - 0,\bar{4} = \frac{5}{9} - \frac{4}{9} = \frac{1}{9}$   
 $\frac{x-y}{z} = \frac{\frac{4}{9} - \frac{3}{9}}{\frac{1}{9}} = \frac{\frac{1}{9}}{\frac{1}{9}} = \frac{1}{9} \cdot \frac{9}{1} = 1$  bulunur.

(Cevap D)

37. 1. galibiyet: 1 altın ( $2^0$ )  
 2. galibiyet: 2 altın ( $2^1$ )  
 3. galibiyet: 4 altın ( $2^2$ )  
 4. galibiyet: 8 altın ( $2^3$ )  
 5. galibiyet: 16 altın ( $2^4$ )  
 6. galibiyet: 32 altın ( $2^5$ )  
 $\Rightarrow$  son galibiyet =  $2^5 \cdot 1000$   
 $= 2^5 \cdot 2^3 \cdot 5^3 = 2^8 \cdot 5^3$

(Cevap E)

38.  $\sqrt{375} = \sqrt{25 \cdot 15} = 5\sqrt{15}$   
 $\sqrt{252} = \sqrt{36 \cdot 7} = 6\sqrt{7}$   
 $\frac{10\sqrt{15} - 12\sqrt{7}}{\sqrt{375} - \sqrt{252}} = \frac{2 \cdot (5\sqrt{15} - 6\sqrt{7})}{(5\sqrt{15} - 6\sqrt{7})} = 2$  olur.

(Cevap B)

www.akademidenizi.com.tr

AKADEMİ DENİZİ YAYINLARI

## Genel Yetenek Testi

39. a, b pozitif tam sayılar, p bir asal sayı

$$a^3 - b^3 = p$$

$$\frac{(a-b) \cdot (a^2 + ab + b^2)}{1 \cdot p} = p$$

$$(a-b)^2 = (1)^2$$

$$1/ \quad a^2 - 2ab + b^2 = 1$$

$$+ \quad a^2 + ab + b^2 = p$$

$$\hline -a^2 + 2ab - b^2 = -1$$

$$+ \quad a^2 + ab + b^2 = p$$

$$\hline 3ab = p - 1 \Rightarrow a \cdot b = \frac{p-1}{3}$$

$$a - b = 1$$

$$a^2 + ab + b^2 = p$$

$$a^2 + b^2 = p - ab$$

$$a^2 + b^2 = p - \frac{p-1}{3}$$

$$a^2 + b^2 = \frac{3p - p + 1}{3}$$

$$a^2 + b^2 = \frac{2p+1}{3} \text{ bulunur.}$$

(Cevap E)

40.  $\frac{1. \text{ yapılan iş}}{1. \text{ veriler}} = \frac{2. \text{ yapılan iş}}{2. \text{ veriler}}$
- $$\frac{200}{2 \cdot 5} = \frac{x}{8 \cdot 4} \Rightarrow \frac{200}{10} = \frac{x}{32} \Rightarrow x = 640$$
- sayfa yazılabilir.

(Cevap D)

41.  $y - z < 0 \Rightarrow y < z$
- $$x - y - z > 0 \Rightarrow x > y + z$$
- $$y < z$$
- $$+ \quad y + z < x$$
- $$\hline z + 2y < x + 2$$
- $$2y < x$$

(Cevap D)

42.  $\left| \frac{x-2}{x > 2} + 1 \right| + \left| \frac{x+2}{x > 2} - 5 \right|$

$$= \left| x - 2 + 1 \right| + \left| x + 2 - 5 \right|$$

$$= \left| \frac{x-1}{x > 2} \right| + \left| \frac{x-3}{x < 3} \right|$$

$$= x - 1 + 3 - x$$

$$= 2 \text{ bulunur.}$$

(Cevap A)

43.  $a = \frac{1}{2+b} \Rightarrow 2+b = \frac{1}{a}$

$$2a + ab + b - 2 - b + 3$$

$$\Rightarrow a(2+b) + 1 \Rightarrow a \cdot \frac{1}{a} + 1 = 2 \text{ bulunur.}$$

(Cevap A)

44. Öğrenci sayısı x olsun.

$$48 - 3x + 48 - 2x + 48 - x = 54$$

$$144 - 6x = 54$$

$$90 = 6x$$

$$x = 15 \text{ bulunur.}$$

(Cevap E)

45.

	Üçgen	Kare	Toplam
Mavi	10	10	20
Kırmızı	14	26	40
Toplam	24	36	60

$$60 \cdot \frac{2}{3} = 40$$

$$60 \cdot \frac{2}{5} = 24$$

Tabloda görüldüğü üzere Arda'nın 14 tane kırmızı renkli üçgen bloku vardır.


(Cevap B)

46. 4 kilogram nohut  $450 \frac{30}{15} = 30$  TL  
 $\Rightarrow$  1 kilogram nohut  $\frac{30}{4} = 7,5$  TL  
 180 ₺ ye  $\Rightarrow \frac{180}{7,5} = 24$  kg nohut alınır.

(Cevap B)

47.  $\frac{O}{17}$   $\frac{M}{x}$   
 $17 + 2x - 5$   $3x - 5$   
 $O + M = 17 + 2x - 5 + 3x - 5$   
 $= 7 + 5x$  bulunur.

(Cevap A)

48.   
 $20 \text{ dk} = \frac{20}{60} = \frac{1}{3}$   
 $|AB| = (50 - 10) \cdot \frac{1}{3}$   
 $|AB| = 40 \cdot \frac{1}{3} \Rightarrow |AB| = \frac{40}{3} \text{ km}$

(Cevap B)

49.  $2A + 2G + 20 = 2A + 1G + 22$   
 $1G = 2 \text{ cm}$   
 Başa ve sona 1'er altın koyarsa 2. durumdaki gibi  
 $22 : 2 = 11 + 1 = 12$  gümüş para koyar.  
 Toplam:  $12 + 2 = 14$  para koymuş olur.

(Cevap B)

50.  $a \oplus e = e \oplus a = a$   
 $3 \odot x = -19$   
 $3 - 12x + x = -19$   
 $3 - 11x = -19$   
 $22 = 11x$   
 $x = 2$  bulunur.

(Cevap D)

51. •  $6 + 5 = 11$  kişi düz bir sırada  $11!$  farklı şekilde sıralanabileceklerinden  $s(E) = 11!$  dir.  
 • İstenen olaya  $I$  diyelim. İki hemşire arasında bir doktorun olduğu sıralanışların sayısı,  
 $\underline{H_1 D_1 H_2 D_2 H_3 D_3 H_4 D_4 H_5 D_5 H_6}$   
 hemşireler ve doktorlar sadece kendi aralarında yer değiştirebileceklerin  $6! \cdot 5!$  dir. O halde  $s(I) = 6! \cdot 5!$  dir.

$$\Rightarrow P(A) = \frac{s(I)}{s(E)} = \frac{6! \cdot 5!}{11!} \text{ bulunur.}$$

(Cevap C)

52. Daire grafiği incelendiğinde buğday üretiminin tüm tahıl üretiminin  $\frac{1}{4}$ 'ünden fazla olduğu anlaşılır.

(Cevap A)



Genel Yetenek Testi

53. Pencere ve koridor tarafı olmayan koltuk numaraları 3 ile bölümünde 2 kalanı veren sayılardır.

$$\begin{array}{r} 218 \overline{) 3} \\ - 216 \overline{) 72} \\ \hline \textcircled{2} \end{array}$$

(Cevap D)

54. 17. sıranın son numarası  $17 \cdot 6 = 102$  dir.

$$\begin{aligned} &\Rightarrow \underline{97} \ 98 \ 99 \ 100 \ 101 \ \underline{102} \\ &\Rightarrow 97 + 102 = 199 \end{aligned}$$

(Cevap A)

55. Kağan:  $X + Y + 2Z$

Yusuf:  $2X + Y + Z$

Asya:  $X + 2Y + Z$

$$\Rightarrow X + Y + 2Z < 2X + Y + Z$$

$$\Rightarrow Z < X \text{ olur.}$$

$$2X + Y + Z < X + 2Y + Z$$

$$\Rightarrow X < Y \text{ olur.}$$

Buna göre  $Z < X < Y$  olur.

(Cevap C)

56. Toplam tutar =  $4X + 4Y + 4Z$

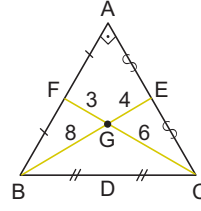
$$\Rightarrow 4(X + Y + Z) \text{ dir.}$$

$$\frac{4 \cdot (X + Y + Z)}{3}$$

bir tamsayı ise  $(X + Y + Z)$  3 ün katı olmalıdır.

(Cevap C)

- 57.



$$5Va^2 = Vb^2 + Vc^2$$

$$5Va^2 = 12^2 + 9^2$$

$$5Va^2 = 144 + 81$$

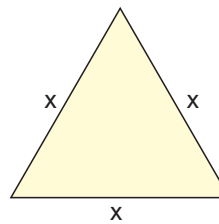
$$5Va^2 = 225$$

$$Va^2 = 45 \Rightarrow Va = \sqrt{45} = 3\sqrt{5} \text{ bulunur.}$$

$$|BC| = 2 \cdot 3\sqrt{5} = 6\sqrt{5}$$

(Cevap D)

- 58.



$$3x \cdot 3 = 9x$$

$$9x = 54$$

$$x = 6$$

$$6 \cdot 6 = 36 \text{ bulunur.}$$

(Cevap D)

59.



$$\begin{aligned} \text{Yüzey alanı} &= 4 \cdot 10 \cdot 4 + 2 \cdot 4 \cdot 4 \\ &= 160 + 32 \\ &= 192 \end{aligned}$$

(Cevap C)

60.  $y - 2x = 12$  y eksenine göre simetriği

$$y - 2x = -12$$

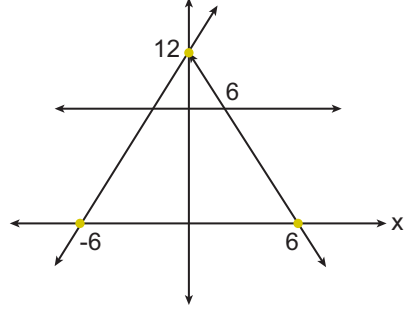
$$y = 0 \text{ için}$$

$$-2x = -12$$

$$x = 6$$

$$x = 0 \text{ için}$$

$$y = -12$$



$$\frac{12}{18} = \frac{6}{x}$$

$$\frac{2}{3} = \frac{6}{x}$$

$$2x = 18$$

$$x = 9$$

$$A = \frac{18 \cdot 9}{2} = 81 \text{ bulunur.}$$

(Cevap C)

1. Şehname, Firdevsi'nin eski İran efsaneleri üzerine kurulu manzum destanıdır. 60.000 beyitten oluşan Şehname, İran edebiyatının en büyük eserlerinden biri olarak kabul edilmektedir. Şehname, tarih öncesi zamanlardan başlayıp Sasani İmparatorluğu sonuna dek tüm eski İran krallarını inceler. Eserde geçen olaylar çoğunlukla İranlı Rüstem ile Turan kralı Afrasiyab arasındaki çekişmeler şeklindedir. Eserde bahsedilen Turan kralı Afrasiyab aslında gerçek bir tarihi kişilik olan Alp Er Tunga'dır.

(Cevap D)

2. Dandanakan Savaşı Büyük Selçuklu Devleti'nin Gazneliler, Pasinler ve Malazgirt Savaşı Bizans, Katvan Savaşı da Moğol Karahitaylar ile yaptığı savaşlardır. Ancak Miryokefalon Savaşı'nda Büyük Selçuklu Devleti bir taraf olmayıp bu savaş Anadolu Selçuklu Devleti ile Bizans arasında yapılmış ve Türklerin Anadolu'ya kesin olarak yerleşmesini sağlamıştır.

(Cevap E)

3. Ömer Hayyam, Selçuklular Dönemi'nde astronomi hesap cetvelleri hazırlamış ve Melikşah adına "Takvim-i Melikî" de denilen Celali Takvimi düzenlemiştir.

(Cevap C)

4. Yıldırım Bayezid'in Timur'la yaptığı Ankara Savaşı'ndan sonra Anadolu beyliklerinin tekrar kurulmasında, Osmanlı Devleti'nin savaşı kaybetmesi ve Fetret Devri'ne girerek merkezi otoritesini yitirmesi, ayrıca Timur'un Anadolu beylerine topraklarını geri vermesi etkili olmuştur.

Yıldırım Bayezid döneminde Anadolu Türk siyasal birliği ilk kez sağlanmıştır.

(Cevap E)

5. I. Mehmet (Çelebi)'in Fetret Devri'ne son vererek Osmanlı birliğini tekrar sağlaması, Anadolu Türk birliği çalışmalarında bulunması, Mustafa Çelebi ve Şeyh Bedreddin Ayaklanmalarını bastırması iç düzeni sağlamaya yönelik çalışmalarıdır. Fakat Venediklilerle ilk deniz savaşının yapılması iç düzeni sağlamaktan çok dış politika ile ilgili yaşanan bir gelişmedir.

(Cevap D)

6. I. Ahmet, III. Mehmet'in oğludur. III. Mehmet ölünce yerine I. Ahmet geçti. I. Ahmet şehzadeliğinde yaşı sebebiyle sancağa gönderilmemişti. Babasının ölümlüyle de hemen tahta oturmuştur. Bu yüzden soruda yer alan padişahlar içerisinde sancağa çıkmadan padişah olan ilk kişi I. Ahmet'tir. I. Ahmet; 1603-1617 yılları arasında padişahlık yapmış, "Ekber ve erşed sistemini" getirerek veraset anlayışında değişiklik yapmıştır.

(Cevap A)

7. Osmanlı Devleti'nde ilk kez modern anlamda bütçe hazırlayan kişi Sadrazam Tarhuncu Ahmet Paşa'dır. Tarhuncu, IV. Mehmet Dönemi sadrazamlarındandır. Saray masraflarını kısmak ve devlet adamlarından gelir vergisi almak gibi uygulamaları gerçekleştiren sadrazam da Tarhuncu Ahmet Paşa'dır.

(Cevap B)

8. Avrupa'ya geçici elçiler gönderilmesine Lale Devri'nde başlanmıştır. Bu dönemin padişahı ise III. Ahmet'tir. Avrupa'da daimi elçilik açılması III. Selim zamanındadır. Avrupa'ya gönderilen ilk sürekli elçi Yusuf Ağâh Efendi'dir. Avrupa'dan danışman ve uzman getirme uygulamasını yaygınlaştıran padişah ise I. Abdülhamit olmuştur.

Lale Devri'nde Paris'e gönderilen ilk elçi Yirmisekiz Mehmet Çelebi'dir.

(Cevap E)

9. B, C, D ve E seçeneklerinde yer alan ifadeler III. Selim ve III. Ahmet Dönemi'nin ortak özellikleri arasında gösterilebilir. Fakat III. Ahmet Dönemi'nde askerî ıslahatlara değil, sosyal ve kültürel ıslahatlara yer verilmiştir. III. Selim Dönemi'nde ise Nizam-ı Cedit Ordusu, Mühendishane-i Berri Hümayun ve askerî kıış-lalar yapılması gibi askerî ıslahatlar çoğunluktadır.

(Cevap A)

10. Osmanlı Devleti'nde Islahat Fermanı'na kadar devlet memuru olma şartlarından birisi Müslüman olma-tı. Yani Müslüman olmayan birisi devlet kademesin-de memur olamıyordu. 1856 yılında yayınlanan Islahat Fermanı, devlet memuru olabilmek için Müslüman olma şartını değiştirmiştir. Ferman'da; "gayrimüslimler de devlet memuru olabilecek" maddesine yer verilerek, Osmanlı'da devlet memuru olmak için Müslüman olma şartı ortadan kaldırılmıştır.

(Cevap B)

11. Mühimme defterleri, en önemli Osmanlı arşivleri arasında yer almaktadır. Divan toplantılarında müzakerelere zabıtlarını Divan-ı Hümayun kâtipleri tutardı. Divan kararları mühimme defteri denen deftere geçirilirdi.

(Cevap C)

12. A, B, C ve E seçeneklerinde verilen gelişmeler, Osmanlı Devleti'nde, halkın toprak üzerindeki mülkiyet hakkının uzun süre sınırlı tutulmasının nedenleri arasında yer almaktadır. Fakat üretimdeki ürün çeşitliliğinin korunmak istenmesinin, bu düşünce ile bir ilgisi bulunmamaktadır.

(Cevap D)

## Genel Kültür Testi

13. Yeniçeriler ile ilgili olarak B, C, D ve E seçeneklerinde yer alan bilgiler doğrudur. Ancak Yeniçeri Ordusu Osman Bey tarafından değil, I. Murat tarafından kurulmuştur.

Acemioğlanlar Ocağı'nın açılması ile kul kökenli askerlerden oluşan paralı ve sürekli ordu kurulmuştur. Acemioğlanlar Ocağı aynı zamanda Kapıkulu Ordusu'nun veya Yeniçeri Ocağı'nın kurulması olarak kabul edilir. Bu ordu Osmanlı Devleti'nin önemli başarılar elde etmesinde etkili olmuş, XVII. yüzyıldan itibaren bozulmuş ve 1826'da II. Mahmut tarafından varlığına son verilmiştir.

(Cevap A)

14. A, B, C ve D seçeneklerinde verilen gelişmeler, Osmanlı Devleti'nde sanayileşmenin gerçekleştirilememesinin ve kapitülasyonların artırılarak sürekli hale getirilmesinin, Osmanlı ülkesinde yarattığı sonuçlar arasında yer almaktadır. Fakat bu durumun tarım ekonomisinin önemini yitirmesi ile bir ilgisi bulunmamaktadır. Osmanlı Devleti hiçbir zaman Sanayi Devrimi'ni gerçekleştirilememiş ve ekonomisi tarım ve hayvancılığa dayanan bir devlet olmuştur.

(Cevap E)

15. Osmanlı Devleti, Kuzey Afrika'da ilk olarak Cezayir'i kaybetmiştir. Bu bölge 1830'da Fransa tarafından işgal edilmiştir. Osmanlı'nın Kuzey Afrika'daki varlığına Uşi Antlaşması son vermiştir. Trablusgarp bu antlaşma ile İtalya'ya verilmiştir. Böylece Kuzey Afrika'da kaybedilen son toprak da Trablusgarp olmuştur.

(Cevap B)

16. Osmanlı Devleti; Bulgaristan, Sırbistan, Karadağ ve Yunanistan ile yaptığı I. Balkan Savaşı'nı kaybetmişti. Bu savaş sonucunda Londra Konferansı toplandı. Bu konferans sonucunda 30 Mayıs 1913'te Londra Antlaşması imzalandı. Bu antlaşmaya göre de Osmanlı Devleti, Midye-Enez hattının batısını Balkan devletlerine bıraktı.

(Cevap B)

17. A, B, D ve E seçeneklerindeki ifadeler I. İnönü Savaşı'nın sonuçları arasında yer alır. Refet Paşa'nın görevden alınıp güneydeki birliklerin komutasının İsmet Paşa'ya verilerek Batı Cephesi'nin birleştirilmesi II. İnönü Savaşı'nın sonucudur.

(Cevap C)

18. Türkiye, Yunanistan, Romanya ve Sırp-Hırvat Sloven Devleti (Yugoslavya) Lozan Konferansı'nın tüm görüşmelerine katılan devletlerdir.

(Cevap E)

19. Türkiye'nin gerçek anlamda sanayileşme sürecine girmesi, Cumhuriyet döneminde olmuştur. Bu sebeple bu dönemde işçi haklarının düzenlenmesi gerekmiştir. Bu durum halkçılık ilkesiyle doğrudan ilgilidir. Halkı bir bütün olarak kabul eden halkçılık ilkesi sosyal ve ekonomik seviyesi düşük kitlelerin düzelmesine yardımcı olmayı öngören bir Atatürk ilkedir. Bu ilke ışığında devlet, vatandaşının sosyal ve ekonomik sorunlarını çözmek ve onların yaşam standartlarını yükseltmekle ilgili önlemler almaktan sorumludur. Atatürk, toplumdaki sosyal grupları nasıl birbirlerine eşit, imtiyazsız topluluklar olarak görmüşse, işçi kesimini de aynı halkçılık ilkesi çerçevesinde değerlendirmiştir.

(Cevap D)

20. Cumhuriyet Dönemi'nde yapılan inkılaplardan;  
I. Türk Tarih Kurumunun kurulması, (12 Nisan 1931) milliyetçilikle ilgilidir.  
III. Türk Dil Kurumunun kurulması, (12 Temmuz 1932) yine milliyetçilik ilkesi ile ilgilidir.  
II. Hukuk alanında yapılan inkılaplar ise laiklik ilkesiyle ilgilidir.

(Cevap B)

21. 1869 yılında yayımlanan Maarif-i Umumiye Nizamnamesi ile Darülfünun'un kurulması kararlaştırılmıştır. 1870 yılında hazırlıklar bitirilerek İstanbul'da Darülfünun resmen açılmıştır. 1900 yılına kadar üç defa açılıp kapatılan Darülfünun, medreselilerin muhalefeti sonucu tam bir faaliyet gösteremedi. 1900 yılında Darülfünunu Şahane adıyla yeniden açılan bu okul, 1933 yılına kadar devam etmiştir. İstenen sonuç alınmadığı için Darülfünun kapatılarak 1933'te İstanbul Üniversitesi'ne çevrilmiştir.

(Cevap C)

22. Laiklik, din ve devlet işlerini birbirinden ayıran, dinin politik çıkarlara alet edilmesini reddeden, kişilerin din ve vicdan özgürlüğünü tanıyan bir toplum düzenini öngörür. Yeni Türk Devleti'nin temel politikalarından biri olan laiklik, 1924 Anayasası'nda 1937 yılında yapılan değişiklikle anayasal bir nitelik kazanmıştır.

1928 yılında Anayasa'dan "Türk devletinin dini İslam'dır." maddesinin çıkarılması ile laik düzende ki eksiklik tamamlanmış, 1937 yılında Anayasa'ya Atatürk ilkeleri ile birlikte laiklik ilkesinin de alınması ile gelişim süreci tamamlanmıştır.

(Cevap D)

23. Yeni Türkiye Devleti sanayileşme konusunda özel sektörü özendirmek için; vergi muafiyeti, ucuz arazi sağlanması, nakliye indirimleri, kamu kurumlarına yerli malı kullanma zorunluluğunun getirilmesi gibi kolaylıklar sağlamıştır. Ancak Kamu İktisadi Teşekküllerinin özelleştirilmesi, Türkiye'de 1990'lı yıllardan sonra hız kazanmıştır.

(Cevap E)

24. Boğazlar Komisyonu'nun kaldırılarak görevinin Türk Devleti'ne bırakılmasıyla boğazlar üzerinde kesin Türk egemenliğinin sağlanması, ayrıca Türkiye'nin boğazların her iki yakasında asker ve silah bulundurabilmesi, Türkiye'yi askeri ve stratejik açıdan önemli ve güçlü hale getirmiştir. Fakat yabancı ticaret gemilerinin boğazlardan serbestçe geçebilmesinin, Türkiye'nin askeri ve stratejik açıdan güçlenmesiyle ilgili bulunmamaktadır.

(Cevap D)

## Genel Kültür Testi

25. I, II, III. ve IV. maddelerde yapılan eşleştirmeler doğrudur. Ancak TİKA, Türk dilinin konuşulduğu ülkeler öncelikli olmak üzere, Orta Asya Türk Cumhuriyetleri ile ilişkilerin geliştirilmesi amacıyla kurulmuş bir teşkilat olup Filistin sorunu ile bir ilgisi bulunmamaktadır.

(Cevap E)

26. Radyonun günlük hayatta kullanılmaya başlanması I. Dünya Savaşı'ndan sonra görülen bir durumdur. II. Dünya Savaşı'ndan sonra radyo önemini korusa da televizyon daha çok ön plana çıkmıştır.

(Cevap A)

27. Locarno Antlaşması 1 Aralık 1925'te I. Dünya Savaşı sonrası Batı Avrupa'da barışı korumak amacıyla Almanya, Fransa, Belçika, İngiltere ve İtalya arasında imzalanmıştır. SSCB'nin bu antlaşma ile herhangi bir ilgisi bulunmamaktadır.

Milletler Cemiyetinin kurulması, Locarno Antlaşması, Briand-Kellogg Paktı ve Litvinov Protokolü iki savaş arası dönemde barışın sürekliliğini sağlama çabalarına yönelik girişimlerdir.

(Cevap B)

28. Sorudaki açıklamaya göre; Güneş'in ufuk düzlemi üzerindeki yükseltisinin fazla olması için Güneş ışınlarının daha dik açıyla gelmesi gerekir. Türkiye'ye yıl içinde Güneş ışınları 21 Haziran tarihinde gelebileceği en dik açıyla gelir (yaz mevsimi) ve Güneş ufuk düzlemi üzerindeki en fazla yükseltiye ulaşır.

(Cevap E)

29. Şekilde güneşin yerel saatle sabah 6.00'da doğduğu, akşam 18.00'de battığı, gündüz süresinin tam 12 saat olduğu gözlemleniyor. Bu durum ancak 23 Eylül'de (ekinoks) gerçekleşir.

(Cevap C)

## Genel Kültür Testi

30. Türkiye'de özellikle yaz mevsiminde sıcaklık değerlerinin yükselmesi, yağış değerlerinin azalması ve beşerî faaliyetlerin etkisine bağlı olarak aşırı su kullanımı kuraklığı hissedilir seviyeye çıkarır. Güneydoğu Anadolu kuraklığın ülkemizde en fazla hissedildiği bölgedir. Ancak bu durum üzerinde; yaz mevsiminde sıcaklığın yüksek olmasına bağlı olarak buharlaşmanın şiddetli olması rol oynamıştır. Yoksa Güneydoğu Anadolu Türkiye'nin en az yağış alan bölgesi değildir.

(Cevap B)

31. Gümüşhane, Bayburt, Burdur ve Uşak'ta nem miktarı iç kesimlerde olduklarından az, Zonguldak'ta ise deniz kıyısında olduğundan fazladır.

(Cevap D)

32. Çukurova; Seyhan ve Ceyhan nehirlerinin taşıdığı alüvyal topraklardan oluşmuştur.

(Cevap B)

33. Canik Dağları kıvrımlı yapıdaki dağ sıralarıdır. Oysa ki soruda verilen şekil kırıklı yer yapısına aittir. Seçeneklerde bulunan diğer dağlar kırıklı yapıdadır.

(Cevap B)

34. Dalmaçya kıyı tipi ülkemizde Kaş (Antalya) kıyılarındadır. Kıyıya paralel uzanan dağların zirveleri su altında kaldıktan sonra kıyıya paralel uzanan adalara dönüşmüştür.

(Cevap C)

35. Beşeri faktörler insan etkisiyle ortaya çıkan unsurlardır. Doğal bitki örtüsünün tahrip edilmesinin en temel nedeni insan faaliyetleridir.

(Cevap D)



36. İş imkânlarının fazla olduğu yerler ülke içinden iç göç almaktadırlar. I, III, IV ve V. bölgeler iş imkânları fazla olduğundan çevreden göç alırlar. II numaralı bölge Türkiye'deki تنها nüfuslu yerlerdendir. Turizme bağlı olarak iç göç alır. Fakat diğer yerlere göre daha azdır.

(Cevap B)

37. Gelişmekte olan ülkelerde sağlık, eğitim ve yaşam koşulları ekonominin gelişmesine bağlı olarak iyileşir. Bu durum refah seviyesinin artmasına dolayısıyla ortalama yaşama süresinin uzamasında etkili olur. Birincil ekonomik faaliyetler tarım, hayvancılık, ormancılık ve madenciliktir. Bu faaliyetler az gelişmiş ülkelerde yaygın olarak yapılır.

(Cevap B)

38. Endüstri bitkilerinin yetiştirildiği verimli tarım alanları üzerinde fabrikalar kurulması Çukurova'da (Adana) eğimli yerlerdeki tarlalarda erozyonun etkisiyle toprakların yok olması Doğu Anadolu'da nüfus yoğunluğuna bağlı olarak plansız kentleşme İstanbul'da yaşanmaktadır. Bu bakımdan;

- I. durum L,  
II. durum M,  
III. durum K için geçerlidir.

(Cevap C)

## Genel Kültür Testi

40. Türkiye'de (Kastamonu) Küre ve (Artvin) Murgul'da çıkarılan bakır Samsun'da; (Elazığ) Maden'de çıkarılan bakır yine buradaki fabrikalarda işlenir.

(Cevap C)

41. Ülkemizde sanayi tesisleri bölgelere eşit olarak dağılmamıştır. Bu duruma neden olan faktörler;

- Ulaşım koşulları,
- Ham madde ve enerji kaynaklarına yakınlık,
- Pazarlara yakınlık,
- Nüfusun dengesiz dağılması,
- Ağır sanayi kollarının sanayi içindeki payının fazla olmaması,
- Sanayi kuruluşlarının yaklaşık % 70'inin İstanbul, İzmit, Sakarya, İzmir ve Kayseri gibi illerde toplanmasıdır.

(Cevap D)

42. Türkiye'de dağlar doğu batı doğrultulu uzanır. Bu yüzden önemli kara ve demir yolları da, dağları takip eder ve doğu batı doğrultulu uzanır.

(Cevap B)

43. Bir limanın aktif dış ticaret faaliyetlerinin olması için, iç kesimlere kara ve demir yolu bağlantısının gelişmiş olması gerekir. Oysa ki Muğla'da yer şekillerinin engebeli olmasına bağlı olarak ulaşım gelişmemiştir.

(Cevap C)

44. Turizm'den elde edilen gelirler dış ticaret açığının kapanmasına yardımcı olur. Ancak turizm ham madde ihracatının artmasına neden olmaz. Zaten bu durum geri kalmışlık anlamına gelir.

(Cevap D)

45. İç Anadolu Bölgesi'nde yağış miktarının en az olduğu bitki örtüsünün bozkır olduğu ve küçükbaş hayvancılık faaliyetlerinin yapıldığı doğrudur. Ancak bölgenin kırsal kesimlerinde dağınık değil, toplu yerleşme vardır. Çünkü yerleşmeler su kaynaklarının çevrelerinde toplanmıştır. Dağınık yerleşmelere ise ülkemizde Karadeniz Bölgesi'nde rastlanır.

(Cevap D)

## Genel Kültür Testi

46. Soru öncülünde verilen boşluklara sırasıyla "tarihî hukuk" ve "tabii hukuk" gelmelidir.

(Cevap A)

47. I. öncül "sözleşme"ye, II. öncül "edim"e, III. öncül ise "borç ilişkisi"ne ait tanımlardır.

(Cevap E)

48. Soru öncülünde verilen tanım "yorumlayıcı hukuk kuralları"dır.

(Cevap B)

49. 1924 Anayasası'na ilişkin A, B, D ve E'de verilenler doğrudur. Fakat 1924 Anayasası'nın başkanlık sistemini öngördüğüne ilişkin ifade yanlıştır.

(Cevap C)

50. 1982 Anayasası'na göre Cumhurbaşkanlığı ve genel seçimlerin aynı gün 5 yılda bir yapılacağı kabul edilmiştir. 2017 Anayasa değişikliğine göre 24 Haziran 2018 seçimleri birlikte yapılmıştır.

(Cevap B)

51. 1982 Anayasası'na göre yabancı ülke temsilcilerini kabul etmek ya da yabancı ülkeye temsilci göndermek, büyükelçilik gibi, Cumhurbaşkanının görev ve yetkisindedir.

(Cevap B)

52. 1982 Anayasası'na göre HSK üyelerinin 7'sini TBMM 4'ünü Cumhurbaşkanı seçer. Üyelerin görev süresi 4 yıldır ve seçilen bir daha seçilebilir.

(Cevap C)

www.akademidenizi.com.tr

AKADEMİ DENİZİ YAYINLARI

## Genel Kültür Testi

53. 657 Devlet Memurluğu Kanunu'na göre; siyasi partiye üye olma, özürsüz olarak 1 yılda toplam 20 gün göreve gelmemek, savaş durumunda amirin verdiği emri yapmamak, yetki olmadan gizli bilgileri açıklamak, terör örgütleri ile eylem birliği içerisinde olmak ve bu örgütlere yardım etmek çıkarılmayı gerektiren disiplin cezalarıdır.

(Cevap B)

54. 1982 Anayasası'nın 126. maddesine göre, illerin idaresi "yetki genişliği" esasına dayanmaktadır. Yetki genişliği, taşra örgütü amirlerinden Vali'nin merkeze danışmadan kendiliğinden karar alma ve uygulama yetkisini ifade eder.

(Cevap A)

55. Robert Koch (1843-1910) bakterilerle bulaşan şarbon, tüberküloz ve kolera salgınları ile ilgili araştırmalar yaptı. Koch'un ünü zamanla dünyaya yayıldı. Mısır ve Hindistan'da içme sularında bulunan virgül biçimindeki kolera bakterisini çalışmaları sonunda tespit etmeyi başardı. Tüberküloz konusundaki çalışmaları ile 1905 yılında Nobel Tıp Ödülü'nü kazandı. Ayrıca bakteriyoloji adı verilen mikrobiyolojinin bir alt dalının da doğmasını sağladı.

(Cevap B)

56. Tanımı verilen kuruluş Birleşmiş Milletler Gıda ve Tarım Örgütü'dür. Kuruluşun merkezi Roma'dadır.

(Cevap E)

57. "Hayretü'l Ebrar" adlı eser Ali Şir Nevai'ye aittir. Hayretü'l Ebrar, Ali Şir Nevai'nin birinci mesnevisidir. 7976 mısralık felsefi bir eserdir.

(Cevap C)

58. Parasalcılık yani monetarizm ölçüde 1976 Nobel Ekonomi Ödülünü kazanan Amerikalı iktisatçı Milton Friedman tarafından getirilmiştir.

(Cevap D)

59. 2021 Cumhurbaşkanlığı Kültür ve Sanat Büyük Ödülleri kapsamında "sinema" dalında ödüle layık görülen sinema sanatçımız Cüneyt Arkın'dır.

(Cevap B)

60. Doğru eşleştirme B seçeneğinde verilmiştir.

(Cevap B)

### AKADEMİ DENİZİ LİSANS KURUMSAL - VİP • 3 • GENEL YETENEK TESTİ

1	D	2	D	3	E	4	C	5	A	6	E	7	B	8	E	9	C	10	E	11	C	12	D	13	A	14	E	15	C
16	C	17	A	18	B	19	D	20	C	21	D	22	C	23	C	24	E	25	A	26	C	27	B	28	A	29	A	30	D
31	A	32	E	33	E	34	A	35	D	36	D	37	E	38	B	39	E	40	D	41	D	42	A	43	A	44	E	45	B
46	B	47	A	48	B	49	B	50	D	51	C	52	A	53	D	54	A	55	C	56	C	57	D	58	D	59	C	60	C

### AKADEMİ DENİZİ LİSANS KURUMSAL - VİP • 3 • GENEL KÜLTÜR TESTİ

1	D	2	E	3	C	4	E	5	D	6	A	7	B	8	E	9	A	10	B	11	C	12	D	13	A	14	E	15	B
16	B	17	C	18	E	19	D	20	B	21	C	22	D	23	E	24	D	25	E	26	A	27	B	28	E	29	C	30	B
31	D	32	B	33	B	34	C	35	D	36	B	37	B	38	C	39	C	40	C	41	D	42	B	43	C	44	D	45	D
46	A	47	E	48	B	49	C	50	B	51	B	52	C	53	B	54	A	55	B	56	E	57	C	58	D	59	B	60	B