



AKADEMİ
DENİZİ

KAMU PERSONEL SEÇME SINAVI
LİSANS

GENEL YETENEK TESTİ
GENEL KÜLTÜR TESTİ

TG • 1

Bu testlerin her hakkı saklıdır. Hangi amaçla olursa olsun, testlerin tamamının veya bir kısmının yayınevimizin yazılı izni olmadan kopya edilmesi, fotoğrafının çekilmesi, herhangi bir yolla çoğaltılması, yayımlanması ya da kullanılması yasaktır. Bu yasağa uymayanlar gerekli cezai sorumluluğu ve testlerin hazırlanmasındaki mali külfeti peşinen kabullenmiş sayılır.

AKADEMİ DENİZİ YAYINCILIK

1. Parçada geçen, “göz ucuyla bakmak” deyimini, çok ayrıntılı olmaksızın, üstünlük bakmak anlamındadır. Buna bu deyimden parçada verilen açıklaması yanlıştır. Diğer deyimlerin anlamları doğru verilmiştir.

(Cevap A)

2. Parçadaki altı çizili söz yazarın okuyucuyu ustaca olay içinde yaşattığını düşündürmektedir. Bu bağlamda okuyucunun “kitabın kahramanının kendisi olduğunu düşünmesi” yargısına ulaşabilmekteyiz.

(Cevap C)

3. Parçada geçen, “Televizyondan faydalanmak, belirli bir kültür seviyesini gerektirmiyor.” ve “Az çok gören veya işiten herkes, fazladan bir şeye gerek duymaksızın televizyondan faydalanabilir.” yargıları yakın anlamlıdır. Özellikle “kültür seviyesi gerektirmiyor ve fazladan bir şeye gerek duymaksızın” ifadeleriyle cümleler arasında yakın anlam ilişkisi oluşturulmuştur.

(Cevap D)

4. Cümlede geçen “yanı sıra benimkiler de” ifadesinden dolayı, “Bu, benim kişisel sergim değil.” yargısı çıkarılabilir.

(Cevap C)

5. “Yıllar önce köyümüze bir göktaşı düşmüştü. Cümlesindeki “göktaşı” sözünün yazımı yanlıştır. Bu sözün doğru yazımı “gök taşı” şeklindedir.

(Cevap E)

6. • Alıntıların aktarıldığı eseri, yazarı veya künye bilgilerini göstermek için kullanılır:

Kıyametler koparmak neydi ey bülbül, nedir derdin?
(Mehmet Akif Ersoy)

• Bir söze alay, kinaye veya küçümseme anlamı kazandırmak için kullanılan ünlem işareti yay ayrıca içine alınır:

Kadın, akıllı (!) olduğunu söylüyor.

• Tiyatro eserlerinde ve senaryolarda konuşanın hareketlerini, durumunu açıklamak ve göstermek için kullanılır:

İhtiyar – (Yavaş yavaş Kaymakam’a yaklaşıyor.) Ne oluyor beyefendi?

• Cümledeki anlamı tamamlayan ve cümlenin dışında kalan ek bilgiler için kullanılır.

Anadolu kentlerini, köylerini (Köy sözünü de çekinerek yazıyorum.) gezsek bile görmek için değil, kendimizi göstermek için geziyoruz. (Nurullah Ataç)

A,B,C,E seçeneklerinde yay ayrıca özelliği verilirken, D seçeneğinde verilen bilgi köşeli ayrıca aittir.

• Kaynak olarak verilen kitap veya makalelerin künyelerine ilişkin bazı ayrıntıları göstermek için kullanılır.

Aziz İstanbul, Yahya Kemal [Beyatı]

(Cevap D)

7.

"bak - an" "ört - ü - lü"
 Fiil kökü Fiil kökü

"ış - k - lar - ı" "dol - dur - u - yor - du"
 Fiil kökü Fiil kökü

"gölge - ler"
 İsim kökü

(Cevap D)

8.

Aldık -ı > aldığı - ünsüz yumuşaması
 Bindik - imiz > bindiğimiz - ünsüz yumuşaması
 Ağaç - ın > ağacın - ünsüz yumuşaması
 Metot - u > metodu - ünsüz yumuşaması
 Çıkart - dı > çıkarttı - ünsüz benzeşmesi

(Cevap C)

9.

Yapım eki, sözcük türeten yani sözcüğün anlamını ve türünü değiştirebilen anlamsız ses parçacıklarıdır. "Diz-i", "ara-(y)an", "yaz-ın", "baş-la-mıştı" sözcükleri gördüğü gibi bir yapım eki almıştır. Ancak "danış-man-lık" sözcüğü birden fazla yapım eki almıştır.

(Cevap C)

10.

Bir cümlenin ögeleri bulunurken tamlamalar ve söz grupları bölünemez. Buna göre, "Eski otel odalarındaki not defterlerinde / en içten sırları / açığa çıkaran düşünceler/ bulunabiliyordu." Cümlesi ögelerine yanlış ayrılmıştır. Bu cümlenin ögelerine doğru ayrılmış şekli şöyledir: Eski otel odalarındaki not defterlerinde / en içten sırları açığa çıkaran düşünceler / bulunabiliyordu." Cümlede geçen "en içten sırları açığa çıkaran düşünceler" sıfat tamlaması olduğu için bölünmemelidir. Diğer seçeneklerde yer alan cümleler ögelerine doğru ayrılmıştır.

(Cevap A)

11.

"Bir antropolog olarak antropolojinin yöntemlerini, kendi kültürüme bakıp içinde yaşadığım dünyayı incelemek için kullanmaya karar verdim." cümlesindeki eylemsileri şöyle gösterebiliriz:

- olarak: zarf-fiil
- yaşadığım: sıfat-fiil
- incelemek: isim-fiil

Buna göre bu cümlede her üç çeşit eylemsiyeye de örnek vardır. Diğer cümleler üç çeşit eylemsiyeye örnek yoktur.

(Cevap B)

12.

Cümlelerin oluş sırasına göre doğru sıralanışı: V, I, III, IV, II şeklindedir.

Buna göre baştan üçüncü cümle III. cümledir.

(Cevap C)

13. Bu parçayı yazar kızıyla arasında geçen konuşmayı öyküleyici anlatım tekniğiyle, konuşma havası içinde kaleme alınmıştır. "Kızım küçükken sabahları uyanınca beş dakika yatağında otururdu." cümlesinde "Kızım" sözcüğüyle birinci kişili anlatıma başvurulmuştur. Parçada "küçük bir oyun, üzgün bir ağaç" ifadesiyle nitel anlamlı sözcüklere yer verilmiştir. B seçeneğindeki "İkilemeler kullanılmıştır." ifadesi bu parça için söylenemez.

(Cevap B)

14. Verilen parçada Fatih Balkış'ın kaleme aldığı *Baht Dönüşü* aldığı romandan bahsedilmektedir. Eserde kendi başyapıtı olacak operayı bestelemekten başka bir amacı kalmamış bir müzisyenin öyküsünü anlatılıyor. Son cümlede ise "Profesyonel anlamda müzikle uğraşma yaşı ülkemizde eskiye göre oldukça düşüktür." denilerek konu dışına çıkıldığı için düşüncecinin akışı bozulmuştur.

(Cevap E)

15. Parçanın III. cümlesine kadar insanın aşık olduğunda gösterdiği değişiklikler anlatılmıştır. III.cümleden itibaren beyin görüntüleme çalışmalarında, âşık oldukları kişiyi düşünmeleri istenen katılımcıların beyinlerinin ön bölgelerinde bir durağanlık olduğunu gösteren bir çalışmadan söz edilmiştir. Yani III. cümleyle konu değişmiştir. Buna göre bu parça iki paragrafa ayrılmak istense ikinci paragrafın III.cümle ile başlaması uygun olacaktır.

(Cevap C)

16.

A→ "Ömer ve babası, arazinin kendilerine ait olduğunu kanıtlayabilmek için uğraşırken bürokrasi engeline takılırlar."

C→ "Nuh Peygamber tarafından dikildiğine inandıkları ağaç..."

D→ "...ağaç, köylü için adeta bir geçim kapısı olmuş, günde onlarca kişi tarafından ziyaret edilir hale gelmiştir."

E→ "Nuh Tepesi, bir yandan babasının isteğini yerine getirmek, diğer yandan da ayrılmak üzere olduğu hamile karısıyla arasını düzeltmek için çabalayan bir adamın hikâyesini anlatıyor."

"Nuh Tepesi filmi izleyicide nasıl bir karşılık bulmuştur?" sorusuna cevap olacak bir ifadeye parçada yer verilmemiştir.

(Cevap B)

17.

Bu parçada yazar, "Oysa zaman zaman bunalır, ufak bir sıkıntıda, yaşama sevincimi yitirirdim. Ne kadar da yanıltılmış meğer!" diyerek hayata bakışının yanlış olduğunu; çevresine, doğaya baksa aslında hayatın güzelliklerle dolu olduğunu göreceğini, bir başka ifadeyle yaşamın güzel olduğunu anlatmaktadır.

(Cevap A)

18. Kovid-19 vakası sebebiyle teknoloji firmalarının işle-
rinin durması veya yavaşlaması, "Bir alandaki sorun
başka bir alanı da olumsuz etkileyebilir." görüşüne
dayanak oluşturur.

(Cevap A)

19.

A→ "Hayatımız gittikçe daha çok anahtarlar, prizler,
fişler, kablolar ve illa da düğmeler ve tuşlarla ku-
şatılıyor. Sabah uyanışımızdan akşam yatışımı-
za kadar, hiç hesap ettik mi kaç tane tuşa doku-
narak yaşamak zorunda olduğumuzu?"

B→ "Ve hiç düşündük mü her tuşa dokunabilme be-
cerisini edinebilmek için onlarla ilgili bir sürü ay-
rıntıyı zihnimizde tutabilmek için ne kadar vakit
harcadığımızı?"

C→ "Giderek çetrefilleşen, ayrıntıya daha fazla gö-
mülen, buna paralel bir şekilde temposu artan,
telaşlı hayatları yaşar olduk.

D→ "Zihnimizin, düğmeler ve tuşların fonksiyonları-
nı birbirinden ayırt edebilmek ve günlük hayati-
mizi yaşamak için onları kullanabilme becerisini
pratiğe dökme çabasıyla kaç bin parçaya bölün-
düğünü?"

Bu parçada "Günümüzde yaşam koşullarının insan-
ları sıradanlığa ittiğine" değinilmemiştir?

(Cevap E)

20. Bu parçaya başlık olarak hangisi en uygundur soru-
larında, önce parçanın konusunu bulup bir ya da iki
sözcükle başlığı belirleriz. Bu parçanın konusu top-
lumsal değişim olup "Sonra cepler biraz para görmüş
olacak ki arzular, istekler, ihtiraslar büyüdü, alışveriş
listeleri uzadı. İnsan fizik olarak aynı insan olduğu
halde, ihtiyaç diye biriktirdiği şeyler kabına sığmayıp
da taşar oldu." cümlesinden yola çıkarak da bu par-
çaya en uygun başlık "Değişen İhtiyaçlar"dır diyebi-
liriz.

(Cevap B)

21. Bu parçada, "Bilgi toplamak için konuştuğum her in-
san, her söylediğini kitapta görmek istiyor; göreme-
yince de sinirleniyor." cümlesinden yola çıkarak sa-
natçının, yaşam öyküsü yazmayla ilgili "Bilgisine
başvurulan kişilerin yazarda yazma isteği bırakma-
masından" yakınmaktadır diyebiliriz.

(Cevap B)

22. Parçada *Aylak Adam* romanının eleştirisi yapılmış ve
bu konuda öznel değerlendirmelerde bulunulmuştur.
Romanla ilgili olarak hem olumlu hem olumsuz dü-
şünceler dile getirilmiştir. Parçanın genelinden hare-
ketle diyebiliriz ki son tahlilde bu roman ve yazarı-
yla ilgili olumlu kanaatler ağırlıktadır. "*Aylak Adam*,
olumsuz özellikleri ağır basan bayağı bir eserdir." yar-
gısının bu parçada dayanağı yoktur.

(Cevap A)

23. Parçanın genelinde kitabın okuyucuyu etkilemesi
üzerinde durulmuştur. Parçadaki "Her kitap, okuru
değişik açılardan etkiler." cümlesine de dayanarak
bu parçanın "Eserlerinizin okuyucularınızda nasıl bir
etki meydana getirdiğini düşünüyorsunuz?" sorusu-
nun cevabı olduğunu söyleyebiliriz.

(Cevap D)

24. Parçada, eserin herkes üzerinde aynı etkiyi yapmadığı anlatılmıştır. Bu bağlamda A seçeneği doğrudur.

(Cevap A)

25. Parça dikkatle okunduğunda cadı suçlamalarının Amerika'ya geçtiğine değinildiği; fakat nasıl geçtiğine dair bir bilginin bulunmadığı fark edilebilir. Bunun yanında Avrupa'da cadı suçlamasıyla yakılanların olduğuna, Amerika'nın birçok kasabasında cadı avının düzenlendiğine, Anadolu'da cadı kavramının cin çarpan insanlar, hortlaklar büyücü kadın anlamına geldiğine, divan edebiyatında sevgilinin gözü, bakışı, saçını anlatan bir mecaz olduğuna değinilmiştir.

(Cevap A)

26. Parçada, bir olayın sebeplerini bilimsel olarak ortaya koyma yoktur.

A → "Avrupa, Amerika"

B → "Tüm parçada "cadı" kavramı hakkında bilgi verilmiştir.

D, E → "Cadı" kavramının Avrupa'da, Anadolu'da görülme şekli karşılaştırılarak anlatılmıştır.

(Cevap C)

27. İki kişilik ekibin üyelerinden biri Cemil olursa soruda verilen programları kullanabilecek şekilde bir ekip oluşturulamaz.

(Cevap B)

28. Emel ve Faruk'un bulunduğu bir ekip Ahmet ve Berber'in kullanabildiği tüm programları kullanabilir.

(Cevap A)

29. Cemil sözü geçen tüm programları kullanabildiği için Cemil'in olduğu seçenekler oluşturulacak grup için uygundur. C seçeneğinde Cemil yoktur.

(Cevap C)

30. Öncüllerden Ahmet ile aynı programları kullanabilen yalnızca Faruk'tur.

(Cevap E)

31.

$$\begin{cases} x(x+y) = 14 \\ y(x+y) = 2 \end{cases} \text{ Eşitlikleri taraf tarafa bölelim}$$

$$\frac{x}{y} = 7 \Rightarrow x = 7 \cdot y$$

Birinci eşitlikte x yerine 7y yazalım.

$$7y \cdot (7y + y) = 14$$

$$7y \cdot 8y = 14 \Rightarrow 56y^2 = 14$$

$$\Rightarrow y^2 = \frac{1}{4} \Rightarrow y = \frac{1}{2}$$

$$x = 7y \Rightarrow x = 7 \cdot \frac{1}{2} \Rightarrow x = \frac{7}{2}$$

$$x - y = \frac{7}{2} - \frac{1}{2} = \frac{6}{2} = 3$$

(Cevap B)

$$32. \left(\frac{A}{5} + 5\right) \cdot \frac{1}{10} = \left(\frac{B}{7} + 3\right) \cdot \frac{1}{6}$$

$$\Rightarrow \frac{A}{5} \cdot \frac{1}{10} + 5 \cdot \frac{1}{10} = \frac{B}{7} \cdot \frac{1}{6} + 3 \cdot \frac{1}{6}$$

$$\Rightarrow \frac{A}{50} + \frac{1}{2} = \frac{B}{42} + \frac{1}{2} \Rightarrow \frac{A}{50} = \frac{B}{42}$$

$$\Rightarrow 21A = 25B \text{ bulunur.}$$

(Cevap D)

$$33. \frac{21}{21+23+25+x} = \frac{x}{4}$$

$$69 + x = 120$$

$$x = 51 \text{ olur.}$$

(Cevap B)

$$34. a + 3b - 12 = 0 \quad -2 < b < 4$$

$$3b = -a + 12$$

$$b = \frac{-a + 12}{3}$$

$$3/ \quad -2 < \frac{-a + 12}{3} < 4$$

$$-6 < -a + 12 < 12$$

$$+ 18 > a > 0$$

(Cevap B)

35.

$$a = \frac{17}{6} + \frac{13}{11} + \frac{15}{17}$$

$$+ \quad -1/x = -\frac{1}{6} + \frac{2}{11} - \frac{2}{17}$$

$$a = \frac{17}{6} + \frac{13}{11} + \frac{15}{17}$$

$$+ \quad -x = \frac{1}{6} - \frac{2}{11} + \frac{2}{17}$$

$$a - x = \frac{18}{6} + \frac{11}{11} + \frac{17}{17}$$

$$a - x = 3 + 1 + 1$$

$$a - x = 5 \Rightarrow x = a - 5$$

(Cevap E)

$$36. 4^{-1} = \frac{1}{4}$$

$$2^{-2} = \frac{1}{2^2} = \frac{1}{4}$$

$$\Rightarrow \frac{1}{4} + \frac{1}{4} - 2 = \frac{1}{2} - 2 = \frac{-3}{2}$$

(Cevap C)

$$37. \frac{\sqrt{1,44} + \sqrt{0,36} + \sqrt{1,69}}{\sqrt{0,01}} = \frac{\sqrt{(1,2)^2} + \sqrt{(0,6)^2} + \sqrt{(1,3)^2}}{\sqrt{(0,1)^2}}$$

$$= \frac{1,2 + 0,6 + 1,3}{0,1} = \frac{3,1}{0,1} = \frac{31}{1} = 31 \text{ bulunur.}$$

(Cevap D)

$$\begin{aligned}
 38. &= \sqrt{a^2 \cdot b^2} - \sqrt{c^2} + |ab - c| \\
 &= |a| \cdot |b| - |c| + |ab - c| \\
 &= -ab - c - ab + c \\
 &= -2ab
 \end{aligned}$$

(Cevap D)

$$\begin{aligned}
 39. &\frac{a^3 + 8}{a^2 + 4a + 4} \cdot \frac{a^2 + a - 2}{a^2 - 2a + 4} = \frac{1}{2} \\
 &\frac{(a+2) \cdot (a^2 - 2a + 4)}{(a+2) \cdot (a+2)} \cdot \frac{(a+2) \cdot (a-1)}{(a^2 - 2a + 4)} = \frac{1}{2} \\
 &2 \cdot (a-1) = 1 \\
 &2a - 2 = 1 \Rightarrow 2a = 3 \\
 &a = \frac{3}{2}
 \end{aligned}$$

(Cevap D)

$$\begin{aligned}
 40. &(f \circ f)(0) = f(f(0)) = f(2) = 5 \text{ bulunur.} \\
 &f(0) = 2 \\
 &f(2) = 5
 \end{aligned}$$

(Cevap B)

$$\begin{array}{r|l}
 41. \text{ EKOK}(12, 15, 20) = 60 & 12 \ 15 \ 20 \ 2 \\
 & 6 \ 15 \ 10 \ 2 \\
 & 3 \ 15 \ 5 \ 3 \\
 & 1 \ 5 \ 5 \ 5 \\
 & 1 \ 1
 \end{array}$$

4 kez beraber yandıklarında ilk beraber 8:30'da yandıklarına göre 180 dakika sonra 4. kez beraber yanarlar.

$$\frac{180}{12} = 15 \quad \frac{180}{15} = 12$$

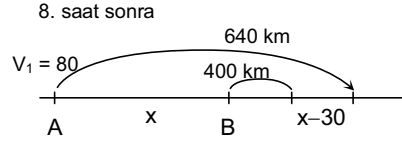
$$\frac{180}{20} = 9$$

15 + 12 + 9 = 36 birer defada 8:30'da yanarlar.

$$36 + 3 = 39 \text{ bulunur.}$$

(Cevap D)

42. $|AB| = x$ olsun. 1 saat sonra aralarındaki mesafe $x - 30$ km olur.



$$x + 400 + x - 30 = 80 \cdot 8$$

$$2x + 370 = 640$$

$$2x = 640 - 370$$

$$2x = 270 \Rightarrow x = 135 \text{ km bulunur.}$$

(Cevap B)

43. x tane kalem olsun.

7 tanesi 8 ₺'ye alındıysa 1 tanesi $\frac{8}{7}$ ₺'dir.

2 tanesini 3 ₺'den satarsa 1 tanesi $\frac{3}{2}$ ₺'dir.

x kalem tanesi $\frac{8}{7}$ ₺'den alınıp tanesi $\frac{3}{2}$ ₺'den satılıp 70 ₺ kâr edilmiştir. O hâlde,

$$x \cdot \frac{3}{2} - x \cdot \frac{8}{7} = 70$$

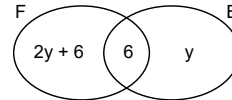
$$\frac{21x - 16x}{14} = 70$$

$$5x = 14 \cdot 70$$

$$x = 196 \text{ kalem}$$

(Cevap C)

44.



Sadece basketbola katılan y öğrenci olsun.

$2 \cdot (6 + y) = 12 + 2y$ olduğundan futbola katılan = $2y + 12$ öğrenci var.

Sadece futbola $2y + 12 - 6 = 2y + 6$ öğrenci katılmıştır. Toplam 60 öğrenci olduğundan,

$$60 = 2y + 6 + 6 + y$$

$$60 = 3y + 12 \rightarrow 3y = 48$$

$$y = 16$$

Sadece futbola kayıtlı = $2y + 6 = 2 \cdot 16 + 6$

$$= 32 + 6 = 38 \text{ öğrenci vardır.}$$

(Cevap E)

52.



I. torba II. torba

Zarların üzerindeki sayılar çarpımı 3 ün katı ise I. torbadan, diğer durumlarda II. torbadan top alınıyor.

x	1	2	3	4	5	6
1			3			6
2			6			12
3	3	6	9	12	15	18
4			12			24
5			15			30
6	6	12	18	24	30	36

(Zarların çarpımları 3 ün katı olmayan kutular boş bırakılmıştır.)

Zarların üst yüzündeki sayıların çarpımı; 3 ün katı olmayan durumlar 16 tanedir ve olasılığı = $\frac{16}{36}$ dir.

3 ün katı olan durumlar 20 tanedir ve olasılığı = $\frac{20}{36}$ dir.

Bu iki duruma göre, torbalardan çekilen bir topun beyaz gelme olasılığı:

$$\frac{16}{36} \cdot \frac{4}{5} + \frac{20}{36} \cdot \frac{3}{5} = \frac{16}{45} + \frac{15}{45} = \frac{31}{45} \text{ olur.}$$

(Cevap D)

53.

$$\begin{array}{r} 374 \\ * 343 \\ \hline 6 \cdot 11 \cdot 7 = 462 \end{array}$$

$$\begin{array}{r} 462 \\ * 18 \\ \hline 4 \cdot 7 \cdot 10 = 280 \end{array}$$

(Cevap A)

54. a = 3 için

$$\begin{array}{r} 123 \\ 333 \\ * 247 \\ \hline 6 \cdot 9 \cdot 13 = 702 \end{array}$$

(Cevap C)

55.

$$\begin{array}{r} 24 \\ * KL \\ \hline (K+2) \cdot (L+4) = 48 \\ \left. \begin{array}{l} 2 \quad 8 \\ 4 \quad 4 \\ 6 \quad 2 \end{array} \right\} 3 \text{ tane} \end{array}$$

(Cevap B)

56.

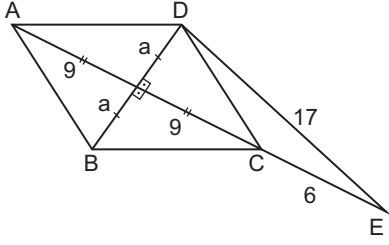
$$\begin{array}{r} 14 \\ * 18 \\ \hline 2 \cdot 12 = 24 \\ = \frac{24}{15} = \frac{8}{5} \text{ e denk olmalı} \end{array}$$

$$\begin{array}{r} 20 \\ * 15 \\ \hline 3 \cdot 5 = 15 \end{array}$$

$$\frac{8 \cdot 13}{5 \cdot 13} = \frac{104}{65}$$

(Cevap E)

57.



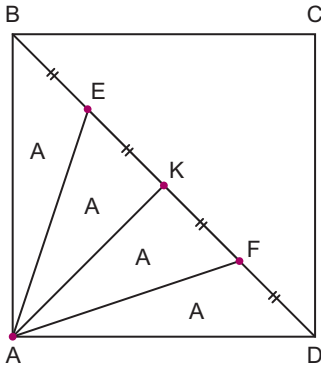
$$a^2 + 15^2 = 17^2$$

$$a = 8$$

$$A(ABCD) = \frac{16 \cdot 18}{2} = 8 \cdot 18 = 144 \text{ birimkare}$$

(Cevap C)

58.



BD köşegen ve $|BE| = |EK| = |KF| = |FD|$

$$\Rightarrow \frac{A(AEF)}{A(ABCD)} = \frac{2A}{8A} = \frac{1}{4}$$

(Cevap A)

$$59. A(ABC) = \frac{8^2 \sqrt{3}}{4} = 16\sqrt{3}, \quad |AD| = \frac{8 \cdot \sqrt{3}}{2} = 4\sqrt{3}$$

$$\text{Daire dilimi} = \pi \cdot (4\sqrt{3})^2 \cdot \frac{60}{360} = \frac{16 \cdot 3 \cdot \pi}{6} = 8\pi$$

$$\text{Taralı alan} = 16\sqrt{3} - 8\pi = 8(2\sqrt{3} - \pi)$$

(Cevap B)

$$60. m_{d1} = 3$$

$$m_{d2} = a \Rightarrow \frac{3-a}{1+3 \cdot a} = \frac{1}{2} \Rightarrow a = 1 \text{ olur.}$$

(Cevap A)

1. İstemi Yabgu, İpek Yolu hâkimiyeti için Sasani Devleti'ne karşı Bizansla ittifak yaparak hâkimiyetini devam ettirmek istemiştir. Bu dönemde Bizans imparatoru, doğu bölgesi genel valisi Zemarkhos'u elçi olarak İstemi Yabgu'ya göndermiştir. İstemi Yabgu da Bizans imparatoruna elçi göndermiştir. Ayrıca İstemi Yabgu Akhunlara karşı Sasaniler ile de diplomatik ilişki kurmuştur.

(Cevap C)

2. Paragrafta verilen bilgilerde zaten din değiştirmiş toplumun yeniden din değiştirme heveslisi olduğuna ilişkin bir ipucu yoktur.

(Cevap E)

3. Tolunoğulları ve Memlükler Mısır'da, Selçuklular Türkistan'dan Akdeniz'e kadar uzanan bölgede, Babürler de Hindistan'da kurulmuştur. XIII. ve XVI. yüzyıllar arasında Karadeniz'in kuzeyinde Moğollarca kurulan ve halkın çoğunluğunu Türklerin oluşturduğu devlet, Altınorda Devleti'dir.

Cengiz Han'ın ölümünden sonra Moğol İmparatorluğu parçalanmış ve imparatorluk toprakları üzerinde Altınorda, Çağatay, İlhanlı ve Kubilay devletleri kurulmuştur.

(Cevap D)

4. Lira, 1843'te tedavüle girmiştir. 1843 yılında ise Osmanlı tahtında Abdülmecit bulunuyordu. Abdülmecit Dönemi'nde lira ilk defa tedavüle girdiği gibi, ilk kâğıt para olan kaime de basılmıştır.

(Cevap B)

5. Edirne'nin fethinden sonra, Osmanlı Devleti'nin Trakya'da ele geçirdiği ilk önemli şehir Dimetoka olmuştur. Dimetoka, Bizans İmparatoru Kantakuzenos'un imparatorluğunu ilan ettiği önemli bir şehir durumundaydı. Kantakuzenos, III. Andronikos'un ölümünden sonra tahta geçecek en büyük oğlunun 9 yaşında olması sebebiyle vâsi sıfatıyla Bizans İmparatorluğu'nu yönetmiş, daha sonra da imparatorluğunu ilan etmişti (1341). Dimetoka, Edirne'nin fethinin hemen ardından 1361'de Hacı İlbeyi tarafından Osmanlı himayesine alınmıştır.

(Cevap B)

6. Avusturya kralının Protestan Macarlara Katolikliği kabul etmeleri için baskı uygulaması ve bu baskı karşısında Macarların Osmanlı Devleti'nden yardım istemesine bakılarak; Avrupa'da mezhep çatışmalarının olduğu ve Osmanlı Devleti'nin güçlü bir devlet olarak görüldüğü yargılarına ulaşılabılır. Fakat İslamiyetin yayılması ya da Avusturya'nın yıkılış sürecine girmesi ile ilgili bir ifade bulunmamaktadır.

(Cevap A)

7. Osmanlı Devleti, Karlofça ve İstanbul Antlaşmaları'yla ilk kez büyük çapta topraklar kaybetmiş ve Gerileme Dönemi'ne girmiştir. Bu süreçten sonra izlediği siyaset; Karlofça ve İstanbul Antlaşmaları ile yitirdiği toprakları geri alma politikası olmuş, fakat geri alamadığı gibi daha da çok topraklar kaybetmiş, mevcut topraklarını koruma politikasına yönelmiştir. Güçlü devletlerin, kendi toprakları üzerindeki çıkar çatışmalarından yararlanarak denge politikası izlemiş ve bu sayede varlığını ve topraklarını korumaya çalışmıştır. Ancak, Balkanlarda çıkan bağımsızlık amaçlı isyanlar, Fransız İhtilali'nin getirdiği milliyetçilik akımının bir sonucu olup milliyetçilik ilkesi Osmanlı İmparatorluğu'nu Dağılma Dönemi'nde, yani XIX. ve XX. yüzyıllarda etkilemiştir.

(Cevap C)

8. III. Selim zamanında Nizam-ı Cedid adında Batı tarzında modern bir ordu kurulmuştur. Bu ordunun ihtiyaçlarının karşılanması ve ayrıca bu dönemde girilecek reformların finanse edilmesi için de İrad-ı Cedid adında bir hazine teşkil edilmiştir. İrad-ı Cedid'in kaynakları pamuk resmi, esham mahlulatu, miri ve haremeyn mukataaları, humbaracı tımarları ile alkollü içecekler, kahve, Mora üzümü, yapağı ve canlı hayvan resimleriydi.

(Cevap C)

9. Bugünkü Kara Harp Okulunun temeli sayılan Mektebi Harbiye, II. Mahmut Dönemi'nde 1834 yılında açılmıştır. Bu okulda modern yöntemlerle subay yetiştirmek amaçlanmıştır.

(Cevap E)

10. Verilen açıklamaya bakılarak; Osmanlı Devleti'nin I. Balkan Savaşı'nı kaybettiği ve sınırlarının daraldığı, dolayısıyla siyasi bakımdan güçlü olmadığı yargılarına ulaşılabilir. Ancak I. Balkan Savaşı sonucunda azınlık sorunları ortadan kalkmamış, Osmanlı Devleti'nin Balkanları kaybetmesiyle, Batı Trakya Türkleri sorunu ortaya çıkmıştır.

(Cevap D)

11. Soruda dirlik topraklar ile ilgili verilen açıklamaya bakılarak A, B, C ve E seçeneklerine ulaşılabilir. Ancak dirlik sistemi, bir toprak sistemi olup sanayinin gelişmesini engellediği yargısına ulaşamaz.

Dirlik topraklar gelirine göre has, zeamet ve tımar olarak üçe ayrılır ve devlet görevlilerine rütbe ve derecelerine göre maaş ve hizmet karşılığı dağıtılırdı.

(Cevap D)

12. Parçada verilen bilgilerden merkezî otoritenin denetim gereksiniminin azaldığı yorumu çıkarılamamaktadır. Ancak örfi hukuktan ötürü padişahın yasama yetkisine sahip olduğu, memleketin sahibinin padişah olmasından mutlak monarşik yapının varlığının korunduğu, şeri hukukun varlığından ötürü yönetimin laik olmadığı ve örfi hukuktan dolayı da geleneksel değerlerin dikkate alındığı yorumları yapılabilmektedir.

(Cevap B)

13. Beylerbeyi, eyaletlerin yönetiminden sorumlu olup taşrada görev almaktadır. Nişancı, merkezde görev yapıp divan üyesidir. Şehremini İstanbul'un belediye işlerinden sorumlu olup merkezdedir. Voyvoda, uzak bölgelerdeki Erdel, Eflak, Boğdan yöneticilerine verilen unvan olup taşradadır.

(Cevap D)

14. Divan toplantılarında son sözün padişaha ait olması divana danışma organı özelliği kazandırmıştır. Nihayetinde padişahın verdiği karar uygulanmıştır.

Fatih Sultan Mehmet döneminde divana başkanlık etme yetkisinin sadrazama bırakılmasıyla divan bir karar organı olmaktan çıkıp danışma organı haline gelmiştir.

(Cevap A)

15. I. Balkan Savaşı başlamadan önce İtalya, 12 Ada ve Rodos'u işgal etmiştir. Dolayısıyla I. Balkan Savaşı'nda alınan yenilgide İtalya'nın bu faaliyeti etkili değildir. I. Balkan Savaşı yenilgisinde ordu içerisine siyaset girmesi etkili olmuştur. Ayrıca savaş öncesi 120 tabur terhis edilmiş, dolayısıyla bölge savunmasız bırakılmıştır.

(Cevap D)

16. Osmanlı Devleti, 1774 Küçük Kaynarca Antlaşması'nda halifeliğin siyasi gücünden yararlanmayı ilk defa düşünmüştür. Osmanlı Devleti ikinci defa halifelik siyasetini Uşi Antlaşması'nda uygulamak istemiştir. Bu antlaşmaya göre Trablusgarp ve Bingazi'deki Müslümanlar dinî yönden Osmanlı halifesine bağlı olacaktır.

(Cevap C)

17. Çanakkale Savaşları'nın ardından Mustafa Kemal hakkında yapılan bu açıklamalar, onun üstün yetenekli bir komutan olarak savaşın gidişi üzerinde birinci derecede etkili olduğu ve askeri dehasının Türk ve dünya kamuoyu tarafından tanındığı yargılarını doğrulamaktadır.

(Cevap E)

18. Kurtuluş Savaşı'nın dönüm noktalarından biri olan Sakarya Savaşı'nın sonucunda, Ankara ve Kars Antlaşması imzalanmış, İtalyanlar Anadolu'yu terk etmiş, İtilaflar barış teklifinde bulunmuş, Mustafa Kemal Paşa'ya gazilik ve mareşallik unvanı verilmiştir. Mustafa Kemal Paşa'nın 3 ay süre ile başkomutanlığa getirilmesi Kütahya-Eskişehir Savaşı'nın sonucu olup D seçeneği doğrudur.

Sakarya Savaşı, TBMM'nin son savunma savaşı olup Mustafa Kemal bu savaşta ilk kez başkomutan sıfatıyla savaş yönetmiştir.

(Cevap D)

19. Aşar vergisinin kaldırılması, köylünün refah seviyesini artırmaya yönelik olup ekonomide millileştirme çalışmalarıyla bir ilgisi yoktur.

Aşar vergisinin kaldırılması, halkın durumunun iyileştirilmesi, sosyal ve ekonomik refahın sağlanması amacıyla yönelik bir girişim olup doğrudan halkçılık ilkesi ile ilgilidir.

(Cevap B)

20. Soru öncülünde verilen her üç gelişme de laiklik ile ilgili olup laik devlet düzenine geçmeyi hedeflemiştir.

(Cevap A)

21. Türkiye Cumhuriyet Merkez Bankası devletin iktisadi ve mali danışmanlığını yapmak, hükümetin para ve kredi politikasını yürütmek amacıyla 11 Haziran 1930 tarihinde kurulmuştur. Merkez bankasının temel görevi para biriminin ve para arzının istikrarını sürdürmektir. Bundan başka devlet adına para basmak, Türk lirasının değerini korumak, para politikasını belirlemek, ülkenin döviz ve altın rezervlerini yönetmek ve ulusal bankalara destek vermek gibi görevleri vardır.

(Cevap A)

22. Milli Mücadele'nin kazanılmasında büyük yararları olan ve Cumhuriyet Dönemi'nde de görev yapmaya devam eden İstiklal Mahkemeleri, Milli Mücadele'yi tehlikeye düşürenlerin yargılanması ve inkılapların kalıcılığının sağlanmasında önemli rol oynamıştır. Ancak İstiklal Mahkemelerinin üyeleri milletvekillerinden oluşmakta olup TBMM'nin yargı gücünü kullanmasıyla ilgilidir ve güçler birliği ilkesinin benimsendiğine kanıttır.

(Cevap C)

23. I., III. ve IV. öncüllerde verilen düşünceler, Yeni Türk Devleti'nin eğitim ve kültür alanında yaptığı inkıpların amaçları arasındadır. Fakat, ümmetçi ve saltanatçı değil laik, demokratik ve çağdaş bir eğitim sistemi amaçlanmıştır.

(Cevap B)

24. 1926'da Musul'un Irak'a verilmesinde etkili olan İngiltere'nin Milletler Cemiyeti'nde etkili olması Türkiye'nin cemiyete duyduğu güveni azaltmıştır.

(Cevap A)

25. Lozan Antlaşması ile İngiltere yönetimine bırakılan Kıbrıs'ta 1960 yılında Türk ve Rum ortak yönetiminde Kıbrıs Cumhuriyeti kurulmuştur. Cumhurbaşkanı Makarios'un yaptığı bu yönetimde Cumhurbaşkanı yardımcılığını Fazıl Küçük yapmıştır. Ancak ada yönetimini Türklerle paylaşmak istemeyen Rum kesimi Türklere karşı bir baskı ve yıldırma politikası başlatmıştır. Bu doğrultuda özellikle 1963 yılında çok kanlı olaylar meydana gelmiştir. Rumların saldırılarına karşı koymak için Kıbrıs Türkleri 1958'de Türk Mukavemet Teşkilatı'nı kurmuştur. Ancak Rum saldırılarının artarak devam etmesi ve adayı Yunanistan'a bağlama girişimleri sonucunda 1967'de Kıbrıs geçici bir Türk yönetimi oluşturulmuştur. Türkiye'nin olaya doğrudan dahil olması ise 1974 yılında Kıbrıs'ta EOKA'cılar tarafından bir askeri darbe gerçekleştirilmesi ile olmuştur. Bu olay neticesinde Türkiye 20 Temmuz-14 Ağustos tarihleri arasında adaya askeri hareket düzenlemiş ve bu sürecin bir sonucu olarak 15 Kasım 1983'te Kuzey Kıbrıs Türk Cumhuriyeti kurulmuştur.

(Cevap D)

26. I. Körfez Savaşı sırasında Irak'a uygulanan ekonomik ambargoya Türkiye de katılmış, Kerkük-Yumurtalık Boru Hattı'nı kapatarak, Irak'ın karşısında yer aldığını göstermiştir.

I. Körfez Savaşı, kod adı Çöl Fırtınası Harekâtı, 2 Ağustos 1990'da Irak'ın Kuveyt'i işgal etmesiyle başlayan krizin sonucunda, ABD öncülüğünde, Birleşik Krallık, Fransa, Suudi Arabistan, Suriye ve Mısır'ın da aralarında bulunduğu 37 ülkenin dahil olduğu koalisyon gücünün Irak'a karşı düzenlediği askeri harekâttir.

(Cevap B)

27. Srebrenica ve Mostar katliamı, Bosnalı Sırp'ların, Bosna-Hersek'te Boşnak ve Hırvatlara yönelik etnik arındırma çalışmalarını başlatarak buradaki Boşnak ve Hırvatları acımasızca katletmesi ve savaşı sona erdiren Dayton Antlaşması, Bosna Savaşı ile ilgili yaşanan gelişmelerdir. Madrid ve Oslo Antlaşmaları, Arap-İsrail Savaşları ile ilgilidir.

(Cevap E)

28. Türkiye'de doğu – batı doğrultusunda en geniş alan kaplayan ve dolayısıyla doğusu – batısı arasında en fazla boylam – yerel saat farkı bulunan bölge Karadeniz'dir.

(Cevap D)

29. Ankara'daki cisimlerin gölge boyunun gün içinde değişmesinin nedeni Dünya'nın günlük hareketidir. Bu durumun Dünya'nın küresel şekli ile ilgisi yoktur.

(Cevap E)

30. Batı Karadeniz kıyı kesiminde bulunan Küre Dağları'nın kuzey yamaçları denize dönüktür ve orografik yağışlar oluşur.

(Cevap D)

31. Samyeli daha sıcak ve kuru olarak eser.

(Cevap E)

32. Bafra-Çarşamba ovaları Samsun kıyılarında bulunan delta ovalarıdır. Bu ovalar deniz seviyesindedir. Yükselteleri fazla değildir. Bu yüzden fiziki haritalarda yeşil renk ile gösterilirler. Marmara Bölgesi'nde yer alan Ergene Havzası'nın da yükseltisi fazla değildir. Bu yüzden Ergene ile Bafra-Çarşamba ovaları fiziki haritalarda aynı renkte gösterilir.

(Cevap B)

33. Türkiye'nin deprem ülkesi olmasının nedeni topraklarının büyük bir kısmının genç arazilerden oluşmasıdır. Türkiye'nin oluşumunda etkili olan orojenik hareketler Türkiye'de çok sayıda fay hattının oluşmasına neden olmuştur. Ayrıca yer altında bulunan karsitik kayalar, mağara gibi boşlukların oluşmasına neden olmaktadır. Bu boşlukların tavanları zamanla çökerek depremlere neden olmaktadır. I. jeolojik zamana ait arazilerde deprem riski sert yapıda olduklarından (Masif) çok azdır. Bu masif araziler depremin oluşmasında etkili değildir.

(Cevap D)

34. Yağışların az olduğu yerlerde bitki örtüsü cılız, yüzey kuru ve fiziksel parçalanmadan dolayı ufalanmış malzeme fazladır. Haritada verilen taralı alanlardan yağışın en az olduğu yer I'dir. Bu nedenle I. taralı alanda rüzgârlar daha etkilidir.

(Cevap A)

35. Ankara'dan Trabzon'a en kısa yoldan gidebilmek için Samsun yolu kullanılmalıdır. Samsun'dan sonra Karadeniz kıyı şeridi takip edilerek Ordu ve Giresun illeri üzerinden Trabzon'a ulaşılır. Bu güzergâh üzerinde ise Çoruh Nehri'nin bulunduğu söylenemez.

(Cevap C)

36. Kır yerleşmelerinin ortak özellikleri şunlardır:

- Toplam nüfusları az
- Belediye hizmetleri gelişmemiş
- Alt yapı hizmetleri yetersiz
- Ekonomi tarım ve hayvancılığa dayalı
- Ekonomik faaliyet çeşidi az

Türkiye'de yer alan kır yerleşmelerinde nüfus artış hızı yüksektir. Bu nedenle kırsal yerleşmelerden kentlere göç yaşanır.

(Cevap D)

37. Gelişmiş ülkelerde hizmet ve sanayi sektöründe çalışanların oranı yüksektir. Az gelişmiş ülkelerde ise tarımda çalışanların oranı yüksektir. Türkiye’de tarımda çalışanların oranı sanayileşmeye ve tarımda makineleşmeye bağlı olarak giderek azalmaktadır. Bu durum ülkemizin ekonomik açıdan giderek geliştiğini gösterir.

(Cevap B)

38. Pasinler Erzurum’da yer aldığından en fazla yağışı yazın alır. Bafra Ovası Orta Karadeniz Bölümü’nde yer alır. Orta Karadeniz her mevsim yağışlı ama yağışta maksimum seviyeye sonbaharda ulaşır. Dolayısıyla Pasinler Ovası ile Bafra Ovası yaz mevsiminde sulamaya en az ihtiyaç duyan merkezler arasındadır.

(Cevap A)

39. Türkiye’de özellikle iç kesimlerde etkili olan yarı kurak iklim koşulları ile bozkır bitki örtüsünün varlığı, koyun yetiştiriciliğinin yaygın olarak yapılmasına imkân sağlamaktadır. Karadeniz kıyı kesiminde yağışların bol ve düzenli olması küçükbaş hayvancılığın yaygınlaşmasını engellemiştir.

(Cevap E)

40. Emet’te çıkarılan bor; Bandırma’da Divriği’de çıkarılan demir; Karabük’te Murgul’da çıkarılan bakır; Samsun’da Fethiye’de çıkarılan krom; Antalya’da işlenir. Petrol madeni yalnızca Güneydoğu Anadolu Bölgesi’nde (Batman, Adıyaman vb.) çıkarılır.

(Cevap A)

41. Ortalama yükseltisi 1.132 m olan ülkemizin kuzeyinde Kuzey Anadolu Dağları’nın, güneyinde Torosların kıyıya paralel uzanması; doğu batı yönünde uzanan bu dağların Doğu Anadolu Bölgesi’ne doğru birbirine yaklaşması, sıkışarak yükselmesi ulaşımı ve ulaşım hatlarını etkilemiştir. Dağ sıralarının uzanışı nedeniyle kıyı ile iç kesimler arasındaki ulaşım, geçitler sayesinde yapılmaktadır. Ayrıca dağların uzanış yönü, ana kara ve demir yolu güzergâhlarının da doğu - batı yönlü olmasına neden olmuştur.

(Cevap C)

42. Bir yolun gerçek uzunluğu hesaplanırken yer şekillerindeki engebe hesap edilir. Kuş uçuşu uzunluk ise her yerin düz olduğu kabul edilerek hesaplanır. Buna göre bir yolun gerçek uzunluğu ile kuş uçuşu uzunluğu arasındaki farkın fazla olması yer şekillerindeki engebe ile ilgilidir.

(Cevap B)

43. Türkiye'nin en gelişmiş üretim alanlarından biri olan çimento endüstrisi, ülke genelinde çimento fabrikalarının yayılmasını sağlamıştır. TÜİK verilerine göre 2014 yılında Türkiye'deki çimento üretimi 71 milyon ton iken 2017 yılında 83,5 milyon tona yükselmiştir. Bu üretim miktarı Türkiye'nin ihtiyacını karşılamaya yeterlidir. Bu yüzden ülkemizde çimento ithalatının yapıldığı söylenemez.

(Cevap C)

44. Türkiye'nin yüksek dağlarla çevrili bir ülke oluşu ve kar örtüsünün yılın büyük bölümünde mevcut olması kış turizmini geliştirmiştir. Son yıllarda yüksek standartlara sahip kayak ve konaklama tesislerinin sayıca artışı, kayak tutkunlarını bu bölgelere çekmektedir. Isparta-Davraz, Erzurum-Palandöken, Bursa-Uludağ, Bolu-Kartalkaya, Kocaeli-Kartepe Türkiye'nin önemli kayak merkezlerinden bazılarıdır. Ancak Ege'nin kayak turizminin merkezleri arasında yer aldığı söylenemez.

(Cevap B)

45. Türkiye'de taş kömürü yatakları sadece Batı Karadeniz Bölümü'nde yer alır. Bu bölümde ayrıca:

- Demir-çelik sanayi gelişmiştir.
- Yer şekilleri engebeldir.
- Dört mevsim yağış düşer.
- Bitki örtüsü ormandır.
- Kâğıt sanayi gelişmiştir.

(Cevap C)

46. Evlatlık ilişkisi yalnızca evlat edinen ile evlatlık arasında kurulmaktadır. Bu kişilerin hısımlarıyla aralarında bir hısımlık bağı kurulmaz. Evlatlık olan kişi, evlat edinen kişinin mirasından öz evladı gibi hak sahibi olsa da, evlatlıkla kişinin diğer çocukları arasında hiçbir bağı kurulmaz. Yani öz çocuklar ile evlatlık olan kişi arasında hısımlık bağı kurulmaz.

(Cevap D)

47. Uluslararası antlaşmalar, iki veya daha fazla devlet tarafından akdedilmiş olan ve Türkiye'de cumhurbaşkanının onayıyla Resmî Gazete'de yayımlanarak yürürlüğe konulan kanun hükmündeki bağlayıcı hukuk kurallarıdır. Türkiye'de uluslararası antlaşma akdetme ve imzalama yetkisi Cumhurbaşkanı ve dışişleri başkanınca yetkilendirilen kişilere aittir.

Yani C seçeneği yanlıştır.

(Cevap C)

48. İç tüzük, meclisin kendi iç çalışmalarını düzenlemek amacıyla koyduğu kurallardır. İçtüzüğün denetimi ise Anayasa Mahkemesinde yapılmaktadır.

TBMM'nin bütün kararları için yargı yolu açık değildir. Kural olarak parlamento kararı şeklinde aldığı kararlara yargı yolu kapalıdır. Örneğin TBMM savaş ilan etse, erken seçim kararı alsa, Anayasa Mahkemesi'ne üye seçse, RTÜK üyelerini seçse, HSK'ya üye seçse, Meclis soruşturması ile Cumhurbaşkanı'nı Yüce Divan'a gönderse yargı yolu kapalıdır. İstisna olarak, Meclis içtüzüğüne, Milletvekilinin Meclis tarafından düşürülmesi ve dokunulmazlığın Meclisçe kaldırılmasında Anayasa Mahkemesine yargı yolu açıktır.

(Cevap B)

49. 1982 Anayasası'na göre Cumhurbaşkanı seçilebilme için;
- Türk vatandaşı olmak,
 - 40 yaşını doldurmuş olmak,
 - Yükseköğrenim yapmış olmak,
 - Milletvekili seçilebilme yeterliliğine sahip olmak ve en az 100 bin seçmence veya tek ya da birlikte hesaplandığında en az %5 oy almış partilerce aday gösterilmiş olmak gerekir.

(Cevap A)

50. Genelkurmay Başkanlığı Milli Savunma Bakanı'na bağlı bir kuruluştur. Faaliyetlerinde Milli Savunma Bakanı'na karşı sorumludur. 1982 Anayasası'na göre Genelkurmay Başkanı Cumhurbaşkanı tarafından atanır.

(Cevap E)

51. Yargıtay Cumhuriyet Başsavcısı, Yargıtay Genel Kurulunun kendi üyeleri arasından gizli oyla belirleyeceği 5 aday arasından Cumhurbaşkanı'nca seçilmektedir.

(Cevap A)

52. Cumhurbaşkanı ve 1/5 milletvekili Anayasa değişikliği için, şeklen iptal davası 10 gün içinde açabilir.

(Cevap D)

53. Yerel yönetimler veya diğer adıyla mahallî idareler, il, belediye ve köy halkının yerel ortak ihtiyaçlarını karşılamak amacıyla kurulmuş, organları seçimle iş başına gelen kamu tüzel kişilikleridir. Anayasamıza göre üç tür yerel yönetim vardır. Bu yönetimleri ve organları şöyle sıralayabiliriz:

a) İl Özel İdaresi

- Vali
- İl Genel Meclisi
- İl Encümeni

b) Belediye İdaresi

- Belediye Başkanı
- Belediye Meclisi
- Belediye Encümeni

c) Köy İdaresi

- Muhtar
- Köy Derneği
- İhtiyar Heyeti

Buna göre, mahalle muhtarı yerel yönetim organları arasında gösterilemez.

(Cevap D)

54. Anayasamıza göre İdare Hukukunda Merkez Örgütüne yardımcı kuruluşlar şunlardır.

1. Millî Güvenlik Kurulu
2. Danıştay
3. Sayıştay

Sorumuzu incelediğimizde Yargıtay ve üniversitelerin yardımcı kuruluşlardan olmadığını söyleyebiliriz.

(Cevap D)

Genel Kültür Testi

55. Sanayi-i Nefise Mektebi 1 Ocak 1882'de kurulan ve bugünkü Mimar Sinan Güzel Sanatlar Fakültesi adıyla eğitime devam eden sanat okuludur. Sanayi-i Nefise Mektebi, Paris'te hukuk ve resim öğrenimi görmüş Osman Hamdi Bey'in, II. Abdülhamit tarafından Sanayi-i Nefise Mektebi Müdürlüğü'ne tayin edilmesiyle resmen kurulmuştur. 1 Ocak 1882'deki bu tayin ile ilk adımları atılan okul Osmanlı Devleti'nin ilk güzel sanatlar okuludur.

(Cevap B)

56. Orhun Abideleri 1889 yılında Moğolistan'ın Orhun Vadisi'nde bulunmuştur. Orhun Alfabesi ile yazılmış olan bu eserler 1893 yılında Danimarkalı dil bilimci Vilhem Thomsen tarafından çevrilmiştir.

(Cevap D)

57. Nobel Ödülleri Alfred Nobel tarafından İsveç'te kurulan bir dernek tarafından olağanüstü başarılar verilen bir ödüldür. Edebiyat, fizik, kimya ve tıp alanında bu ödüller verilmektedir. Nobel Barış Ödüllerini ise Norveç vermektedir.

Nobel Ödülü, 27 Kasım 1895 tarihli ve 30 Aralık 1896 tarihinde Stockholm'de açıklanan vasiyetnamesiyle Alfred Nobel tarafından kurulan derneğin verdiği, insanlığa hizmet edenleri ödüllendirmek amacıyla taşıyan prestijli bir ödüldür. İlk Nobel Ödülleri 1901 tarihinde vermeye başlanmıştır.

(Cevap C)

58. Faiz oranlarını belirlemede yetkili kurum Merkez Bankası'dır.

(Cevap E)

59. Karain Mağarası, St. Nicholas Kilisesi, Perge Antik Kenti ve Antik Aspendos Kenti Tiyatrosu ve Su Kemeri Antalya'da bulunan UNESCO Dünya Miras Geçici Listesinde bulunan kültürel varlıklarımızdandır. Stratonikeia Antik Kenti Muğla'da bulunur.

(Cevap A)

60. Ülkemizdeki Yunan ve Roma dönemlerine ait en görkemli antik kentlerden birisi olan Afrodisias Antik Kenti Aydın ilimizdedir.

(Cevap C)

AKADEMİ DENİZİ LİSANS KURUMSAL - TÜRKİYE GENELİ • 1 • GENEL YETENEK TESTİ

1	A	2	C	3	D	4	C	5	E	6	D	7	D	8	C	9	C	10	A	11	B	12	C	13	B	14	E	15	C
16	B	17	A	18	A	19	E	20	B	21	B	22	A	23	D	24	A	25	A	26	C	27	B	28	A	29	C	30	E
31	B	32	D	33	B	34	B	35	E	36	C	37	D	38	D	39	D	40	B	41	D	42	B	43	C	44	E	45	E
46	C	47	D	48	E	49	D	50	C	51	A	52	D	53	A	54	C	55	B	56	E	57	C	58	A	59	B	60	A

AKADEMİ DENİZİ LİSANS KURUMSAL - TÜRKİYE GENELİ • 1 • GENEL KÜLTÜR TESTİ

1	C	2	E	3	D	4	B	5	B	6	A	7	C	8	C	9	E	10	D	11	D	12	B	13	D	14	A	15	D
16	C	17	E	18	D	19	B	20	A	21	A	22	C	23	B	24	A	25	D	26	B	27	E	28	D	29	E	30	D
31	E	32	B	33	D	34	A	35	C	36	D	37	B	38	A	39	E	40	A	41	C	42	B	43	C	44	B	45	C
46	D	47	C	48	B	49	A	50	E	51	A	52	D	53	D	54	D	55	B	56	D	57	C	58	E	59	A	60	C