



AKADEMİ  
DENİZİ

**KAMU PERSONEL SEÇME SINAVI  
ORTAÖĞRETİM (LİSE) - ÖN LİSANS**

**GENEL YETENEK TESTİ  
GENEL KÜLTÜR TESTİ**

**TG • 1**

Bu testlerin her hakkı saklıdır. Hangi amaçla olursa olsun, testlerin tamamının veya bir kısmının yayınevimizin yazılı izni olmadan kopya edilmesi, fotoğrafının çekilmesi, herhangi bir yolla çoğaltılması, yayımlanması ya da kullanılması yasaktır. Bu yasağa uymayanlar gerekli cezai sorumluluğu ve testlerin hazırlanmasındaki mali külfeti peşinen kabullenmiş sayılır.

**AKADEMİ DENİZİ YAYINCILIK**

## GENEL YETENEK TESTİ

1. Parça okunup özüksendikten sonra parçanın geneline yayılan anlam ve altı çizili ifadenin anlamı birleřtirilerek yorum yapılmalıdır. Altı çizili ifadelerde özellikle mecaz anlamlı söz veya söz öbeklerinin anlamı çok önemlidir. Eđer seyirci "beynini bırakıyorsa" tiyatroyu izlerken düşünme yetisini kullanmıyor. Beynini dışarıda bırakan bir insan izlediğini anlayamaz. Oysa tiyatroyu izleyiciyle anlam kazanır. Eđer seyirci beynini dışarıda bırakırsa oyunun bir parçası olduğunu anımsayamaz.

(Cevap C)

2. "Ruhun etrafındaki duvarlar" sözü, "sınırlandırma" sözcüğünü akla getirmektedir. Buna göre, altı çizili sözle A seçeneğindeki "insanı sınırlandıran engelleri" sözünün anlamca yakını olduğunu söyleyebiliriz.

(Cevap A)

3. I. cümlede anne ve babaların çocukların bazı ihtiyaçlarıyla ilgili karar verebildikleri saptanıyor, II'de anne ve babaların bu durumlarının nedeni açıklanıyor (günlük yaşamın içinde fazla zaman kaybetmemek için), III'te bu tutumun çocuklara zarar verebileceğinden söz ediliyor (çocukların yanlışlarını görmesini engellemesi), V'te bazı sorunların çözümünün çocuklara bırakılması önerilmektedir. IV'te deneyimsizliğin neden kaynaklandığıyla ilgili herhangi bir bilgiden bahsedilmemiştir.

(Cevap D)

4. Çıkarım: Herhangi bir durumdan netice elde etme demektir. E seçeneğinde sözü edilen kişinin selamlaşması ve sohbet etmesi çok insan tanımasına bağlanmıştır.

(Cevap E)

5. Bulunma durumu eki olan "-de, -da" bitişik yazılır. Buna göre C seçeneğinde "bizde" sözcüğündeki "-de" bulunma durumu eki olduğu için ayrı değil bitişik yazılmıydı.

(Cevap C)

6. II numaralı yere açıklama yapılacağı için nokta değil, iki nokta getirilmelidir. Buna göre bu noktalama işareti yanlış kullanılmıştır. Diğer noktalama işaretlerinde bir yanlışlık yoktur.

(Cevap B)

7. A → "vatansever"

C → "vazgeçmek, mümkün olmasın"

D → "ne + asıl – nasıl"

E → "bırakabilirsem"

"Ben ölürsem bir gece vakti ölürüm, şehre simsiyah bir kar yağarken." cümlesinde birleşik yapılı bir sözcük yoktur. "simsiyah" sözcüğü pekiştirilmiştir.

(Cevap B)

8. B seçeneğinde durak ⇒ durağa

C seçeneğinde avuç ⇒ avucunda

D seçeneğinde yelek ⇒ yeleğini

E seçeneğinde mektup ⇒ mektubu

görüldüğü gibi yumuşama olmuştur. A seçeneğindeki "içinde" sözcüğünde yumuşama yoktur.

(Cevap A)

www.akademidenizi.com.tr

AKADEMİ DENİZİ YAYINCILIK

9. "Orta Çağ'da → Bulunma durumu eki  
Aristo'ya → Yönelme durumu eki  
gökyüzünden → Çıkma durumu eki  
tarafından → Çıkma durumu eki  
gök cisimler - i → iyelik ekidir. Belirtme durumu eki de-  
ğildir.

(Cevap D)

10. B, C, D ve E seçeneklerindeki yüklemeler doğru gösterilmiştir. "Batı etkisindeki çağdaş Türk şiiri, uzun bir dönem bilerek ya da bilmeyerek eskiyi yok saydı." cümlesindeyse yüklem yanlış gösterilmiştir. Bu cümledeki yüklem "yok saydı" söz grubudur. "eskiyi" ifadesi belirtili nesnedir.

(Cevap A)

11. Verilen cümlelerin anlamsal sıralanışı şu şekildedir:
- Aşk üzerine yazmak 1990'ların ikinci yarısında moda olmuş, eli biraz kalem tutan herkes "aşk filozofu" kesilmişti.
  - Bu mesele televizyonları gündemine de girmiş, meselâ Ali Kırca'nın meşhûr, "Siyâset Meydanı" programında bile kendisine yer bulmuştu.
  - Gerçekten de güçlü bir edebiyatı olan ve romanlarına çarpıcı başlıklar bulmakta da son derecemahir olan Gabriel Garcia Marquez'in "Kolera Günlerinde Aşk" kitabı da çok satanlar rafındaydı.
  - Bu başlık o kadar çarpıcıydı ki bizim edebiyatımızda da nerdeyse edebiyatın her alanında oldukça gür bir yankı buldu.
  - Zihinsel bir sızma yaparak Ece Temelkuran'ın "Aşkın Babil'i" kitabında ve İskender Pala'nın "Babil'de Ölüm, İstanbul'da Aşk" gibi romanlarında bu etkinin izleri vardır.

Buna göre baştan dördüncü cümle, öncüldeki sıralamada yer alan I. cümledir.

(Cevap A)

12. "Büyük çoğunluğunu düşünmeyen insanların oluşturduğunu ve düşünmenin lüks sayıldığı bir dünyada her şeye karşın düşünen insanı "gerçek insan" diye tanımlamak gerekir." cümlesinde altı çizili sözcükler eylemsidir. Buna göre en fazla eylemsi bu cümlede yer almaktadır.

(Cevap D)

13. Parçada, bir duyuya ait bir özelliği başka bir duyu yerine kullanmak anlamına gelen duyular arası aktarma yoktur. "Osmanlı" ve "İstanbul" özel adlardır. "Ahşap konakların, evlerin yanı başında biraz da mahzun erguvan." cümlesinde kişileştirme vardır. "teker teker" ikilemedir. "... zarif ama en çok da ..." ifadesinde karşılaştırma yapılmıştır.

(Cevap B)

14. Parçanın konusu, barınma, beslenme ve günlük ihtiyaçlarının temini; doğal yaşamın tahribine ve ekolojik sistemin bozulmasına varan etkilerin değişik yansımalarıdır. Birinci cümleden IV. cümleye kadar olan cümleler şekil ve içerik olarak bu bağlama uygundur. V. cümlede ise "Dünya ölçeğinde yeni enerji kaynaklarının aranması için ayrılan bütçe neredeyse mevcut yakıtın ekonomik değerine karşılık gelmektedir." denilerek önceki cümlelerde anlatılan konunun dışına çıkmıştır.

(Cevap E)

15. Parçada öykülerin konusu anlatılmış ve yazar, öykülerinin gerçek hayatla olan irtibatını, ne ölçüde gerçekliğe yakın olduğunu, gerçek olmasının gerekli olup olmadığını tartışmıştır. Bu içeriğe uygun parçadaki sözlerin, "Öykülerinizin konuları gerçek hayatınızdan mı alınmıştır?" sorusuna cevap olduğunu söyleyebiliriz.

(Cevap E)

16. Verilen parçada I. ve II. cümlelerde her yıl ekim ayında verilen Nobel Ödülleri'nden, öneminden bahsedilirken III. cümleden itibaren ise 2021 yılında verilen Nobel Ödülleri'nden, söz edilmiştir. Buna göre bu parça iki parçaya ayrılmak istense ikinci paragraf III. cümle ile başlamalıdır.

(Cevap B)

17. "Gelenek ve görenek, insan ilişkilerinde nerede, nasıl davranmamız gerektiğinin çerçevesini çizer ve hayatımızda kendini göstermesi değerlerden önce gelir." ana düşüncesi ile hareket edilen bu parçada açıklama anlatım biçiminden yararlanılarak okuyucuya bilgi verilmiştir.

(Cevap A)

18. Bu parçada edebi eserin "kalıcılık" özelliğine vurgu yapılmıştır. Bu kaniya ise "Bir yapıtın aşkınlığı, yıllar sonrasında mesajlar içermesi bence onun nitelikli sayılması için yeterli bir sebeptir." cümlesinden ulaşabiliriz.

(Cevap E)

19. Cahit Zarifoğlu'nun İslâmî duyarlığa sahip şair ve yazarların en başarılısı olduğuna parçada yer verilmemiştir. Diğer ifadelerin ise parçadaki karşılıkları şunlardır:

- A) .... Diriliş, Edebiyat ve Mavera dergilerindeki yazılarıyla....  
 B) Fikrî/ideolojik bakımdan Büyük Doğu'dan beslenmekle beraber...  
 C) Bu sesin sahiplerinin hemen hepsi, bir şekilde aynı coğrafi kaderi paylaştı; ortaokul veya lise yıllarını Maraş'ta geçirdiler.  
 E) Sezai Karakoç, Nuri Pakdil, Erdem Beyazıt, Rasim Özdenören, Alâeddin Özdenören, M. Âkif İnan ve Cahit Zarifoğlu, bu kuşağın öncüleriydi.

(Cevap D)

20. Parçada geçen, "Ancak çoğu eserde öne çıkan, modern üretim tarzının ve teknolojinin, geleneği; dinî yaşayış ve ahlâkı bozduğu tezi ve özellikle bazı muhafazakâr yazarların, öykülerini, ısrarla modern üretim tarzı ve teknolojiyle geleneksel moral değerlerin çatışması üzerine bina etmesi, bence sorunlu bir bakış açısı." cümlesine dayanarak bu parçadan, "Bir toplumun değişen değerleri ve teknolojik gelişmeler dinî yaşayış ve ahlâkı olumsuz etkiler." yargısına varılamayacağını söyleyebiliriz.

(Cevap A)

21. Parçada *Babalar ve Oğullar* ile ilgili olarak en çok çevirisi yapılan eser olduğuna değinilmemiştir. Diğer ifadelerin parçadaki karşılıkları şunlardır:

- A)... taşradaki çiftlik sahibi zengin ailelerin hayatını tasvir ettiği...  
 B) 1859 Rusya'sında...  
 C) Turgenyev'in...  
 E) ...en ilginç karakteri, şüphesiz Bazarov'dur

(Cevap D)

22. Parçada konuşan yazar, yazdıklarını değerli bulup onlardan bir kısmının çıkarılmasına her ne kadar razı olmasa da , "...gazetelerin/dergilerin de bir sayfa sınırı var; sayfalar dolusu, üstelik çatık kaşlı uzun yazılara kim tahammül eder!." ifadelerinden de anlaşılabilir. "Bir yazarın metniyle arasındaki "duygusal bağ" anlaşılabilir de, "yazının bir harfine dahi dokundurtmam" edası kibirden kaynaklanıyorsa, işte bu çok tehlikeli!" cümlesini kullanan bir yazardan ise "Kalemimden çıkan her yazının noksatsız şekilde yayınlanması temel prensibimdir." cümlesini kullanması beklenemez.

(Cevap A)

23. Parçada geçen, "...hoşuma giden bir kitabı yarım bırakıp kitapçıda rastlayıp vurduğum bir başkasına geçebiliyor ve öncekini unutuyorum." ifadeleri O'Connell ile ilgili olarak sıkça beğeni ve karar değiştiren biri yorumuna yol açmaktadır. Bu durum ise "Ayrı gönüllü" deyişiyle ifade edilebilir.

(Cevap D)

24. "Sevilebilecek kitaplar eskiye göre daha çok değildir." ifadesini bu parçadaki, "Fakat sorun şu aslında: Âşık olduğum kitap sayısı gitgide azalıyor." cümlesine dayanarak çıkarabiliriz.

(Cevap B)

25. Parçada, düşmanlığın insanı değişik eylemlere motive ettiği anlamı vardır. Aynı anlam E seçeneğinde de vardır.

(Cevap E)

26. Parçada konuşan kişi, düşmanlık gibi olumsuz bir durumda bile olmaktan bile bir sonuç çıkardığına göre bu kişinin olaylara farklı baktığı söylenebilir.

(Cevap A)

27. – 30. soruların çözümünde aşağıdaki bilgiler kullanılacaktır.

	N	O	P	R	S
K	✓ A	✓ B/C	✓ B/C		
L				✓ C	✓ A

Nalan L departmanında Selen K departmanında da olabilir.

27. Tabloya göre, Nalan'ın seçtiği kumaş kesin olarak bilinir. Yalnız III doğrudur.

(Cevap B)

28. Pınar kesinlikle K departmanında çalışmaktadır. Bu durumda Orkun da K'da çalışacağından geriye K departmanı için 1 kişilik yer alır. Seçeneklerden Selin ve Pınar K'da çalışıyor olabilir.

(Cevap D)

29. Selin'in çalıştığı departman ile Pınar'ın seçtiği kumaş tam olarak bilinirse, tüm çalışanların seçtikleri kumaşlar ve çalıştıkları departmanlar belirlenir.

(Cevap C)

30. L departmanında çalışanlar kesin olarak C ve A kumaşlarını seçmiştir.

(Cevap A)

$$\begin{array}{r}
 31. \quad A \cdot B \cdot C = 6 \\
 \downarrow \quad \downarrow \quad \downarrow \\
 3 \quad 2 \quad 1 \quad (\text{en büyük ABC}) \\
 + \quad 1 \quad 2 \quad 3 \quad (\text{en küçük ABC}) \\
 \hline
 4 \quad 4 \quad 4 \quad \text{bulunur.}
 \end{array}$$

(Cevap E)

$$\begin{array}{r}
 32. \quad -4 < x < 6 \\
 -6 \leq y \leq 5 \\
 2/ \quad -4 < x < 6 \\
 -3/ \quad -6 \leq y \leq 5 \\
 \hline
 -8 < 2x < 12 \\
 + \quad -15 < -3y < 18 \\
 \hline
 -23 < 2x - 3y < 30 \\
 \text{E.K.D} = -22 \\
 \text{E.B.D} = 29
 \end{array}$$

En büyük değer en küçük değerden 51 fazladır.

(Cevap B)

$$\begin{array}{r}
 33. \quad A = 6a + 1 = 8b + 3 = 15c + 10 \\
 A + 5 = 6a + 6 = 8b + 8 = 15c + 15 \\
 A + 5 = 6(a + 1) = 8(b + 1) = 15(c + 1) \\
 \text{EKOK}(6, 8, 15) = 120 \quad \begin{array}{l} 6 \quad 8 \quad 15 \\ 3 \quad 4 \quad 15 \\ 3 \quad 2 \quad 15 \\ 3 \quad 1 \quad 5 \\ 1 \quad 1 \quad 1 \end{array} \begin{array}{l} 2 \\ 2 \\ 2 \\ 3 \\ 5 \end{array} \\
 8 \cdot 120 = 960 \\
 A + 5 = 960 \\
 A = 955 \\
 9 + 5 + 5 = 19 \quad \text{bulunur.}
 \end{array}$$

(Cevap D)

$$\begin{array}{r}
 34. \quad \frac{4}{1 + \frac{7-0,7}{7+0,7}} = \frac{4}{1 + \frac{6,3}{7,7}} \\
 = \frac{4}{1 + \frac{9}{11}} = \frac{4}{\frac{20}{11}} = \frac{44}{20} = \frac{11}{5}
 \end{array}$$

(Cevap B)

$$\begin{array}{r}
 35. \quad \frac{2,31}{0,77} - \frac{2,31}{0,33} + \frac{2,64}{0,88} = \frac{\frac{33}{231}}{\frac{77}{11}} - \frac{\frac{7}{231}}{\frac{33}{1}} + \frac{\frac{3}{264}}{\frac{88}{1}} \\
 = 3 - 7 + 3 = -1 \quad \text{olur.}
 \end{array}$$

(Cevap B)

$$\begin{array}{r}
 36. \quad a > 0 \Rightarrow a + 2 = 2a - 3 \\
 a = 5
 \end{array}$$

$$\begin{array}{r}
 a < 0 \Rightarrow -a + 2 = 2a - 3 \\
 3a = 5
 \end{array}$$

$$a = \frac{5}{3} < 0 \quad \text{olduğundan}$$

$$\text{Ç.K} = \{5\}$$

(Cevap E)

$$\begin{array}{r}
 37. \quad \left(\frac{1}{3}\right)^{-3} = 3^3 = 27 \\
 \left(\frac{1}{2}\right)^{-5} = 2^5 = 32 \\
 \Rightarrow \left(\frac{1}{3}\right)^{-3} + \left(\frac{1}{2}\right)^{-5} = 27 + 32 = 59 \quad \text{bulunur.}
 \end{array}$$

(Cevap E)

$$\begin{array}{r}
 38. \quad \frac{\sqrt{1,96} \cdot \sqrt{6400}}{\sqrt{0,04}} = \frac{\sqrt{(1,4)^2} \cdot \sqrt{(80)^2}}{\sqrt{(0,2)^2}} \\
 = \frac{1,4 \cdot 80}{0,2} = \frac{14 \cdot 80}{2} = 7 \cdot 80 = 560
 \end{array}$$

(Cevap C)

$$39. \frac{x^2y + x + y + y^2x}{x^2y + x - y - y^2x} = \frac{xy \cdot (x+y) + (x+y)}{xy \cdot (x-y) + (x-y)} = \frac{(x+y) \cdot (xy+1)}{(x-y) \cdot (xy+1)} = \frac{x+y}{x-y}$$

(Cevap D)

40.

$$\begin{array}{r} 3^x + 3 \cdot 3^y = 22 \\ + \quad 3 \cdot 3^x - 3^y = 16 \\ \hline 10 \cdot 3^x = 70 \\ 3^x = 7, \quad 3^y = 5 \\ 3^{x+y} = 3^x \cdot 3^y = 7 \cdot 5 = 35 \end{array}$$

(Cevap D)

41.

$$\begin{array}{r} x + y - z = 2 \\ -x + y + z = 4 \\ x - y + z = 8 \\ \hline -x + y + z = 4 \\ x - y + z = 8 \\ \hline 2z = 12 \Rightarrow z = 6 \\ x + y - 6 = 2 \Rightarrow x + y = 8 \\ -x + y + 6 = 4 \Rightarrow y - z = -2 \\ \hline 2y = 6 \quad y = 3 \\ x = 5 \\ z = 6 \\ x - \frac{z}{y} = 5 - \frac{6}{3} = 3 \end{array}$$

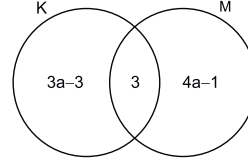
(Cevap C)

42.

$$\begin{array}{r} a - b = \sqrt{a^2} = (\sqrt{a} - \sqrt{b}) \cdot (\sqrt{a} + \sqrt{b}) \\ \sqrt{a} + \sqrt{b} = 12 \\ + \quad \sqrt{a} - \sqrt{b} = 4 \\ \hline 2\sqrt{a} = 16 \\ \sqrt{a} = 8, \quad \sqrt{b} = 4 \\ a = 64, \quad b = 16 \\ a + b = 80 \end{array}$$

(Cevap B)

43. Verilenleri şemada yerine yazarsak;



$$s(M \cup K) = 7a - 1$$

a en az 2 olmalıdır.

$$s(M \cup K) = 7 \cdot 2 - 1 = 13 \text{ tür.}$$

(Cevap C)

44.  $f(x) = x^2 - 6x + 7$

$$f(k) = -2 \Rightarrow k^2 - 6k + 7 = -2$$

$$k^2 - 6k + 9 = 0$$

$$(k - 3)^2 = 0$$

$$k_1 = k_2 = 3 \text{ bulunur.}$$

(Cevap C)

45. Ürünün maliyeti 100 ₺ olsun. % 35 kârla 135 ₺ ye satılır. 135 ₺ ye satılan bir üründen % 50 kâr elde etmek için maliyetini bulalım.

Maliyeti 100x olsun.

% 50 kâr ile 150x satılır.

$$150x = 135$$

$$x = \frac{135}{150} = \frac{9}{10}$$

$$\text{Maliyet } 100 \cdot \frac{9}{10} = 90 \text{ ₺}$$

Yani, 90 ₺ ye mal edilen bir ürün 135 ₺ ye satılırsa % 50 kâr elde edilir.

100 ₺ lik bir ürünün maliyetini 90 ₺ düşürmek için ürünü % 10 indirim yapılmalıdır.

(Cevap C)

46. Doktor      Hasta      Hemşire

n                      40n                      4n

$$n + 40n + 4n = 315 \Rightarrow 45n = 315 \Rightarrow n = 7$$

Hemşire sayısı =  $4n = 4 \cdot 7 = 28$  bulunur.

(Cevap A)

47.

$$\begin{array}{ccc} 400 \text{ tan} & \times & 90 \text{ gün} \\ 1000 \text{ tan} & \times & x \text{ gün} \end{array}$$

$$400 \cdot x = 1000 \cdot 90$$

$$4x = 10 \cdot 90$$

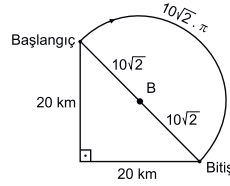
$$x = 225$$

(Cevap A)

48.  $\binom{5}{3} \cdot 3! = 10 \cdot 6 = 60$

(Cevap D)

49.



A'nın yolu 40 km hızı 4 km/s ise varış süresi

$$\frac{40}{4} = 10 \text{ saattir.}$$

B'nin yolu  $20\sqrt{2}$  km hızı

$$2 \text{ km/s ise varış süresi } \frac{20\sqrt{2}}{2} = 10\sqrt{2} \text{ saat.}$$

C'nin yolu  $10\sqrt{2}\pi$  km hızı 3 km/s ise varış süresi

$$\frac{10\sqrt{2}\pi}{3} \text{ saat.}$$

Bu durumda varış sırası A, B, C dir.

(Cevap A)

50.

Mustafa	Abisi
30	x
x	81 - x

O hâlde yaş farklarını eşitlersek;

$$x - 30 = 81 - x - x$$

$$3x = 111 \Rightarrow x = 37$$

$$\text{Yaş farkı} = 37 - 30 = 7 \text{ dir.}$$

(Cevap E)

51. İki zar atıldığında oluşacak tüm durum sayısı

$$6^2 = 36 \text{ dir.}$$

Şimdi de istenilen durum sayısını bulalım.

Toplamları 10 olan durumları yazalım.

$$A = \{(6, 4), (4, 6), (5, 5)\}$$

O hâlde zarların üst yüze gelen sayıların toplamının

$$10 \text{ olma olasılığı} = \frac{3}{36} = \frac{1}{12} \text{ bulunur.}$$

(Cevap E)



52.  $\%55 - \%30 = \%25$   
 16 GB'da  $\%25$  ise  
 8 GB'da  $\%x$  dir.  
 Ters orantı vardır.  
 $8 \cdot x = 16 \cdot 25$   
 $x = 50$

(Cevap B)

53.  $s = 6,5 + 2,7x + \frac{6,5 + 2,7x}{2}$   
 $s = 6,5 + 2,7x + 3,25 + \frac{2,7x}{2}$   
 $s = 9,75 + \frac{8,1x}{2}$  bulunur.

(Cevap B)

54.  $^5_3 = 1392781243$   
 $\Rightarrow$  10 basamaklıdır.

(Cevap A)

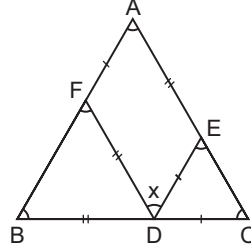
55.  $B = 4^4 = 141664256$   
 $C = 5^2 = 12481632$   
 $\frac{141664256}{12481632} = 11,35$   
 $1 + 5 + 4 + 1 + 4 + 5 + 8 + 8 + 8 = 44$

(Cevap D)

56.  $^{10}_{10} = \frac{11010010001000010000100}{7}$  tane bulunur.

(Cevap B)

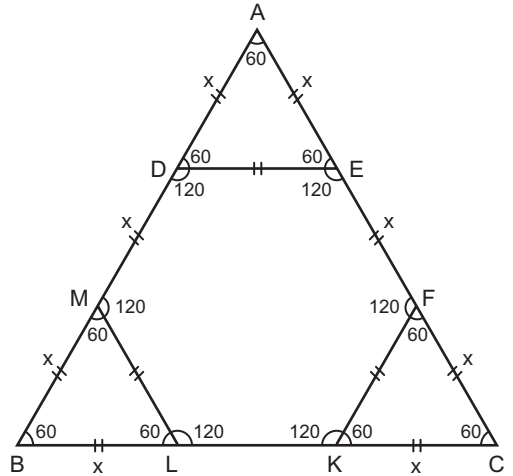
- 57.



AEDF'de  $2x + 2y = 360$   
 $x + y = 180$   
 $3x = 180^\circ$   
 $x = 60^\circ$

(Cevap C)

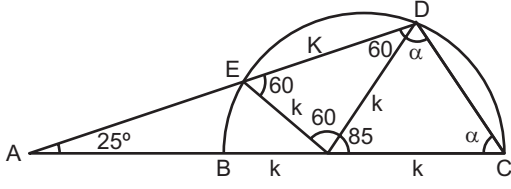
- 58.



$6 \cdot \frac{x^2 \sqrt{3}}{4} = 24\sqrt{3}$   
 $x^2 = 16$   
 $x = 4$   
 $\text{Ç}(ABC) = 12 \cdot 3 = 36$  birim

(Cevap D)

59.



$$2\alpha + 85 = 180$$

$$2\alpha = 95$$

$$\alpha = 47,5$$

$$x = 60 + \alpha = 60 + 47,5 = 107,5$$

(Cevap E)

60.  $y = -x + 7n \Rightarrow m = -1$  ) diktir  
 $m_{AB} = 1$  olmalı  
 $\frac{4-2}{3-k} = 1 \Rightarrow k = 1$  olur.

(Cevap B)

1. Orta Asya'da yaşanan mücadelelerin temeli İpek Yolu'na dayanır. Bu çerçevede kurulan Göktürk - Sasani İttifakıyla bir Türk devleti olan Akhunların siyasi varlığına son verilmiştir. Daha sonra kurulan Göktürk - Bizans ittifakıyla Sasaniler İpek Yolu'ndan uzaklaştırılmıştır.

(Cevap D)

2. İlk Türk devletlerinde halkın sınıflara ayrılmaması ve eşitliğe dayanan bir toplum yapısının var olması, toplumsal dayanışmanın sağlanarak birlik ve beraberliğin güçlenmesinde etkili olmuştur.

(Cevap E)

3. Memlûklerde askerlerin yetenekleri ölçüsünde yükselebilmesi, komutan ve hatta sultan bile olabilmesi, hükümdarlığın soya dayalı olmadığını ve askeri alanda hiyerarşik bir yapılanmanın olduğunu göstermektedir. Ancak III. öncül, I. öncül ile çelişmekte olup hükümdarlık belli bir soya ait olmadığını Memlûklerde saltanat sistemi görülmez, yani sultanlık babadan oğula geçmezdi.

(Cevap B)

4. **Adet-i Ağnam:** Osmanlı İmparatorluğu'nda koyun ve keçi sahiplerinden alınan vergidir.

**Adet-i Deştbanı:** Herhangi bir şahsın atı veya sığırını bir başkasının ekinine girip zarar verdiği takdirde, hayvan sahibinden alınan tazminat türü vergidir.

**Amediye:** İthalat vergisidir.

**Reftiye:** İhracat vergisidir.

**Müruriye:** Transit geçiş vergisidir.

(Cevap C)

5. Sırpsındığı, I. Kosova, Niğbolu ve II. Kosova Osmanlı Devleti'nin Kuruluş Dönemi'nde Haçlılarla yaptığı savaşlardır.

1302 yılında gerçekleşen Bafeus (Koyunhisar) Savaşı ise Osmanlı Beyliği ve Bizans İmparatorluğu arasında yapılan ilk silahlı çarpışmadır. Savaşı, Osman Bey yönetimindeki Osmanlı ordusu kazanmıştır. Prof. Dr. Halil İnalçık; Osmanlı Beyliğinin, Bafeus Muharebesi'ndeki Osman Bey'in galibiyetinden sonra devlet niteliğini kazandığını iddia etmektedir.

Osmanlı Devleti'nin birleşik Haçlı kuvvetleri ile yaptığı ilk savaş, Sırpsındığı Savaşı'dır.

(Cevap A)

6. Amasya Antlaşması, Osmanlı Devleti'nin İran'la imzaladığı ilk antlaşmadır. Ferhat Paşa Antlaşması ile Osmanlı Devleti doğuda en geniş sınırlara ulaşmıştır. Nasuh Paşa Antlaşması ile Osmanlı Devleti, Ferhat Paşa Antlaşması'yla aldığı yerleri İran'a geri vermiştir. Kasr-ı Şirin Antlaşması ile bugünkü Türkiye-İran sınırı çizilmiştir. Ancak, Serav Antlaşması ile Şiilik sorunu sona ermemiş, Nasuh Paşa Antlaşması aynen kabul edilmiştir.

(Cevap E)

7. A, B, C ve E seçeneklerinde yer alan ifadeler XVIII. yüzyıl ıslahatlarının genel özellikleri arasında gösterilir. Fakat XVIII. yüzyılda hiçbir şekilde padişahın yetkileri kısıtlanmamıştır. Padişahın ilk defa yetkisinin kısıtlanması 1808'de imzalanan Sened-i İttifak Sözleşmesi ile olmuştur. Sened-i İttifak ise 19. yüzyıla ait bir gelişmedir. Padişahın yetkilerinin sınırlandırılması Sened-i İttifak ile başlamış; Tanzimat, İslahat ve Meşrutiyet ile devam etmiştir.

(Cevap D)

8. III. Selim'in Paris, Londra, Viyana ve Berlin gibi Avrupa başkentlerinde ilk kez sürekli elçilikler kurması, onun Avrupa devletleriyle olan diplomatik ilişkilere verdiği önemi göstermektedir. Ayrıca bu durum, Osmanlı Devleti'nin Batı'nın üstünlüğünü kabul ettiğini ve kendini Avrupa'dan üstün görme politikasından vazgeçtiğini de göstermektedir. Böylelikle Avrupa'daki gelişmeleri yakından takip etmeyi ve onları örnek alarak Osmanlı'ya getirmeyi amaçlamıştır.

Avrupa'ya gönderilen ilk daimi elçi, yani ikamet elçisi 1793 yılında, III. Selim tarafından Londra'ya gönderilen Yusuf Agah Efendi'dir.

(Cevap C)

9. II. Mahmut Dönemi'nde ilköğretim zorunlu hâle getirildi. Böylece eğitimde büyük bir reform yapılarak okuryazar oranının artması ve kültür düzeyinin yükselmesi amaçlandı.

(Cevap A)

10. İngiltere ve Fransa'nın, İtalya'nın Trablusgarp'ı işgaline tepki göstermemelerinin nedeni, I. Dünya Savaşı öncesinde yeni sanayileşen İtalya ile Almanya'nın işbirliği yapmasını önlemek istemeleridir.

(Cevap C)

11. Osmanlı şehzadeleri Manisa, Kütahya, Amasya, Trabzon, Antalya, Sivas, Konya, Sinop, Muğla, Bursa, İzmit, Eskişehir, Aydın, Isparta ve Balıkesir gibi sancaklarda görev yapmışlardır. Şehzade sancakları içerisinde en meşhur olanı ise Manisa'dır. Bunun sebebi ise burada yetişen şehzadelerden çoğunun padişah olmasıdır. Nitekim Manisa sancağı, Osmanlı şehzadeleri tarafından, tahta çıkan yolun bir önceki durağı şeklinde de algılanmaya başlanmıştır.

(Cevap B)

12. Osmanlıda I. Murat veraset anlayışında yaptığı değişimle taht kavgalarını azaltmış; yani merkezi otoriteyi güçlendirmiştir. Fatih kardeşler arası taht kavgasını meşru hale getirerek devletin bekasını hedeflemiştir. Yani taht kavgaları devletin siyasal istikrarını etkilemeden çözülmüştür. Dolayısıyla merkezi otorite güçlendirilmiştir. En sonunda I. Ahmet, taht kavgalarını önlemek için "Ekber ve Erşed" sistemini getirerek merkezi otoriteyi güçlendirmeye çalışmıştır. Ancak sonuçta sancağa çıkma usulü yerini kafes usulüne bırakınca merkezi otorite zayıflamıştır. Fakat soruda sonuç değil, amaç sorulmaktadır.

(Cevap E)

13. Soruda özelliği verilen geri hizmet sınıfı cerahlardır. Bunlar ihtiyaca göre daha ziyade Hristiyan tebaa arasından seçilir ve kendilerine ücret ödenirdi. Böyle bir sınıfın ilk defa Yıldırım Bayezid Devri'nde, Ankara Savaşı'nda (1402) Timur kuvvetlerine karşı kullanıldığı bilinmektedir.

(Cevap E)

14. **Yurtluk**, geliri sınır boylarındaki askerlere verilen topraklardır.

**Ocaklık**, geliri kale muhafızlarına ve tersane giderlerine ayrılan topraklardır.

**Paşmaklık**, geliri padişah kızlarına, annelerine ve eşlerine ayrılan topraklardır.

**Malikâne**, üstün hizmetlerine karşılık bazı devlet görevlilerine verilen topraklardır.

**Mukataa**, geliri doğrudan devlet hazinesine gitmek üzere ayrılmış topraklardır.

(Cevap C)

15. XIX. yüzyıl sonlarına doğru Almanya'nın Osmanlı Devleti'ne yönelik yaklaşma politikasının en önemli amacı, menfaatleri doğrultusunda Osmanlı Devleti ile yakınlık kurarak, siyasal ve ekonomik çıkarlarını gerçekleştirmek istemesidir.

(Cevap B)

16. Yunanistan, Bulgaristan, Sırbistan ve Karadağ'ın Osmanlı'dan ayrılarak bağımsızlıklarını kazandıktan sonra, Osmanlı Devleti'ne savaş açarak Balkan Savaşları'nı başlatmaları ve savaş sırasında Arnavutların isyan ederek bağımsızlıklarını ilan etmeleri Osmanlılık fikir akımının önemini kaybettiğinin göstergesidir.

Osmanlılık; Osmanlı İmparatorluğu'nda yaşayan tüm vatandaşların ırk, dil, din ayrımı gözetmeksizin bir arada yaşamasını savunan görüştür. Temel amacı, Osmanlı Devleti'nin dağılmasını engellemektir.

(Cevap A)

17. Bulgaristan, 1908 yılında Osmanlı Devleti'nden ayrılarak bağımsızlık elde etmiştir. 12 Ada ve Rodos 1912 yılında imzalanan Uşi Antlaşması ile elden çıkmıştır. Arnavutluk ve Makedonya 1912 yılındaki Balkan Savaşı sırasında kaybedilmiştir. Buna göre A, B, C ve E seçeneklerinde yer alan bölgeler XX. yüzyılda kaybedilmiştir. Yunanistan ise XIX. yüzyılda Osmanlı'dan ayrılmıştır. 1829 Edirne Antlaşması ile Yunanistan bağımsız olmuştur.

(Cevap D)

18. Lozan Konferansı'na çağrı yapan devletler İngiltere, Fransa, İtalya ve Japonya'dır. Belçika ise konferansa sadece ticaret ve yerleşme sözleşmelerine katılmıştır.

(Cevap C)

19. Verilen bilgilere bakılarak; A, B, C ve D seçeneklerine ulaşılabilir. Ancak, eğitimde fırsat eşitliği kaldırılmıştır diyemeyiz.

(Cevap E)

20. Türk Medeni Kanunu, İsviçre Medeni Kanunu örnek alınarak TBMM'de kabul edilen ve 4 Ekim 1926 tarihinde yürürlüğe konulan kanundur. Ailede kadın-erkek eşitliği, resmî nikâh zorunluluğu, tek eşle evlilik, kadınlara istedikleri mesleğe girebilme hakkının tanınması gibi yenilikler getiren kanun, 1 Ocak 2002'de kabul edilen yeni Medeni Kanun ile birlikte yürürlükten kalkmıştır.

Ahmet Cevdet Paşa başkanlığındaki bir komisyon tarafından hazırlanan ve 1876 yılında yürürlüğe giren Mecelle, Türk tarihinin ilk medeni kanunu olarak kabul edilmektedir. İslami esaslara göre düzenlenen Mecelle, 1926 yılında Türk Medeni Kanunu'nun kabulüyle yürürlükten kaldırılmıştır.

(Cevap E)

21. Mahmut Esat Bozkurt bu sözü ile, hukukta birliğin sağlanarak laik hukuk düzenine geçmenin ve halkın yönetime katılımının artırılmasının amaçlandığını vurgulamaktadır.

(Cevap D)

22. 15 Nisan 1931'de kurulan Türk Tarih Kurumu, 1937 yılından itibaren, Belleten isimli bir dergi yayımlamaya başlamıştır. Derginin adı bizzat Atatürk tarafından konulmuştur.

Belleten, Türk Tarih Kurumu tarafından, Ocak 1937'den bu yana dört ayda bir Türkçe olarak yayımlanmakta olan, arkeoloji ve tarih konulu makalelere yer veren bir dergidir.

(Cevap A)

23. Yabancıların Türk sularında gemi işletmemesi Kabotaj Kanunu ile, resmi nikah kısılması Medeni Kanun ile, ilk isimden başka bir soyadı kullanılması Soyadı Kanunu ile hayata geçirilmiştir. Kız ve erkek öğrencilere ilk eğitimin zorunlu olması ise Tevhid-i Tedrisat Kanunu ile yasa güvencesine alınmıştır. Ancak kadınların nasıl bir kıyafetle dolaşacağına dair herhangi bir yasa düzenlenmemiştir.

(Cevap C)

24. Türkiye Ankara Antlaşması'ndan siyasi beklentilerini karşılayamazken, sadece Irak petrollerinden belli bir süre pay almasının kararlaştırılması suretiyle ekonomik kazanım elde etmiştir.

(Cevap C)

25. Soru kökünde sözü edilen ülke Yugoslavya'dır. Alman işgalinden kendi çabalarıyla kurtulması Yugoslavya'nın SSCB karşısında daha bağımsız hareket etmesini sağlamıştır. Yugoslavya 5 Ekim 1947'de kurulan Cominform'a destek verse de Sovyet ajanlarının Yugoslavya'da serbest dolaşmasına izin vermediği için Cominform'dan çıkarılmıştır. Bundan sonra Yugoslavya, Hindistan lideri Nehru ve Mısır lideri Nâsır ile birlikte "Bağlantısızlar Hareketi"ne öncülük etmiştir.

Cominform, 1947'de Sovyet Rusya, Yugoslavya, Romanya, Bulgaristan, Macaristan, Polonya, Fransa ve İtalya Komünist Parti liderlerinin ABD ve Truman Doktrini'ne karşı oluşturdukları uluslararası komünizm teşkilatıdır.

(Cevap E)

26. A, B, C ve D seçeneklerinde verilen gelişmeler iki savaş arası dönemde barışın sürekliliğini koruma çabalarıdır. Ancak Postdam Konferansı, II. Dünya Savaşı'nın sonlarına doğru savaş sonrası kurulacak düzen ve barışın esaslarını belirlemek amacıyla toplanmıştır.

(Cevap E)

27. A, C, D ve E seçeneklerinde verilen bilgiler, iki savaş arası dönemde dünyada meydana gelen bilimsel, kültürel ve sosyal gelişmeler arasında yer almaktadır. Rock and roll müzik II. Dünya Savaşı'ndan sonraki dönemde ortaya çıkmıştır. Savaş sonrası dönemde özellikle genç nüfusun hızla artmasıyla birlikte orta sınıf hayat tarzını sorgulayan yeni bir gençlik oluşmuştur.

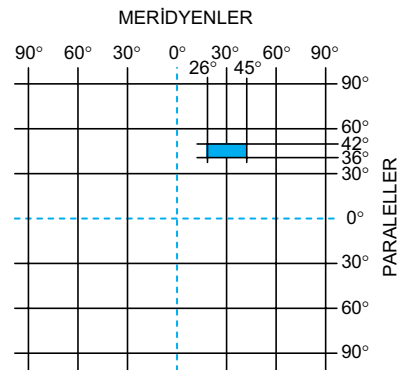
(Cevap B)

28. İklim çeşitliliği; bir yerin aynı anda farklı iklim özellikleri göstermesidir. İklim çeşitliliğinin en önemli ispatı bitki örtüsü çeşitliliğidir. Buna göre; Çatalca, Türkiye'de iklim çeşitliliğinin en fazla olduğu yerdir. Çünkü hem Karadeniz'e hem de Marmara Denizi'ne kıyısı vardır ve Türkiye'de farklı iklimlerin görüldüğü ve geçiş iklim bölgesi olarak bilinen Marmara Bölgesi'nde bulunmaktadır.

Datça Ege Bölgesi'nde olup Akdeniz iklimi görülür. Gelibolu Yarımadası'nda da genellikle Akdeniz iklimi görülür. Sinop'ta Karadeniz iklimi görülür. Kapıdağ Yarımadası'nda da Akdeniz iklimi görülür.

(Cevap D)

29. Türkiye'nin matematik konumu soruda açıklanmıştır. Bu koordinat sistemi üzerine Türkiye aşağıda gösterilen şekildeki gibi yerleştirilirse;



Yalnızca I numaralı alanın Türkiye'nin bir kısmını kapsadığı görülür.

(Cevap A)

30. Dağların kıyıya paralel uzandığı Karadeniz kıyılarındaki bağıl nem oranı daha fazladır. Bu durum Karadeniz kıyı kesimi boyunca bulutluluk oranının daha fazla ve dolayısıyla güneşlenme süresinin de daha az olmasına neden olmuştur. Kıyıdan iç kesimlere gidildikçe bağıl nem oranı deniz etkisinden uzaklaşmaya bağlı olarak azalır. Güneydoğu Anadolu'da sıcak çöl rüzgârlarının etkisiyle sıcaklığın yaz mevsiminde aşırı artması, bağıl nem oranını azaltır.

(Cevap A)

31. Türkiye'de dağların doğu-batı yönlü uzanması orojenik hareketlerle dört mevsimin belirgin olarak yaşanması ise ılıman iklim kuşağında yer alması ile ilgilidir.

(Cevap C)

32. Yer şekillerinin sade görünümlü olduğu yerlerde gerçek uzunluk kuş uçuşu uzunluk arasındaki fark azdır. İstanbul - Tekirdağ arasında yer şekilleri sade görünüme sahiptir. Rize - Erzurum, Niğde - Mersin, Bingöl - Erzincan, Ankara - Bolu arası ise dağlık ve engebeldir.

(Cevap B)

33. Akdeniz ikliminin etki alanı Gaziantep ve Kilis çevresinden başlar, Akdeniz ve Ege kıyıları boyunca devam eder. Ege kıyılarının iç kesimlerine kadar etkili olurken Akdeniz kıyılarında daha çok kıyı kesiminde etkilidir. Ayrıca enlem etkisine bağlı olarak iklim özelliklerinde Akdeniz kıyılarından Ege kıyılarına doğru gidildikçe bazı değişimler yaşanır. Örneğin sorudaki gibi kış sıcaklıkları düşer. Bu durumun nedeni enlem yani güneş ışınlarının geliş açısının güneyden kuzeye doğru daralmasıdır.

(Cevap C)

34. Türkiye'de yer alan dağlar orojenik (kıvrılma, kırılma) ve volkanik faaliyetler sonucu oluşmuştur. Ağrı, Tendürek, Süphan, Nemrut, Erciyes, Hasan, Karadağ, Karacadağ, Melendiz, Uludağ, Volkanik faaliyetler sonucu, diğer dağlarımız ise orojenik hareketler sonucu oluşmuştur.

(Cevap D)

35. Türkiye'de tuz, kireç, alçı taşı, tebeşir gibi eriyebilen arazilerin (kalkerli) en yaygın olduğu bölge Akdeniz'dir. Ülkemizde karstik şekillerin en yaygın olduğu bölge eriyebilen kayaların yaygın olmasına bağlı olarak Akdeniz Bölgesi'dir.

(Cevap C)



36. Yerleşmelerin kurulmasında fiziki faktörler, gelişmesinde ise beşeri faktörler etkilidir. Şehirlerimizin tamamı istihdam olanaklarının artması ilçe ya da il olmuşlardır. İstihdam olanakları az olan illerimizin nüfusları hızla azalmaktadır.

(Cevap E)

37. Türkiye’de genelde yer şekillerindeki engebe ve yükseltiden dolayı; Erzurum-Kars Bölümü’nde (I), Yıldız Dağları Bölümü’nde (III) Mentеше Yöresi’nde. (IV) ve Teke-Taşeli platolarında (V) nüfus seyrek. Aslında haritada işaretli olan Tuz Gölü çevresi (II) de seyrek nüfusludur. Ancak buranın seyrek nüfuslanmasının nedeni yer şekillerindeki engebe değil, iklimin kurak olmasıdır. Çünkü Tuz Gölü çevresinde yer şekilleri sadedir.

(Cevap B)

38. Tarımda makineleşmenin artması ile insan gücüne olan ihtiyaç azalmıştır. Bu durum kırsal kesimde işsizliğin artmasına neden olmuştur. İşsiz kalan nüfus şehirlere göç etmiş ve kırsal kesimlerde nüfus hızla azalmıştır.

(Cevap B)

39. Yerli koyun türleri ile mera hayvancılığı şeklinde küçükbaş hayvancılık yapılması geri kalmışlık anlamına gelir. Bu yöntemde verim düşüktür. Türkiye’de özellikle iç kesimlerde etkili olan yarı kurak iklim koşulları ile bozkır bitki örtüsünün varlığı, koyun yetiştiriciliğinin yaygın olarak yapılmasına imkân sağlamaktadır.

(Cevap E)

40. Rüzgâr enerjisiyle çalışan rüzgâr santrallerinin Türkiye enerji üretimindeki payı ise sadece %1,1 dolayındadır. Ülkemiz rüzgâr potansiyeli açısından zengin bir ülke olmakla birlikte bu temiz enerji kaynağından yeterince yararlanamamaktadır. Türkiye’de rüzgâr gücünden elektrik enerjisi üreten ilk santral 1998 yılında Çeşme’de (İzmir) kurulmuştur.

(Cevap A)

41. Sorudaki grafikte Türkiye’nin dış ticaretinde elde edilen gelir ve gider dolar cinsinden gösterilmiştir. Yani yalnızca dış ticaret ile ilgili maddi bilgiler verilmiştir. Buna göre grafikten yalnızca maddi konudaki bilgilere ulaşabiliriz.

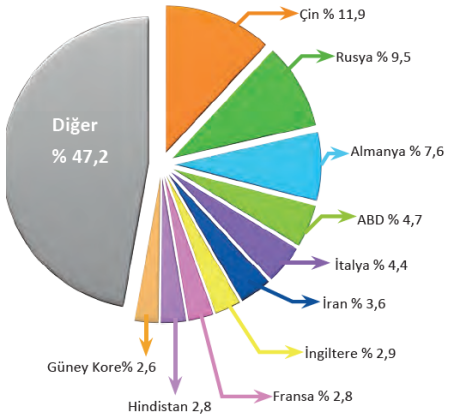
(Cevap C)

42. Sorudaki açıklamada demir yolu yapımına öncelik verilen yerlerin önemli üretim-pazar alanları olduğundan bahsedilmiştir. Bu özelliğe sahip olmadıkları ve aynı zamanda engebeli yerler oldukları için; Doğu Karadeniz, Menteşe, Teke-Taşeli, Gelibolu-Biga yörelerinde demir yolları gelişmemiştir.

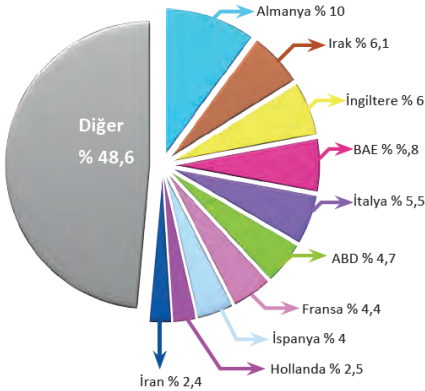
(Cevap D)

43. Aşağıdaki grafiklerde Türkiye'nin dış ticaretinde önde gelen ülkeler gösterilmiştir. Afganistan bu ülkeler arasında yer almaz.

Türkiye'nin dış alımında ilk 10 ülkenin payı 2017, TÜİK



Türkiye'nin dış satımında ilk 10 ülkenin payı 2017, TÜİK



(Cevap E)

44. Soruda verilen yerlerden; Pamukkale travertenleri; Denizli, Efes Harabeleri; İzmir, Damlatay Mağarası; Antalya, Cennet ve Cehennem Obruğu; Mersin'de yer alır. Buna göre soruda Hatay iline değinilmemiştir.

(Cevap A)

45. Yer şekillerinin engebeli olduğu yerlerde;
- Yol yapım maliyetleri fazla,
  - Tarım alanları dar,
  - Tarımda makineleşme azdır.

Bitki örtüsünün orman olduğu yerde ise;

- Yağış miktarı fazla,
- Tarımda sulamaya ihtiyaç az,
- Güneşlenme süresi kısa,
- Nem ve bulutluluk fazladır.

(Cevap B)

46. Gözaltına alma ile ilgili hükümler 2005 yılında kabul edilen yakalama, gözaltına alma ve ifade alma yönetmeliğinde düzenlenmiştir. Buna göre gözaltı süresi, yakalama yerine en yakın hâkim veya mahkemeye gönderilmesi için zorunlu süre hariç, yakalama anından itibaren 24 saati geçemez. Yakalama yerine en yakın hâkim veya mahkemeye gönderilme için zorunlu süre 12 saatten fazla olamaz.

(Cevap B)

47. Soru öncülünde yapılan terim "mobbing"dir.

(Cevap D)

48. Bir hukuki işlemle bir kişiden diğerine geçen yani el değiştirebilen haklardır. Mülkiyet hakkı, rehin hakkı, telif hakkı gibi.

(Cevap E)

49. A, B, D ve E seçenekleri sosyale ve ekonomik hak ve ödevlerimizdendir. Mülkiyet hakkı ise kişi hak ve ödevlerimizdendir. Ailenin korunması, sağlık, çalışma koşullarının iyileşmesi, eğitim gibi hak ve ödevler de sosyal ve ekonomik hak ve ödevler başlığı altında düzenlenmiştir.

(Cevap C)

50. 1982 Anayasası'nın 116. maddesi, "Türkiye Büyük Millet Meclisi ve Cumhurbaşkanınca seçimlerinin yenilenmesi" başlığını taşımaktadır. Buna göre, Türkiye Büyük Millet Meclisi, üye tamsayısının beşte üç çoğunluğuyla seçimlerin yenilenmesine karar verebilir. Bu halde Türkiye Büyük Millet Meclisi genel seçimi ile Cumhurbaşkanlığı seçimi birlikte yapılır. Cumhurbaşkanının seçimlerin yenilenmesine karar vermesi halinde, Türkiye Büyük Millet Meclisi genel seçimi ile Cumhurbaşkanlığı seçimi birlikte yapılır. Cumhurbaşkanının ikinci döneminde Meclis tarafından seçimlerin yenilenmesine karar verilmesi halinde, Cumhurbaşkanı bir defa daha aday olabilir. Seçimlerinin birlikte yenilenmesine karar verilen Meclisin ve Cumhurbaşkanının yetki ve görevleri, yeni Meclisin ve Cumhurbaşkanının göreve başlamasına kadar devam eder. Bu şekilde seçilen Meclis ve Cumhurbaşkanının görev süreleri de beş yıldır.

(Cevap C)

51. • Kanunları tekrar görüşülmek üzere TBMM'ye göndermek;  
• MGK'ye başkanlık etmek, Bakanı atamak ve yabancı ülkeye temsilci göndermek Cumhurbaşkanının görevleri arasındadır.

Hastalık, kocama, bunama sebebiyle özel af çıkarmak Cumhurbaşkanının görev ve yetkileri arasındadır ancak Cumhurbaşkanının genel af gibi bir yetkisi yoktur.

(Cevap E)

52. 1982 Anayasası'nın 79. maddesine göre, Yüksek Seçim Kurulunun kararları aleyhine başka bir merciye başvurulamaz. Yani yargı yolu kapalıdır.

(Cevap B)

53. Soruda verilenlerden I, II ve IV. öncül yerel yönetimler için doğrudur. III. öncül yanlıştır. Çünkü adaylar sonuçta bir partiye tabidir. V. öncül yanlıştır. Çünkü bölgeler arasındaki eşitsizliği yerel yönetimler değil ancak merkezî yönetimler giderebilir.

(Cevap C)

54. Millî Güvenlik Kurulu, Radyo ve televizyon üst kurulu, Diyanet İşleri Başkanlığı ve Atatürk Kültür, Dil ve Tarih Yüksek Kurumunun lağvedilebilmesi için Anayasa değişikliğine ihtiyaç varken BDDK için böyle bir koşul söz konusu değildir.

(Cevap A)

55. İklim, yeryüzünün herhangi bir yerinde uzun yıllar boyunca gözlenen tüm hava olaylarının ortalama durumudur. İklim bilimine Klimatoloji adı verilir. Klimatoloji; iklimin etkilerini açıklamaya çalışan, iklimi meydana getiren meteorolojik faktörleri analiz eden bir bilim dalıdır. İklim bilimi ile uğraşan bilim insanlarına ise iklim bilimci adı verilir.

(Cevap D)

## Genel Kültür Testi

56. Birleşmiş Milletlerin resmi dilleri Fransızca, İngilizce, İspanyolca, Rusça, Çince ve Arapçadır. Almanca bu diller arasında değildir.

(Cevap A)

57. Soru öncülünde verilen bilgiler Fransız romancı Jean Patrick Modiano'a aittir.

Jean Patrick Modiano, Fransız romancı ve 2014 Nobel Edebiyat Ödülü sahibidir. Eserleri 30'dan fazla dile çevrilmiştir. Ödülü kazandığı tarihte En Uzağından Unutuşun, Bir Gençlik, Bir Sirk Geçiyor, Kötü Bir İlkbahar romanları ve Babam ve Ben isimli çocuk kitabından oluşan 5 eseri Türkçeye çevrilmiş bulunmaktaydı.

(Cevap A)

58. Alexander Fleming, penisilini bulan İskoç bakteriyologtur. 1928 yılında penisilini keşfedip tıp tarihine büyük katkıda bulunmuş, Alexander Fleming, Howard Florey ve Ernst Chain, penisilini ilgili olarak gerçekleştirdikleri araştırmalarda gösterdikleri başarı nedeniyle 1945 yılında Nobel Fizyoloji ve Tıp Ödülü'nü paylaşmışlardır.

(Cevap B)

59. Soruda eserleri verilen yazar/şair Ahmet Ümit'tir. Ahmet Ümit, daha çok polisiye roman türünde eser veren bir yazardır.

(Cevap C)

60. Ocak 2021 ile Aralık 2021 arasında Türkiye'ye en fazla turist gönderen ülkeler sırasıyla şunlardır:

- Rusya Federasyonu
- Almanya
- Ukrayna
- Bulgaristan
- İran

(Cevap A)

### AKADEMİ DENİZİ LİSE - ÖN LİSANS KURUMSAL - TÜRKİYE GENELİ • 1 • GENEL YETENEK TESTİ

1	C	2	A	3	D	4	E	5	C	6	B	7	B	8	A	9	D	10	A	11	A	12	D	13	B	14	E	15	E
16	B	17	A	18	E	19	D	20	A	21	D	22	A	23	D	24	B	25	E	26	A	27	B	28	D	29	C	30	A
31	E	32	B	33	D	34	B	35	B	36	E	37	E	38	C	39	D	40	D	41	C	42	B	43	C	44	C	45	C
46	A	47	A	48	D	49	A	50	E	51	E	52	B	53	B	54	A	55	D	56	B	57	C	58	D	59	E	60	B

### AKADEMİ DENİZİ LİSE - ÖN LİSANS KURUMSAL - TÜRKİYE GENELİ • 1 • GENEL KÜLTÜR TESTİ

1	D	2	E	3	B	4	C	5	A	6	E	7	D	8	C	9	A	10	C	11	B	12	E	13	E	14	C	15	B
16	A	17	D	18	C	19	E	20	E	21	D	22	A	23	C	24	C	25	E	26	E	27	B	28	D	29	A	30	A
31	C	32	B	33	C	34	D	35	C	36	E	37	B	38	B	39	E	40	A	41	C	42	D	43	E	44	A	45	B
46	B	47	D	48	E	49	C	50	C	51	E	52	B	53	C	54	A	55	D	56	A	57	A	58	B	59	C	60	A