



**KDSS**  
**10x120**  
**FASİKUL**  
**TÜRKİYE GENELİ**  
**DENEME SETİ**  
**GENEL YETENEK • GENEL KÜLTÜR**



## KPSS/ÖRNEK SAYFALAR

1. Yazıyı hayatında önemli bir yere oturtan yazar için yazmak, yaşadığımız dünyadan çıkıp başka bir aleme geçmektir. Bu kıvama gelen biri artık kendine yazar sıfatını yakıştırabilir. Yazarlığının ilk yıllarında bu duyguya kapılan biri, ilerleyen yıllarda bu görüşünü bir daha gözden geçirmelidir.

**Bu parçadaki altı çizili sözle anlatılmak istenen aşağıdakilerden hangisidir?**

- A) Yazarken yaratılan dünyaya kendini kaptırmak  
B) Soyut konuları yoğun olarak işlemek  
C) Özgün bir tarzla dikkat çekmeye çalışmak  
D) Duygu ağırlıklı ifadelerle betimlemeler yapmak  
E) Üslup kaygısıyla konuyu ihmal etmek

2. Bir organımızın adı olan "el" sözcüğü birçok deyimde kullanılmıştır. Örneğin saygı göstermek için ellerini göbeğini kavuşturup durmak durumu için el bağlamak,

I  
kutsal bir şey üzerine elini koyup ant içmek durumu için el basmak, bir sanatı öğrenmiş olan çırak ustasından

II  
kendi başına iş yapabilme izni alma durumu için el vermek, birisinin işine karışma durumu için el atmak,

III IV  
hiç dokunulmamış, kullanılmamış bir varlık için el değmemiş" deriz.

V  
**Bu parçada numaralanmış deyimlerden hangisi ile açıklaması uygun değildir?**

- A) I. B) II. C) III. D) IV. E) V.



## TG DENEME SETİ

3. (I) Baharın gelmesiyle köyün karşısındaki çayırlar çimene çiçeğe bürünmüştü. (II) Rüzgâr esmiyor, ayaz da olmuyordu. (III) Gökyüzünün mavisikle çayırların yeşilli bir ahenk oluşturuyordu. (IV) Hayvanlar otlatılmak için bayırlara bırakılmıştı. (V) Tabii çoğu kişi de traktörleri ile tarlalarını sürüyordu.

**Bu parçada numaralanmış cümlelerin hangisinde ötekilerden farklı bir duyu organı aracılığı ile algılanan ayrıntılara yer verilmiştir?**

- A) I B) II C) III D) IV E) V

4. (I) İdeal öğretmen, gerçekte var olmayan fakat her öğretmenin içinde ulaşılabilecek bir model olarak yaşayan bir öğretmendir. (II) Böyle ideal bir model güzel ve iyi bir şeydir, zira o gerçekte var olan öğretmeni her sabah erkenden uyandırır, ona okulunu, öğrencilerini, derslerini düşündürür, yapması gerekenlere dikkat çeker. (III) Mevcudiyetinin farkında olmasa bile her öğretmenin içinde böyle ideal bir öğretmen vardır. (IV) Çok ciddidir, gevşekliği asla hoş görmez. (V) Onun gerçek öğretmenden istediği şey "vazife duygusu"dur.

**Bu parçadaki numaralanmış cümleler ile ilgili aşağıdakilerden hangisi yanlıştır?**

- A) I. cümlede, öğretmenlerin ideal öğretmeni içlerinde yaşadığından bahsedilmiştir.  
B) II. cümlede, ideal öğretmenin gerçek öğretmen üzerindeki etkisinden bahsedilmiştir.  
C) III. cümlede, her öğretmenin içinde bir ideal öğretmenin var olduğundan bahsedilmiştir.  
D) IV. cümlede, ideal öğretmenin vasıfları hakkında bilgi verilmiştir.  
E) V. cümlede, ideal öğretmenin gerçek öğretmene öğüdü verilmiştir.



## KPSSÖRNEK SAYFALAR

## TG DENEME SETİ

1. Yazar, eserini oluştururken gerçekten farklı, kurmaca bir dünya oluşturur. "Yaşadığımız dünyadan çıkıp başka bir aleme geçmek" sözüyle yazarken kurguladığı dünyaya kendini kaptırdığını ifade ediyor.

(Cevap A)

3. Parçada I, III, IV ve V. cümlelerde görme duyusundan yararlanılırken, II. cümlede "dokunma" duyusuna ait ayrıntılara yer verilmiştir.

(Cevap B)

2. "el atmak" deyimi, birisine yardım etmek demektir. Buna göre "birisinin işine karışma" açıklaması bu deyim için yanlıştır.

(Cevap D)

4. "Onun gerçek öğretmenden istediği şey "vazife duygusudur." ifadesinde bir öğüt söz konusu değildir. Buna göre E seçeneğindeki ifade yanlıştır.

(Cevap E)



## KPSS/ÖRNEK SAYFALAR

32. A, B ve C sıfırdan ve birbirinden farklı rakamlar. ABC, ACB, BAC ve BCA üç basamaklı sayılardır. Bu sayıların ikisi 5 ile diğer ikisi 4 ile tam bölünüyor.

**Buna göre,  $A \cdot B \cdot C$  çarpımı kaçtır?**

- A) 18 B) 20 C) 36 D) 48 E) 60

33. x, y ve z pozitif tam sayılar için  
 $x \cdot y + z$  ifadesi tek sayı  
 $x + y \cdot z$  ifadesi çift sayıdır.

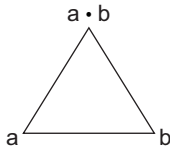
**Buna göre,**

- I. x çift sayıdır.  
II. y tek sayıdır.  
III. z tek sayıdır.

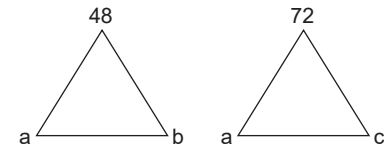
**ifadelerinden hangileri daima doğrudur?**

- A) Yalnız I B) Yalnız II C) Yalnız III  
D) I ve III E) I, II ve III

34. a ve b birer tamsayı için



şeklinde üçgen ve sayılar tanımlanıyor.



**Buna göre,  $a + b + c$  toplamının en büyük değeri kaçtır?**

- A) 22 B) 62 C) 121 D) 128 E) 136




## TG DENEME SETİ

35. a, b, c ve d birbirinden farklı doğal sayılar için  
 $(a! + b!)^{c! + d!}$

**alabileceği en küçük değer kaçtır?**

- A) 64 B) 128 C) 256 D) 343 E) 2187

36. Şekil 1'de 8 eş parçaya ayrılmış pizza verilmiştir. Şekil 2'de aynı pizzanın bir kısmı yenildikten sonra kalan kısmı resmedilmiştir.



Şekil 1



Şekil 2

**Buna göre, pizzanın yenen kısmının ağırlığının ilk ağırlığına oranı aşağıdakilerden hangisi olabilir?**

- A)  $\frac{1}{24}$  B)  $\frac{5}{24}$  C)  $\frac{5}{12}$   
D)  $\frac{7}{2}$  E)  $\frac{11}{24}$



## KPSSÖRNEK SAYFALAR

32. ABC ve BAC 5 ile tam bölünüyordur. C = 5 tir.  
ACB ve BCA 4 ile tam bölünüyordur. A5B ve B5A 4 ile tam bölünüyordur ise B = 2 veya A = 6 dır. A.B.C = 6.2.5 = 60 bulunur.

(Cevap E)

33.  $\underbrace{x+y}_{\text{Ç}} \cdot \underbrace{z}_{\text{Ç}} \rightarrow$  Çift x çift olmalıdır.  
 $\underbrace{x \cdot y}_{\text{Ç}} + \underbrace{z}_{\text{T}} \rightarrow$  Tek z tek olmalıdır.  
(y tekde olabilir çiftde)

(Cevap D)

34.  $a \cdot b = 48$   
 $1 \cdot 48$   
 $a \cdot c = 72$   
 $1 \cdot 72$   
 $a + b + c = 1 + 48 + 72 = 121$  bulunur.

(Cevap C)



## TG DENEME SETİ

35.  $0! = 1$   
 $1! = 1$   
 $2! = 2$   
 $3! = 6$   
 $(3! + 2!)^{0!+1!} = (6 + 2)^2 = 8^2 = 64$  en küçük değeri bulunur.

(Cevap A)

PRO

36. Pizzanın yenilen kısmı 1 dilimden büyük 3 dilimden azdır. Bu durumda  $\frac{1}{8}$  ile  $\frac{3}{8}$  arasında olmalıdır.  
 $\frac{1}{8} < \frac{5}{24} < \frac{3}{8}$  olduğundan  $\frac{5}{24}$  bulunur.

(Cevap B)



## KPSS/ÖRNEK SAYFALAR

5. Aşağıdakilerden hangisi, Osmanlı Devleti'nin Yükselme Dönemi'ne özgü bir gelişme değildir?
- A) Osmanlı deniz gücü üstünlüğünün sağlanması  
B) Avusturya ile savaş ilişkilerinin başlaması  
C) Balkan fetihlerinin büyük ölçüde tamamlanması  
D) Kanunname-i Ali Osman'ın hazırlanması  
E) Şehzadelerin sancağa çıkma uygulamasının sona ermesi

6. Osmanlı İmparatorluğu'nda XVII. yüzyılda devlet otoritesi bozulunca bağlı beylik ve eyaletlerde ayaklanmalar çıkmaya başlamıştır.

**Bu ayaklanmaların amacı aşağıdakilerden hangisidir?**

- A) Ayanlığın ortaya çıkmasına engel olmak  
B) İmparatorluktan ayrılmak  
C) Padişahı değiştirmek  
D) Sipahilere tımarlarının geri verilmesini sağlamak  
E) İslahat yapılmasına engel olmak



## TG DENEME SETİ

7. Osmanlı Devleti'nde;
- III. Mustafa Dönemi'nde Deniz Mühendishanesi'nin açılması,
  - III. Selim Dönemi'nde Nizam-ı Cedid Ordusu'nun kurulması

**aşağıdakilerden hangisinin göstergesidir?**

- A) Yeniçeri Ocağı'nın kaldırıldığıının  
B) Askeri alanda yapılan ıslahatlarda Avrupa'nın örnek alındığıının  
C) Gerileme döneminde eğitim alanında pozitif bilimlere önem verildiğinin  
D) Yükselme dönemindeki geleneklerin sürdürülmeye çalışıldığıının  
E) Gerileme döneminde askeriyede ıslahat yapıldığıının

8. Mısır sorununun çözümünde İngiltere'nin desteğini almak isteyen Osmanlı Devleti, 1838 Balta Limanı Sözleşmesi'yle İngiltere'ye geniş ticari ayrıcalıklar vermiştir. İhracatta yüzde on iki olan gümrük vergisi ithalatta yüzde beş olarak belirlenmiştir.

**Bu durumun Osmanlı Devleti'nde aşağıdakilerden hangisine yol açtığı savunulamaz?**

- A) Sınırları içindeki küçük işletmelerin kapanmasına  
B) Yarı sömürge haline gelmesine  
C) Yerli tüccarların yabancı tüccarlarla rekabet edememesine  
D) Açık pazar haline gelmesine  
E) Ekonomik çıkarlar elde etmesine



## KPSS/ÖRNEK SAYFALAR

5. A, B, C ve D seçeneklerinde yer alan bilgiler, Osmanlı Devleti'nin yükselme dönemine özgü gelişmelerdir. Ancak şehzadelerin sancağa çıkma geleneğine son verilerek, yerine kafes usulünün getirilmesi, duraklama döneminde, I. Ahmet zamanında yaşanan bir gelişmedir.

NOT



I. Ahmet döneminde "Ekber ve erşet" uygulamasıyla beraber, şehzadelerin sancağa çıkması geleneğine son verilerek, yerine şehzadelerin saray içinde yetişmesi anlamına gelen kafes usulü getirildi. Bu durum deneyimsiz kişilerin başa geçmesine yol açmıştır.

(Cevap E)

6. Osmanlı Devleti'nin duraklama döneminde çıkan eyalet ayaklanmalarının amacı, devlet otoritesinin zayıflamasından yararlanarak imparatorluktan ayrılmaktır.

(Cevap B)



## TG DENEME SETİ

7. III. Mustafa'nın donanmaya teknik subay yetiştirmek amacıyla açtığı batı tarzı askeri okul olan Deniz Mühendishanesi ve III. Selim'in kurduğu batı tarzı bir ordu olan Nizam-ı Cedid Ordusu, askeri alanda yapılan ıslahatlarda Avrupa'nın örnek alındığının göstergesidir.

(Cevap B)

8. Verilen açıklamaya bakılarak A, B, C ve D seçeneklerine ulaşılabilir. Ancak Balta Limanı Ticaret Sözleşmesi ile Osmanlı Devleti ekonomik çıkar elde etmemiş, tam tersi ekonomik yönden büyük kayba uğrayarak Avrupa devletlerinin açık pazarı ve yarı sömürgesi haline gelmiştir.

(Cevap E)



## KPSS/ÖRNEK SAYFALAR

33. Türkiye’de 1980’li yıllardan itibaren kentsel alanlarda hızlı nüfus artışına bağlı olarak plansız bir kentleşme süreci yaşanmaktadır.

**Bu süreçteki sorunların çözülmesi için aşağıdakilerden hangisinin yapılması uygun değildir?**

- A) Altyapı yatırımlarını artırmak
- B) Yeni ve planlı yerleşme alanları açmak
- C) Kentsel dönüşüm projeleri geliştirmek
- D) Kırsal alanlarda makineli tarımı engellemek
- E) Kentlerden kırsal kesime olan göçü teşvik etmek

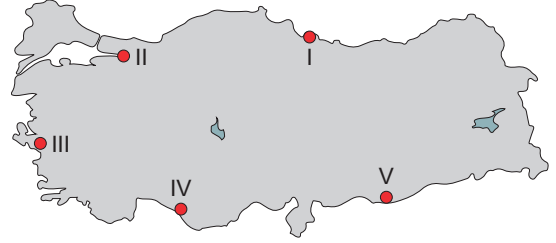
34. Türkiye’nin sanayileşme süreciyle ilgili olarak aşağıda verilen bilgilerden hangisi yanlıştır?

- A) Cumhuriyetin ilk yıllarında tarıma dayalı sanayi kol- ları gelişmiştir.
- B) 1950’li yıllarla birlikte sanayi ürünleri dış alımına hız verilmiştir.
- C) Planlı kalkınma döneminde sanayileşmeye, kalkın- ma planlarında özel önem verilmiştir.
- D) 1930’lu yıllarda devletçilik ilkesine bağlı olarak kim- ya ve demir-çelik sanayisinin temelleri atılmıştır.
- E) 1930-1950 döneminde düzenlenen her iki sanayi planı da başarıyla uygulanmıştır.



## TG DENEME SETİ

35. Rüzgâr enerjisi, çevreyi kirlenmeyen temiz ve tükenmez bir enerji kaynağıdır. Rüzgâr türbinleri, hareket hâlin- deki havanın kinetik enerjisini öncelikle mekanik ener- jiyeye ve sonrasında elektrik enerjisine dönüştüren ma- kinelerdir.



**Türkiye’de bu yöntem ile elektrik üretimine ilk ola- rak haritada numaralandırılan alanlardan hangisin- de başlanmıştır?**

- A) I
- B) II
- C) III
- D) IV
- E) V

36. Bölgesel kalkınma projelerinden biri olan “Yeşilirmak Havza Gelişim Projesi” havzada bulunan illeri kapsar.

**Buna göre, aşağıdakilerden hangisi bu projede yer alan illerden değildir?**

- A) Amasya
- B) Çankırı
- C) Çorum
- D) Samsun
- E) Tokat





## KPSS/ÖRNEK SAYFALAR

33. Göçler sonucu şehirlerin kenar mahallelerinde oluşan altyapısı eksik, plansız ve düzensiz yerleşmelere gecekondü semtleri denir. Plansız şehirleşme, gecekondü semtlerini de beraberinde getirmektedir. Son yıllarda hayata geçirilen kentsel dönüşüm projeleriyle bu sorunlar çözülmeye çalışılmaktadır. Ancak kırsal alanlarda makine tarımı engellemek gibi bir uygulamanın yapılması mümkün değildir.

(Cevap D)

34. 1929 yılında dünyada yaşanan ekonomik bunalıma kadar sürdürülen liberal dönem ekonomi politikaları, bu tarihten sonra yerini devletçi ekonomi politikalarına bırakmıştır. Bunun sonucunda 1931 yılında Merkez Bankası, 1932'de sanayiye kredi sağlamak üzere Sanayi Kredi Bankası ve 1933 yılında tekstil ürünlerinin üretimi ve ticaretini gerçekleştirmek üzere Sümerbank kurulmuştur. 1933-1937 arasında uygulanan Birinci Sanayi Planı'nın başarılı olmasıyla 1938 yılından itibaren uygulamaya konulmak üzere İkinci Sanayi Planı hazırlandı. Ancak İkinci Dünya Savaşı'nın başlamasıyla bu plan uygulanamamıştır. Türkiye'nin İkinci Dünya Savaşı'na girmemesine rağmen savaşa girecekmiş gibi hazırlık yapması, erkek nüfusun silah altına alınması gibi sebepler, özellikle tarımsal üretimde belirgin düşüşlere yol açmıştır. Bu durum, ekonomik anlamda bir daralmayı da beraberinde getirmiştir.

(Cevap E)

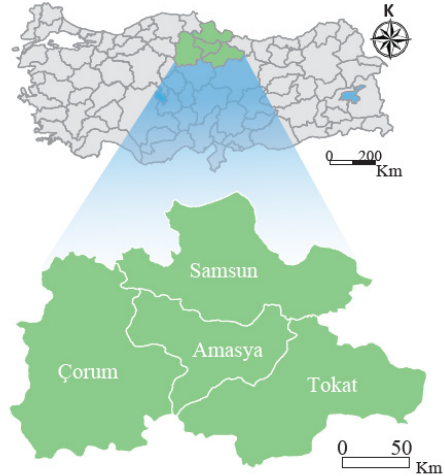


## TG DENEME SETİ

35. Rüzgâr enerjisiyle çalışan rüzgâr santrallerinin Türkiye enerji üretimindeki payı çok azdır. Ülkemiz rüzgâr potansiyeli açısından zengin bir ülke olmakla birlikte bu temiz enerji kaynağından yeterince yararlanamamaktadır. Türkiye'de rüzgâr gücünden elektrik enerjisi üreten ilk santral 1998 yılında Çeşme'de kurulmuştur. Türkiye'de halen rüzgâr enerjisinden özellikle Balıkesir, İzmir, Manisa, Hatay, Osmaniye, İstanbul ve Çanakkale illerinde elektrik üretme amaçlı yararlanılmaktadır.

(Cevap C)

36. Yeşilirmak Havzası Gelişim Projesi dört ili kapsamaktadır ve projenin alanı yaklaşık 40 bin km<sup>2</sup> dir. Proje kapsamındaki iller; Yeşilirmak Havzası'nda yer alan Amasya, Çorum, Samsun ve Tokat'tır.



(Cevap B)



## KPSS/ÖRNEK SAYFALAR

47. Kişinin kendisini veya başkasını bilerek sebep olmadığı veya derhal ortaya çıkacak bir tehlikeden kurtarmak için alakası olmayan üçüncü kişinin mallarına zarar vermesi eylemine ne ad verilir?

- A) Meşru müdafaa
- B) Zaruret hâli
- C) Kuvvet kullanma
- D) Dava hakkı
- E) Zorla icra

48. Hakların kullanılması ve borçların yerine getirilmesinde geçerli olan ana ilke aşağıdakilerden hangisidir?

- A) Yasaya saygı ilkesi
- B) Nispiyet ilkesi
- C) Eşitlik ilkesi
- D) Objektif iyi niyet
- E) Subjektif iyi niyet



## TG DENEME SETİ

49. 1982 Anayasası'na göre Türk vatandaşlığı ile ilgili aşağıdaki ifadelerden hangisi yanlıştır?

- A) Bir kimseyi vatandaşlıktan çıkarmak TBMM yetkilerindedir.
- B) Türk baba veya Türk ananın çocuğu Türk'tür.
- C) Hiçbir Türk vatana bağlılıkla bağdaşmayan bir eylemde bulunmadıkça vatandaşlıktan çıkarılamaz.
- D) Türk devletine vatandaşlık bağı ile bağlı olan herkes Türk'tür.
- E) Vatandaşlıktan çıkarma işlemlerine karşı yargı yolu kapatılmaz.

50. I. Gizli oy ilkesi, vatandaşların kullandıkları oylar hakkında açıklama yapamayacaklarını ifade eder.  
II. Genel oy ilkesi, ülke genelinde kullanılan geçerli oyların tümünü ifade eder.  
III. Açık sayım ve döküm ilkesi, oyların sayımına siyasi partilerin de temsilcileri aracılığıyla katılımını ifade eder.  
IV. Eşit oy ilkesi, her seçim çevresinde kullanılan oyların milletvekili sayısına oranının eşit olmasını ifade eder.

**Yukarıdakilerden hangileri seçimler ve halk oylamasının esaslarını düzenleyen ilkelere ilgili değildir?**

- A) I ve II
- B) II ve III
- C) I, II ve IV
- D) II, III ve IV
- E) I, III ve IV



## KPSS/ÖRNEK SAYFALAR

47. Kişinin kendi hakkını bizzat koruması meşru müdafaa, zaruret (ıztırar) hali ve kuvvet kullanımı hallerinde mümkündür. Soru öncülünde zaruret hali kavramı tanımlanmıştır. Zaruret hali durumunda ortaya çıkan tehlike kişinin kendisine yönelebileceği gibi bir başkasına da yönelebilir. Burada kişi tehlikeyi bertaraf etmek için başkasının malına zarar vermektedir.

(Cevap B)

48. Soru öncülünde objektif iyi niyetin tanımı yapılmıştır. Objektif iyi niyet Medeni Kanunda dürüstlük kuralı olarak düzenlenmiştir. Buna göre dürüstlük kuralı (objektif iyi niyet) orta zekâlı, makul bir insanın takınacağı tutumdur.

(Cevap D)



## TG DENEME SETİ

49. 1982 Anayasası'nın 66'ncı maddesi Türk vatandaşlığına ilişkindir. Buna göre B, C, D ve E'deki ifadeler doğrudur. Fakat vatandaşlıktan çıkarma işleminde TBMM'nin bir rolü yoktur, bu yetki yasalar çerçevesinde Cumhurbaşkanı'na verilmiştir.

(Cevap A)

50. 1982 Anayasası'nın 67'inci maddesine göre seçimler ve halkoylaması serbest, eşit, gizli, tek dereceli, genel oy, açık sayım ve döküm esaslarına göre yargı yönetim ve denetimi altında yapılır. Soru öncülünde verilenlerden I, II ve IV numaralı ifadeler yanlıştır.

(Cevap C)



## KPSS/ÖRNEK SAYFALAR

55. Aşağıdakilerden hangisi Cumhurbaşkanlığı Savunma Sanayii Başkanlığı öncülüğünde geliştirilen "deniz araçları" projelerinden biridir?

- A) ALTAY                      B) CİRİT                      C) KİRPI  
D) MİLGEM                      E) ANKA

56. Aşağıdaki batıklardan hangisi Çanakkalede bulunmaktadır?

- A) Likya Batığı  
B) Uçan Balık Bankosu  
C) Mesudiye Zırhlısı Batığı  
D) U20 Batık Denizaltı  
E) Uluburun Batığı



## TG DENEME SETİ

57. TÜBİTAK ilk olarak aşağıdaki Cumhurbaşkanlarından hangisi döneminde kurulmuştur?

- A) Celal BAYAR  
B) Cemal GÜRSEL  
C) Cevdet SUNAY  
D) Fahru KORUTÜRK  
E) Turgut ÖZAL

58. *Kaplumbağa Terbiyecisi, Cami Önündeki Kadınlar, Kur'an Okuyan Kız, Yeşil Cami Önü ve Şehzade Türbesinde Derviş* adlı eserlerin sahibi ressam aşağıdakilerden hangisidir?

- A) Bedri Rahmi Eyüboğlu  
B) Şeker Ahmet Paşa  
C) Turgut Zaim  
D) Abidin Dino  
E) Osman Hamdi Bey



## KPSSÖRNEK SAYFALAR

- 55.
- ALTAY: Ana muharebe tankı
  - CİRİT: Lazer güdümlü füze
  - KİRPİ: Mayına karşı korumalı taktik tekerlekli araç
  - MİLGEM: Milli gemi projesi
  - ANKA: İnsansız hava aracı

NOT



Silahlı insansız hava aracı (SİHA) projesi Baykar Bayraktar TB-2 adıyla üretilmektedir.

(Cevap D)

56. Bilim insanları, araştırmacılar ve kamu kurumları denizlerimizde birçok batık keşfetmiştir.

- Uçanbalık Bankosu - Antalya
- U20 Batık Denizaltı - Sakarya
- Likya Batığı - Antalya
- Uluburun Batığı - Antalya
- Mesudiye Zırhlısı Batığı - Çanakkale

(Cevap C)



## TG DENEME SETİ

57. Türkiye Bilimsel ve Teknolojik Araştırma Kurumu yani kısaca TÜBİTAK, Türkiye'de bilim ve teknolojiyi teşvik etme, yönlendirme ve popülerleştirmeyi amaçlayan, Sanayi ve Teknoloji Bakanlığının ilgili kuruluşlarından biridir. İlk olarak Türkiye Bilim ve Teknik ve Araştırma Kurumu adıyla 1963'te Cumhurbaşkanı Cemal Gürsel tarafından kurulmuştur.

(Cevap B)

58. Soruda hakkında bilgi verilen ressam Osman Hamdi Bey'dir.

NOT



1842 yılında İstanbul'da doğan arkeolog ve ressam Osman Hamdi Bey, Sanayi-i Nefise Mekteb-i Âlisi'nin (Mimar Sinan Güzel Sanatlar Üniversitesi) ve İstanbul Arkeoloji Müzeleri'nin kurucusudur.

(Cevap E)