

KPSS 2024

GENEL KÜLTÜR

CANLI DERS

DÜNYADA BİR İLK!

CANLI ÇÖZÜM



Metamorfik
deneyimler

VIDEO ÇÖZÜM

Güncel Tüik
verileri

COĞRAFYA SORU BANKASI



Mehmet ZOR



Kemal İLKAY



Asım Sercan ERKAN



e-coğrafya yayınları
Dünya'yı keşfetmek için...



AKADEMİ
DENİZİ

İÇİNDEKİLER

Türkiye'nin Coğrafi Konumu	6
Türkiye'nin Ana Yer Şekilleri.....	16
Türkiye'de Dış Kuvvetler.....	28
Türkiye'nin İklim Elemanları.....	40
Türkiye'nin İklim Tipleri.....	50
Türkiye'de Su, Toprak ve Bitki Varlığı	56
Türkiye'de Doğal Afetler ve Çevre Sorunları	66
Türkiye'de Nüfus ve Göç	74
Türkiye'de Yerleşmeler.....	90
Türkiye'nin Ekonomi Politikaları.....	98
Türkiye'de Tarım ve Hayvancılık	102
Türkiye'de Ormancılık ve Balıkçılık	124
Türkiye'de Madencilik ve Enerji Kaynakları	126
Türkiye'de Sanayi ve Ulaşım.....	138
Türkiye'de Ticaret ve Turizm	148
Bölge Sistematiği.....	158
Metamorfik Denemeler	162
Cevap Anahtarı.....	174



1. Aşağıdakilerden hangisi Türkiye'de mutlak konumun iklim üzerindeki etkisine örnek gösterilir?

- A) Trabzon kıyılarında yıllık yağış miktarının fazla olması
- B) Ardahan'da kış aylarında sıcaklık değerlerinin Samsun'dan daha düşük olması
- C) Şanlıurfa'da yaz kuraklığının Adana'dan şiddetli olması
- D) Fethiye'de denize girme süresinin Edremit'ten uzun olması
- E) Konya'da yıllık sıcaklık farklarının Adana'dan fazla olması

2. I. Güneş ışınlarında en fazla tutulmanın 21 Aralık'ta yaşanması
II. Cisimlerin gölge yönünün öğle vaktinde yıl boyunca kuzeye düşmesi
III. 21 Mart'ta gece – gündüz uzunluğunun eşit olması
IV. Akdeniz ikliminin geniş alanlarda etkili olması

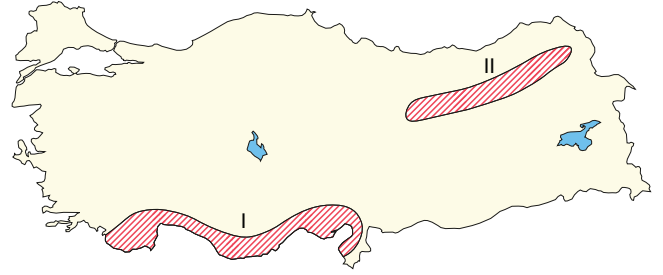
Yukarıda verilenlerden hangileri Türkiye'nin Kuzey Yarımküre'de yer aldığını kanıtlar?

- A) I ve II
- B) I ve III
- C) II ve III
- D) II ve IV
- E) III ve IV

3. Aşağıdakilerden hangisi üzerinde enlemin etkili olduğu söylenebilir?

- A) Karadeniz Dağları'na kuzeyden esen rüzgârların nemli hava getirmesi
- B) Anadolu'nun iç kısımlarında karasal iklim tiplerinin yayılış göstermesi
- C) Rize kıyılarında turuncuğil tarımının yapılabilmesi
- D) İç Anadolu'dan Doğu Anadolu'ya gidildikçe sıcaklığın düşmesi
- E) Akdeniz ikliminin etkili olduğu Antalya ve İzmir kıyılarında sıcaklık ortalamalarının farklı olması

4.



Haritadaki işaretli alanların göreceli konumları düşünüldüğünde bu alanlar aşağıdakilerden hangisi bakımından farklılık göstermez?

- A) Ormanın üst sınırı
- B) Yağış miktarı ve türü
- C) Öğle vaktinde gölge yönü
- D) Günlük sıcaklık farkları
- E) Çözülme ve türü

5. Aşağıda, Türkiye ile ilgili verilen olaylardan hangisi farklı bir nedenle açıklanır?

- A) Dört mevsim belirgin olarak yaşanır.
- B) Kısa mesafelerde iklim çeşitliliği fazladır.
- C) Güneş ışınları hiçbir zaman dik açıyla düşmez.
- D) Güneyden kuzeye doğru sıcaklık düşer.
- E) 2. ve 3. saat dilimleri arasında yer alır.

6.

- I. Kuzey-güney yönünde ulaşımın güçlüğü sağlanması
 - II. Kıyı ile iç kesimler arasında yağış farklılığının görülmesi
 - III. Dağların güneye bakan yamaçlarının kuzeye bakan yamaçlarından daha sıcak olması
 - IV. Temmuz ve ağustos aylarında sıcaklıkların yükselmesi
- Yukarıdakilerden hangileri Türkiye'nin özel konumu ile ilgilidir?

- A) I ve II
- B) I ve III
- C) II ve III
- D) II ve IV
- E) III ve IV



Bu testi 8 - 10 dakikada çözünüz.



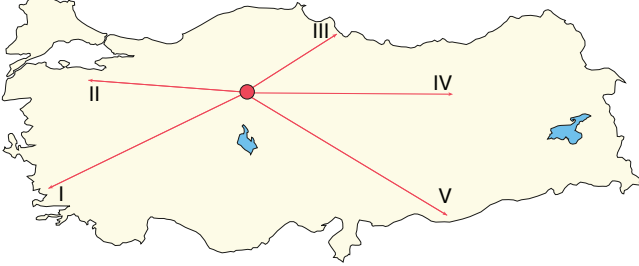
TEMEL DÜZEY

7. Aşağıdaki tabloda Antalya ve Burdur şehir merkezlerinin coğrafi koordinatları verilmiştir.

Kent	Paralel	Meridyen
Antalya	37° K	30° D
Burdur	38° K	30° D

Buna göre, Antalya ve Burdur'da aşağıdakilerden hangisinin ortak olması beklenir?

- A) Güneş ışınlarının geliş açısı
B) Yer çekimi
C) Gündüz uzunluğu
D) Yerel saat
E) Dünya'nın çizgisel hızı
8. Aşağıdaki haritada 21 Aralık tarihinde, Ankara'dan yola çıkan beş gözlemcinin ulaştığı yerler gösterilmiştir.



Ulaşılan merkezlerin hangisinde gündüz süresi daha uzun ve yerel saat daha ileridir?

- A) I B) II C) III D) IV E) V
9. Türkiye'nin bir yöresine ait fiziki haritada kahverengi ve tonlarının fazlaca kullanıldığı görülmüştür. Bu yörenin göreceli konumu için aşağıdakilerden hangisi söylenemez?
- A) Yer şekilleri engebeldir.
B) Akarsular menderesler çizerek akar.
C) Kışın kar yağışı görülür.
D) Yıllık sıcaklık farkları fazladır.
E) Yol yapım maliyetleri yüksektir.

10. Bir Türk firması ürettiği ürünleri Fransa'ya ihraç etmektedir. Bu firma ürünlerini kara yoluyla gönderdiğinde, aşağıdaki sınır kapılarından hangisini kullanması beklenir?

- A) Sarp B) Esendere C) Kapıkule
D) Türkgözü E) Habur

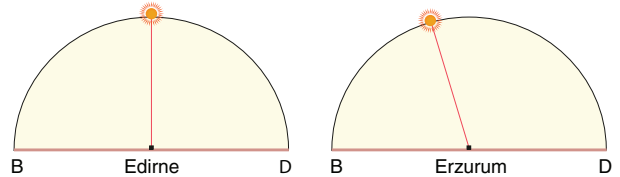
11. Türkiye'de,

- I. Dört mevsimin belirgin olarak yaşanması
II. Aralık ayında güneyinden kuzeyine doğru gidildikçe gece süresinin uzaması
III. Güneş ışınlarının yıl içinde dik açıyla gelmemesi
IV. Tüm şehirlerde tam öğle vakti gölgenin daima kuzeye düşmesi

özelliklerinden hangileri Kuzey Yarımküre'de yer aldığı kanıtlar?

- A) I ve II B) I ve III C) II ve III
D) II ve IV E) III ve IV

12. Aşağıda, aynı anda Edirne ve Erzurum'da Güneş'in konumu gösterilmiştir.



Bu iki kent ile ilgili aşağıdakilerden hangisine ulaşamaz?

- A) Erzurum'un yerel saati Edirne'den ileridir.
B) Edirne'de yerel saat 12.00'dir.
C) Erzurum'da Güneş daha önce batar.
D) Edirne Başlangıç Meridyeni'ne daha yakındır.
E) Her iki merkezde de çizgisel hız aynıdır.

E-Coğrafya Yayınları

Çözülen süre:



Doğru:



Yanlış:



Boş:



Net:





1. Aşağıdaki haritada Sakarya, Kars ve Antalya'nın coğrafi koordinatları verilmiştir.



Yalnızca haritadaki bilgilerden yararlanarak aşağıdaki yargılardan hangisine ulaşamaz?

- A) 21 Aralık'ta Sakarya'da gündüz süresi Kars'tan uzundur.
 B) Verilen kentlerin hepsinde 21 Mart'ta Güneş doğduktan 12 saat sonra batar.
 C) En uzun gündüzle en kısa gündüz süresi arasındaki farkın en az olduğu yer Antalya'dır.
 D) Kars'ın yerel saati Antalya'dan daha ileridir.
 E) 21 Haziran'da Sakarya'daki gündüz süresi Antalya'dakinden daha uzundur.

2. Hatay'dan aynı boylam üzerindeki Samsun'a giden Attila, Güneş'in daha erken battığını gözlemlemiştir.

Buna göre, Attila bu yolculuğunu aşağıdaki ayların hangisinde yapmıştır?

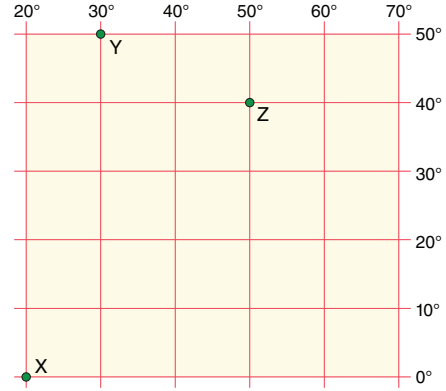
- A) Nisan B) Haziran C) Temmuz
 D) Ağustos E) Ekim

3. Yer eksenini ile ekliptik düzlem birbirine dik olmayıp aralarında belirli bir eğiklik söz konusudur. Bu durum pek çok özelliğin değişmesine neden olmaktadır.

Buna göre, aşağıdakilerden hangisi yer ekseninin eğik olmasının sonuçlarından biri değildir?

- A) 21 Haziran'da Türkiye'nin kuzeyinde Güneş'in erken doğup, geç batması
 B) Ekinoks tarihlerinde gece-gündüz süresinin 12'şer saat olması
 C) 21 Aralık'ta Türkiye'de gecelerin gündüzlerden uzun olması
 D) Türkiye'nin güneş ışınlarını 21 Haziran'da büyük açıyla 21 Aralık'ta ise küçük açıyla alması
 E) 21 Haziran'da Türkiye'de gündüz süresinin gece süresinden uzun olması

4. Antalya, yaklaşık olarak 37° Kuzey enlemi ile 30° Doğu boylamı üzerinde yer almaktadır.



Antalya'nın coğrafi koordinatları göz önüne alındığında, yukarıda gösterilen X, Y ve Z noktalarından kalkan uçakların Antalya'ya ulaşabilmeleri için hangi yöne hareket etmeleri gerekmektedir?

- | | X | Y | Z |
|----|-----------|-----------|-----------|
| A) | Kuzey | Güneybatı | Batı |
| B) | Kuzeybatı | Güneydoğu | Güneybatı |
| C) | Kuzeydoğu | Güney | Güneybatı |
| D) | Kuzey | Güney | Güneydoğu |
| E) | Kuzeydoğu | Güneydoğu | Kuzeybatı |

5. Türkiye, jeopolitik konumundan kaynaklanan bazı sorunlar yaşamaktadır.

Aşağıdaki sorunlardan hangisi Türkiye'yi doğrudan ilgilendirmez?

- A) Kıta sahanlığı sorunu
 B) Kıbrıs sorunu
 C) Suriyeli mülteci sorunu
 D) Filistin Sorunu
 E) Ermeni sorunu

6. I. İran
 II. Gürcistan
 III. Bulgaristan
 IV. Irak

Türkiye yukarıdaki ülkelerden hangileriyle demir yolu sınırı kapsamına sahiptir?

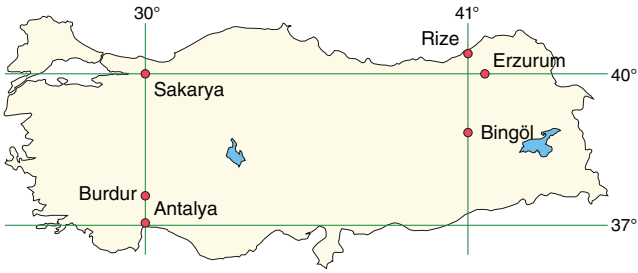
- A) I ve II B) I ve III C) II ve III
 D) II ve IV E) III ve IV



Bu testi 14 - 16 dakikada çözünüz.



7. Aşağıda bazı kentlerin enlem ya da boylam dereceleri gösterilmiştir.



Bu kentlerle ilgili aşağıda verilen bilgilerden hangisi hatalıdır?

- A) Sakarya ve Erzurum'da aynı uzunluktaki cismin yıl boyunca öğle vakti gölge boyu aynıdır.
B) Yıl boyunca Sakarya ve Burdur'da yerel saat aynıdır.
C) Yıl boyunca Rize ve Bingöl'de Güneş aynı anda doğar, aynı anda batar.
D) Yıl boyunca Bingöl'ün yerel saati, Antalya'dan daha ileridir.
E) Antalya'da çizgisel hız, Burdur'dan daha fazladır.

8. Hatay 36° Kuzey paraleli ve 36° Doğu meridyeni üzerinde yer alır.

Güneş ışınlarının Ekvator'da yatay zemine dik düştüğü bir günde, Hatay'da aşağıda verilen olaylardan hangisinin kesin olarak yaşandığı söylenemez?

- A) Bir cismin gölgesi boyundan daha kısa olur.
B) Güneş doğduktan 6 saat sonra öğle vakti yaşanır.
C) Öğle vakti cisimlerin gölgesi kuzeye düşer.
D) İlkbahar mevsimi başlar.
E) Gündüz uzunluğu 12 saat olur.

9. Türkiye'nin jeopolitik önemi üzerinde aşağıdakilerden hangisinin etkisi daha azdır?

- A) Avrasya Tüneli ve Marmaray'ın inşa edilmesi
B) Hazar enerji havzasına yakınlık
C) Avrupa Birliği'ne komşu olunması
D) İstanbul ve Çanakkale boğazlarının bulunması
E) Eski dünya karalarının merkezinde olunması

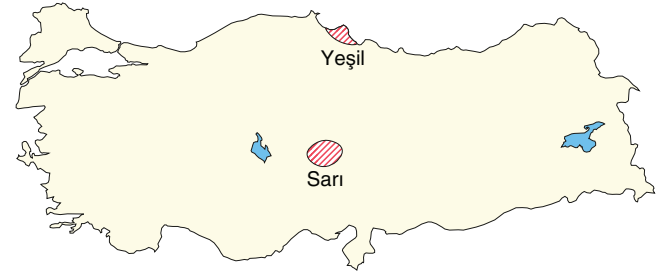
10. Aşağıda, Türkiye'de bulunan üç kentin enlem ve boylam dereceleri verilmiştir.

Balıkesir	39° K – 28° D
Yozgat	39° K – 34° D
Niğde	37° K – 34° D

Buna göre, bu üç kent ile ilgili olarak aşağıdakilerden hangisi söylenemez?

- A) Balıkesir ve Yozgat'ta öğle vakti güneş ışınlarının geliş açısı eşittir.
B) Niğde'de çizgisel hız Yozgat'tan daha fazladır.
C) Balıkesir ile Niğde arasında 24 dakikalık yerel saat farkı vardır.
D) Yozgat ve Niğde'de yıl boyunca yerel saat aynıdır.
E) 21 Aralık'ta en uzun gece Niğde'de yaşanır.

11. Aşağıdaki Türkiye haritasında, yaklaşık aynı boylam üzerinde olan iki ovanın farklı renklerle gösterildiği görülmektedir.



Bu durum aşağıdakilerden hangisiyle açıklanabilir?

- A) Kıyıya olan uzaklık durumuyla
B) Ortalama yükselti farkıyla
C) Yüz ölçümü genişliğiyle
D) Bitki örtüsü farkıyla
E) Enlem derecesi farkıyla

12. Tatilini geçirmek üzere Türkiye'ye gelen bir turist, Türkiye'de kaldığı dönemde gece süresinin gittikçe uzamakla birlikte gündüz süresine göre daha kısa olduğunu fark etmiştir.

Buna göre, turistin hangi tarihler arasında Türkiye'de olduğu söylenebilir?

- A) 11 Şubat – 21 Şubat
B) 11 Mart – 21 Mart
C) 11 Mayıs – 21 Mayıs
D) 11 Haziran – 21 Haziran
E) 11 Temmuz – 21 Temmuz

Çözülen süre:



Doğru:



Yanlış:



Boş:



Net:

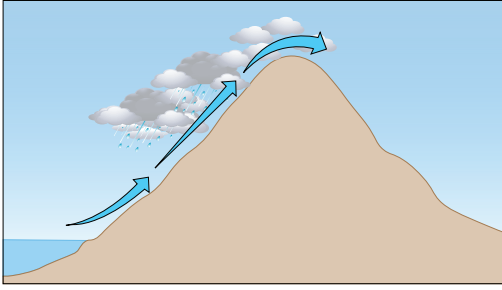




1. Türkiye'de aşağıda verilen merkezlerden hangisinin, kış mevsimi süresince aldığı kar miktarı, kar kalınlığı ve karın yerde kalma süresi **daha uzundur**?

A) Konya B) Bursa C) Van
D) Sivas E) Erzurum

2. Aşağıdaki şekilde Türkiye'de bir yağış oluşumu gösterilmiştir.



Bu yağış oluşumu ile ilgili aşağıdaki bilgilerden hangisi **yanlıştır**?

- A) Türkiye'de Karadeniz kıyılarında yaygın olarak görülür.
B) Havanın yükselmesiyle fön etkisi görülür.
C) Yamaçta yükselen hava soğur.
D) Yükselen hava içerisinde bağıl nem oranı artar.
E) Dağların kıyıya paralel uzandığı alanlarda yaygın olarak görülür.

3. Türkiye'nin indirgenmiş yıllık sıcaklık haritasına bakılarak;

I. Kıyı bölgelerinin gerçek sıcaklık değerleri
II. Gerçek sıcaklıkların en yüksek olduğu alan
III. Yıllık sıcaklık farkının en düşük olduğu alan

bilgilerinden hangilerine ulaşılabilir?

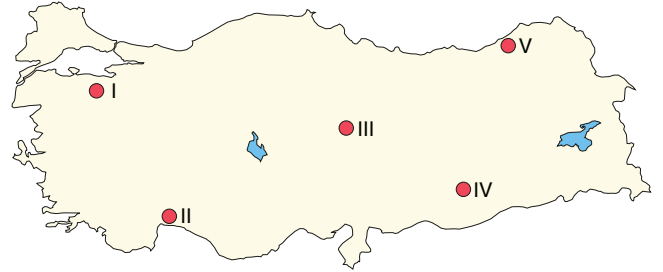
A) Yalnız I B) Yalnız III C) I ve II
D) I ve III E) II ve III

4. İstanbul ve Çanakkale'nin benzer yer şekillerine sahip olduğunu görülür.

Aşağıdakilerden hangisine bakılarak bu yargı desteklenir?

A) Toprak yapılarına
B) Bağıl nem oranlarına
C) Rüzgâr frekans güllerine
D) Doğal bitki örtülerine
E) Kayaç yapılarına

5. Bağıl nem sıcaklıkla ters orantılı, yükseltiyle doğru orantılı olarak artar.



Buna göre, haritada numaralanmış yerlerin hangisinde yaz mevsiminde bağıl nemin daha az olduğu söylenebilir?

A) I B) II C) III D) IV E) V

6. İzmir ve Konya yaklaşık aynı enlemlerde yer alır. İzmir'in yıllık ortalama sıcaklığı 17,5°C iken, Konya'nın 11,6°C'dir.

Her iki kentte de yıl boyunca güneş ışınları benzer açıyla gelirken ortaya çıkan sıcaklık farkının nedeni aşağıdakilerden hangisidir?

A) Güneş ışınlarının atmosfer içerisinde aldığı yolun farklı olması
B) Kıyıya olan uzaklıkların farklı olması
C) Bitki örtüsünün farklı olması
D) Yer şekillerinin farklı olması
E) Yarım kürelerinin farklı olması



Bu testi 8 - 10 dakikada çözünüz.



TEMELE DÜZEY

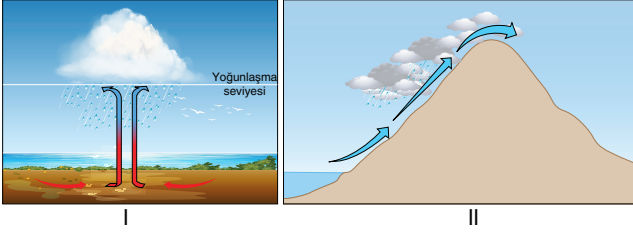
7. Türkiye'nin Akdeniz kıyılarında yıllık ortalama sıcaklıklarının yüksek olmasında;

- I. enlem
- II. denizellik
- III. bitki örtüsü
- IV. yağış miktarı

etmenlerinden hangileri önemli bir yere sahiptir?

- A) I ve II B) I ve III C) II ve III
D) II ve IV E) III ve IV

8.



Türkiye'de etkili olan yukarıdaki yağış oluşum şekilleri ile ilgili aşağıda verilenlerden hangisi yanlıştır?

- A) I. yağış tipi konveksiyondür.
B) II. yağış tipi Karadeniz kıyılarında yaygın olarak görülür.
C) I. yağış tipi iç bölgelerde ilkbahar aylarında görülmektedir.
D) II. yağış, oluşum tipine göre orografiktir.
E) Her iki yağış biçimi de termik alçak basınç alanlarının etkisiyle oluşur.

9. Türkiye'nin iç kısımlarında yazın alçak basınç, kışın ise yüksek basınç şartları görülür.

Bu durumun nedeni aşağıdakilerden hangisidir?

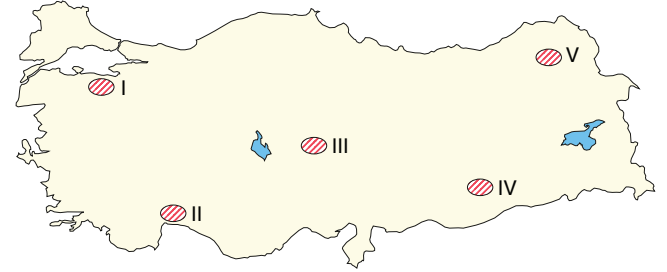
- A) Türkiye'nin yüz ölçümünün geniş olması
B) Türkiye'nin ortalama yükseltisinin fazla olması
C) Türkiye'nin orta enlemlerde yer alması
D) Yıl içerisinde güneş ışınlarının geliş açısının değişmesi
E) Türkiye'nin iç kısımlarında nem miktarının az olması

10. Türkiye, 36°–42° Kuzey paralelleri ile 26°–45° Doğu meridyenleri arasında yer alır.

Türkiye'nin sahip olduğu matematik konumun ülke iklimi üzerindeki en önemli etkisi aşağıdakilerden hangisidir?

- A) Karadeniz kıyılarında yamaç yağışlarının görülmesi
B) Erzurum–Kars platolarında kar yağışının fazla olması
C) Akdeniz ikliminin etkisi altında kalması
D) Iğdır Ovası'nda yağış değerlerinin azalması
E) Ege'den Doğu Anadolu'ya doğru gidildikçe kış sıcaklığının düşmesi

11. Yaz ile kış sıcaklıkları arasındaki fark bir bölgenin karasallığını gösterir. Bu fark ne kadar fazla ise karasallık da o kadar fazladır.



Buna göre, yukarıdaki haritada numaralarla gösterilen alanların hangisinde karasallık daha fazladır?

- A) I B) II C) III D) IV E) V

12. Bir yerdeki basıncın türü yağış ve sıcaklık üzerinde etkili olur.

- I. İzlanda AB
II. Basra AB
III. Asor YB
IV. Sibirya YB

Yukarıdaki basınç merkezlerinden hangilerinin etkisine girdiğinde Türkiye'de sıcaklık değerleri düşer?

- A) I ve II B) I ve IV C) II ve III
D) II ve IV E) III ve IV

E-Coğrafya Yayınları

Çözülen süre:



Doğru:



Yanlış:



Boş:



Net:



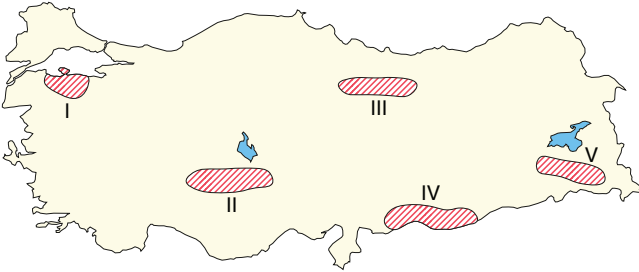


1. Türkiye, akarsu potansiyeli bakımından komşu ülkelere göre zengin olan bir ülkedir.

Aşağıdakilerden hangisi Türkiye akarsularının özelliklerinden biri değildir?

- A) Yatak eğimleri fazladır.
B) Üzerinde ulaşım yapılamaz.
C) Birçoğu açık havzalıdır.
D) Rejimleri düzenlidir.
E) Enerji potansiyelleri yüksektir.

2. Sularını deniz ve okyanuslara ulaştıramayan alanlar kapalı havzayı meydana getirir.



Buna göre, haritada taralı olarak gösterilen alanlardan hangisi kapalı havza özelliği gösterir?

- A) I B) II C) III D) IV E) V

3. Türkiye iki yarımadadan oluşan bir ülkedir. Bu nedenle akarsular kısa bir akıştan sonra çevredeki denizlere dökülür.

- I. Filyos
II. Kızılırmak
III. Ceyhan
IV. Dalaman

Yukarıdaki akarsulardan hangileri Anadolu’nun iç kısımlarından kaynağını alarak kuzey ve güneydeki sıradağları aşmaktadır?

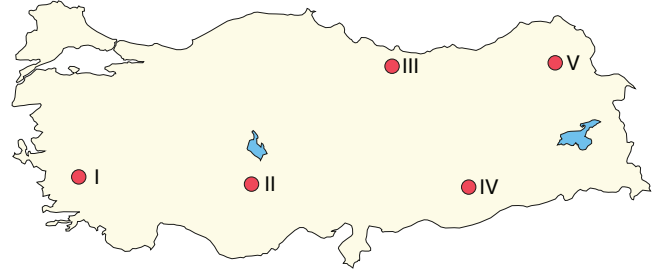
- A) I ve II B) I ve III C) II ve III
D) II ve IV E) III ve IV

4. Akarsu akımının yıl içerisinde gösterdiği değişimlere rejim denir. Bir akarsuyun rejimini belirleyen en önemli faktör havzasındaki yağış rejimidir.

Buna göre, aşağıdaki yörelerde bulunan akarsulardan hangisinin rejimi daha düzenlidir?

- A) Doğu Karadeniz kıyıları
B) Menteşe Yöresi
C) Gelibolu Yarımadası
D) Tuz Gölü çevresi
E) Güneydoğu Toroslar

- 5.



Yukarıdaki haritada gösterilen alanların hangilerinde benzer toprak türleri görülür?

- A) I ve II B) I ve III C) II ve III
D) II ve IV E) III ve IV

E-Coğrafya Yayınları

6. • Hatay-Maraş grabeni
• Köyceğiz Gölü çevresi
• Kayseri’de Sultan Sazlığı
• Gaziantep Emen

Yukarıda verilen alanlarda gelişen toprak tipi aşağıdakilerden hangisidir?

- A) Hidromorfik topraklar
B) Podzol toprakları
C) Terra rossa toprakları
D) Kahverengi step toprakları
E) Vertisol topraklar



ÖSYM TIPI



Bu testi 11 - 13 dakikada çözünüz.

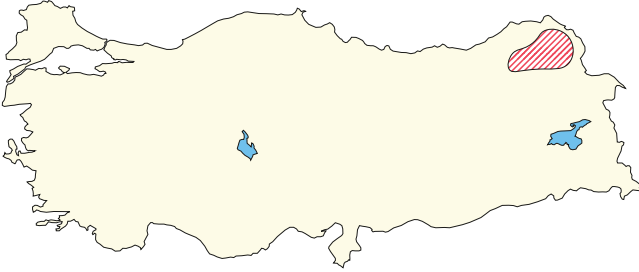


7. Kapalı havzaların tabanlarında intrazonal topraklar grubunda yer alan halomorfik topraklar gelişir.

Aşağıdakilerden hangisi bu toprakların özelliklerinden biri değildir?

- A) Kurak ve yarı kurak alanlarda gelişirler.
B) Mineral tuzlar bakımından zengindir.
C) Tarım için elverişli değildir.
D) Humus bakımından fakirdir.
E) Tüm toprak horizonları gelişme göstermiştir.

8. Toprak oluşumunda iklim, bitki örtüsü ve ana kaya gibi faktörler etkili olur.



Haritada gösterilen taralı alandaki toprakların özellikleri düşünüldüğünde aşağıdakilerden hangisine ulaşamaz?

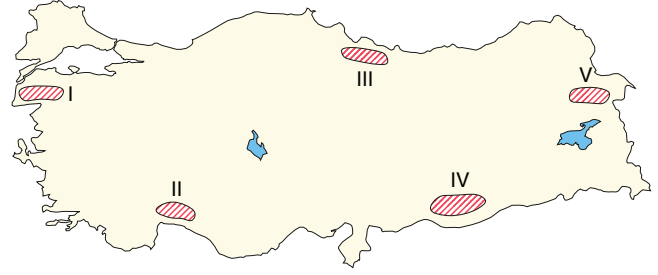
- A) Uzun boylu çayırlar altında olduğu için organik madde bakımından zengindir.
B) Yıkınma az olduğu için mineral madde bakımından zengindir.
C) Verimli topraklar arasında yer alır.
D) Organik madde bakımından zengin olduğu için koyu renklidir.
E) Torak kil bakımından zengin olduğu için yaz aylarında derin çatlaklar oluşur.

9. I. Kayın – Karasal iklim
II. Köknar – Karadeniz iklimi
III. Kızılcım – Akdeniz iklimi

Türkiye'nin coğrafi özellikleri dikkate alındığında, yukarıdaki ağaç türleri ile bunların yaygın olarak görüldüğü iklim tipi eşleştirmelerinden hangileri yanlıştır?

- A) Yalnız I B) Yalnız II C) Yalnız III
D) I ve II E) II ve III

10. Yeryüzünde belirli bir bölgede görülen ve oranın iklim özelliklerine bağlı olarak oluşan bitkilere endemik bitkiler denir.



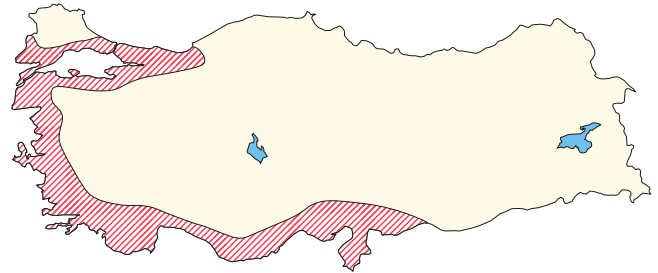
Haritada gösterilen alanların hangisinde endemik bitki çeşitliliği daha fazladır?

- A) I B) II C) III D) IV E) V

11. Türkiye'nin bitki örtüsüyle ilgili olarak aşağıda verilen özelliklerden hangisi doğru değildir?

- A) Karadeniz ormanlarında orman altı bitki örtüsü çok gürdür.
B) Meşe, en geniş yayılış alanına sahip olan ağaç türüdür.
C) Akdeniz ormanları kuraklığa dayanıklıdır.
D) Güneydoğu Anadolu'da bozkır alanları sınırlıdır.
E) Ormanın alt sınırı Karadeniz'de, kıyı şeridinde kadar iner.

12. Türkiye'de iklim çeşitliliğine bağlı olarak farklı yörelerde farklı ağaç türlerine rastlanır.



Haritada taranarak gösterilen alanın iklim özellikleri düşünüldüğünde, aşağıdaki ağaç türlerinden hangisine yaygın olarak rastlanır?

- A) Karaçam B) Meşe C) Kızılcım
D) Ladin E) Göknar

E-Coğrafya Yayınları

Çözülen süre:

Doğru:

Yanlış:

Boş:

Net:



1. Türkiye'de 1980'den günümüze kadar olan dönemde nüfus artışıyla ilgili olarak aşağıdakilerden hangisi yanlıştır?

- A) Nüfus artış hızı düşme eğilimindedir.
- B) Kırsal kesimde nüfus doğumlar yoluyla artmaktadır.
- C) Türkiye'nin batısındaki nüfus artış hızı doğusundan daha yüksektir.
- D) Büyük şehirlerde nüfus artış hızı daha çok göçler yoluyla-
dır.
- E) Yurt dışından gerçekleşen göçler nüfus artış hızını yük-
seltmiştir.

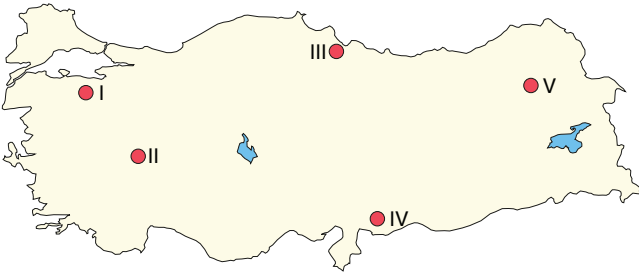
2. 2021 yılına ait aşağıdaki tabloda, Türkiye'nin yaş gruplarına göre 2021 ve 2075 yıllarının yıl ortası nüfus projeksiyonu gösterilmiştir.

	0-14	15-64	65 +
2021	22,4	67,9	9,7
2075	21,4	57,9	20,7

Tablodaki verilere bakılarak elde edilecek aşağıdaki sonuçlardan hangisi yanlıştır?

- A) 2075 yılındaki çocuk nüfusu oranının, 2021 yılına göre daha düşük olması beklenmektedir.
- B) 2075 yılındaki öğrenci sayısının 2021 yılından fazla olması beklenmektedir.
- C) 2075 yılında iş gücüne dâhil olmayan nüfusun % 42.1 olması beklenmektedir.
- D) 2075 yılındaki yaşlı nüfus oranının, 2021 yılındaki çocuk nüfus oranından daha az olması .
- E) 2075 yılında ortalama ömürün 2021 yılından daha yüksek olması beklenmektedir.

3. Sanayi, ticaret ve ulaşımın geliştiği yörelerde kentsel nüfus oranı daha fazladır.



Buna göre, haritada numaralanmış alanların hangilerininde kentsel nüfus oranı daha azdır?

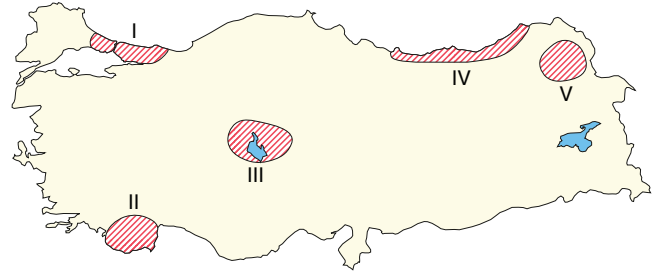
- A) I ve II
- B) I ve III
- C) II ve IV
- D) II ve V
- E) IV ve V

4. Türkiye'de nüfusun % 50.1'i erkeklerden oluşurken % 49.9'u kadınlardan oluşur. Ancak yine de kırsal kesimlerde kadın oranı erkek oranından fazladır.

Bu durumun nedeni aşağıdakilerden hangisidir?

- A) Kırsal kesimlerden erkeklerin kentlere doğru göç etmesi
- B) Kırsal kesimlerde ölüm oranlarının daha yüksek olması
- C) Kırsal kesimlerde evlenme yaşının küçük olması
- D) Kırsal kesimde erkek çocuk doğumlarının daha az olması
- E) Kentlerden kırsal alanlara doğru kadın göçü yaşanması

5. Aşağıdaki haritada beş farklı alan numaralandırılarak gösterilmiş ve bunların dördüne ait nüfus özellikleri verilmiştir.



- Kırsal nüfus oranının en yüksek olduğu yöredir.
- Ortalama yükseltinin fazla olması nedeniyle nüfus yoğunluğu düşüktür.
- İkincil ve üçüncül ekonomik faaliyetlerde çalışma oranının en yüksek olduğu yerdir.
- Karstik arazinin varlığı ve tarım alanlarının dar olması nedeniyle seyrek nüfuslanmıştır.

Buna göre, haritada numaralandırılmış alanlardan hangisine ait nüfus özelliği verilmemiştir?

- A) I
- B) II
- C) III
- D) IV
- E) V

6. Türkiye'de 1980'lerden itibaren nüfus artış hızında gözle görülür bir düşüş yaşanmıştır.

Aşağıdakilerden hangisi bu durum üzerinde etkili olan faktörlerden biri değildir?

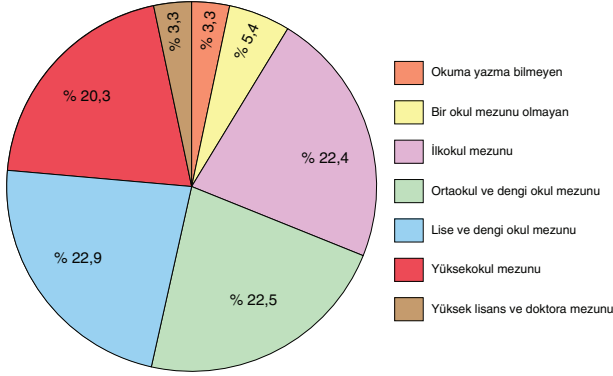
- A) Eğitim seviyesinin yükselmesi
- B) Aile planlaması uygulaması
- C) Kadının çalışma hayatında yer alması
- D) Salgın hastalıkların azalması
- E) Kentleşme oranının artması



Bu testi 11 - 13 dakikada çözümlü.



7. Aşağıdaki grafikte 2022 yılı sayım sonuçlarına göre Türkiye nüfusunun eğitim kademelerine dağılımı verilmiştir.



Yalnızca grafikteki bilgilerden yararlanarak aşağıdakilerden hangisine ulaşılamaz?

- A) Lise ve dengi okul mezunlarının payı en fazladır.
B) Herhangi bir okuldan mezun olmayanların büyük bölümü erkek nüfustur.
C) Yüksek lisans ve doktora mezunları, yüksek okul mezunları oranının % 15'inden fazladır.
D) Yüksek okul mezunu nüfus oranı lise ve dengi okulu oranından azdır.
E) Türkiye nüfusunun % 40'tan fazlası lise ve daha yüksek bir okuldan mezun olmuştur.

8. Türkiye'de çalışan nüfusla ilgili olarak;

- I. Çalışan nüfusun yaş ortalaması yüksektir.
II. Çalışan nüfusun eğitim seviyesi düşüktür.
III. Erkeklerin iş gücüne katılma oranları kadınlardan daha fazladır.
IV. Hizmet sektöründe çalışanların oranı diğer sektörlerden yüksektir.

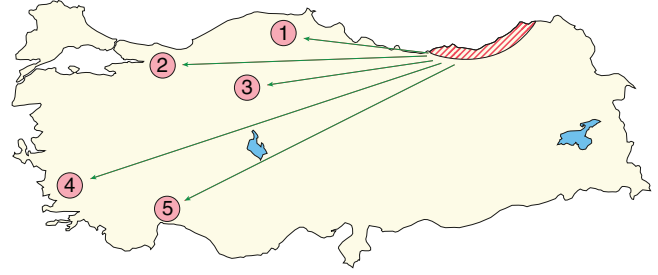
bilgilerinden hangilerinin doğru olduğu söylenebilir?

- A) I ve II
B) I ve III
C) II ve III
D) II ve IV
E) III ve IV

9. Kırsal kesimden kentlere olan göçleri engellemek için kırsal kesimde aşağıdaki çalışmalardan hangisinin yapılması doğru olmaz?

- A) Atölye tipi sanayi teşvik edilmelidir.
B) Eğitim ve sağlık hizmetleri yaygınlaştırılmalıdır.
C) Tarımda makine kullanımı yaygınlaştırılmalıdır.
D) Sebze tarımı ve seracılık teşvik edilmelidir.
E) Besi ve ahır hayvancılığı geliştirilmelidir.

10. Kentlerde sanayinin gelişmiş olması nedeniyle iş olanakları fazladır. Bu nedenle şehirler yoğun olarak göç alırlar.



Yapılan açıklamaya göre, haritada taralı olarak verilen alanın kırsal kesiminden oklar yönünde gösterilen hangi yerleşim alanına iç göç yaşanması beklenmez?

- A) 1
B) 2
C) 3
D) 4
E) 5

11. Aşağıdakilerden hangisi göçlerin şehirlere olan mekânsal etkilerinden biri değildir?

- A) Şehirlerin yayıldıkları alan artar.
B) Kentlerde erkek nüfus oranı artar.
C) Çevre sorunları artar.
D) Altyapı sorunları artar.
E) Çarpık kentleşme artar.

12. Göç ile nüfusu hızlı artan bir kentte;

- I. İş gücü ücretleri
II. Gecekondulaşma
III. Hava kirliliği
IV. Trafik problemi

durumlarından hangilerinin artması beklenmez?

- A) Yalnız I
B) Yalnız III
C) I ve II
D) II ve IV
E) III ve IV

E-Coğrafya Yayınları

Çözümlen süre:



Doğru:



Yanlış:



Boş:



Net:

